



1) کدام نوع شکل برای شروع و پایان حق تقدم مسیر استفاده میشود؟

1- هشت گوشه	2- پنج گوشه با نقطه راس فوقانی
3- لوزی (مربع نشسته بر یک راس)	4- مثلث متساوی الاضلاع
پاسخ صحیح : 3	

2) تابلوی با زمینه قهوه ای نشانگر ..... است.

1- راهنمای خدمات، حرکات مجاز، علائم اخباری و راهنمای مسیر در آزادراه	2- مسیرهای فرعی و اصلی
3- حرکت مجاز، راهنمای مسیر و اماکن مذهبی	4- راهنما برای مناطق تفریحی و فرهنگی و گردشگری
پاسخ صحیح : 4	



3) این تابلوی یعنی؟

1- خطر وزش باد شدید	2- جهت وزش شدید باد از چپ
3- جهت وزش شدید باد از راست	4- 300 متری راه آهن
پاسخ صحیح : 3	

4) از چه فاصله ای در بزرگراه ها باید چراغ راهنما زد ؟

1- 100 متری	2- 250 متری
3- 150 متری	4- 200 متری
پاسخ صحیح : 4	

5 (یک راننده باید تا چه فاصله ای را از آینه خود بتواند مشاهده کند ؟	
1- 30 متر	2- 50 متر
3- 70 متر	4- 90 متر
پاسخ صحیح : 3	

6 (رانندگان وسایل نقلیه امدادی در چه مواردی مجاز به استفاده از سوت خطر، آژیر، زنگ مخصوص و چراغ گردان می باشند؟	
1- جهت انجام کارهای مهم و فوری	2- جهت انجام ماموریت های مهم و فوری
3- در هنگام مواجهه با خطر	4- جهت رسیدن به ماموریتها
پاسخ صحیح : 2	

<div data-bbox="375 1301 619 1543" data-label="Image"> </div> <div data-bbox="956 1406 1230 1447" data-label="Text"> <p>7 (این تابلوی یعنی؟</p> </div>	
1- تقاطع جاده و راه آهن در 300 متری	2- ورودی به آزادراه 300 متر
3- تقاطع جاده و راه آهن بدون راهبند نصب در 300 متری	4- خروجی از آزاد راه 300 متر
پاسخ صحیح : 4	

8 (از وسیله ای که بطور مستقیم در حرکت است از چه سمتی میتوانیم سبقت بگیریم ؟	
1- سمت راست	2- بستگی به موقعیت دارد

3- سمت چپ	4- بستگی سمت قرار گیری اتوموبیل جلویی درد
پاسخ صحیح : 3	

9 (در شرایط یخبندان فاصله توقف چه مقدار ممکن است افزایش یابد؟	
1- 2 برابر	2- 4 برابر
3- 5 برابر	4- 10 برابر
پاسخ صحیح : 4	

10 (چه زمانی در حین رانندگی اجازه بهره گرفتن از تلفن همراه را داریم ؟	
1- اگر مسیر خلوت باشد	2- هرگز اجازه نداریم
3- فقط در مواقع صد در صد ضروری	4- اگر تجربه بالایی داشته باشیم
پاسخ صحیح : 2	

<div data-bbox="375 1149 617 1391" data-label="Image"> </div> 11 (این تابلوی ..... است؟	
1- درمانگاه	2- محدوده بیمارستان
3- بیمارستان	4- محدوده درمانگاه
پاسخ صحیح : 3	

12 (در راه خشک و هوای خوب کدام فاصله بین دو اتومبیل صحیح است؟	
1- مطابق فاصله 2 ثانیه ای	2- به اندازه دو اتومبیل
3- حداقل 6 متر باشد	4- مطابق شمارش از یک تا دو
پاسخ صحیح : 1	

13) در صورت ساییده شدن لاستیکها اگر ترمز کنیم؟	
1- تاثیر چنداندی در کیفیت توقف نخواهد گذاشت	2- اتومبیل به موقع توقف ننموده و باعث تصادف میگردد
3- اتومبیل فوراً متوقف میشود	4- اتومبیل متوقف نخواهد شد
پاسخ صحیح : 2	

14) اگر چراغ سبز باشد و قصد گردش به چپ داشته باشید:	
1- فقط به علامت دادن اکتفا می کنیم	2- با احتیاط و با دادن علامت و با رعایت حق تقدم گردش می کنید
3- به مسیر خود ادامه می دهید	4- به مسیر خود ادامه می دهید
پاسخ صحیح : 2	

15) با سرعت مجاز در حال حرکت هستید اتومبیلی به سرعت از پشت به شما نزدیک می شود و با دادن چراغ از شما راه میخواهد. چکار باید انجام دهید؟	
1- سرعت را حفظ نموده و مانع سبقت وسیله مذکور شوید	2- راه را باز کرده و به او اجازه سبقت میدهیم
3- آهسته ترمز کنید تا چراغ ترمز عقب روشن شود	4- به او علامت میدهیم که منتظر بماند
پاسخ صحیح : 2	

<div data-bbox="376 1391 616 1630" data-label="Image"> </div>		16) این تابلوی ..... است؟
1- چادر جهت استراحت	2- مهمانسرا	
3- استراحتگاه (چادر)	4- استراحتگاه (کاروان)	
پاسخ صحیح : 3		

17) از روی خط مقطع (بریده - بریده) وسط خیابان...
--

1- اجازه دور زدن وجود دارد اما سبقت ممنوع می باشد	2- تنها اجازه سبقت وجود دارد و دور زدن مجاز نیست
3- اجازه دور زدن و بقی گرفتن وجود ندارد	4- هم اجازه دور زدن و هم سبقت گرفتن وجود دارد
پاسخ صحیح : 1	

18) رنگ آبی در علائم ؟	
1- منع کننده است و علائم دستوری است	2- راهنمای مناطق مسکونی است و تجاری است
3- راهنمای خدمات، حرکات مجاز، علائم اخباری و راهنمای مسیر در آزاد راهها	4- راهنمای مسیر و جاده های شهری و برون شهری است
پاسخ صحیح : 3	

19) چراغ قرمز رنگ راهنمایی یعنی ؟	
1- اگر خودرویی وجود ندارد با احتیاط عبور کنید	2- شما باید بایستید، مگر بخواهید گردش به چپ کنید
3- شما باید در پشت خط ایست توقف کرده و منتظر باشید	4- چنانچه می توانید پی خطر ترمز کنید بایستید
پاسخ صحیح : 3	

<div data-bbox="375 1270 617 1512" data-label="Image"> </div>		20) در شرایط تصویر اتوموبیل قرمز رنگ باید :	
1- با زدن بوق دیگران را از وجودش آگاه سازد	2- علیرغم حق تقدم و روشن بودن چراغ سبز باید منتظر شود تا راه باز شود	3- به حرکت خود ادامه داده و وسط تقاطع پشت ترافیک توقف کند	4- به راننده اتوموبیل سفید رنگ علامت دهد که حرکت کند
پاسخ صحیح : 1			




21) این تابلوی یعنی؟

1- عبور با بار بیشتر از 3.5 متر ممنوع	2- عبور با وزن بیشتر از 3.5 تن ممنوع
3- عبور با ارتفاع بیشتر از 3.5 متر ممنوع	4- عبور با عرض بیشتر از 3.5 متر ممنوع
پاسخ صحیح : 2	

22) اگر اتومبیلی ناگهان جلوی شما از یک فرعی بیرون بیاید

1- با نور بالا او را از وجود خود آگاه میکنیم	2- بوق زده و با سرعت از کنارش میگذریم
3- از سرعت خود کاسته و آماده توقف شوید	4- از فرمان یاری میگیرم و از کنارش عبور میکنم
پاسخ صحیح : 3	



23) این خطوط به معنای ..... میباشند.

1- پارک مورب	2- پارک عمودی
3- پارک افقی	4- پارک فقط در سمت راست
پاسخ صحیح : 3	

24) بی توجهی به علائم و مقررات رانندگی نشانه.....


1- نداشتن سواد لازم و کافی	2- نداشتن تجربه در رانندگی
3- عدم توانایی در رانندگی	4- مشکلات بینایی چشم
پاسخ صحیح : 3	

25) بار روی باربند سقف اتوموبیل را باید ؟	
1- پوشانید	2- منظم چید
3- محکم بست	4- هم اندازه سقف انتخاب کرد
پاسخ صحیح : 1	

26) این تابلوی یعنی؟	
1- شیب 10 درصد	2- شیب سرازیری 10 درصد
3- مسیر دارای شیب 10 درصد است	4- شیب سربالایی 10 درصد
پاسخ صحیح : 2	

27) بر سطح یک جاده نرم در یک هوای گرم تاثیر پذیر است؟	
1- ترمز	2- فیلتر هوا
3- روغن	4- تنظیم باد
پاسخ صحیح : 4	

28) هرگاه از دو وسیله نقلی مقابل هم ه یکی بخواهد به چپ گردش کند ، حق تقدم با کدام است ؟ وسیله نقلیغ ای که .....	
1- سرعت بیشتری دارد	2- سمت چپش وسیله ای نباشد
3- میخواهد گردش کند	4- مستقیم حرکت می کند
پاسخ صحیح : 4	

	29) این تابلوی ..... است؟
---	---------------------------

1- پایان شهر	2- ابتدای ورود به شهر در جاده
3- ابتدای ورود به شهر در راه اصلی	4- ابتدای ورود به منطقه
پاسخ صحیح : 1	

<p>30) در شکل مقابل حق تقدم عبور با کدام وسیله است؟</p> 	
1- سفید	2- قرمز
3- آبی	4- همه با هم
پاسخ صحیح : 3	

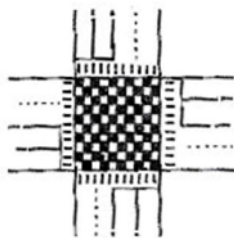
<p>31) در شکل مقابل حق تقدم به ترتیب با کدام وسیله است؟</p> 	
1- آبی - قرمز - سفید	2- قرمز - آبی - سفید
3- آبی - سفید - قرمز	4- سفید - آبی - قرمز
پاسخ صحیح : 3	

<p>32) در شکل روبرو حق تقدم با ..... می باشد</p> 	
1- خودروی مشکی	2- خودروی سفید




3- خودروی قرمز	4- عابر پیاده
پاسخ صحیح : 4	

33 (تابلوهای با زمینه قهوه ای نشانگر چه چیزی هستند؟	
1- مسیرهای اصلی	2- مسیرهای فرعی
3- راهنما برای مناطق تفریحی و فرهنگی و گردشگری	4- حرکت مجاز، راهنمای مسیر و اماکن مذهبی
پاسخ صحیح : 3	

34 (مفهوم شکل مقابل چیست؟	
	
1- توقف بر روی آن ممنوع است و همواره باید مسیر مزبور خالی از وسیله نقلیه باشد	2- توقف بر روی آن ممنوع نیست و همواره باید مسیر مزبور خالی از وسیله نقلیه باشد
3- توقف بر روی آن ممنوع است و همواره باید در مسیر مزبور وسیله نقلیه باشد	4- توقف بر روی آن ممنوع نیست و همواره باید مسیر مزبور در حال عبور وسیله نقلیه باشد
پاسخ صحیح : 1	


35 (هنگامیکه پلیس راهنمایی مستقر در تقاطع دست راست خود را به صورت قائم (مانند تصویر) نگه می دارد، منظور چیست؟	
	
1- رانندگان در هر چهارطرف تقاطع باید پشت خط ایست توقف نمایند	2- بدون توقف عبور نمایند
3- رانندگان در حال حرکت از سرعت خود بکاهند	4- رانندگان وسائل نقلیه در حال عبور از پشت وی توقف نمایند
پاسخ صحیح : 1	



36) به یک تقاطع نزدیک می شوید. چراغ راهنما خراب است. یک پلیس ترافیک علامت مقابل را به شما می دهد. شما باید...

1- پشت خط توقف بایستید	2- فقط به راست گردش کنید
3- به حرکت خود ادامه دهید	4- با احتیاط و رعایت حق تقدم به حرکت خود ادامه دهید


پاسخ صحیح : 1



37) وجود این خطوط در محل عابر پیاده به چه معناست؟

1- پارک مورب	2- پارک افقی
3- ایستادن ممنوع	4- هیچکدام

پاسخ صحیح : 3



38) خطوط پارک که در تصویر مقابل مشاهده می کنید به چه معناست؟

1- پارک مورب	2- پارک افقی
3- پارک عمودی	4- هیچکدام

پاسخ صحیح : 1

	<p>39) خطوط پارک که در تصویر مقابل مشاهده می کنید به چه معناست؟</p>
<p>2- پارک عمودی</p>	<p>1- پارک مورب</p>
<p>4- هیچکدام</p>	<p>3- پارک افقی</p>
<p>پاسخ صحیح : 2</p>	

	<p>40) خطوط پارک که در تصویر مقابل مشاهده می کنید به چه معناست؟</p>
<p>2- پارک مورب</p>	<p>1- پارک افقی</p>
<p>4- هیچکدام</p>	<p>3- پارک عمودی</p>
<p>پاسخ صحیح : 1</p>	

	<p>41) در صورت مشاهده شخصی با در دست داشتن تابلویی که در تصویر روبرو مشاهده می نمایید، چه عملی را باید انجام دهید؟</p>
<p>2- سرعت خود را کم کرده و آهسته عبور می کنید</p>	<p>1- قبل از رسیدن به او توقف می کنید</p>
<p>4- با دقت و احتیاط از فرد مذکور عبور می کنید</p>	<p>3- به فرد مذکور اشاره می کنید که عبور کند</p>
<p>پاسخ صحیح : 1</p>	

<p>42) شما در هنگام رانندگی در شهر مجاز هستید حداکثر با سرعتی معادل...</p>	
<p>2- 60 کیلومتر در خیابان های شریانی اصلی، 50 کیلومتر در خیابان های شریانی</p>	<p>1- 50 کیلومتر در خیابان های شریانی اصلی، 50 کیلومتر در خیابان های شریانی</p>

فرعی و 30 کیلومتر در معابر محلی و میادین حرکت کنید	فرعی و 30 کیلومتر در معابر محلی و میادین حرکت کنید
4- 50 کیلومتر در خیابان های شریانی اصلی، 50 کیلومتر در خیابان های شریانی فرعی و 20 کیلومتر در معابر محلی و میادین حرکت کنید	3- 60 کیلومتر در خیابان های شریانی اصلی، 40 کیلومتر در خیابان های شریانی فرعی و 30 کیلومتر در معابر محلی و میادین حرکت کنید
پاسخ صحیح : 2	

	43 (راننده اتومبیل قرمز رنگ چکار باید بکند؟
2- بوق زده تا دیگران بدانند کجا قرار دارد	1- به حرکت خود ادامه داده و وسط تقاطع پشت ترافیک توقف کند
4- به راننده اتومبیل سفید رنگ علامت دهد که حرکت کند	3- علیرغم حق تقدم و روشن بودن چراغ سبز باید منتظر شود تا راه باز شود
پاسخ صحیح : 3	

	44 (کدام مورد است که راننده اتومبیل طوسی رنگ باید مراقب باشد؟
2- ممکن است هر لحظه با تراکم روبرو شود	1- ممکن است هر لحظه عابری از بین اتومبیل ها ظاهر شود یا اتومبیلی از پارک خارج و یا درب خودرویی باز شود
4- ممکن است شیئی در سطح راه باشد	3- ممکن است سطح خیابان ناهموار باشد
پاسخ صحیح : 1	

	45 (کدامیک از موارد زیر در این تصویر ایجاد خطر کرده است؟
2- عابری که منتظر است از خیابان عبور کند (شماره ی 2)	1- اتومبیل پارک شده (اتومبیل شماره ی 1)

3- اتومبیل شماره 3	4- اتومبیل شماره 4
پاسخ صحیح : 1	

<p>46 (عمده ترین خطری که در این تصویر مشاهده می کنید چیست؟)</p> 	
1- دوچرخه سوار در حال عبور از عرض خیابان	2- وسیله نقلیه در حال گردش به راست
3- اتومبیل شماره 3	4- اتومبیل شماره 4
پاسخ صحیح : 1	

47 (در یک تقاطع با چراغ چشمک زن قرمز مواجه می شوید، چه کار می کنید؟)	
1- بدون توقف به حرکت ادامه می دهید	2- ایست کرده و با رعایت حق تقدم عبور می کنید
3- توقف میکنید و منتظر می شوید چراغ سبز شود	4- به رفتن ادامه می دهید
پاسخ صحیح : 2	

48 (در تقاطعی قصد گردش به چپ دارید ولی میدان دید شما به علت وجود اتومبیل های در حال پارک محدود است، چکار باید انجام داد؟)	
1- بوق زده و در صورتی که هیچگونه عکس العملی ندیدید اقدام به گردش میکنید	2- توقف کرده و سپس اقدام به گردش می کنید و جهت کنترل مسیر جاده اصلی را نگاه کنید
3- توقف کرده و سپس به آرامی به جلو حرکت میکنید تا اینکه دید بهتری از موقعیت داشته باشید	4- به سرعت خارج شده ولی آمادگی توقف را داشته باشید
پاسخ صحیح : 3	

49 (مابین شما و اتومبیل جلویی فاصله دو ثانیه ای مناسب خواهد بود چنانچه...)	
1- هوا مه آلود باشد	2- هوا مرطوب و جاده خیس باشد
3- هوا بارانی باشد	4- وضعیت راه خشک و هوا خوب باشد



50 (تابلوی مقابل به چه معناست؟

1- جهت وزش شدید باد از راست	2- جهت نما
3- تقاطع جاده با راه آهن	4- وزش باد
پاسخ صحیح : 1	

51 (شما موقعی میتوانید شروع به حرکت نمایید که...

1- از بسته شدن کمربند ایمنی خود مطمئن شوید	2- از بسته شدن کمربند ایمنی خود و سرنشینان مطمئن شوید
3- از بسته شدن کمربند ایمنی سرنشینان مطمئن شوید	4- هیچکدام
پاسخ صحیح : 3	



52 (تابلوی مقابل به چه معناست؟

1- تقاطع جاده و راه آهن در 300 متری	2- ورودی به آزادراه 300 متر
3- خروجی از آزاد راه 300 متر	4- تقاطع جاده و راه آهن بدون راهبند نصب در 300 متری
پاسخ صحیح : 3	



53 (تابلوی مقابل به چه معناست؟

1- پارکینگ	2- پارک سوار
3- استراحتگاه	4- پارک
پاسخ صحیح : 2	

<div style="display: flex; justify-content: space-between; align-items: center;">  <p>54 (تابلوی مقابل به چه معناست؟</p> </div>	
1- راه دو طرفه می شود	2- ورود به راه های فرعی
3- تقاطع	4- ورود به راه فرعی
پاسخ صحیح : 3	

<div style="display: flex; justify-content: space-between; align-items: center;">  <p>55 (تابلوی مقابل به چه معناست؟</p> </div>	
1- راه در ابتدا باریک می شود	2- راه باریک می شود
3- راه از راست باریک می شود	4- راه از چپ باریک می شود
پاسخ صحیح : 2	

56 (برای سبقت از موتورسیکلت و دوچرخه کدام گزینه باید در نظر گرفته شود؟	
1- فضای کمتری برای وسیله نقلیه در نظر گرفته میگیریم	2- با سرعت بیشتری سبقت میگیریم
3- فضای بیشتری برای وسیله نقلیه در نظر گرفته میگیریم	4- با بوق زدن راه راه باز کنیم
پاسخ صحیح : 3	

57) کدام گزینه سرعت مطمئنه است؟	
1- سرعتی است که راننده با اختیار خود می رود	2- سرعتی است که راننده با توجه به شرایط آب و هوا، راه و وضعیت خود اتومبیل اتخاذ می کند تا قادر به پیشگیری از وقوع هرگونه حادثه باشد
3- سرعتی است که راننده با توجه به شرایط دید جاده اتخاذ میکند تا قادر به پیشگیری از وقوع هرگونه حادثه باشد	4- هیچکدام
پاسخ صحیح : 2	

58) حداقل فاصله ایمن در جاده های برفی به ازای هر 15 کیلومتر سرعت در ساعت فاصله ای به اندازه چند اتومبیل است؟	
1- طول 3 اتومبیل	2- طول 4 اتومبیل
3- طول 2 اتومبیل	4- طول 1 اتومبیل
پاسخ صحیح : 1	

59) در هنگام مواجه شدن با اتومبیل مقابل در شب از فاصله چند متری از نور پایین استفاده میکنید؟	
1- فاصله 100 متری	2- فاصله 150 متری
3- فاصله 70 متری	4- فاصله 110 متری
پاسخ صحیح : 2	

60) آمادگی شامل کدامیک از موارد زیر می باشد؟	
1- مشاهده، پیش بینی، تمرکز، آگاهی، عدم حواس پرتی	2- هدایت و کنترل وسیله نقلیه
3- تصمیم سریع و عکس العمل به موقع	4- تسلط به مسیر
پاسخ صحیح : 1	

61) فاصله مناسب وسیله نقلیه شما در پارک دوبل با جدول چقدر است؟	
1- 1 متر	2- 2 متر




3- 45 سانتی متر	4- 30 سانتی متر
پاسخ صحیح : 3	


62 ( کدامیک از موارد زیر جزء نقص فنی محسوب می شود؟	
1- نبستن کمر بند ایمنی	2- کثیف بودن چراغها
3- نداشتن کمر بند ایمنی	4- کم باد بودن لاستیک ها
پاسخ صحیح : 3	


63 (فاصله مناسب اتومبیل شما در پارک دوپل با اتومبیل جلویی چقدر است؟	
1- 1 متر	2- 1/5 متری
3- 45 سانتی متر	4- 50 سانتی متر
پاسخ صحیح : 1	

64 ( تابلوی مقابل به چه معناست؟	
	
1- اردوگاه	2- مهمانسرا
3- تفرجگاه	4- پارک جنگلی
پاسخ صحیح : 2	

65 ( تابلوی مقابل به چه معناست؟	
	

1- خطر سقوط در آب	2- چاله
3- پل متحرک	4- دست انداز
پاسخ صحیح : 3	

		66 (تابلوی مقابل به چه معناست؟
1- پیش انتخاب مسیر	2- افزایش خطوط عبور	
3- کاهش خطوط عبور	4- هیچکدام	
پاسخ صحیح : 2		

		67 (تابلوی مقابل به چه معناست؟
1- محل عبور کامیون	2- عبور کامیون ممنوع	
3- حق تقدم با کامیون	4- مسیر توصیه شده برای وسایل سنگین	
پاسخ صحیح : 4		

		68 (تابلوی مقابل به چه معناست؟
1- پایان منطقه مسکونی	2- ابتدای شهر	

3- ابتدای منطقه مسکونی	4- پایان شهر
پاسخ صحیح : 3	

69) در حین رانندگی چه موقع میتوانید از تلفن همراه استفاده نمایید؟	
1- نیاز به انجام یک تلفن ضروری باشد	2- فرمان را با یک دست بگیرید و اتومبیل را رها کنید
3- هیچ وقت	4- وسیله نقلیه شما دارای دنده اتوماتیک باشد
پاسخ صحیح : 3	

70) حداقل عمق آج لاستیک چقدر باید باشد؟	
1- 1/6 میلیمتر	2- 6/1 میلیمتر
3- 16 میلیمتر	4- هیچکدام
پاسخ صحیح : 1	

71) در بزرگراه ها از چه فاصله ای باید راهنما رد؟	
1- 100 متری	2- 200 متری
3- 150 متری	4- 90 متری
پاسخ صحیح : 2	

72) در کدام محل نباید پارک کرد؟	
1- در 15 متری تقاطع ها	2- در خیابان های اصلی
3- در ایستگاه اتوبوس	4- در خیابان فرعی
پاسخ صحیح : 3	



73) تابلوی مقابل به چه معناست؟

1- جاده شیب دارد	2- تقاطع فرعی با اصلی در قوس
3- تقاطع اصلی به فرعی	4- جاده قوس دارد

پاسخ صحیح : 2



74) تابلوی مقابل به چه معناست؟

1- عبور سواری ممنوع	2- عبور اتومبیل ممنوع
3- عبور کلیه وسایل نقلیه ممنوع	4- هیچکدام

پاسخ صحیح : 1



75) تابلوی مقابل به چه معناست؟

1- پایان سبقت	2- پایان تمام محدودیت ها
3- پایان محدوده سرعت	4- ورود از هر دو طرف ممنوع

پاسخ صحیح : 2



76) تابلوی مقابل به چه معناست؟

1- سبقت ممنوع	2- سبقت برای کامیون ممنوع
3- عبور کامیون و سواری ممنوع	4- سبقت برای سواری ممنوع
پاسخ صحیح : 2	

77) مفهوم رنگ آبی در علائم راهنمایی و رانندگی به چه معناست؟

1- منع کننده	2- راهنمای خدمات، حرکات مجاز، علائم اخباری و راهنمای مسیر در آزاد راهها
3- راهنما برای مناطق اداری	4- علائم دسترسی و راهنمای مسیر
پاسخ صحیح : 2	



78) تابلوی مقابل به چه معناست؟

1- جاده لغزنده	2- ریزش کوه
3- ریزش سنگ	4- پرتاب سنگ
پاسخ صحیح : 4	

79) روشن بودن چراغ زرد در تقاطع به چه معنایی می باشد؟

1- اگر راه باز باشد ادامه مسیر دهید	2- آماده ادامه مسیر باشید
3- در پشت خط ایست بایستید	4- اگر افراد پیاده ای در حال عبور نباشند ادامه مسیر دهید
پاسخ صحیح : 3	

80) به هنگام ترکیدگی لاستیک کدام مورد را باید انجام دهید؟	
1- فرمان را محکم بگیرید و اجازه دهید که اتومبیل خود به خود بایستد	2- دنده را تعویض کرده و سریع ترمز بگیرید
3- ترمز کرده و سریعاً توقف کنید	4- فرمان را شل بگیرید ولی محکم ترمز کنید
پاسخ صحیح : 1	

81) اگر شما در راهی دچار حادثه شوید تابلوی احتیاط را در چه فاصله ای قرار می دهید؟	
1- 5 متری	2- 25 متری
3- 70 متری	4- 100 متری
پاسخ صحیح : 3	

82) نحوه بارگیری تریلرها به چه نحوی باید باشد؟	
1- بار عمدتاً در بخش عقب قرار گیرد	2- بار به صورت متوازن توزیع و خوب بسته شود
3- بار عمدتاً در نزدیکی های چرخ ها بارگیری شود	4- بار در بخش جلوی تریلر قرار گیرد
پاسخ صحیح : 2	

83) چراغ قرمز راهنمایی به معنی این است که...	
1- با احتیاط عبور کنید	2- شما باید بایستید، مگر بخواهید گردش به چپ کنید
3- چنانچه می توانید بی خطر ترمز کنید بایستید	4- شما باید در پشت خط ایست توقف کرده و منتظر باشید
پاسخ صحیح : 4	

84) در چه مواقعی مجاز به حرکت با دنده عقب هستید؟	
1- با احتیاط کامل و احتراز از هرگونه حادثه و انسداد راه میتوان در مواقع ضروری با دنده عقب حرکت کرد	2- رانندگی با دنده عقب، در همه موارد مجاز است
3- در راههای یکطرفه می توان با دنده عقب حرکت کرد	4- چنانچه قصد ورود از گاراژ خصوصی یا خیابان فرعی به اصلی را دارید
پاسخ صحیح : 1	




85) تابلوی مقابل به چه معناست؟

1- عبور سواری ممنوع	2- پل متحرک
3- خطر سقوط در آب	4- مسیر توصیه شده برای وسایل سنگین
پاسخ صحیح : 3	



86) تابلوی مقابل به چه معناست؟

1- محل عبور عابرین پیاده	2- فقط عبور پیاده
3- منطقه عابر پیاده	4- محل عبور عابرین
پاسخ صحیح : 2	



87) تابلوی مقابل به چه معناست؟

1- تعیین فاصله 200 متری	2- تقاطع جاده و راه آهن نصب در 100 متری
3- تقاطع جاده و راه آهن بدون راه بند نصب در 200 متری	4- تقاطع جاده و راه آهن نصب در 200 متری
پاسخ صحیح : 4	

88) در آزادراه ها میخ های زرد رنگ چشم گربه ای در چه محلی دیده می شوند؟

1- بین شانه خاکی و باند اصلی	2- بین محل خالی وسط آزادراه و باند اصلی
------------------------------	---

3- بین هر دو باند مجاز	4- در باند افزایش و کاهش سرعت
پاسخ صحیح : 2	

89 ( حداکثر سرعت در معابر شریانی درجه یک چند کیلومتر است؟	
1- آزادراهها حداقل 70 و حداکثر 120 کیلومتر	2- آزادراهها حداقل 100 و حداکثر 120 کیلومتر
3- آزادراهها حداقل 50 و حداکثر 125 کیلومتر	4- آزادراهها حداقل 75 و حداکثر 125 کیلومتر
پاسخ صحیح : 4	

90 (رانندگانی که گواهینامه پایه 2 دارند میتوانند...	
1- با کامیون و تریلی رانندگی کنند	2- با اتوبوس رانندگی کنند
3- با وسایل نقلیه با ظرفیت 16 تا 26 نفر رانندگی کنند	4- با وسایل نقلیه تا 9 نفر ظرفیت و وانت تا 3/5 تن رانندگی کنند
پاسخ صحیح : 4	

91 (در صورتیکه میزان سرعت رانندگی به وسیله تابلو و یا علائم دیگر راهنمایی و رانندگی معین نشده باشد حداکثر سرعت در شب برای راههای برون شهری مناطق غیر مسکونی چند کیلومتر است؟	
1- 95 کیلومتر در ساعت	2- 120 کیلومتر در ساعت
3- 125 کیلومتر در ساعت	4- 70 کیلومتر در ساعت
پاسخ صحیح : 1	

92 (در تقاطع بدون چراغ باید...	
1- با حداکثر سرعت مجاز عبور کرد	2- با سرعت قانونی عبور کرد
3- با سرعت کم و احتیاجی به رعایت حق تقدم نیست	4- با سرعت کم و با احتیاط و رعایت حق تقدم عبور کرد
پاسخ صحیح : 4	

93 (در حریم تابلوی ایستادن ممنوع...
-------------------------------------




1- فقط برای سوار و پیاده کردن مسافر، توقف بلامانع است	2- برای یک لحظه هم نمیتوان توقف کرد
3- به هیچ وجه نمیتوان پارک کرد ولی میتوان توقف کرد	4- بستگی به موقعیت دارد
پاسخ صحیح : 2	

94) در کدام محل نباید پارک کرد؟	
1- در 15 متری شیرهای منصوب آتش نشانی	2- در خیابان های اصلی
3- در خیابان های یکطرفه	4- در خیابان های فرعی
پاسخ صحیح : 1	


95) در صورت زرد شدن چراغ راهنمایی در وسط تقاطع...	
1- متوقف می شوید	2- برای تخلیه تقاطع به راه خود ادامه می دهید
3- بدون رعایت حق تقدم میتوان حرکت کرد	4- بلافاصله ترمز کرده، با دنده عقب در پشت خط عابر متوقف می شوید
پاسخ صحیح : 2	

96) هنگامی که چراغ راهنمایی سبز است و قصد گردش به چپ یا راست دارید، چه عملیاتی انجام می دهید؟	
1- به مسیر خود ادامه می دهید	2- با احتیاط و با دادن علامت و با رعایت حق تقدم گردش می کنید
3- با دست به چپ یا راست علامت می دهیم	4- فقط به علامت دادن اکتفا می کنیم
پاسخ صحیح : 2	

97) تابلوی مقابل به چه معناست؟	
	
1- عبور حیوانات اهلی	2- عبور حیوانات وحشی

3- عبور حیوانات	4- هیچکدام
پاسخ صحیح : 1	

		98) تابلوی مقابل به چه معناست؟
1- پله برقی	2- پله	
3- روگذر یا زیر گذر	4- زیرگذر	
پاسخ صحیح : 3		

		99) تابلوی مقابل به چه معناست؟
1- ابتدای سبقت ممنوع	2- پایان سبقت ممنوع	
3- پایان محدوده سرعت	4- پایان سبقت کامیون ممنوع	
پاسخ صحیح : 2		

		100) تابلوی مقابل به چه معناست؟
1- جاده یخبندان است	2- تعمیرگاه	
3- عبور فقط با زنجیر چرخ	4- خطر برف	
پاسخ صحیح : 3		



101) تابلوی مقابل به چه معناست؟

1- ورود موتور سیکلت و سواری	2- سبقت ممنوع
3- عبور سواری و دوچرخه ممنوع	4- عبور وسایل نقلیه موتوری ممنوع
پاسخ صحیح : 4	



102) تابلوی مقابل به چه معناست؟

1- دست انداز	2- جاده در دست تعمیر
3- کارگران مشغول کارند	4- حاشیه نماي راست
پاسخ صحیح : 3	

103) چه کسانی قانوناً مجاز به هدایت ترافیک هستند؟

1- کسی که گواهینامه رانندگی داشته باشد	2- پلیس راهنمایی و پلیس مدرسه که مسئول کودکان در حال عبور از خیابان است
3- کسی که تجربه داشته باشد	4- هر کسی که توانایی انجام چنین کاری را داشته باشد
پاسخ صحیح : 2	

104) کدام یک از بیمه های زیر حداقل بیمه ای است که جهت رانندگی نیاز است؟

1- بیمه بدنه اتومبیل	2- بیمه کامل یک اتومبیل
3- بیمه آتش سوزی	4- بیمه شخص ثالث

پاسخ صحیح : 4

105) اگر اتومبیل شما در محل گذرگاه همسطح تقاطع جاده و راه آهن خاموش گردد و صدای بوق هشدار قطار شنیده شود چه اقدامی باید انجام داد؟

1- با علامت دادن قطار را نگه میداریم	2- از اتومبیل خارج شده و از تقاطع دور می شویم
3- سعی میکنیم موتور را خاموش کنیم	4- مانعی جهت برخورد قطار با اتومبیل می سازیم

پاسخ صحیح : 2

106) اگر تریلر پشت اتومبیل به طرفین متمایل شد چه کار باید کرد؟

1- به شدت ترمز میکنیم	2- کلاچ را تا پایین نگه داشته و فرمان را کنترل می کنیم
3- سرعت و شتاب اتومبیل را کم می کنیم	4- سرعت را افزایش می دهیم

پاسخ صحیح : 3

107) زمانیکه به دنبال یک کامیون که در حال گردش به راست و وارد شدن به یک جاده باریک است چه اقدامی باید انجام داد؟

1- از او سبقت میگیرید	2- آماده می شوید پشت سر او بایستید
3- باید سرعت گرفت و از کامیون سبقت گرفت	4- به طرف راست رفته و با گردش کامیون به راه خود ادامه می دهیم

پاسخ صحیح : 2

108) در زمانیکه قصد گردش به چپ و یا راست را دارید از چه فاصله ای باید راهنما بزنید؟

1- از فاصله 50 متری	2- از فاصله 75 متری
3- از فاصله 25 متری	4- از فاصله 100 متری

پاسخ صحیح : 4

109) سبقت گرفتن در کدامیک از موارد زیر ممنوع است؟


1- در مواقعی که میدان دید به هر علتی کافی نباشد	2- در سربالایی هایی که دید راننده کافی است
---	--

3- در سربیش های تند که میدان دید راننده کم است	4- در جاده های صاف و هموار
پاسخ صحیح : 3	

110) باد لاستیک چرخ ها را چه زمانی باید تنظیم کرد؟	
1- در زمان گرم بودن لاستیک ها	2- در زمان سرد بودن لاستیک ها
3- زمانی که مسافت طولانی را طی کرده ایم	4- در زمان سرد بودن هوا لاستیک ها را نمیتوان تنظیم باد نمود
پاسخ صحیح : 2	


111) به هنگام خروج از پارک چه اعمالی باید انجام داد؟	
1- از آینه ها استفاده کرده و برای کنترل نهایی سر را به قسمت چپ برگردانده و عقب را نگاه کنید	2- چنانچه لازم است سایر رانندگان آهسته برانند به آنها علامت دهید
3- اگر اتومبیل دیگری در مقابل اتومبیل شما پارک نشده به عقب برگردید	4- با استفاده از دست می توان علامت داد
پاسخ صحیح : 1	

112) تابلوی مقابل به چه معناست؟	
	
1- حاشیه نمای یک طرفه	2- حاشیه نمای دو طرفه
3- حاشیه نمای راست	4- حاشیه نمای چپ
پاسخ صحیح : 2	

113) تابلوی مقابل به چه معناست؟	
	

1- مهمانسرا	2- استراحتگاه (کاروان)
3- پارکینگ	4- استراحتگاه (چادر)
پاسخ صحیح : 4	

<div style="display: flex; justify-content: space-between; align-items: center;"> <div style="text-align: center;">  </div> <div> <p>114) تابلوی مقابل به چه معناست؟</p> </div> </div>	
1- عبور وسایل نقلیه با وزن بیش از 5 تن ممنوع	2- عبور با کامیون 5 تنی ممنوع
3- عبور با وزن کمتر از 5 تن ممنوع	4- هیچکدام
پاسخ صحیح : 1	

<div style="display: flex; justify-content: space-between; align-items: center;"> <div style="text-align: center;">  </div> <div> <p>115) تابلوی مقابل به چه معناست؟</p> </div> </div>	
1- ایستادن ممنوع	2- ورود ممنوع
3- رعایت حق تقدم	4- ورود از هر دو طرف ممنوع
پاسخ صحیح : 4	

<div style="display: flex; justify-content: space-between; align-items: center;"> <div style="text-align: center;">  </div> <div> <p>116) تابلوی مقابل به چه معناست؟</p> </div> </div>	
1- تقاطع جاده و راه آهن، نصب در 300 متری	2- تقاطع جاده و راه آهن، نصب در 240 متری

3- تقاطع جاده و راه آهن با راه بند، نصب در 300 متری	4- تقاطع جاده و راه آهن بدون راه بند، نصب در 300 متری
پاسخ صحیح : 4	

117) از روی خط مقطع (بریده - بریده) وسط خیابان...	
1- فقط می توان دور زد	2- فقط می توان سبقت گرفت
3- می توان دور زد ولی سبقت نمی توان گرفت	4- برای دور زدن و سبقت گرفتن می توان استفاده کرد
پاسخ صحیح : 4	

118) کدامیک از اشکالات زیر خطر تصادف پشت سر را افزایش می دهد؟	
1- نداشته معاینه فنی	2- خرابی چراغ خطر دنده عقب
3- خرابی چراغ ترمز	4- خراب بودن ترمز
پاسخ صحیح : 3	

119) کدامیک از موارد زیر علت تصادف با اتومبیل جلویی است؟	
1- استفاده از نور پایین	2- عدم توجه کافی به راه و نزدیک شدن بیش از حد به اتومبیل جلویی
3- نور زرد چراغ های مه شکن	4- چراغ های راهنما
پاسخ صحیح : 2	

120) فاصله قبل و بعد از تونل ها برای گرفتن سبقت چند متر است؟	
1- 40 متر	2- 100 متر
3- 50 متر	4- 150 متر
پاسخ صحیح : 2	


121) چرا کامیون های بزرگ در زمان گردش به راست، به سمت چپ متمایل می شوند؟	
1- چون کشنده و یدک از هم جدا هستند	2- برای اینکه وسیله نقلیه ای از سمت راست نتواند عبور کند

3- برای ممانعت از نزدیک شدن چرخ های عقب به جدول و رفتن روی آن	4- هیچکدام
پاسخ صحیح : 3	

122) اگر چراغ های جلوی وسیله نقلیه معیوب باشد...	
1- در روز حرکت میکنید و در شب آن را متوقف می نمایید	2- رانندگی با چنین وسیله ای ای برادی ندارد
3- نقص فنی محسوب می شود و اجازه حرکت ندارید	4- نقص فنی محسوب نمی شود
پاسخ صحیح : 3	

123) کم باد بودن لاستیک بر کدام مورد ذیل تاثیر می گذارد؟	
1- طولانی شدن عمر لاستیک	2- دیر سائیده شدن لاستیک
3- تعویض دنده	4- ترمز کردن
پاسخ صحیح : 4	

<div style="display: flex; align-items: center; justify-content: space-between;">  <div>124) تابلوی مقابل به چه معناست؟</div> </div>	
1- تقدم عبور در راه اصلی	2- حق تقدم عبور با شماست
3- حق تقدم عبور با وسیله نقلیه کناری است	4- حق تقدم عبور با وسیله نقلیه مقابل است
پاسخ صحیح : 4	


<div style="display: flex; align-items: center; justify-content: space-between;">  <div>125) تابلوی مقابل به چه معناست؟</div> </div>	
---	--



1- عبور عابرین	2- عبور اطفال
3- عبور اطفال ممنوع	4- هیچکدام
پاسخ صحیح : 2	

		126) تابلوی مقابل به چه معناست؟
1- عبور مستقیم و گردش به راست آزاد	2- عبور مستقیم و دور زدن آزاد	
3- عبور مستقیم و گردش به چپ آزاد	4- تعیین مسیر حرکت	
پاسخ صحیح : 1		

		127) تابلوی مقابل به چه معناست؟
1- تونل	2- ورود به تونل ممنوع	
3- ابتدای تونل	4- پایان تونل	
پاسخ صحیح : 4		

		128) تابلوی مقابل به چه معناست؟
1- به تابلوی رعایت حق تقدم نزدیک می شوید	2- به تابلو ایست نزدیک می شوید	

3- به تقاطع نزدیک می شوید	4- به تابلو ایستادن ممنوع نزدیک می شوید
پاسخ صحیح : 2	

		129) تابلوی مقابل به چه معناست؟
1- عبور تراکتور از آسفالت ممنوع	2- عبور خودروی کشاورزی ممنوع	
3- عبور خودروی کشاورزی	4- عبور وسایل نقلیه کندرو ممنوع	
پاسخ صحیح : 2		

		130) تابلوی مقابل به چه معناست؟
1- پرواز هواپیما در ارتفاع کم	2- پرواز هواپیما در ارتفاع زیاد	
3- به فرودگاه نزدیک می شوید	4- باند فرودگاه	
پاسخ صحیح : 1		

		131) تابلوی مقابل به چه معناست؟
1- ابتدای ورود به شهر در جاده	2- ابتدای ورود به شهر در راه اصلی	
3- پایان شهر	4- ابتدای ورود به استاد	
پاسخ صحیح : 3		



132) تابلوی مقابل به چه معناست؟

1- توقف در روزهای فرد هفته ممنوع	2- توقف در روزهای زوج هفته ممنوع
3- توقف در روزهای فرد ماه ممنوع	4- توقف ممنوع
پاسخ صحیح : 1	



133) تابلوی مقابل به چه معناست؟

1- بوق زدن آزاد	2- بوق زدن ممنوع
3- پایان منطقه بوق زدن ممنوع	4- هیچکدام
پاسخ صحیح : 2	

134) کدامیک از موارد زیر مربوط به استفاده از باند سمت چپ در آزادراه می باشد؟

1- برای سبقت از سایر وسایل نقلیه	2- برای شتاب گرفتن وسیله نقلیه
3- برای رانندگی در سرعت های بیش از 90 کیلومتر در ساعت	4- برای انجام کارهای تعمیراتی
پاسخ صحیح : 1	

135) راهی که ارتباط بین خیابان های جمع و پخش کننده و بزرگراه ها را برقرار میکند چه نام دارد؟

1- خیابان شریانی فرعی درجه یک	2- معابر محلی
3- خیابان شریانی فرعی	4- خیابان شریانی اصلی

پاسخ صحیح : 4

136) حرکت با سرعت کم که موجب کندی عبور و مرور می گردد...

1- خلاف مقررات است	2- دقیقاً برابر مقررات است
3- در بعضی مواقع ایرادی ندارد	4- در خیابان های فرعی مانعی ندارد
پاسخ صحیح : 1	

137) مطابق قانون کدامیک از گزینه های زیر در برابر دیگر سرنشینان مسئولیت دارد؟

1- راننده	2- مسافر روی صندلی جلو
3- باتجربه ترین شخص	4- شخصی که دارای گواهینامه رانندگی است
پاسخ صحیح : 1	

138) با شنیدن صدای آژیر وسایل نقلیه امدادی چه می کنید؟

1- با سرعت حرکت می کنیم	2- سریعتر حرکت می کنیم و با بوق زدن به اتومبیل های جلویی راه را برای وسایل نقلیه امدادی باز میکنیم
3- اتومبیل خود را به منتهی الیه سمت راست هدایت می کنید و در صورت لزوم تا گذشتن وسایل نقلیه امدادی توقف میکنیم	4- بلافاصله علامت داده، همان جا متوقف می شوید
پاسخ صحیح : 3	

139) در تقاطع برای گردش به راست...

1- از منتهی الیه سمت راست گردش می کنید	2- از منتهی الیه سمت چپ گردش می کنید
3- جهت گردش به سمت راست در تقاطع ها نیازی به منتهی الیه سمت راست ندارد	4- از باند وسط گردش می کنید
پاسخ صحیح : 1	

140) رانندگان وسایل نقلیه امدادی در چه مواردی مجاز به استفاده از سوت خطر، آژیر، زنگ مخصوص و چراغ گردان می باشند؟

1- در هنگام مواجهه با خطر	2- جهت اطلاع به راننده جلویی
---------------------------	------------------------------

3- جهت انجام کارهای مهم و فوری	4- جهت انجام ماموریت های مهم و فوری
پاسخ صحیح : 4	

141) پایین بودن سطح کدامیک از موارد زیر می تواند منجر به حادثه شود؟	
1- آب باتری	2- ضد یخ
3- روغن ترمز	4- گرمای موتور
پاسخ صحیح : 3	

142) هنگام نزدیک شدن به پیچ تند در شرایط جاده خیس و یخبندان، کدامیک از موارد زیر باید رعایت شود؟	
1- تا حد امکان با دنده سنگین حرکت کنید	2- قبل از رسیدن به پیچ از سرعت خود بکاهید
3- از حرکت سریع فرمان به طرفین خودداری کنید	4- هر سه مورد
پاسخ صحیح : 4	

143) کدام گزینه روش صحیح ترمز کردن است؟	
1- ابتدا سریعاً ترمز کرده، سپس پدال ترمز را بیشتر فشار دهید	2- ابتدا به آرامی ترمز کرده، سپس پدال ترمز را بیشتر فشار دهید
3- ابتدا به آرامی ترمز کرده، سپس دنده را در حالت خلاص می گذاریم	4- ابتدا به آرامی ترمز کرده، سپس با ترمز دستی اتومبیل را نگه میداریم
پاسخ صحیح : 2	

144) تابلوی مقابل به چه معناست؟	
	
1- عبور حیوانات	2- عبور حیوانات اهلی
3- منطقه حفاظت شده ی حیوانات	4- عبور حیوانات وحشی



145) تابلوی مقابل به چه معناست؟

1- عکسبرداری ممنوع	2- سینما
3- نظارت با دوربین پلیس	4- کنترل تردد
پاسخ صحیح : 3	



146) تابلوی مقابل به چه معناست؟

1- شیب 10 درصد	2- شیب سرازیری 10 درصد
3- شیب سربالایی 10 درصد	4- جاده شیب دار
پاسخ صحیح : 2	



147) تابلوی مقابل به چه معناست؟

1- تقاطع جاده و راه آهن	2- تقاطع راه آهن با راه بند
3- راه آهن	4- تقاطع راه آهن بدون راه بند
پاسخ صحیح : 4	



148) تابلوی مقابل به چه معناست؟

1- تقاطع با راه آهن	2- تقاطع با راه آهن دو خطه
3- تقاطع با راه آهن بدون راه بند	4- تقاطع خطوط آهن در جاده

پاسخ صحیح : 1



149) تابلوی مقابل به چه معناست؟

1- محل پارک دوچرخه	2- فقط عبور دوچرخه موتوردار
3- فقط عبور پیاده و دوچرخه	4- فقط عبور دوچرخه

پاسخ صحیح : 4



150) تابلوی مقابل به چه معناست؟

1- پارک کردن ممنوع	2- ایستادن ممنوع
3- منطقه توقف ممنوع	4- توقف ممنوع

پاسخ صحیح : 3



151) تابلوی مقابل به چه معناست؟

1- جهت نما در راه اصلی	2- پیش انتخاب مسیر
3- جهت نما در راه فرعی	4- تعیین جهت عبور

پاسخ صحیح : 2



152) تابلوی مقابل به چه معناست؟

1- توقف در ایستگاه اتوبوس ممنوع	2- ایستگاه اتوبوس
3- ایستگاه قطار شهری	4- توقف مطلقا ممنوع

پاسخ صحیح : 2



153) تابلوی مقابل به چه معناست؟

1- تابلوی رعایت حق تقدم	2- تراکم تردد (ترافیک)
3- جاده یک طرفه	4- پارکینگ

پاسخ صحیح : 2





154) تابلوی مقابل به چه معناست؟

1- عبور کامیون ممنوع	2- عبور کامیون با ارتفاع بیش از 10 متر ممنوع
3- عبور کامیون با عرض بیش از 10 متر ممنوع	4- عبور کامیون با طول بیش از 10 متر ممنوع
پاسخ صحیح : 4	

155) در هنگام مشاهده چراغ زرد چشمک زن، چه اقدامی باید انجام داد؟

1- با مشاهده چنین چراغی ایست کامل میکنیم	2- عبور میکنیم و احتیاط لازم نیست
3- قبل از خط ایست و یا گذرگاه عابر پیاده توقف کامل میکنیم	4- از سرعت خود کم کرده و با احتیاط عبور کرده و در صورت توقف میکنیم
پاسخ صحیح : 4	

156) در هنگام رسیدن به گذرگاه هم سطح راه آهن چه اقدامی لازم است؟

1- چراغ فلاشر را روشن کنیم	2- عبور سریع
3- با دقت عبور کنیم	4- توقف قبل از مانع
پاسخ صحیح : 4	

157) کدام گزینه جزء مواردی می باشد که موجب بهم خوردن تمرکز شما می شود؟

1- نگاه کردن به نقشه ها	2- گوش کردن به موزیک با صدای بلند
3- استفاده از تلفن همراه	4- همه موارد
پاسخ صحیح : 4	

158) کدامیک از موارد زیر لازمه شروع رانندگی است؟

1- کشیده شدن ترمز دستی	2- از بسته شدن کمربند خود و سایر سرنشینان مطمئن شویم
------------------------	--

3- کم باد نبودن لاستیک ها	4- پوشیدن کفش مناسب
پاسخ صحیح : 2	

159) شما با سرعت 60 کیلومتر در ساعت در یک جاده خشک در حال رانندگی هستید. فاصله شما با اتومبیل جلویی چقدر باید باشد؟	
1- به اندازه طول 2 اتومبیل	2- به اندازه طول 3 اتومبیل
3- به اندازه طول 4 اتومبیل	4- به اندازه طول 1 اتومبیل
پاسخ صحیح : 3	

160) قرار گرفتن در باند سمت راست مربوط به کدامیک از گزینه های زیر است؟	
1- زمانیکه در یک خیابان یک طرفه قصد گردش به راست داشته باشیم	2- زمانیکه در یک خیابان یک طرفه قصد گردش به چپ داشته باشیم
3- زمانیکه در یک خیابان دوطرفه قصد گردش به چپ داشته باشیم	4- زمانیکه قصد سبقت اریم
پاسخ صحیح : 1	

161) در هنگام رانندگی فاصله زمانی بین شما و اتومبیل جلویی در یک جاده خیس چقدر باید باشد؟	
1- بین یک و دو ثانیه	2- یک ثانیه
3- دو ثانیه	4- چهار ثانیه
پاسخ صحیح : 4	

162) در شرایط آب و هوای غیر عادی و محدودیت دید چگونه اطمینان میکنید که سایر رانندگان قادر به رویت شما هستند؟	
1- با روشن کردن چراغ سقف	2- با روشن کردن چراغ های نور پایین
3- با گرفتن ترمزهای ناگهانی	4- با علامت دادن دست
پاسخ صحیح : 2	

163) در شرایط یخبندان چگونه میتوان از لغزش چرخ های اتومبیل جلوگیری کرد؟
---

1- سفت گرفتن فرمان	2- با دنده سنگین و سرعت کم
3- با دنده سبک و سرعت کم	4- کشیدن ترمز دستی
پاسخ صحیح : 2	

164) بی توجهی به علائم و مقررات رانندگی نشانه...	
1- عدم سواد کافی	2- عدم توانایی در رانندگی است
3- عدم تجربه ی رانندگی	4- عدم بینایی چشم
پاسخ صحیح : 2	

<div style="display: flex; align-items: center;">  <div style="margin-left: 20px;">165) تابلوی مقابل به چه معناست؟</div> </div>	
1- دست انداز	2- برآمدگی
3- چاله	4- شانه خاکی
پاسخ صحیح : 3	

<div style="display: flex; align-items: center;">  <div style="margin-left: 20px;">166) تابلوی مقابل به چه معناست؟</div> </div>	
1- گردش به راست ممنوع	2- خطر در گردش به راست
3- گردش به چپ ممنوع	4- خطر در گردش به چپ
پاسخ صحیح : 1	



167) تابلوی مقابل به چه معناست؟

1- پایان آزاد راه	2- تقاطع راه اصلی با پل
3- آزاد راه	4- پایان تقاطع اصلی با پل

پاسخ صحیح : 1



168) تابلوی مقابل به چه معناست؟

1- ورود ممنوع	2- عبور ممنوع
3- ورود از هر دو طرف ممنوع	4- عبور از هر دو طرف ممنوع

پاسخ صحیح : 1



169) تابلوی مقابله به چه معناست؟

1- پایان محدودیت سرعت 40 کیلومتر	2- پایان محدودیت سرعت در شهر
3- ابتدای محدودیت سرعت 40 کیلومتر	4- هیچکدام

پاسخ صحیح : 1



170) تابلوی مقابل به چه معناست؟

1- پیج های پی در پی (اولین پیج به راست)	2- پیج های خطرناک در جاده
3- پیج های پی در پی (اولین پیج به چپ)	4- پیج های پی در پی (اولین پیج به راست و بعد به چپ)
پاسخ صحیح : 3	



171) تابلوی مقابل به چه معناست؟

1- به طرف بیمارستان	2- بیمارستان
3- درمانگاه	4- توقفگاه بیمارستان
پاسخ صحیح : 2	



172) تابلوی مقابل به چه معناست؟

1- حاشیه و جهت نما به چپ (تکی)	2- حاشیه و جهت نما به راست (تکی)
3- حاشیه و جهت نما به چپ (گروهی)	4- حاشیه و جهت نما به راست (گروهی)
پاسخ صحیح : 1	



173) تابلوی مقابل به چه معناست؟

1- ایستگاه	2- پارکینگ تاکسی
3- پایان محدوده پارک آزاد	4- محدوده پارک آزاد
پاسخ صحیح : 4	



174) تابلوی مقابل به چه معناست؟


1- عبور با ارتفاع بیشتر از 3.5 متر ممنوع	2- عبور با وزن بیشتر از 3.5 تن ممنوع
3- عبور با بار بیشتر از 3.5 متر ممنوع	4- عبور با عرض بیشتر از 3.5 متر ممنوع
پاسخ صحیح : 1	



175) تابلوی مقابل به چه معناست؟

1- ریزش سنگ	2- خطر سقوط سنگ
3- پرتاب سنگ	4- خطر سقوط در دره
پاسخ صحیح : 1	

	176) تابلوی مقابل به چه معناست؟
1- پایان جدا کننده	2- شروع جدا کننده
3- هدایت مسیر با جدا کننده	4- جریان همگرا
پاسخ صحیح : 1	

	177) تابلوی مقابل به چه معناست؟
1- در مواقع برف و یخبندان جاده لغزنده است	2- در مواقع برف و یخبندان حاشیه جاده لغزنده است
3- منطقه مه و کولاک	4- بارش برف در جاده
پاسخ صحیح : 1	

	178) تابلوی مقابل به چه معناست؟
1- با مشاهده این تابلو سرعت خود را به 30 کیلومتر در ساعت رسانده و کمتر از 50 کیلومتر در ساعت ممنوع	2- با مشاهده این تابلو سرعت خود را حداقل به 50 کیلومتر در ساعت رسانده و تا پایان محدودیت آن را افزایش ندهید
3- با سرعت مطمئنه در ساعت حرکت کنید	4- با مشاهده این تابلو سرعت خود را به 50 کیلومتر در ساعت رسانده و تا پایان محدودیت آن را افزایش ندهید
پاسخ صحیح : 4	

179) قفل کودک در وسیله نقلیه به چه منظوری قرار داده شده است؟
--

1- جهت نگه داشتن کودک در صندلی	2- جهت جلوگیری از سرقت خودرو
3- برای اینکه کودکان بطور ناخواسته درب عقب را باز نکنند	4- جهت اطمینان کامل از قفل شدن درب جلو
پاسخ صحیح : 3	

180) کدامیک از موارد زیر مهمترین عامل تصادف است؟	
1- اشتباهات رانندگان	2- شرایط راه
3- نقص فنی	4- تنظیم نبودن لاستیک
پاسخ صحیح : 1	

181) کدام اقدام در زمان مواجه شدن با حیوانات لازم است؟	
1- از بوق استفاده میکنیم	2- آرام حرکت کرده و آماده توقف می شویم
3- سریع از آنها سبقت میگیریم	4- هیچکدام
پاسخ صحیح : 2	

182) عابری که عصای سفیدی در دست دارد...	
1- ناشنوا است	2- نابینا است
3- معلول است	4- مسن است
پاسخ صحیح : 2	

183) زمانیکه در یک جاده دو طرفه در حال حرکت هستید و اتومبیلی بدون رعایت فاصله جلوی شما قرار میگیرد چه اقدامی باید انجام دهید؟	
1- فاصله گرفته و فاصله ایمن را رعایت کنیم	2- ترمز می کنیم
3- با زدن چراغ و بوق راننده را جهت یادگرفتن فاصله با اطلاع میکنیم	4- احتیاجی به رعایت فاصله در جاده دو طرفه نیست
پاسخ صحیح : 1	



184) کدام یک از موارد زیر کنترل شما را بر روی وسیله نقلیه کاهش می دهد؟	
1- ترمز کردن	2- استفاده بیش از حد از دنده
3- استفاده از دنده های سبک	4- مدت زیادی پای خود را روی کلاچ قرار دادن
پاسخ صحیح : 4	

185) کدامیک از موارد زیر قدرت واکنش و هماهنگی و تشخیص سرعت را مختل می کند؟	
1- مصرف مشروبات الکلی و مواد مخدر	2- مصرف خوراکی در هنگام رانندگی
3- صحبت کردن با راننده	4- همه موارد
پاسخ صحیح : 1	

186) کدام فاصله بین دو اتومبیل چنانچه راه خشک و هوا خوب باشد، مناسب است؟	
1- 5 متر کافیت	2- با استفاده از ساعت اندازه میگیریم
3- شمارش از یک تا دو	4- فاصله 2 ثانیه ای
پاسخ صحیح : 4	

187) چرا در سطح جاده های خیس، برفی، لغزنده باید از دنده سنگین استفاده شود؟	
1- جهت ترمز سریع	2- جهت حرکت سریع
3- جهت ممانعت از لغزش چرخ ها	4- جهت ممانعت از چپ و راست رفتن خودرو
پاسخ صحیح : 3	

188) در شرایط یخبندان فاصله توقف چه مقدار ممکن است افزایش یابد؟	
1- 2 برابر	2- 5 برابر
3- 8 برابر	4- 10 برابر
پاسخ صحیح : 4	

189) مشاهده، پیش بینی، تمرکز، آگاهی، عدم حواس پرتی مربوط به کدام یک از موارد زیر است؟

1- آمادگی در رانندگی	2- مهارت در رانندگی
3- آگاهی از خطر	4- رعایت حق تقدم
پاسخ صحیح : 1	

190) تابلوی مقابل به چه معناست؟



1- فرعی به اصلی در راه اصلی	2- به تقاطع فرعی نزدیک می شوید
3- به تقاطع اصلی نزدیک می شوید	4- تقاطع فرعی و اصلی
پاسخ صحیح : 4	

191) تابلوی مقابل به چه معناست؟



1- خطر در گردش به چپ	2- دور زدن ممنوع
3- محل دور زدن	4- خطر در دور زدن
پاسخ صحیح : 2	

192) تابلوی مقابل به چه معناست؟




192) تابلوی مقابل به چه معناست؟
---------------------------------

1- توقف سرتاسر خیابان ممنوع	2- ایستادن ممنوع
3- توقف ممنوع	4- ایست
پاسخ صحیح : 2	

193 (تابلوی مقابل به چه معناست؟	
	
1- پارکینگ خودرو	2- پارکینگ مخصوص افراد معلولین
3- محل عبور معلولین	4- عبور معلولین با وسیله نقلیه
پاسخ صحیح : 2	


194 (تابلوی مقابل به چه معناست؟	
	
1- دست انداز	2- خیابان دست انداز دارد
3- به دست انداز نزدیک می شوید	4- عبور با احتیاط از دست انداز
پاسخ صحیح : 1	

195 (تابلوی مقابل به چه معناست؟	
	
1- جدا کننده	2- پایان جدا کننده

3- شروع جدا کننده	4- هدایت مسیر با جدا کننده
پاسخ صحیح : 4	

196 (تابلوی مقابل به چه معناست؟	
	
1- ورود به راه اصلی از راست	2- فرعی به اصلی از راست
3- اصلی به فرعی از راست	4- ورود به جاده اصلی از چپ
پاسخ صحیح : 1	

197 (تابلوی مقابل به چه معناست؟	
	
1- چهارراه هم عرض	2- پست امدادی
3- صلیب سرخ	4- پست امدادی هلال احمر
پاسخ صحیح : 2	

198 (تابلوی مقابل به چه معناست؟	
	
1- خطر در گردش به چپ	2- خطر در گردش به راست
3- گردش به چپ ممنوع	4- گردش به راست ممنوع
پاسخ صحیح : 3	



199) تابلوی مقابل به چه معناست؟

1- میدان	2- عبور در میدان آزاد
3- رهنمای میدان	4- جهت عبور در میدان
پاسخ صحیح : 4	



200) تابلوی مقابل به چه معناست؟

1- گردش در میدان ممنوع	2- میدان
3- تعیین جهت حرکت در میدان	4- هیچکدام
پاسخ صحیح : 2	

201) کدام گزینه از موارد زیر در هنگام عبور احشام از جاده صحیح می باشد؟

1- باید فاصله مناسب را حفظ کنیم	2- از بوق زدن خودداری کنیم
3- از سرعت خود کاسته و آماده توقف می شویم	4- تمام موارد
پاسخ صحیح : 4	

202) زمانی که تجربه کافی ندارید و به نازکی گواهینامه گرفته اید، نسبت تصادف شما به سایر رانندگان چقدر می باشد؟

1- خیلی زیاد	2- تجربه نیاز نیست
3- قبولی امتحان شهر کافی می باشد	4- فرقی نمی کند

پاسخ صحیح : 1

203) در زمانی که احساس بیماری و خستگی میکنید...

1- با احتیاط رانندگی میکنیم	2- با آب خود را خنک کرده و به مسیر ادامه می دهیم
3- نباید رانندگی کنیم	4- دارو مصرف میکنیم و رانندگی میکنیم

پاسخ صحیح : 3

204) به منظور حفظ کنترل صحیح بر روی پدالها کدامیک از موارد زیر اهمیت زیادی دارد؟

1- پوشیدن کفش های مناسب	2- پوشیدن لباس مناسب
3- تنظیم کردن آینه	4- بستن کمربند ایمنی

پاسخ صحیح : 1

205) زمانیکه راننده پشت سر در یک خیابان شلوغ و پر ترافیک از شما میخواهد سبقت بگیرد و شما با سرعت مجاز در حال رانندگی هستید کدام اقدام صحیح تر است؟

1- بلافاصله ترمز کرده، و راه را برای سبقت آزاد میکنیم	2- مسیر صحیح و مستقیم خود را ادامه می دهیم تا به راننده پشت سر فرصت دهید در شرایطی بی خطر سبقت بگیرد
3- بر سرعت خود افزوده و از خودرو فاصله میگیریم	4- از خود واکنش نشان داده و اجازه سبقت نمیدهیم

پاسخ صحیح : 2

206) در هنگام رانندگی چنانچه متوجه بوی بنزین شدید از ماشین شدیم کدامیک از موارد زیر را باید رعایت کنیم؟

1- با بوی بنزین شدید مشکلی پیش نمی آید	2- با احتیاط رانندگی می کنیم
3- توقف نموده تا بوی بنزین از بین برود	4- توقف نموده و مسئله را کاملاً بررسی میکنیم

پاسخ صحیح : 4

207) در هوای بسیار گرم کدامیک از موارد زیر بر سطح جاده نرم تاثیر پذیر است؟

1- فیلتر هوا	2- ترمز
--------------	---------

3- تنظیم باد	4- هیچکدام
پاسخ صحیح : 3	

208 (حواس پرتی در رانندگی باعث چه عملی خواهد شد؟	
1- قادر به تصمیم گیری نخواهید بود	2- مسیر را اشتباه خواهید رفت
3- نمی توانید عکس العملی از خود نشان دهید	4- تصمیم سریع و عکس العمل را از شما خواهد گرفت
پاسخ صحیح : 4	

209 (باری که بر روی باربند سقف اتومبیل قرار گرفته می شود...	
1- باید آن را بیوشانیم	2- باید محکم بسته شود
3- نباید در برابر هوا مقاومت نشان دهد	4- باید آن را منظم چید
پاسخ صحیح : 2	

210 (برای مسافت های طولانی نباید...	
1- با دنده دو حرکت کرد	2- با دنده عقب حرکت کرد
3- با دنده سبک حرکت کرد	4- با دنده خلاص حرکت کرد
پاسخ صحیح : 2	

211 (استفاده از تلفن همراه در رانندگی...	
1- صحبت کردن با تلفن همراه با سرعت مطمئنه اشکال ندارد	2- زمانی که وسیله ی نقلیه ی شما دنده اتوماتیک باشد مانعی ندارد
3- پس از توقف کامل در یک محل و مکان می توان استفاده کرد	4- استفاده از تلفن همراه در رانندگی مانعی ندارد
پاسخ صحیح : 3	

212 (اتومبیلی ناگهان جلوی شما از یک فرعی بیرون می آید چکار باید انجام دهید؟	
1- از سرعت خود کاسته و آماده توقف شوید	2- با سرعت از کنارش گذشته و بوق بزنید

3- با کمک فرمان از کنار او عبور کنید	4- با نور بالا او را از وجود خود آگاه کنید
پاسخ صحیح : 1	

213 (همراه داشتن چه مدارکی در هنگام رانندگی لازم است ؟	
1- گواهینامه - کارت شناسایی- کارت بیمه	2- گواهینامه رانندگی - کارت اتومبیل- کارت بیمه
3- کارت اتومبیل - شناسنامه کارت بیمه	4- کارت ملی - گواهینامه-کارت بیمه
پاسخ صحیح : 2	

214 (سبقت از کدام سمت وسیله ای که بطور مستقیم در حرکت است مجاز است؟	
1- سمت چپ	2- سمت راست
3- بستگی به موقعیت دارد	4- بستگی به اتومبیل جلویی دارد
پاسخ صحیح : 1	

215 (با سرعت مجاز در حال حرکت هستید اتومبیلی به سرعت از پشت به شما نزدیک می شود و با دادن چراغ از شما راه میخواد. چکار باید انجام دهید؟	
1- آهسته ترمز کنید تا چراغ ترمز عقب روشن شود	2- سرعت را حفظ نموده و مانع سبقت وسیله مذکور شوید
3- اجازه دهید اتومبیل مذکور سبقت بگیرد	4- فلاشر را روشن می کنیم و درخواست رعایت فاصله را از اتومبیل می کنیم
پاسخ صحیح : 3	

216 (حق تقدم در سه راه ها...	
1- با وسیله ای که در خیابان عریض قرار دارد	2- با وسیله ای که زودتر به سه راه رسیده باشد
3- با وسیله ای که مستقیم حرکت می کند	4- با وسیله ای که با سرعت حرکت می کند
پاسخ صحیح : 3	

217 (هرگاه از دو وسیله نقلیه روبروی هم یکی از آنها بخواد گردش به چپ کند حق تقدم عبور با کدامیک است؟
---



1- وسیله نقلیه ای که قصد گردش دارد	2- وسیله نقلیه ای که مستقیم حرکت می کند
3- وسیله سرعت بیشتری دارد	4- وسیله ای که سمت چپش وسیله ای نباشد
پاسخ صحیح : 2	

218) رانندگان با مشاهده تابلوی رعایت حق تقدم باید چگونه عمل کنند؟	
1- توقف کامل نموده سپس با رعایت عبور سایر وسایل نقلیه حرکت نمایند	2- از سرعت خود کاسته و با احتیاط عبور نمایند
3- با همان سرعت قبلی به حرکت خود ادامه دهند	4- کاملاً توقف نمایند
پاسخ صحیح : 1	

219) هنگامی که به یک تقاطع با چراغهای قرمز چشمک زن برسید چکار می کنید ؟	
1- با دقت به رفتن ادامه می دهید	2- توقف می کنید و منتظر چراغ سبز می شوید
3- با همان سرعت به رفتن ادامه می دهید	4- ایست کرده و با رعایت حق تقدم عبور می کنید
پاسخ صحیح : 4	

220) در تقاطعی علامت توقف با ترسیم خط سفید پیوسته بر روی سطح راه نشان داده شده است. دلیل ترسیم این خط چیست؟	
1- سرعت در راه فرعی محدود است	2- سرعت در راه اصلی محدود است
3- دید این تقاطع محدود است	4- موارد الف و ب
پاسخ صحیح : 3	

221) علائم راهنمایی و رانندگی کدامند ؟	
1- چراغها	2- خطوط
3- تابلو ها - خطوط- چراغها	4- تابلو ها
پاسخ صحیح : 3	

222) به هنگام رانندگی در سرآشویی کدام مورد بدلیل پایین نگه داشتن کلاچ و خلاص بودن دنده ایجاد می شود ؟	
1- مصرف بنزین بیشتر می شود	2- اتومبیل سرعت گرفته و ترمز و هدایت اتومبیل سخت می شود
3- اتومبیل شتاب بیشتری میگیرد	4- لاستیک ها سائیدگی بیشتری پیدا می کنند
پاسخ صحیح : 2	

223) در ایستگاه اتوبوس کدام یک از اعمال زیر را انجام می دهید؟	
1- چند لحظه جهت سوار و پیاده کردن مسافر توقف می نمایم	2- با حضور در پشت فرمان توقف می کنیم
3- با زدن فلاشر اتومبیل را ترک می کنیم	4- به هیچ وجه توقف نمی کنیم
پاسخ صحیح : 4	

224) در چه زمانی میتوانی از چراغ هشدار دهنده (فلاشر) استفاده نمود؟	
1- زمانی که وسیله نقلیه شما توسط وسیله نقلیه دیگری کشیده می شود	2- زمانی که اتومبیل شما دچار نقص فنی است
3- زمانی که می خواهید اتومبیل پشت سری خود را از خطری که جلو قرار دارد مطلع کنید	4- موارد ب و ج
پاسخ صحیح : 4	

225) در چه مواقعی و در چه جاهایی استفاده از نور بالا مجاز است ؟	
1- شبها در خارج از شهر و در نقاط غیر مسکونی که تاریک است	2- شب ها در نقاط مسکونی
3- در مواقعی که در جاده در شب رانندگی می کنیم	4- در شب مواقعی که اتومبیل روبرو از نور بالا استفاده می کند
پاسخ صحیح : 1	

226) هنگام ترک اتومبیل باید چه نکاتی را رعایت کرد ؟	
1- فقط موتور را خاموش می کنیم	2- دنده را خلاص می کنیم
3- ترمز دستی را کشیده و درب های اتومبیل را قفل می کنیم	4- موتور را خاموش کرده ترمز دستی را کشیده و سوئیچ را خارج می کنیم

پاسخ صحیح : 4

227) معنی و مفهوم استفاده از استپ های بالا (نور بالا) چیست ؟

1- جهت اینکه حق تقدم با شماست	2- جهت اعلام اینکه به آنها راه داده اید
3- جهت اعلام حضور به آنها	4- جهت فهماندن دیدن آنها توسط شما

پاسخ صحیح : 3

228) کدامیک از کارهای زیر را نباید در پمپ بنزین انجام داد؟

1- قدم زدن	2- با موبایل صحبت کردن
3- سیگار کشیدن	4- غذا خوردن

پاسخ صحیح : 3

229) چه عاملی میتواند میزان خطر ناشی از آسیب دیدگی کردن در موقع تصادف کم کند؟

1- ترمز ضد قفل	2- وجود پشتی مناسب سر و تنظیم شده
3- کیسه هوا	4- صندلی مجهز به بالشتک هوا

پاسخ صحیح : 2

230) زمانی که قصد دارید اتومبیل را بر روی سراسیمه پارک کنید چه اقدامی باید انجام دهید؟

1- نزدیک به سپر اتومبیل جلویی پارک کنید - ترمز دستی را بکشید در دنده جلو قرار دهید	2- چراغها را به سمت جدول چرخانده ترمز دستی را کشیده و در دنده عقب قرار دهید
3- ترمز دستی را بکشید و با فاصله از جدول بایستید	4- اتومبیل را در دنده گذاشته

پاسخ صحیح : 2

231) در آزاد راه زمانی که اشتباه از محل خروجی که مورد نظر خود رد می شوید...

1- با دقت دنده عقب رفته و از باند سمت چپ به عقب برگردید	2- تا خروجی بعدی به راه خود ادامه دهید
---	--

3- در محل اولین بریدگی وسط آزاد راه دور بزئید	4- هیچکدام
پاسخ صحیح : 2	

232 ( شما اولین نفری هستید که به محل تصادف می رسید کدام مورد را باید انجام دهید؟	
1- افراد زخمی را از اتومبیل خارج میکنیم	2- به اورژانس خبر دهیم
3- موتور اتومبیل حادثه دیده را خاموش کنیم و با افراد صحبت کنیم و آنها آرام کنیم و نیروهای امدادی را خبر کنیم	4- محل حادثه را فوراً ترک کنیم
پاسخ صحیح : 3	

233 (در صورت تغییر محل سکونت مالک وسیله نقلیه باید...	
1- آدرس محل جدید را ظرف 48 ساعت به نیروی انتظامی اطلاع دهد	2- آدرس محل جدید را ظرف یک هفته به نیروی انتظامی اعلام نماید
3- وسیله نقلیه را بفروشد	4- اقدام خاصی لازم نیست انجام بدهد
پاسخ صحیح : 1	

234 (خطوط پر و مقطع وسط بعضی از خیابانها دارای چه مفهومی است ؟	
1- تقسیم راه به دو قسمت برای عبور دو طرفه	2- تقسیم راه به یک قسمت یک طرفه
3- تقسیم راه به سه قسمت برای عبور دو طرفه	4- تقسیم راه برای جداکننده
پاسخ صحیح : 1	

235 (هنگام پارک اتومبیل در کنار خیابان حق تقدم با وسیله نقلیه ای است که...	
1- زودتر رسیده باشد	2- با حرکت به جلو مشغول پارک کردن است
3- ضمن حرکت به عقب مشغول پارک کردن است	4- وسیله ای که بزرگتر است
پاسخ صحیح : 4	

236 (دور زدن از چه فاصله ای مانده به پیچها و سربالاییها ممنوع است؟
--

1- 50 متری	2- 100 متری
3- 130 متری	4- 150 متری
پاسخ صحیح : 4	

237) حداقل فاصله ای که رانندگان وسایل نقلیه بایستی بتوانند اشیاء و اشخاص مقابل را بوضوح مشاهده کنند چقدر است؟	
1- 100 متری	2- 150 متری
3- 200 متری	4- 250 متری
پاسخ صحیح : 2	

238) صدای بوق وسیله نقلیه حداقل بایستی از چه فاصله ای شنیده شود؟	
1- 90 متری	2- 80 متری
3- 70 متری	4- 60 متری
پاسخ صحیح : 3	

239) حداقل فاصله ای را که رانندگان وسایل نقلیه بایستی از طریق آئینه ها پشت سرشان را رؤیت کنند چقدر است؟	
1- 50 متر	2- 70 متر
3- 90 متر	4- 110 متر
پاسخ صحیح : 2	

240) در صورتی که لاستیک اتومبیل صاف باشد باعث می شود که هنگام ترمز کردن...	
1- اتومبیل فوراً متوقف شود	2- اتومبیل به موقع توقف ننموده و باعث تصادف میگردد
3- تاثیری در کیفیت توقف ندارد	4- هیچکدام
پاسخ صحیح : 2	

241) برای سبقت گرفتن در روز چگونه باید عمل کرد؟	
1- با چند بوق زدن کوتاه	2- با چراغ زدن
3- با حرکت دست	4- با زدن راهنما
پاسخ صحیح : 1	