

# نمونه سوالات آیین نامه



بسته شماره: ۴

ارائه شده توسط وب سایت تست درایو

[WWW.TEST-DRIVE.IR](http://WWW.TEST-DRIVE.IR)





۱- در برخورد راه اصلی با راه فرعی حق تقدم عبور با وسیله ای است که ... ؟

(۱) از راه اصلی عبور می کند. ✓

(۲) از راه فرعی عبور می کند.

(۳) به سمت راست گردش می کند.

(۴) در طرف راست وسیله نقلیه دیگر قرار دارد.

۲- علائم هشدار دهنده برای خطر به چه شکلی ترسیم می گردند؟

(۱) هشت گوشه

(۲) دایره ای

(۳) لوزی شکل

(۴) مثلث ✓

۳- در راه های شیب دار کوهستانی که در آنها عبور دو وسیله نقلیه کنار

هم مشکل می باشد، حق تقدم عبور با کدام است؟

(۱) وسیله نقلیه ای که در سرازیری در حال حرکت است.

(۲) حق تقدم با وسیله نقلیه سبک می باشد

(۳) وسیله نقلیه ای که در سربالایی در حال حرکت است. ✓

(۴) حق تقدم با وسایل نقلیه سنگین است.

۴- علائم اخباری برای گرفتن سبقت در شب کدام مورد است؟

(۱) تعویض نور چراغ بالا به پایین ✓

(۲) بوق کوتاه و چراغ راهنما

(۳) اشاره با دست

(۴) افزایش سرعت و تبدیل متناوب نور

۵- حداکثر سرعت در بزرگراه های واقع در شهر ها و مناطق مسکونی

چند کیلومتر در ساعت است؟

(۱) ۱۰۰ ✓

(۲) ۱۲۰

(۳) ۱۱۰

(۴) ۱۲۵

۶- در معابر محلی حداکثر سرعت چند کیلومتر در ساعت می باشد؟

(۱) ۴۰

(۲) ۵۰

(۳) ۴۵

(۴) ۳۰ ✓

۷- در هنگام روبرو شدن با وسیله نقلیه ای که از جهت مخالف حرکت

می کند، برای افزایش ایمنی تردد از چه فاصله ای باید چراغ نور پایین

استفاده نمود؟

(۱) ۱۵۰ متری ✓

(۲) ۵۰ متری

(۳) ۱۰۰ متری

(۴) ۷۵ متری

۸- کدام مورد زیر از مصادیق رانندگی پرخطر و پرخطرانه است؟

(۱) رانندگی بین خطوط

(۲) توقف پشت خط ایست

(۳) رعایت فاصله طولی

(۴) مانور و تغییر مسیر به طور مکرر ✓

۹- از جمله احتیاط های لازم در هنگام وقوع تصادفات انجام کدامیک از موارد زیر اشتباه است؟

- (۱) روشن نگه داشتن خودرو حتی در صورتی که خودرو قابلیت حرکت ندارد. ✓
- (۲) هشدار توسط افراد به دیگر رانندگان تا سرعت خودرو را کاهش دهند.
- (۳) استفاده از تابلوهای اعلام خطر
- (۴) تذکر جهت روشن نکردن سیگار در صورت آسیب باک سوخت خودرو ها

۱۰- یکی از عوامل اصلی حوادث جاده ای مرگ و میر در گروه سنی زیر ۴۰ سال در کشور ایران چه چیزی می باشد؟

- (۱) رعایت قوانین و مقررات
- (۲) رعایت سرعت مطمئنه
- (۳) رعایت اصول ایمنی
- (۴) بی توجهی به فرهنگ رانندگی و عدم رعایت قوانین و مقررات ✓

۱۱- به مجموع رفتارهای منفی در رانندگی چه می گویند؟

- (۱) رانندگی مطمئنه
- (۲) رانندگی ایمن
- (۳) رانندگی خطر ساز و یا رانندگی تهاجمی ✓
- (۴) فرهنگ رانندگی

۱۲- وظیفه کنیستر در خودرو چیست؟

- (۱) از تبخیر روغن موتور جلوگیری می کند.
- (۲) عمر باتری را طولانی می کند.
- (۳) از تبخیر آب رادیاتور جلوگیری می کند.
- (۴) از ورود بخار های بنزین به فضای آزاد جلوگیری می کند. ✓

۱۳- میزان کارایی روغن های معمولی موتور چند کیلومتر می باشد؟

- (۱) در حدود ۸ تا ۱۰ هزار کیلومتر ✓
- (۲) در حدود ۸۰ تا ۱۰۰ هزار کیلومتر
- (۳) در حدود ۲ هزار کیلومتر
- (۴) هزار کیلومتر

۱۴- در ارزیابی مصدومین کدامیک از مصدومین را باید در اولویت انجام کمک های اولیه قرار داد؟

- (۱) مصدومینی که آسیب های آنها کم تر است.
- (۲) کودکان در اولویت انجام کمک های اولیه هستند.
- (۳) مصدومینی که از سن بالاتری نسبت به سایر مصدومین برخوردارند.
- (۴) مصدومینی که آسیب آنها بسیار شدید است نظیر سوختگی ها یا زخم های وسیع. ✓

۱۵- اگر خودرویی با نور بالا از روبرو به شما نزدیک شود چه باید بکنید؟

- (۱) باید سرعت را افزایش داده و سریع از کنار آن عبور کرد.
- (۲) باید با تبدیل نور پایین به نور بالا و بوق ممتد او را متوجه نمود که نور پایین استفاده کند.
- (۳) باید سرعت را کاهش داده و به سمت چپ جاده نگاه کرد.
- (۴) سرعت را کاهش داده و به سمت راست جاده نگاه کرده و با کنار چشم حرکت خودروی مقابل را تحت نظر داشت. ✓

۱۶- کدام یک از موارد زیر جزو رفتار ناهنجار اجتماعی و ناپسند نمی باشد؟

- (۱) نصب بوق های گوش خراش
- (۲) رانندگی با سرعت مجاز ✓
- (۳) نصب سیستم های صوتی پر قدرت
- (۴) استفاده از لامپ های غیر مجاز

۱۷- به منظور جلوگیری از آسیب رسی به بخش های موتور تسمه تایم پس از طی چه مسافتی بایستی تعویض شود؟

(۱) بین ۱۰ تا ۱۵ هزار کیلومتر

(۲) بین ۶۰ تا ۹۰ هزار کیلومتر ✓

(۳) با هر بار تعویض روغن

(۴) هر ۵ هزار کیلومتر

۱۸- از زمانی که راننده تشخیص می دهد نیاز به توقف دارد تا لحظه به کار گرفتن ترمز های چه نام دارد؟

(۱) مسافت توقف

(۲) مسافت ترمز

(۳) زمان واکنش ✓

(۴) زمان ترمز

۱۹- توقف و یا ایستادن در کدامیک از محل های زیر مجاز است؟

(۱) گذرگاه پیاده

(۲) پیاده رو

(۳) کنار وسایل نقلیه ای که خود متوقف می باشد.

(۴) محدوده پارک آزاد ✓

۲۰- در کدامیک از موارد زیر بوق زدن مجاز است؟

(۱) صدا زدن افراد

(۲) سبقت مجاز در روز ✓

(۳) اعلام حضور و باز کردن در منزل

(۴) خداحافظی

۲۱- این تابلو بیانگر چیست؟

(۱) رعایت حق تقدم

(۲) به تابلوی رعایت حق تقدم نزدیک می شوید. ✓

(۳) به تابلو ایست نزدیک می شوید.

(۴) تقاطع فرعی و اصلی



۲۲- نام این تابلو چیست؟

(۱) عبور دوچرخه ممنوع

(۲) عبور موتور گازی ممنوع

(۳) فقط عبور دوچرخه

(۴) عبور دوچرخه سوار ✓



۲۳- نام این تابلو چیست؟

(۱) آزاد راه

(۲) پایان آزاد راه ✓

(۳) پل متحرک

(۴) شانه خطرناک



۲۴- نام این تابلو چیست؟

(۱) حداقل سرعت ۶۰ کیلومتر

(۲) رعایت فاصله کم تر از ۶۰ متر ممنوع

(۳) سرعت بیش از ۶۰ کیلومتر بر ساعت ممنوع

(۴) سرعت توصیه شده ✓



۲۵- کدام تابلو مربوط به پارکینگ می باشد؟



۲۶- نام این تابلو چیست؟



- ✓ (۱) چاله
- (۲) راه لغزنده
- (۳) دست انداز
- (۴) شانه خطرناک

۲۷- نام این تابلو چیست؟



- (۱) پیچ های پی در پی
- (۲) شانه خطرناک
- ✓ (۳) راه لغزنده
- (۴) راه از راست باریک می شود

۲۸- این تابلو بیان گر چیست؟



- ✓ (۱) دور زدن ممنوع
- (۲) گردش به چپ ممنوع
- (۳) پیچ های پی در پی
- (۴) پیچ به چپ

۲۹- این تابلو بیان گر چیست؟



- (۱) ورود ممنوع
- (۲) رعایت حق تقدم
- ✓ (۳) خیابان اصلی
- (۴) عبور کلیه وسایل نقلیه ممنوع

۳۰- نام این تابلو چیست؟



- ✓ (۱) پرتاب سنگ
- (۲) ریزش سنگ
- (۳) شانه خطرناک
- (۴) دست انداز



- ۱- در راه های مسطح که دو طرف راه منتهی به کوه و پرتگاه می باشد حق تقدم عبور با وسیله نقلیه ای است که ... ؟
- (۱) در طرف کوه قرار دارد.
- (۲) سرعت بالاتری دارد.
- (۳) در طرف پرتگاه قرار دارد. ✓
- (۴) سرعت کم تری دارد.

- ۲- در محل توقف (پارک) کنار خیابان حق تقدم با وسیله نقلیه ای است که ... ؟
- (۱) وابسته به سازمان های دولتی است.
- (۲) مستقیم و در مسیر مجاز حرکت می نماید.
- (۳) ضمن حرکت به عقب مشغول توقف یا پارک کردن است. ✓
- (۴) ابعاد بزرگتری دارد.

- ۳- در چند متری ورودی تونل ها سبقت گرفتن ممنوع است؟
- (۱) ۱۸۰ متری
- (۲) ۱۵۰ متری
- (۳) ۲۰۰ متری
- (۴) ۱۰۰ متری ✓

- ۴- چند متر بعد از تونل و پل ها سبقت آزاد است؟
- (الف) ۵۰ متری
- (۲) سبقت از انتهای آنها مجاز است ✓
- (۳) ۱۰۰ متری
- (۴) ۷۰ متری

- ۵- در بزرگراه های بیرون شهر، حداکثر سرعت مجاز برای انواع وانت بار چند کیلومتر در ساعت است؟
- (۱) ۱۲۰
- (۲) ۱۲۵
- (۳) ۱۱۰ ✓
- (۴) ۱۳۰

- ۶- حداکثر میزان سرعت مجاز در بزرگراه های بیرون شهری برای سواری چند کیلومتر در ساعت است؟
- (۱) ۸۵ کیلومتر در ساعت
- (۲) ۹۵ کیلومتر در ساعت
- (۳) ۱۲۵ کیلومتر در ساعت
- (۴) ۱۱۰ کیلومتر در ساعت ✓

- ۷- استفاده از چراغ های رنگارنگ و چشمک زن در وسایل نقلیه ... ؟
- (۱) ممنوع است مگر با اخذ مجوز از مراجع ذیصلاح ✓
- (۲) مجاز است.
- (۳) محدودیتی ندارد.
- (۴) در معابر شهری ممنوع نیست.

- ۸- تا چه فاصله ای از تقاطع ها و میادین توقف وسایل نقلیه ممنوع است؟
- (۱) ۲۰ متری
- (۲) ۱۵ متری ✓
- (۳) ۳۰ متری
- (۴) ۲۵ متری



- ۹- کدامیک از پاسخ های زیر در خصوص نقص در سیستم جلو بندی و یا شکستگی آن صحیح می باشد؟
- (۱) تایرهای عقب خودرو ساییده می شود.
- (۲) مصرف سوخت افزایش می یابد.
- (۳) هدایت و کنترل خودرو از دست راننده خارج میگردد. ✓
- (۴) رادیاتور خودرو جوش می آورد.

- ۱۰- کدام یک از موارد زیر در خصوص عبور از روی خط آهن است؟
- (۱) در حین عبور از خط آهن بایستی دنده خودرو را از دنده سبک به دنده سنگین تغییر داد.
- (۲) در حین عبور از خط آهن می بایستی از تعویض دنده خودداری نمود. ✓
- (۳) در حین عبور از خط آهن دنده خودرو را از دنده سنگین به دنده سبک تغییر داد.
- (۴) قبل از رسیدن به خط آهن باید سرعت را افزایش داده و با سرعت از خط آهن عبور نمود.

- ۱۱ - هرگاه دارنده گواهینامه رانندگی یکی از شرایط پزشکی مربوط برای رانندگی را از دست بدهد بایستی ... ؟
- (۱) با همان وضعیت به رانندگی ادامه دهد.
- (۲) ظرف مدت یک ماه به راهنمایی و رانندگی مراجعه نماید. ✓
- (۳) به آن توجهی ننماید.
- (۴) به درمانگاه مراجعه نماید.

- ۱۲- در گذرگاه پیاده که فاقد چراغ راهنمایی و رانندگی است حق تقدم عبور با کدام است؟
- (۱) وسیله نقلیه در حال حرکت
- (۲) پیادگان ✓
- (۳) وسیله نقلیه در حال گردش
- (۴) وسیله نقلیه که متوقف شده است.

- ۱۳- یکی از علت های نقض قوانین و مقررات و بی احترامی به سایر رانندگان و انجام اقدامات حادثه ساز توسط راننده کدام مورد میباشد؟
- (۱) داشتن خودروی ایمنی
- (۲) وقت شناس نبودن و عدم برنامه ریزی مناسب برای رسیدن به مقصد
- (۳) از مهارت و تجربه کافی در رانندگی برخوردار است.
- (۴) راننده در زمان خلوتی معابر میتواند قوانین و مقررات را نقض و اقدامات حادثه ساز انجام دهد. ✓

- ۱۴- کدام مورد زیر از مصادیق حقوق شهروندی در حین رانندگی است؟
- (۱) حرکت با سرعت غیر مجاز
- (۲) حرکت غیر ایمن
- (۳) حرکت مارپیچ در رانندگی
- (۴) حرکت بین خطوط ترافیک ✓

- ۱۵- یکی از راه های کاهش مصرف سوخت کدام است؟
- (۱) حرکت با سرعت زیاد
- (۲) عدم تنظیم موتور
- (۳) تنظیم باد تایرها ✓
- (۴) باز کردن ترموستات خودرو در تابستان

- ۱۶- برای راه اندازی خودرو راننده در چه مرحله ای بایستی کمربند ایمنی را ببندد؟
- (۱) در حین حرکت
- (۲) پس از روشن کردن موتور خودرو ✓
- (۳) قبل از روشن کردن موتور خودرو
- (۴) نیازی به بستن کمربند ایمنی نمی باشد.



۱۷- کدام قطعه از ورود گرد و غبار به داخل موتور جلوگیری می کند؟

(۱) انژکتور

(۲) صافی بنزین

(۳) صافی هوا ✓

(۴) پروانه

۱۸- یکی از مزیت های ترمز های ضد قفل ABS عبارت است از ...

(۱) در هنگام ترمز گیری از قفل شدن درهای خودرو جلوگیری می کند.

(۲) در هنگام ترمز گیری مسافت توقف خودرو را افزایش می دهد.

(۳) در هنگام ترمز گیری موجب سر خوردن وسیله نقلیه می شود.

(۴) در هنگام ترمز گیری امکان فرمان دادن و هدایت بهتر خودرو را

می دهد. ✓

۱۹- تا چند متری ورودی و خروجی مراکز فوریت های پزشکی ایستادن

وسایل نقلیه ممنوع است؟

(۱) ۱۵۰ متری

(۲) ۲۰ متری

(۳) ۱۵ متری ✓

(۴) محدودیتی ندارد.

۲۰- در هنگام پارک در سربالایی و در راه بدون جدول، فرمان وسیله

نقلیه باید به کدام سمت چرخانده شود؟

(۱) سمت چپ

(۲) تفاوتی ندارد.

(۳) سمت راست ✓

(۴) مخالف عقربه ساعت

۲۱- این تابلو بیان گر چیست؟

(۱) جهت عبور در میدان

(۲) رعایت حق تقدم

(۳) به تابلوی ایست نزدیک می شوید. ✓

(۴) به میدان نزدیک می شوید.



۲۲- نام این تابلو چیست؟

(۱) راه از چپ باریک می شود. ✓

(۲) پیچ به راست

(۳) جاده باریک می شود.

(۴) خطر



۲۳- این تابلو بیان گر چیست؟

(۱) شروع محل پیاده روی

(۲) شیب سربالایی ۱۰ درصد

(۳) زیر گذر یا رو گذر ✓

(۴) گذرگاه پیاده



۲۴- نام این تابلو چیست؟

(۱) تونل

(۲) ورود به شهر


(۳) پایان شهر

(۴) پایان تونل ✓





۲۵- کدام تابلو بیان گر (خط عبور برای گریز) میباشد؟



۲۶- این تابلو بیان گر چیست؟



- (۱) ایست ✓
- (۲) ایستادن ممنوع
- (۳) عبور وسایل نقلیه موتور ممنوع
- (۴) سبقت ممنوع

۲۷- این تابلو بیان گر چیست؟



- (۱) پیچ به چپ
- (۲) پیچ به راست
- (۳) گردش به چپ ممنوع
- (۴) گردش به راست ممنوع ✓

۳۰- نام این تابلو چیست؟



- (۱) ریزش سنگ ✓
- (۲) پرتاب سنگ
- (۳) راه لغزنده
- (۴) جاده باریک می شود.

۲۹- نام این تابلو چیست؟



- (۱) تونل
- (۲) تقاطع ✓
- (۳) بن بست
- (۴) پایان آزاد راه



۱- حرکت کردن از روی خطوط هاشور در حاشیه راه ها که معمولاً کناره اتوبان ها ، آزاد راه ها ، بزرگراه ها و تونل ها کشیده می شوند... ؟  
(۱) مجاز است.

(۲) در شب ها مجاز است.

(۳) در صورت ترافیک سنگین مجاز است.

(۴) ممنوع است. ✓

۲- در راه هایی که مسیر حرکت وسایل نقلیه به علت وجود موانع ثابت اعم از وسایل نقلیه پارک شده، مصالح ساختمانی، اشیاء، عملیات عمرانی، حفاری و خرابی راه بسته و یا برای عبور از مسیر مجاز کافی نباشد، حق تقدم عبور با وسیله ای است که ... ؟

(۱) به مسیر راست گردش می کند.

(۲) مسیر عبور آنها باز یا سهم عبور بیشتری را دارا می باشد. ✓

(۳) به طور مستقیم و در سمت و مسیر مجاز حرکت می کند.

(۴) مسیر عبور آنها بسته یا سهم کم تری را دارا می باشد.



۳- سبقت از طرف راست وسیله نقلیه ای که در حال گردش به چپ می باشد .... ؟

(۱) فقط در معابر شریانی درجه دو ممنوع است.

(۲) ممنوع است.

(۳) در هنگام روز مجاز است.

(۴) مجاز است. ✓

۴- رانندگان کلیه وسایل نقلیه موظفند از کدام خط عبور راه حرکت نمایند؟

(۱) خط وسط

(۲) سمت راست. ✓

(۳) سمت چپ

(۴) خط زیگزاگ



۵- کدامیک از موارد زیر توسط راننده مجاز است؟

(۱) ریختن زباله از داخل خودرو به بیرون

(۲) حرکات نمایشی و دور زدن در جا

(۳) پرتاب آب دهان به بیرون

(۴) بستن دو عدد چراغ ویژه مه با نور زرد در دو طرف قسمت جلوی خودرو. ✓

۶- حداکثر میزان سرعت مجاز در بزرگراه های بیرون شهری برای سواری

چند کیلومتر در ساعت است؟

(۱) ۱۰۰ کیلومتر در ساعت

(۲) ۱۱۰ کیلومتر در ساعت. ✓

(۳) ۹۵ کیلومتر در ساعت

(۴) ۸۵ کیلومتر در ساعت



۷- کدام یک از موارد زیر صحیح می باشد؟

(۱) باز کردن درهای وسیله نقلیه پیش از توقف کامل مجاز نیست. ✓

(۲) عبور وسایل نقلیه از پیاده رو ها مجاز است.

(۳) اجازه رانندگی به شخص فاقد گواهینامه مجاز است.

(۴) توقف در ۱۰ متری ورودی بیمارستان ها مجاز است.

۸- دور زدن تا چه فاصله ای از پیچ ها که میدان دید کافی ندارند ممنوع است؟

(۱) ۲۵۰ متری

(۲) ۲۰۰ متری

(۳) ۳۰۰ متری

(۴) ۱۵۰ متری. ✓



۹- استفاده از لاستیک های فرسوده و غیر استاندارد در وسایل نقلیه چگونه است؟

(۱) مجاز است.

(۲) ممنوع است. ✓

(۳) در صورت ضرورت بلامانع است.

(۴) در تابستان بلامانع است.

۱۰- برای گردش به چپ در راه های بیرون شهر که منحصر به دو خط عبور رفت و برگشت بوده و مانع فیزیکی وسط جاده نداشته باشد، رانندگان موظفند وسیله نقلیه را ... ؟

(۱) در وسط راه متوقف و با علامت دادن به سایرین گردش نمایند.

(۲) راهنمای سمت چپ را روشن و گردش نمایند.

(۳) در شانه راه و یا منتهی الیه سمت راست راه متوقف و سپس با رعایت حق تقدم گردش نمایند. ✓

(۴) در وسط راه یا زدن راهنما به سمت چپ گردش نمایند.



۱۱- ترمز دستی به نام ترمز ABS و ترمز پایی به نام ترمز ... یا ترمز سرویس شناخته می شود.

(۱) اولیه - ثانویه

(۲) ثانویه - اولیه ✓

(۳) قدرتی - سرعتی

(۴) سرعتی - قدرتی

۱۲- حرکت در پوشش وسایل نقلیه امدادی در حال مأموریت برای سایر وسایل نقلیه چگونه است؟

(۱) مجاز است.

(۲) محدودیتی ندارد.

(۳) در صورت رعایت ایمنی مجاز است.

(۴) ممنوع است. ✓



۱۳- در صورتی که خودرو جوش آورده چه اقدامی بایستی انجام داد؟

(۱) در کنار راه متوقف و در رادیاتور را باز کرده و داخل آن آب اضافه نماییم.

(۲) به مسیر خود ادامه داده و خودرو را به اولین تعمیرگاه انتقال دهیم.

(۳) در کنار راه توقف و به هیچ وجه در رادیاتور را باز نکنید و با احتیاط مقداری آب بر روی رادیاتور بریزید. ✓

(۴) خودرو را در حین حرکت خاموش تا رادیاتور خنک شود.

۱۴- کدامیک از موارد زیر جان فرد را به خطر می اندازد؟

(۱) فقدان تنفس ✓

(۲) بالا بودن درجه حرارت بدن

(۳) داشتن ضربان قلب

(۴) خراشیدگی پوس



۱۵- رانندگی هر فرد نشان دهنده چه چیزی میباشد؟

(۱) میزان سواد

(۲) شخصیت و درک اجتماعی ✓

(۳) میزان ثروت

(۴) معروف بودن

۱۶- کدام مورد نمونه ای از رفتار پرخطر هنگام رانندگی است؟

(۱) حرکت بین خطوط

(۲) توجه به جلو

(۳) رعایت فاصله طولی

(۴) استفاده از تلفن همراه ✓

۱۷- کدام مورد زیر منظور و مفهوم رانندگی با سرعت مطمئنه است؟

۱) رانندگی بر اساس شرایط محیطی و جاده ای ✓

۲) رانندگی با سرعت های بالا

۳) رانندگی با سرعت های پایین

۴) رانندگی در ساعات روز

۱۸- راه هایی که مسیر حرکت وسایل نقلیه به علت وجود موانع ثابت

مانند وسایل نقلیه پارک شده ، مصالح ساختمانی بسته یا برای عبور از

مسیر مجاز کافی نباشد حق تقدم عبور با کیست؟

۱) وسایل نقلیه ای که دارای عرض بیشتری میباشند.

۲) وسایل نقلیه ای که مسیر عبور آنها باز یا سهم بیشتری را دارا باشند. ✓

۳) وسایل نقلیه ای که سرعت بیشتری دارند.

۴) نیازی به رعایت حق تقدم عبور نبوده و هر وسیله ✓

۱۹- در کدام مورد زیر سبقت گرفتن ممنوع است؟

۱) ۲۰۰ متری سربالایی

۲) ۲۰۰ متری پیچ ها

۳) بر روی خط ممتد ✓

۴) ۲۰۰ متری تونل ها

۲۰- خستگی و خواب آلودگی راننده چه تاثیری بر رانندگی وی دارد؟

۱) افزایش توجه به رانندگی

۲) افزایش سرعت تصمیم گیری در هنگام بروز خطر

۳) شناسایی صحیح وضعیت رانندگی سایر رانندگان

۴) کاهش سطح هوشیاری و سرعت واکنش فرد ✓

۲۱- این تابلو بیان گر چیست؟

۱) تقاطع راه آهن با راه بند

۲) جهت وزش باد شدید از چپ

۳) جهت وزش باد شدید از راست ✓

۴) تقاطع راه آهن بدون راه بند

۲۲- این تابلو بیان گر چیست؟

۱) سربالایی خطرناک ✓

۲) شیب سربالایی ۱۰ درصد

۳) شیب سرازیری ۱۰ درصد

۴) خطر سقوط در آب



۲۳- نام این تابلو چیست؟

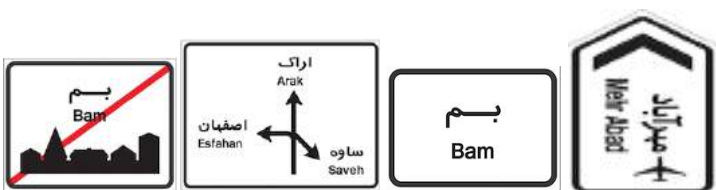
۱) تقاطع راه آهن با راه بند

۲) خطر سقوط در آب

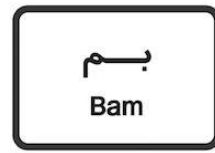
۳) راه لغزنده

۴) پل متحرک ✓

۲۴- کدامیک از تابلوهای زیر (ورود به شهر) میباشد؟



۲۵- نام کدام تابلو (راهنمای مسیر) می باشد؟



۲۶- این تابلو بیان گر چیست؟

(۱) بسته بودن یکی از خطوط عبور

(۲) بن بست

(۳) سمت راست بن بست

(۴) خط عبور برای گریز



۲۸- این تابلو بیان گر چیست؟

(۱) عبور با عرض بیش از ۲ متر ممنوع

(۲) عبور با بار بیش از ۲ تن بر هر محور ممنوع

(۳) عبور وسایل نقلیه با وزن بیش از ۲ تن ممنوع

(۴) عبور با ارتفاع بیش از ۲ متر ممنوع



۲۷- این تابلو بیانگر چیست؟

(۱) ایستادن ممنوع

(۲) محل پارک کردن

(۳) ورود ممنوع

(۴) ایست



۳۰- این تابلو بیان گر چیست؟

(۱) حق تقدم عبور با تاکسی

(۲) حق تقدم عبور با شما

(۳) راه دو طرفه

(۴) حق تقدم عبور با وسیله نقلیه مقابل



۲۹- این تابلو بیان گر چیست؟

(۱) رعایت فاصله بیشتر از ۷۰ متر ممنوع

(۲) رعایت فاصله کم تر از ۷۰ متر ممنوع

(۳) سرعت بیش از ۷۰ کیلومتر بر ساعت ممنوع

(۴) سرعت کم تر از ۷۰ کیلومتر بر ساعت ممنوع



۱- در سه راه ها حق تقدم عبور با وسیله نقلیه ای است که ... ؟

(۱) سریع تر از وسیله نقلیه دیگر حرکت می کند.

(۲) به چپ گردش می کند

(۳) به راست گردش می کند

(۴) به طور مستقیم و در سمت و مسیر مجاز حرکت میکند. ✓

۲- در تقاطع هم عرض اگر دو وسیله نقلیه ای که روبروی یکدیگر در حرکتند بخواهند باهم وارد خیابان مجاور واحدی شوند حق تقدم عبور با وسیله نقلیه ای است که ... ؟

(۱) به سمت راست گردش می کند. ✓

(۲) به سمت چپ گردش می کند.

(۳) وابسته به سازمان های دولتی است.

(۴) ابعاد بزرگ تری دارد.

۳- علائم اخباری برای گرفتن سبقت در روز کدام مورد است؟

(۱) تعویض نور چراغ بالا و پایین

(۲) بوق کوتاه و چراغ راهنما ✓

(۳) اشاره با دست

(۴) بوق مکرر و ممتد

۴- در چند متری ورودی تونل ها ، سبقت گرفتن ممنوع است؟

(۱) ۱۲۰ متری

(۲) ۱۵۰ متری

(۳) ۱۰۰ متری ✓

(۴) ۲۰۰ متری

۵- میزان سرعت مجاز در آزاد راه ها و بزرگراه ها چگونه تعیین می شود؟

(۱) بر اساس فصول سال

(۲) بر اساس میزان سرعت خودرو

(۳) بر اساس مهارت راننده

(۴) بر اساس تابلوهای نصب شده ✓

۶- حداکثر سرعت در میدان ها چند کیلومتر در ساعت است؟

(۱) ۷۰ کیلومتر در ساعت

(۲) ۵۰ کیلومتر در ساعت

(۳) ۳۰ کیلومتر در ساعت ✓

(۴) ۶۰ کیلومتر در ساعت

۷- در کدام موارد زیر توقف مجاز است؟

(۱) روی پل

(۲) درون تونل ها

(۳) معابر در ارتفاع

(۴) ۲۰ متری میادین ✓

۸- کدامیک از موارد زیر در خصوص تبدیل نور بالا به پایین اشتباه است؟

(۱) زمانی که فاصله خودرویی که از روبرو به شما نزدیک میشود ۱۵۰ متر یا کمتر باشند نور بالا را به نور پایین تبدیل کنید.

(۲) زمانی که فاصله شما با خودرویی که در جلوی شما در حرکت است ۱۵۰ متر یا کمتر است.

(۳) زمانی که خودرویی از روبرو به شما نزدیک میشود، نور بالا را به نور پایین تبدیل کنید.

(۴) زمانی که خودرویی در پشت شما حرکت می کند، نور بالا را به نور پایین تبدیل کنید. ✓



۹- دور زدن از چه فاصله ای از تونل ها که دید کافی و ایمنی لازم را ندارد،

ممنوع است؟

(۱) ۲۵۰ متری

(۲) ۱۵۰ متری ✓

(۳) ۲۰۰ متری

(۴) ۳۰۰ متری

۱۰- تابلوهای منع کننده با چه رنگی نشان داده تابلو چیست؟

(۱) زرد فسفری

(۲) قهوه ای تیره

(۳) نارنجی

(۴) قرمز ✓

۱۱- نام این می شوند؟

(۱) ورود ممنوع

(۲) ورود از هر دو طرف ممنوع ✓

(۳) راه باز است

(۴) عبور ممنوع



۱۲- نام این تابلو چیست؟

(۱) عبور عابر پیاده

(۲) گذرگاه عابر پیاده

(۳) عبور اطفال ✓

(۴) عبور پیادگان



۱۳- نام این تابلو چیست؟

(۱) استراحتگاه

(۲) جایگاه سوخت

(۳) تعمیرگاه ✓

(۴) پست امدادی



۱۴- نام این تابلو چیست؟

(۱) ورود به شهر

(۲) ابتدای منطقه مسکونی ✓

(۳) ابتدای شهر

(۴) پایان شهر



۱۵- این تابلو بیان گر چیست؟

(۱) پارکینگ

(۲) پارک سوار

(۳) محدوده توقف ممنوع در طول شبانه روز

(۴) محدوده پارک آزاد ✓



۱۶- این تابلو بیان گر چیست؟

(۱) عابر پیاده

(۲) عبور عابر پیاده

(۳) گذرگاه

(۴) عبور پیاده ممنوع ✓



۱۷- این تابلو بیانگر چیست؟

(۱) حق تقدم عبور با شما

(۲) حق تقدم عبور با وسیله نقلیه مقابل ✓

(۳) راه سمت چپ مسدود است.

(۴) خیابان دو طرفه



۱۸- نام این تابلو چیست؟

(۱) پایان سبقت ممنوع

(۲) توقف ممنوع

(۳) پایان تمام محدودیت ها ✓

(۴) تقاطع با راه آهن



۱۹- نام این تابلو چیست؟

(۱) پیچ به راست

(۲) پیچ به چپ ✓

(۳) گردش به راست ممنوع

(۴) گردش به چپ ممنوع



۲۰- کدام گزینه در مورد ضد یخ صحیح می باشد؟

(۱) بهتر است کل مخزن رادیاتور به جای آب از ضد یخ پر شود.

(۲) عدم استفاده از ضد یخ در تابستان می تواند منجر به جوش آوردن

زودتر موتور شود. ✓

(۳) ضد یخ در جلوگیری از زنگ زدگی رادیاتور و قطعات سیستم خنک

کاری موثر نیست.

(۴) مایع ضد یخ از یخ زدگی آب در سرما جلوگیری نمیکند.

۲۱- نام این تابلو چیست؟

(۱) ورود ممنوع ✓

(۲) راه مسدود است.

(۳) ورود از هر دو طرف ممنوع

(۴) توقف ممنوع



۲۲- سطح روغن موتور را با چه وسیله ای میتوان کنترل نمود؟

(۱) سطح روغن (گیج روغن) ✓

(۲) در مخزن روغن

(۳) فیلتر روغن

(۴) پمپ روغن

۲۴- کدامیک از موارد زیر در خصوص ایمن کردن صحنه حادثه می باشد؟

(۱) پارک خودرو در فاصله مناسب - کشیدن چند نفس عمیق و آرام

(۲) مطمئن شدن از اینکه خطری شما را تهدید نمی کند - پارک خودرو در

فاصله مناسب - استفاده از تابلوی اعلام خطر ✓

(۳) استفاده از تابلو اعلام خطر - گرفتن شرح و حال از مصدومین -

کشیدن چند نفس آرام و عمیق

(۴) پارک خودرو در نزدیکی صحنه تصادف - بررسی وضعیت مصدومین

- دور کردن مصدوم

۲۳- در هنگام افزایش دمای موتور برای خنک شدن سریع موتور چه

اقدامی انجام می دهید؟

۱ (آب بر روی بلوک موتور می ریزیم.

۲) به طور متناوب ولی با احتیاط آب را بر روی موتور می ریزیم.

۳) با احتیاط فقط آب تصفیه شده بر روی بلوک موتور می ریزیم.

۴) با احتیاط مقداری آب بر روی رادیاتور میریزیم. ✓





۲۵- (( دیر رسیدن بهتر از هرگز نرسیدن است)) جمله چه مفهومی را می‌رساند؟

- ۱) پرهیز از عجله و شتاب در رانندگی ✓
- ۲) رعایت کردن قوانین مربوط به پارک
- ۳) عدم توجه به قوانین و مقررات
- ۴) با سرعت بالا حرکت کردن از صحنه حادثه

۲۶- کدام مورد نمونه ای از رفتار پر خطر هنگام رانندگی است؟

- ۱) حرکت بین خطوط
- ۲) استفاده از تلفن همراه ✓
- ۳) توجه به جلو
- ۴) رعایت فاصله طولی



۲۷- در کدامیک از سطوح زیر مسافت توقف افزایش می‌یابد؟

- ۱) آسفالت با شرایط مطلوب ولی خشک
- ۲) در جاده های سنگلاخ
- ۳) آسفالت با شرایط نامطلوب و آغشته به قیر ✓
- ۴) آسفالت زبر

۲۸- کدامیک از موارد زیر در حین رانندگی مجاز است؟

- ۱) استعمال دخانیات
- ۲) استفاده از تلفن همراه
- ۳) عدم تمرکز
- ۴) توجه کامل به جلو ✓



۲۹- چه هنگام می‌توان از ترمز دستی استفاده نمود؟

- ۱) هنگام توقف خودرو و یا در سرعت های بسیار پایین ✓
- ۲) تنها در سرعت های بالا
- ۳) در هر شرایطی
- ۴) هنگام حرکت در سرازیری ها یا سربالایی ها

۳۰- در صورت ترکیدن لاستیک جلوی اتومبیل باید ....؟

- ۱) به شدت ترمز کرد.
- ۲) فرمان را رها کرد.
- ۳) فرمان را محکم گرفته و به آرامی توقف کرد. ✓
- ۴) ۱ و ۲ صحیح است.



۱- این تابلو بیانگر چیست؟

(۱) تراکم ترافیک

(۲) میدان ✓

(۳) پیچ به چپ

(۴) جهت عبور در میدان



۳- این تابلو بیانگر چیست؟

(۱) سبقت ممنوع

(۲) راه لغزنده

(۳) توقف ممنوع

(۴) عبور سواری ممنوع ✓



۲- نام این تابلو چیست؟

(۱) عبور پیاده ممنوع

(۲) گذرگاه عابر پیاده ✓

(۳) عبور عابر پیاده

(۴) عبور اطفال



۴- این تابلو بیانگر چیست؟

(۱) جهت عبور در میدان

(۲) عبور از هر دو سمت مجاز ✓

(۳) عبور به چپ مجاز

(۴) عبور از سمت راست مجاز



۶- نام این تابلو چیست؟

(۱) عبور حیوانات اهلی

(۲) فقط عبور آهو

(۳) عبور حیوانات وحشی ✓

(۴) پایان منطقه مسکونی



۵- نام این تابلو چیست؟

(۱) شانه خطرناک ✓


(۲) راه لغزنده

(۳) پل متحرک

(۴) برآمدگی



۸- کدام تابلو بیان گر (کاهش خطوط عبور) میباشد؟



۷- نام این تابلو چیست؟

(۱) تقاطع با راه آهن

(۲) ورود ممنوع

(۳) توقف ممنوع

(۴) تقاطع ✓



۹- این تابلو بیان گر چیست؟

✓ (۱) فقط عبور پیاده

(۲) گذرگاه پیاده

(۳) عابر پیاده

(۴) عبور عابر پیاده و همراه



۱۰- نام این تابلو چیست؟

(۱) نظارت با دوربین پلیس

✓ (۲) طول محدوده خطر

(۳) طول ممنوعیت با محدودیت پارکینگ

(۴) حاشیه نمای دو طرفه



۱۱- بیشترین نوع آلودگی وسایل نقلیه موتور کدام است؟

(۱) آلودگی دیداری

(۲) آلودگی شنیداری

✓ (۳) آلودگی هوا

(۴) همه موارد

۱۲- فاصله مناسب از جدول هنگام پارک ... ؟

(۱) نیم متر از جلو - ۱ متر از عقب - ۴۰ سانتی متر از جدول

✓ (۲) ۱ متر از جلو - ۱ متر از عقب - ۴۵ سانتی متر از جدول

(۳) ۱ متر از جلو - نیم متر از عقب - ۴۵ سانتی متر از جدول

(۴) ۱ متر از جلو - ۱ متر از عقب - ۴۰ سانتی متر از جدول

۱۳- موثر ترین عضو بدن در رانندگی کدام است؟

(۱) پاها

✓ (۲) چشم ها

(۳) دست ها

(۴) قلب

۱۴- به هنگام رانندگی در طول روز در شرایط مه آلود چه کار باید انجام دهید؟

(۱) از نور بالا استفاده کنید.

✓ (۲) از نور پایین استفاده کنید.

(۳) چراغ بغل را روشن کنید.

(۴) چراغ راهنما را روشن کنید.

۱۵- تابلو های هشدار دهنده یا ... بیشتر به صورت ... با نوار حاشیه ...

رنگ و زمینه ... رنگ می باشد.

✓ (۱) خطاری - مثلث - قرمز - سفید

(۲) خطاری - مربع - قرمز - سفید

(۳) اخباری - دایره - قرمز - آبی

(۴) انتظامی - پنج ضلعی - قرمز - سفید

۱۶- در شرایط یخبندان مسافت توقف چند برابر افزایش می یابد؟

(۱) ۲ برابر

(۲) ۵ برابر

✓ (۳) ۱۰ برابر

(۴) ۱۲ برابر



۱۷- در زمان دیدن گیج روغن در چه حالت باید روغن تواند بین بررسی شود؟

(۱) سطح روغن از علامت روی گیج بالاتر باشد.

(۲) سطح روغن از علامت روی گیج پایین تر باشد.

(۳) سطح روغن بین علامت گیج باشد.

(۴) مورد الف و ب

۱۸- عمر تسمه تایم بسته به نوع خودرو ... می باشد؟

(۱) حدود ۵۰ تا ۱۰۰ هزار کیلومتر

(۲) حدود ۴۰ تا ۷۰ هزار کیلومتر

(۳) حدود ۶۰ تا ۹۰ هزار کیلومتر

(۴) هیچکدام



۱۹- محل تایر ها هر ... تعویض نمود تا تمام آنها به طور یکسان مورد

سایش قرار گیرند؟

(۱) هر ۵ هزار کیلومتر

(۲) هر ۱۰ هزار کیلومتر

(۳) هر ۱۵ هزار کیلومتر

(۴) هر ۲۰ هزار کیلومتر

۲۰- وضعیت باد تایرها هر چند وقت یکبار باید کنترل شود؟

(۱) هر ماه یکبار

(۲) هر سه ماه یکبار

(۳) یکبار در هفته

(۴) هر روز



۲۱- کدام مورد باعث ساییدگی نامتوازن یا ساییدگی بیش از حد تایرها می شود؟

(۱) عدم تنظیم فرمان

(۲) عدم تنظیم چرخ ها

(۳) عدم تنظیم ترمز ها

(۴) همه موارد

۲۲- فیلتر هوا توصیه می شود هر چند وقت یکبار تعویض گردد؟

(۱) هفته ای یکبار

(۲) ماهی یکبار

(۳) هر بار تعویض روغن

(۴) هر سال یکبار



۲۳- روغن جعبه دنده یا واسکازین هر چند کیلومتر نیاز به تعویض دارد؟

(۱) هر ۲۰ هزار کیلومتر

(۲) هر ۳۰ هزار کیلومتر

(۳) هر ۴۰ هزار کیلومتر

(۴) هر ۵۰ هزار کیلومتر

۲۴- در باتری های آبی میزان آب باتری چه موقع مورد بررسی قرار می گیرد؟

(۱) هر ۵ هزار کیلومتر

(۲) هر ۱۰ هزار کیلومتر

(۳) هر ۱۵ هزار کیلومتر

(۴) هر ۲۰ هزار کیلومتر



۲۵- این وسیله از ورود بخارهای بنزین به فضای آزاد جلوگیری می کند؟

- ✓ (۱) کنیستر
- (۲) کاتالیست
- (۳) فیلتر بنزین
- (۴) فیلتر روغن

۲۶- سطح آب مخزن توصیه می شود هرچند وقت یکبار کنترل شود؟

- (۱) روزی یکبار
- ✓ (۲) هفته ای یکبار
- (۳) یکبار در ماه
- (۴) کنترل نیاز نیست



۲۷- کنیستر هر چند وقت یکبار نیاز به تعویض دارد؟

- (۱) هر یکسال یک بار
  - (۲) هر ماه یکبار
  - (۳) هر هفته یکبار
  - ✓ (۴) هر دو سال یکبار
- (۱) ۲۰۰۰
  - (۲) ۳۰۰۰
  - (۳) ۴۰۰۰
  - ✓ (۴) ۵۰۰۰



۲۹- سیستم هدایت فرمان هر چند وقت یکبار باید کنترل شود؟

- (۱) هر ماه یکبار
- (۲) هر سه ماه یکبار
- ✓ (۳) هر شش ماه یکبار
- (۴) هر سال یکبار

۳۰- کدام مورد موجب ساییدگی نامتقارن چرخ ها می شود؟

- (۱) تنظیم نبودن ترمز ها
- (۲) تنظیم نبودن فرمان
- (۳) تنظیم نبودن چرخ ها
- ✓ (۴) همه موارد





۱- برای بهبود وضع ترافیک کدامیک از کارهای زیر را باید انجام داد؟

الف) رعایت قوانین مقررات عبور و مرور

ب) اطلاعات از فرامین پلیس

ج) رانندگی صحیح

د) همه موارد ✓

۲- آمادگی در رانندگی شامل چه مواردی است؟

الف) مهارت در رانندگی

ب) آگاهی داشتن از وضعیت رانندگی دیگران

ج) پیش بینی خطای دیگران

د) مشاهده، پیش بینی، تمرکز، آگاهی، عدم حواس پرتی ✓

۳- کدام گزینه در مورد حداقل فاصله طول ایمن با خودروی جلوئی در

شرایط برف صحیح نمی باشد؟

الف) به ازای هر ۱۵ کیلومتر ۳ طول اتومبیل

ب) به ازای هر ۳۰ کیلومتر ۶ طول اتومبیل

ج) به ازای هر ۴۵ کیلومتر ۹ طول اتومبیل

د) به ازای هر ۶۰ کیلومتر ۱۳ طول اتومبیل ✓

۴- در شکل زیر راننده اتومبیل قرمز رنگ چه کار باید بکند؟

الف) بوق زده تا دیگران بدانند کجا قرار دارد.

ب) به حرکت خود ادامه داده وسط تقاطع پشت ترافیک توقف کند.

ج) علی رغم داشتن حق تقدم و روشن بودن

چراغ سبز باید منتظر شود تا راه باز شود. ✓

د) به راننده اتومبیل سفید رنگ علامت

می دهد که حرکت کند.



۵- پس از سبقت چه زمان می بایست به خط اولیه بازگشت؟

الف) وقتی به اتومبیل مقابل نزدیک می شوید.

ب) هنگامی که از اتومبیلی که از آن سبقت می گرفتید گذشته باشید.

ج) زمانی که چراغ های بزرگ اتومبیلی را که از آن سبقت گرفته اید در

آینه داخل اتومبیل خود مشاهده نمایید. ✓

د) پس از زدن راهنما و اطمینان عبور از اتومبیل کناری.

۶- کدام گزینه به ترتیب اولویت صحیح می باشد؟

الف) چراغ راهنما - فرمان پلیس - تابلوها - خط کشی

ب) فرمان پلیس - چراغ راهنما - تابلوها - خط کشی ✓

ج) تابلوها - چراغ راهنما - خط کشی - فرمان پلیس

د) فرمان پلیس - تابلوها - خط کشی - چراغ راهنما

۷- در شرایط یخبندان مسافت توقف ممکن است چند برابر افزایش یابد؟

الف) ۱۰ برابر ✓

ب) ۲ برابر

ج) ۵ برابر

د) ۳ برابر

۸- تابلو به شکل مثلث متساوی الاضلاع نشسته روی قاعده برای .... می باشد؟

الف) رعایت حق تقدم

ب) هشدار دهنده برای خطر ✓

ج) ایست

د) بازدارنده

۹- حالت روحی و وضعیت شما در رانندگی به چه عواملی بستگی دارد؟

الف) تفکر، موقعیت، دانش قبلی، ادب، نزاکت ✓

ب) رفتارهای مثبت ترافیکی

ج) دانش رانندگی و مهارت

د) پایبندی به مقررات

۱۰- خط ... خط کشی عرضی است که در ورودی تقاطع و به منظور تعیین مرز توقف وسایل نقلیه پیش از گذرگاه پیاده در سطح راه ترسیم می شود.

الف) ایست ✓

ب) هاشور

ج) زیگزاگ

د) پارک

۱۱- منظور از خطوط توقف در این تقاطع چیست؟

الف) توقف کامل نموده با رعایت حق تقدم دیگران و سرعت کم حرکت

می کنیم. ✓

ب) خطوط هشدار در محور وسط تقاطع.

ج) محدود بودن حرکت.

د) با دادن علامت به حرکت خود ادامه

می دهیم.



۱۲- تابلوی زیر به چه معناست؟

الف) با مشاهده این تابلو سرعت خود را به ۳۰ کیلومتر در ساعت رسانده و کمتر از ۳۰ کیلومتر در ساعت ممنوع.

ب) با مشاهده این تابلو سرعت خود را به ۳۰ کیلومتر

در ساعت رسانده و تا پایان محدودیت آن را افزایش ندهید.

ج) با سرعت مطمئنه در ساعت حرکت کرده.

د) با مشاهده این تابلو سرعت، حداکثر ۳۰ کیلومتر در

ساعت است و تا پایان محدودیت آن را افزایش ندهید. ✓



۱۳- مفهوم تابلوی زیر چیست؟

الف) تقاطع فرعی

ب) تقاطع ✓

ج) دو راهی

د) تقاطع اصلی به فرعی



۱۴- زمانی که در یک جاده دو طرفه در حال حرکت هستید و اتومبیلی

بدون رعایت فاصله جلوی شما قرار گیرد چه اقدامی باید انجام دهید؟

الف) فاصله گرفته و فاصله ایمن را رعایت کنیم. ✓

ب) ترمز کنیم.

ج) با زدن چراغ و بوق راننده را جهت گرفتن فاصله با اطلاع می کنیم.

د) احتیاجی به رعایت فاصله در جاده دو طرفه نیست.

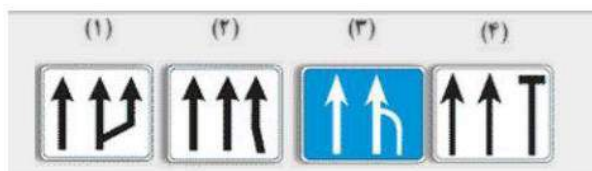
۱۵- تابلوی کاهش خطوط عبور کدام گزینه می باشد؟

الف) تصویر ۱

ب) تصویر ۲

ج) تصویر ۳ ✓

د) تصویر ۴



۱۶- تابلوی زیر یعنی ...

الف) سرعت توصیه شده ✓

ب) حداقل سرعت

ج) حداکثر سرعت

د) پایان سرعت ۶۰ کیلومتر



۱۷- در جاده های اصلی حداکثر میزان سرعت مجاز در روز .... کیلومتر در ساعت و در شب ..... کیلومتر در ساعت می باشد.

الف) روز ۸۰ - شب ۹۵

ب) روز ۸۵ - شب ۷۵

ج) روز ۹۰ - شب ۸۰

د) روز ۹۵ - شب ۸۵ ✓

۱۸- چه عاملی می تواند میزان خطر ناشی از آسیب دیدگی گردن را در موقع تصادف کم کند؟

الف) صندلی مجهز به بالشتک هوا

ب) وجود پشتی مناسب پشت سر و تنظیم شده ✓

ج) وجود پشتی مناسب

د) ترمزهای ضد قفل

۱۹- در سربالائی (راه دارای جدول است) هنگام توقف (پارک) فرمان به کدام سمت باید چرخانده شود؟

الف) باید فرمان به چپ (خلاف جهت عقربه های ساعت) چرخانده شود. ✓

ب) باید فرمان به راست (جهت عقربه های ساعت) چرخانده شود.

ج) فرمان مستقیم نگاه داشته می شود.

د) تمام موارد بالا صحیح است.

۲۰- بی توجهی به علائم و مقررات رانندگی نشان:

الف) عدم توانایی و صلاحیت رانندگی است. ✓

ب) عدم آمادگی لازم است.

ج) شتاب و عجله بیهوده است.

د) عدم سواد کافی است.

۲۱- هوای گرم بر کدام قسمت از خودرو اثر می گذارد؟

الف) سرنشینان خودرو

ب) آمادگی راننده در کنترل خودرو

ج) باد لاستیک و دمای موتور ✓

د) ترمزها

۲۲- به پلیس مدرسه نزدیک می شوید چه عملی انجام می دهید؟

الف) قبل از توقف به کودکان اشاره می کنید که عبور کنند.

ب) توقف کرده و به کودکان اجازه عبور می دهید. ✓

ج) تنها اگر کودکان در حال عبور از خط کشی عابر پیاده هستند توقف می کنید.

د) با سرعت عبور می کنید.

۲۳- تابلوی (فقط عبور به راست مجاز) کدام گزینه می باشد؟

الف) تصویر ۱

ب) تصویر ۲

ج) تصویر ۳

د) تصویر ۴ ✓


۲۴- تابلوی (توقف ممنوع) کدام می باشد؟

الف) تصویر ۱

ب) تصویر ۲ ✓

ج) تصویر ۳

د) تصویر ۴





۲۵- تابلوی زیر به چه معنا است؟



الف) پایان آزاد راه

ب) آزاد راه

ج) خیابان اصلی

د) پایان خیابان اصلی



۲۶- تابلوی زیر یعنی ...

الف) سبقت برای کامیون ممنوع



ب) سبقت ممنوع

ج) عبور سواری ممنوع

د) عبور کامیون ممنوع



۲۷- تابلوی زیر به چه معنا می باشد؟

الف) پارک سوار



ب) پارکینگ

ج) پارک ممنوع

د) توقف ممنوع



۲۸- در کدام محل نباید پارک کرد؟

الف) در ۱۵ متری تقاطع ها

ب) در ایستگاه اتوبوس

ج) خیابان های اصلی

د) (و) ۲



۲۹- روش ۲ ثانیه ای زمان برای .... مورد استفاده قرار می گیرد.

الف) تعیین سرعت

ب) تعیین مسافت



ج) تعیین فاصله با اتومبیل جلویی

د) هیچکدام

۳۰- تابلوی زیر چه مفهومی دارد؟

الف) هدایت مسیر با جداکننده


ب) بن بست



ج) جریان همگرا

د) تقاطع فرعی به اصلی

۱- مفهوم تابلوی زیر چیست؟

الف) ابتدای منطقه مسکونی 

ب) به منطقه مسکونی نزدیک می شوید.

ج) منطقه صنعتی

د) خروج از محدوده صنعتی



۲- با سرعت ۴۵ کیلومتر در ساعت در یک جاده خشک در حال رانندگی هستید، فاصله شما با اتومبیل جلویی چند طول اتومبیل باید باشد؟

الف) ۲ طول اتومبیل

ب) ۳ طول اتومبیل 

ج) ۴ طول اتومبیل


د) ۵ طول اتومبیل

۳- وسیله نقلیه ای که در مسیر مجاز در حال حرکت است حق تقدم عبور دارد بر....

الف) وسیله نقلیه در حال توقف یا در حال شروع حرکت

ب) وسیله نقلیه در حال دور زدن

ج) وسیله نقلیه در حال جلو رفتن (عقب، جلو کردن)

د) هر سه موارد 

۴- چه موقع می توانید با دنده عقب از خیابان فرعی به خیابان اصلی وارد شوید؟

الف) اگر خلوت باشد

ب) همه مواقع


ج) هیچوقت 

د) مورد ۱ و ۲

۵- تابلوهای با زمینه قهوه ای نشانگر چه چیزی هستند؟

الف) مسیرهای اصلی

ب) مسیرهای فرعی

ج) جهت حرکت به سمت مراکز فرهنگی تفریحی 

د) حرکت مجاز، راهنمای مسیر و اماکن مذهبی

۶- در شرایط جوی با میدان دید محدود چگونه می توانید اطمینان کنید که سایر رانندگان قادر به رویت شما هستند؟

الف) کاملاً نزدیک به کنار جاده حرکت کنید.

ب) با فاصله کمی از اتومبیل جلویی حرکت کنید.

ج) چراغ های نور پائین را روشن کنید. 

د) چراغ های مه شکن عقب را روشن کنید.

۷- عمده ترین خطری که راننده اتومبیل پشت سر با آن مواجه خواهد بود چیست؟

الف) ممکن است دوچرخه سوار ناگهان به داخل خیابان منحرف شود. 

ب) ممکن است دوچرخه سوار ناگهان به سمت راست رفته و پیاده شود.

ج) ممکن است محتوای سبد پشت دوچرخه روی جاده بریزد.

د) ممکن است دوچرخه سوار توقف کند.



۸- کدامیک از فرامین پلیس در شکل زیر مقدم بر علائم راهنمایی است؟

الف) تمام موارد 

ب) ۱ و ۲

ج) ۳ و ۴

د) فقط ۲



۹- هنگامی که قصد دارید از یک وسیله نقلیه طویل که آهسته حرکت می کند در یک جاده شلوغ سبقت بگیرید چه کار باید انجام دهید؟  
 الف) در پشت وسیله منتظر بمانید تا راننده به شما اشاره کند که عبور کنید.  
 ب) چراغ های بزرگ را برای وسایل نقلیه ای که از روبرو می آیند روشن کنید تا اجازه دهند عبور کنید.  
 ج) با فاصله کافی پشت سر وسیله نقلیه حرکت کنید تا بتوانید قسمت جلویی وسیله مذکور را ببینید تا زمان مناسب و ایمن برای سبقت فراهم شود.  
 د) هیچکدام

۱۰- تابلوی زیر به چه مفهومی می باشد؟  
 الف) سبقت ممنوع  
 ب) حق تقدم با وسیله نقلیه مقابل است  
 ج) خیابان یک طرفه  
 د) خیابان دو طرفه



۱۱- تابلوی زیر به چه مفهومی می باشد؟  
 الف) گردش به راست  
 ب) پیچ  
 ج) بن بست  
 د) تقاطع

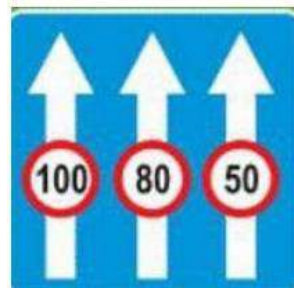


۱۲- در خیابان یکطرفه باید در کدام سمت اتومبیل را پارک کرد؟  
 الف) چپ  
 ب) راست  
 ج) در خیابان یکطرفه نمی توان پارک کرد.  
 د) در هر دو طرف پارک شود مانعی ندارد.

۱۴- تابلوی زیر چه نام دارد؟  
 الف) پایان آزاد راه  
 ب) پایان بزرگراه  
 ج) پایان خیابان اصلی  
 د) پایان راه



۱۳- تابلوی زیر به چه معنا می باشد؟  
 الف) حداقل سرعت در خط عبور  
 ب) حداکثر سرعت در خطهای عبور  
 ج) حداقل سرعت در خط های عبور  
 د) خط ویژه عبور



۱۶- به مجموعه رفتارهای منفی در رانندگی چه می گویند ؟  
 الف) رانندگی مطمئنه  
 ب) رانندگی خطر ساز یا رانندگی تهاجمی  
 ج) رانندگی ایمن  
 د) فرهنگ رانندگی

۱۵- معنای تابلوی زیر چیست؟  
 الف) پایان محدودیت  
 ب) پایان منطقه توقف دابل  
 ج) پایان سبقت ممنوع  
 د) پایان تمام محدودیت ها



۱۷- دو خط ممتد در کنار هم به معنای .....

الف) زیبایی بیشتر

ب) تاکید بیشتر برای حرکت نکردن روی آنها

ج) گردش روی این خطوط انجام می گیرد.

د) فقط سبقت روی این خطوط انجام می گیرد.

۱۸- تابلوی ایستادن ممنوع کدام گزینه می باشد؟

الف) تصویر ۱

ب) تصویر ۲

ج) تصویر ۳

د) تصویر ۴



۱۹- در جاده پر ترافیکی، اتومبیل ها و وسایل نقلیه دیگر پشت سر

هم، به طور فشرده در حرکت هستند، چگونه می توانید از بروز حادثه

جلوگیری کنید؟

الف) فاصله خود را با اتومبیل جلویی افزایش می دهید.

ب) پای خود را روی ترمز قرار می دهید.

ج) چراغ های خطر را روشن می کنید.

د) در شانه خاکی توقف می کنید.



۲۰- کدامیک از موارد زیر عامل تصادف با اتومبیل جلویی است؟

الف) عدم توجه کافی به راه و نزدیک شدن بیش از حد به اتومبیل جلویی

ب) تراکم وسایل نقلیه

ج) عبور عابر پیاده در مناطق سفری و شلوغ

د) تغییر نور چراغ ها

۲۱- در یک منطقه مسکونی و شهری در حال حرکت هستید به یک

سرعت گیر نزدیک می شود شما باید:

الف) با سرعت عبور کنید.

ب) از قسمت چپ خیابان عبور کنید.

ج) سریعاً سرعت خود را کاهش دهید.

د) هیچ کدام

۲۲- قفل های خاص کودکان که در وسیله نقلیه نصب می شود برای چه

منظوری است؟ الف) جهت قفل کردن سگک کمربند ایمنی

ب) جهت قفل کردن پنجره های درب عقب

ج) برای اینکه کودکان به طور ناخواسته درب عقب اتومبیل را باز نکنند.

د) جهت ممانعت از حرکت صندلی های عقب و از حرکت آنها به جلو

۲۳- کدام بیمه برای خودرو الزامیست؟

الف) بیمه بدنه

ب) بیمه شخص ثالث

ج) بیمه آتش سوزی

د) بیمه حوادث

۲۴- حداکثر سرعت در جاده های اصلی خارج از شهر:

الف) روزها ۹۵ کیلومتر - در شب ۸۵ کیلومتر

ب) روزها ۸۰ کیلومتر - شب ۹۰ کیلومتر

ج) روزها ۹۰ - شب ۸۵ کیلومتر

د) روزها ۱۱۰ کیلومتر - شب ۹۵



۲۵- در چه شرایطی می توانید از باند سمت چپ در آزاد راه استفاده کنید؟

الف) برای کنار رفتن از سر راه کامیون های بزرگ

ب) برای رانندگی در سرعت عای بیش از ۹۰ کیلومتر در ساعت

ج) هنگامی که با سرعت کم حرکت می کنیم.

د) برای سبقت از سایر وسایل نقلیه و رانندگی با حداکثر سرعت

۲۶- هنگام خروج از پارک راهنمای ..... اتومبیل را روشن می کنیم.

الف) هر دو طرف

ب) سمت راست

ج) سمت چپ

د) هیچ کدام



۲۷- تابلو ایست به شکل ... می باشد؟

الف) هشت ضلعی

ب) مثلث متساوی الاضلاع

ج) مربع

د) دایره

۲۸- شما اولین نفری هستید که به محل تصادف می رسید کدام مورد را

باید انجام دهید؟

الف) محل را فوراً ترک کنید.

ب) به محض این که اولین اتومبیل رسید از محل دور شوید.

ج) اتومبیل ها را از محل حادثه کنار بکشید.

د) موتور اتومبیل حادثه دیده را خاموش کنید. افراد زخمی را از داخل

اتومبیل خارج کنید. و زخمی ها را با صحبت کردن آرام نمایید.



۲۹- کدام یک از تابلوها به معنای پارک سوار است؟

الف) تصویر ۱

ب) تصویر ۲

ج) تصویر ۳

د) تصویر ۴


۳۰- تابلو ایست کدام گزینه می باشد؟

الف) تصویر ۱

ب) تصویر ۲

ج) تصویر ۳

د) تصویر ۴



۱- روش یک طول اتومبیل یعنی چه؟

- الف) به ازای هر ۱۵ کیلومتر در ساعت سرعت فاصله ای به اندازه یک طول اتومبیل (حدود ۶ متر) مورد نیاز است. ✓
- ب) به ازای هر ۳۰ کیلومتر در ساعت سرعت فاصله ای به اندازه ۲ طول اتومبیل (حدود ۱۲ متر) مورد نیاز است.
- ج) به ازای هر ۴۵ کیلومتر در ساعت سرعت فاصله ای به اندازه ۳ طول اتومبیل (حدود ۱۸ متر) مورد نیاز است.
- د) به ازای هر ۶۰ کیلومتر در ساعت سرعت فاصله ای به اندازه ۴ طول اتومبیل (حدود ۲۴ متر) مورد نیاز است.

۲- تابلوی (خروج از آزاد راه ۳۰۰ متر) کدام تابلو است؟

الف) تصویر ۱

ب) تصویر ۲ ✓

ج) تصویر ۳

د) تصویر ۴



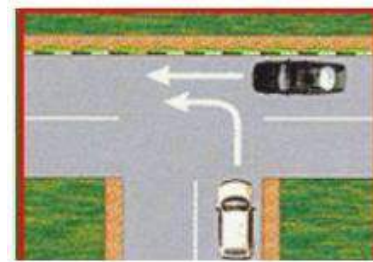
۳- در شکل مقابل حق تقدم عبور با کدام وسیله می باشد؟

الف) مشکی - سفید ✓

ب) سفید - مشکی

ج) هر دو همزمان

د) هیچکدام



۴- هنگام رانندگی از چه فاصله ای باید پلاک اتومبیل جلویی را بخوانید؟

الف) ۵ متری

ب) ۱۰ متری

ج) ۱۵ متری

د) ۲۰ متری ✓

۵- در صورت ترکیدن لاستیک جلوی اتومبیل باید ...

الف) به شدت ترمز کرد.

ب) فرمان را رها کرد.

ج) فرمان را محکم گرفته و به آرامی توقف کرد. ✓

د) ۱ و ۲ صحیح است.

۶- میخ های زرد رنگ چشم گربه ای در چه محلی دیده می شوند؟

الف) بین شانه خاکی و باند اصلی

ب) در مسیرهای ورودی و خروجی و باندهای کاهش و افزایش سرعت

ج) بین هر دو باند مجاز

د) غالباً در مسیر رفت و برگشت جاده ها و در سمت چپ مسیر یا (بین

محلی خالی وسط آزاد راه و باند اصلی) ✓

۷- کدام یک از علائم زیر شما را از انجام عملی باز می دارد؟

الف) تصویر ۱

ب) تصویر ۲

ج) تصویر ۳

د) تصویر ۴ ✓



۸- تابلوی زیر یعنی ...

الف) عبور سواری ممنوع

ب) عبور کامیون ممنوع

ج) سبقت برای کامیون ممنوع ✓

د) سبقت ممنوع





۹- مفهوم تابلوی زیر چیست؟

الف) منطقه عبور معلولین

ب) رانندگی با ویلچر

ج) راننده معلول

د) هیچکدام



۱۰- در شرایط عادی مانند مواقع بارندگی و یخبندان و سرما، کنترل و

هدایت و توقف اتومبیل به کدام دلیل مشکل است؟

الف) به لحاظ کاهش ضریب اصطکاک چرخ ها با جاده

ب) لغزندگی راه

ج) ۱ و ۲ صحیح است

د) به لحاظ سرمای هوا و خارج شدن لاستیک ها از حالت طبیعی

۱۱- یکی از موارد افزایش احتمال خطر هنگام رانندگی در شب را بگویید؟

الف) استفاده از چرخ ها

ب) استفاده از سایبان

ج) محدودیت میدان دید راننده

د) خواب آلودگی راننده

۱۲- زمانی که به یک سرعت گیر در خیابان می رسید باید ....

الف) از سمت راست عبور کنید.

ب) با همان سرعت عبور کنید.

ج) سرعت خود را افزایش دهد.

د) سریعاً از سرعت خود بکاهید.

۱۳- در جاده دچار حادثه ای شده اید ، در چه فاصله ای باید تابلوی

احتیاط را قرار دهید؟

الف) ۷۰ متری

ب) ۶۰ متری

ج) ۵۰ متری

د) ۴۰ متری

۱۴- به هنگام رانندگی در طول روز و در شرایط هوای مه آلود چکار باید

انجام دهید؟

الف) از نور پایین استفاده کنید.

ب) از چراغ های بغل اتومبیل استفاده کنید.

ج) از نور بالا استفاده کنید.

د) چراغ های راهنما را روشن نمایید.

۱۵- مفهوم خطوط شکل زیر چیست؟

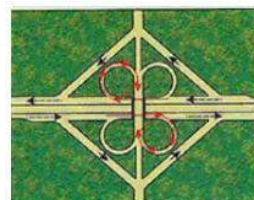
الف) شکل صحیح تقاطع بزرگراه ها و پیچ ها

ب) طریقه صحیح ورودی و خروجی جاده ها

ج) نمایشگر تغییر مسیر دایره ای شکل و خطوط کاهش و افزایش سرعت

د) نمایشگر قرار گرفتن مسیرهای ورودی و

خروجی و خط کاهش سرعت و افزایش سرعت



۱۶- خطوط زیر در کجا رسم می شود و به چه معناست؟

الف) در طول خیابان ها و برای عابر پیاده در طول راه کشیده می شود.

ب) در خیابان های اصلی و به معنای عبور عابرین پیاده است.

ج) در محل های معینی از راه برای عابرین پیاده در عرض راه کشیده

می شود.

د) هیچکدام



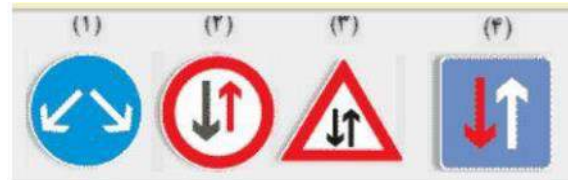
۱۷- تابلوی (جاده دو طرفه) کدام می باشد؟

الف) تصویر ۱

ب) تصویر ۲

ج) تصویر ۳ 

د) تصویر ۴




۱۸- چه موقع نباید از چراغ هشدار فلاشر استفاده نمایید؟

الف) هنگام بکسل کردن اتومبیل

ب) زمانی که دچار نقص فنی شوید.

ج) به صورت دوبله پارک می کنید.

د) مورد ۱ و ۳ 

۱۹- مراحل اساسی که در هنگام تصادف و آسیب جدی شدید لازم است

اتخاذ شوند عبارتند از:

الف) حفظ صحنه تصادف

ب) آگاه ساختن مراجع ذی صلاح

ج) مراقبت نمودن از مجروحین

د) هر سه مورد فوق 

۲۰- هنگامی که در شب فاصله اتومبیل شما با اتومبیل جلویی بیش از

۱۵۰ متر باشد ...

الف) از نور پایین استفاده می کنیم.

ب) چراغ را خاموش می کنیم.

ج) از نور بالا استفاده می کنیم. 

د) از هر نوری که خواستیم استفاده می کنیم.

۲۱- کدام گزینه درست نمی باشد؟


الف) تابلوهای بازدارنده یا اخطاری 

ب) تابلوهای هشدار دهنده یا اخطاری

ج) تابلوهای آگاهی دهنده یا اخباری

د) تابلوهای بازدارنده یا انتظامی

۲۲- تابلوی زیر به معنای چیست؟

الف) هدایت مسیر با جدا کننده 

ب) شروع جدا کننده

ج) جریان همگرا

د) تعیین مسیر جدا کننده



۲۳- در راههای مسطح که دو طرف راه منتهی به کوه و پرتگاه می باشد ...

الف) حق تقدم عبور با وسیله ای است که در طرف پرتگاه قرار دارد. 

ب) باید با احتیاط و رعایت حق تقدم عبور کرد.

ج) حق تقدم عبور با وسیله ای است که در طرف کوه است.

د) حق تقدم با وسیله نقلیه سبک تر است.

۲۴- چه موقع می توان در داخل تونل سبقت گرفت؟

الف) پهنای تونل عریض باشد.

ب) راه یکطرفه باشد.

ج) نور کافی داشته باشیم.

د) این کار ممنوع است. 



۲۵- تابلوی زیر به چه مفهومی می باشد؟

- الف) سربالایی خطرناک ✓
- ب) سرازیری خطرناک
- ج) شیب خطرناک ✓
- د) خطر



۲۶- مفهوم تابلوی زیر چیست؟

- الف) جاده یخبندان است.
- ب) زنجیر چرخ الزامی است.
- ج) عبور فقط با زنجیر چرخ ✓
- د) خطر برف



۲۷- خط ممتد، دوبله، مقطع، هاشور، زیگزاگ، انواع خطوط ... هستند.

الف) عرضی

ب) طولی ✓

ج) ۱ و ۲

د) ترکیبی

۲۸- رنگ سیاه و سفید در علائم راهنمایی به چه معناست؟

الف) راهنمای اماکن مذهبی و اخباری

ب) اخباری و گردشگری

ج) دستوری و راهنمای مسیر در سایر راه ها ✓

د) هیچکدام

۲۹- ساییدگی نامتوازن یا بیش از حد لاستیک ناشی از کدام مورد زیر است؟

الف) تنظیم نبودن فرمان، عدم تنظیم چرخ ها و ترمزها ✓

ب) میزان نبودن باد چرخ ها

ج) سرعت بیش از حد

د) تاب داشتن گاردان

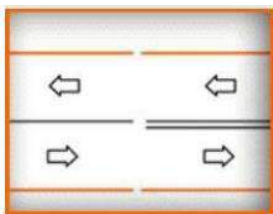
۳۰- دو خط طولی ممتد روبرو به معنای چیست؟

الف) عبور از یک طرف از روی خط آزاد است.

ب) عبور از دو طرف ممنوع است.

ج) تاکید بیشتر جهت جلوگیری از عبور از روی خطوط ✓

د) هیچکدام



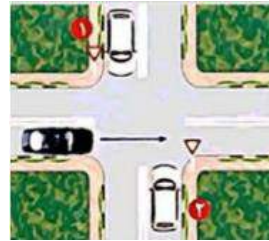
۱- حق تقدم عبور در تصویر زیر با کدام است؟

الف) اتومبیل سفید شماره ۱

ب) اتومبیل سفید شماره ۲

ج) اتومبیل سیاه رنگ

د) همه حق تقدم عبور یکسان دارند.



۲- علت اینکه در هنگام رانندگی پوشیدن کفش مناسب مورد نیاز است چیست؟

الف) به منظور حفظ کنترل صحیح بر روی پدالها

ب) به منظور راحتی پیاده روی در مواقع نقص اتومبیل

ج) به منظور ممانعت از ساییدگی سطح لاستیک پدالها

د) به منظور تعویض سریع دنده

۳- برای جلوگیری از لغزندگی اتومبیل در شرایط یخبندان چه تمهیداتی لازم است؟

الف) اگر چرخ ها شروح به لغزندگی کرد از ترمز دستی استفاده کنید.

ب) در تمامی مواقع از دنده یک استفاده کنید.

ج) با سرعت کمتر و با دنده سنگین حرکت کنید.

د) به دفعات بیشتر و به آرامی ترمز کنید.

۴- چه چیزی موجب به هم ریختن تمرکز شما در رانندگی خواهد شد؟

الف) نگاه کردن به اطراف اتومبیل

ب) نگاه کردن به آینه اتومبیل

ج) استفاده از شیشه شور اتومبیل

د) نگاه کردن به نقشه، گوش کردن به موزیک با صدای بلند و استفاده از

تلفن همراه

۵- سبقت گرفتن در پیچ های تند و سربالایی ها چه مورد قانونی را شامل می شود؟

الف) ممنوع است.

ب) ضروری است.

ج) با احتیاط کامل میتوان سبقت گرفت.

د) بلامانع است.

۶- در حال رانندگی در جاده خیس به دنبال اتومبیلی دیگر، فاصله زمانی ایمن از اتومبیل جلویی چقدر باید باشد؟

الف) ۸ ثانیه

ب) ۶ ثانیه

ج) ۴ ثانیه

د) ۲ ثانیه

۸- تأثیرات مواد مخدر چیست؟

الف) اعتنا نکردن به قوانین رانندگی و فرامین پلیس

ب) افزایش اعتماد به نفس کاذب - کاهش هوشیاری

ج) برهم زدن نظم رانندگی

د) عدم کنترل راننده در شرایط ضروری

۷- مفهوم تابلوی روبرو چیست؟

الف) تقاطع با راه آهن دو خط

ب) تقاطع دو خط آهن با یکدیگر

ج) تقاطع مانع با راه آهن

د) تقاطع با راه آهن



۹- برای استفاده از ترمز در حین رانندگی بهتر است ...

الف) تمام کف پا روی پدال ترمز قرار دهید.

ب) پاشنه پا روی کف اتومبیل گذاشته و با پنجه پدال ترمز را فشار دهید. ✓

ج) با کف پا ترمز را به آهستگی فشار داده و همزمان کلاچ را بگیرید.

د) پاها همواره برای ترمز گرفتن باشد.

۱۰- کدامیک از تابلوهای زیر مفهوم آنست که هیچ وسیله ای نمی تواند وارد شود؟

الف) شکل شماره ۱

ب) شکل شماره ۲

ج) شکل شماره ۳

د) شکل شماره ۴ ✓



۱۱- شما موقعی می توانید شروع به حرکت کنید که:

الف) بعد از حرکت اقدام به بستن کمربند نمایید.

ب) از بسته شدن کمربند ایمنی خود و سایر سرنشینان اطمینان حاصل

نمایید. ✓

ج) از بسته شدن کمربند ایمنی خود اطمینان حاصل کنید.

د) از بسته شدن کمربند ایمنی سرنشینان اطمینان حاصل نمایید.

۱۲- این تابلو به چه معناست؟

الف) عبور دوچرخه سوار ✓

ب) عبور دوچرخه سوار ممنوع

ج) دوچرخه سوار مجاز به عبور نیست.

د) دوچرخه سوار باید از دوچرخه پیاده شود.



۱۳- کدام مورد است که به هنگام سبقت گرفتن از آنها باید فضای

بیشتری را به وسیله نقلیه در نظر بگیرید؟

الف) موتور سیکلت و دوچرخه ✓

ب) ماشین های مجاور وسایل نقلیه سنگین

ج) وانت و تراکتور

د) ماشینهای حامل مسافر و ماشینهای حامل بار

۱۴- مفهوم تابلوی زیر چیست؟

الف) سینما

ب) نظارت با دوربین پلیس ✓

ج) کنترل تردد

د) عکسبرداری ممنوع است.



۱۵- در خیابان شلوغ و پر ترافیک با سرعت مجاز در حال حرکت هستید راننده

اتومبیل پشت سر سعی می کند سبقت بگیرد، چه کاری باید انجام دهد؟

الف) به اتومبیل جلویی نزدیک می شوید تا راننده ی عقبی نتواند سبقت بگیرد.

ب) با دست به راننده پشت سر علامت می دهید، زمانی که خطری نیست سبقت بگیرد.

ج) بر سرعت خود اضافه می کنید تا اینکه راننده پشت سر فاصله بگیرد.

د) مسیر صحیح و مستقیم خود را ادامه دهید تا راننده مذکور سبقت

بگیرد. ✓

۱۶- مستطیل قائم معمولاً برای چه تابلوهایی به کار می رود؟

الف) راهنمای مسیر

ب) معمولاً برای تابلوهای دستوری و خدماتی ✓

ج) صرفاً برای رعایت حق تقدم

د) راهنما و هشدار برای خطرات



۱۷- تابلوی روبرو به چه معناست؟

(الف) راه یک طرفه

(ب) فقط عبور به راست مجاز است.

(ج) خیابان یکطرفه 

(د) فقط عبور مجاز است.



۱۸- در کدامیک از موارد زیر نباید دنده عقب گرفت؟


(الف) برای مسافت های طولانی 

(ب) دنده عقب به داخل یک خیابان فرعی

(ج) برای مسافت هایی که نمی شود پیاده طی کرد.

(د) دنده عقب در مناطق مسکونی و شهری

۱۹- تابلوهای با زمینه قهوه ای نشانگر چه چیز هستند؟

(الف) جهت حرکت به سمت مراکز فرهنگی و تفریحی 

(ب) جاده های اولیه یا مسیر قبلی

(ج) مسیر بزرگراهها

(د) مسیر فرعی و غیر اصلی

۲۰- چرا سبقت گرفتن از کامیون طولیل (کشنده و یدک) خطرناک تر از

سبقت گرفتن از یک اتومبیل معمولی است؟

(الف) کامیون ها ممکن است کنار کشیده و توقف کنند.

(ب) ترمز های کامیون ها به خوبی اتومبیل های دیگر نیست.

(ج) کامیون ها با سرعت کمتری نسبت به وسایل دیگر از تپه ها بالا می روند.

(د) کامیون ها نسبت دیگر وسایل نقلیه کشنده تر هستند و سبقت گرفتن

از آن ها مسافت و زمان بیشتری را مصرف می کند. 

۲۱- کدام تابلو به معنای ممنوع بودن عبور وسایل نقلیه موتوری است؟

(الف) شکل شماره ۱

(ب) شکل شماره ۲ 

(ج) شکل شماره ۳

(د) شکل شماره ۴



۲۲- کدام مورد هنگام رانندگی ممنوع می باشد؟

(الف) خوردن و آشامیدن

(ب) استفاده از تلفن همراه

(ج) همه موارد 

(د) استعمال دخانیات

۲۳- کدام گزینه نشان دهنده تابلوی عبور وسایل نقلیه ممنوع می باشد؟

(الف) شکل شماره ۱

(ب) شکل شماره ۲ 

(ج) شکل شماره ۳

(د) شکل شماره ۴



۲۴- اگر چراغ ترمز شما کار نکند چه موقع مجاز به رانندگی هستید؟

(الف) در طول روز

(ب) زمانی که به آزمایش رانندگی می روید.

(ج) هیچوقت 

(د) در شرایط اضطراری

۲۵- نحوه بارگیری تریلرها به نحوی باید باشید که:

الف) بار عمدتا در بخش عقب قرار گیرد.

ب) بار در بخش جلوی تریلر قرار گیرد.

ج) بار به صورت متوازن و خوب بسته شود. 

د) بار عمدتا در نزدیکی چراها بارگیری شود.

۲۶- چه موقع می توانید از چراغ هشدار دهنده خطر (فلاشر یا چهار

چراغ) استفاده نمایید؟

الف) زمانی که برای خرید بر روی خطوط زرد دوبل توقف کرده اید.


ب) زمانی که در تاریکی بدون چراغ بزرگ حرکت می کنید.

ج) زمانی که به آرامی رانندگی کرده و به دنبال آدرس می گردید.

د) زمانی که به صورت موقت و یا اضطراری توقف کرده و ترافیک را متوقف

نموده اید. 

۲۷- تابلوی روبرو چه مفهومی دارد؟

الف) پایان سبقت ممنوع 

ب) ابتدای سبقت ممنوع

ج) پایان سبقت کامیون ممنوع


د) پایان محدوده سرعت



۲۸- در کدام مورد زیر سبقت گرفتن ممنوع است ؟

الف) ۲۰۰ متری سربالایی

ب) ۲۰۰ متری پیچ ها

ج) بر روی خط ممتد 

د) ۲۰۰ متری تونل ها

۲۹- اگر عابری با عصای سفید در دست ببینید به چه معناست؟

الف) معلول است.

ب) نابیناست. 

ج) ناشنواست.

د) مسن است.

۳۰- مفهوم تابلوی روبرو را بگویید.

الف) اصلی به فرعی


ب) فرعی به اصلی از راست

ج) ورود به جاده اصلی از چپ

د) ورود به راه اصلی از راست 



۱- وقتی در حین رانندگی حواس شما متوجه چیزهایی دیگر باشد این کار:

الف) تصمیم سریع و عکس العمل به موقع را از شما خواهد گرفت. 

ب) قادر به تصمیم گیری نخواهید بود.

ج) عکس العمل از خودتان نشان نخواهید داد.

د) ممکن است مسیر خود را اشتباه بروید.

۲- از جمله احتیاط های لازم در هنگام وقوع تصادفات انجام کدام یک از موارد زیر اشتباه است؟

الف) روشن نگه داشتن خودرو حتی در صورتی که خودرو قابلیت



حرکت ندارد.

ب) هشدار توسط افراد به دیگر رانندگان تا سرعت خود را کاهش دهد.

ج) استفاده از تابلو اعلام خطر

د) تذکر جهت روشن نکردن سیگار در صورت آسیب باک خودرو

۳- علائم هشدار برای خطر به چه شکلی ترسیم می کردند ؟

الف) هشت گوشه

ب) دایره ای

ج) مثلث 

د) لوزی شکل

۴- یکی از عوامل اصلی جاده ای مرگ و میر در گروه سنی زیر ۴۰ سال در

کشور ایران چه چیزی می باشد؟

الف) رعایت قوانین و مقررات

ب) رعایت سرعت مطمئنه


ج) رعایت اصول ایمنی

د) بی توجهی به فرهنگ رانندگی و عدم رعایت قوانین و مقررات 

۵- صحیح ترین روش ترمز کردن چیست؟

الف) ابتدا سریعاً ترمز کرده و دنده را به حالت خالص در آورید، ترمز

دستی را در مرحله قبل از توقف کامل بکشید.

ب) ابتدا به آرامی ترمز کرده سپر پدال ترمز را بیشتر فشار دهید. 

ج) بشدت ترمز کنید و پدال کلاچ همزمان فشار دهد.

د) اندکی ترمز کرده، پدال کلاچ را فشار دهید، ترمز دستی را قبل از

توقف بکشید.

۶- تنها چه موقعی می توان از تلفن همراه استفاده نمود؟

الف) فرمان را با دست بگیرید و اتومبیل را هدایت نکنید.

ب) وسیله نقلیه دارای دنده اتوماتیک باشد.



ج) در یک محل و مکان امن توقف کرده باشید.

د) هیچکدام

۷- به هنگام خروج از پارک چه اعمالی را باید انجام داد؟

الف) از آینه ها استفاده نموده و برای کنترل نهانی سر را به سمت چپ



برگردانده و عقب را نگاه کنید.

ب) چنانچه لازم است سایر رانندگان آهسته برانند به آنها علامت دهید.

ج) اگر اتومبیل دیگری در مقابل شما پارک نشده به عقب برگردید.

د) علاوه بر استفاده از راهنما با دست علامت دهید.

۸- در هنگام شب رانندگی می کنید و نور بالای چراغ اتومبیل هایی که از

رو به رو می آیند چشم های شما را خیره می کند چه کاری باید انجام دهید؟

الف) به طور مستقیم به نور چراغ روبه رو نگاه کنید و از نگاه کردن به

سمت راست خودداری کنید.


ب) به طور مستقیم به نور چراغ رو به رو نگاه نکنید و سمت راست راه را





نگاه کنید و از گوشه چشم به اتومبیل روبه رو توجه کنید.


ج) نور بالای اتومبیل را روشن کنید و به وسیله نقلیه مقابل توجه نکنید.


د) هیچکدام


۹- هنگامی که قصد دارید از وسیله نقلیه طویل که آهسته حرکت می کند در یک جاده شلوغ سبقت بگیرید چه کار باید انجام دهید؟  
(الف) با فاصله کمی پشت وسیله حرکت کنید تا بتوانید بلافاصله سبقت بگیرید.  
(ب) چراغ های بزرگ را برای وسایل نقلیه ای که از روبرو می آیند روشن کنید تا اجازه دهند عبور کنید.  
(ج) در پشت وسیله منتظر بمانید تا راننده به شما اشاره کند که عبور کنید.  
(د) با فاصله کافی پشت سر وسیله نقلیه حرکت کنید تا بتوانید قسمت جلویی وسیله مذکور را ببینید تا زمان مناسب و ایمن برای سبقت فرا شود. 


۱۰- کدام مورد زیر هنگام رانندگی در شب احتمال خطر را افزایش می دهد؟  
(الف) محدودیت میدان دید راننده، خیره شدن به راه و عدم تشخیص فاصله وسیله نقلیه مقابل   
(ب) استفاده از چراغ ها  
(ج) استفاده از سایبان  
(د) استفاده از بوق


۱۱- بر روی یک راه لغزنده قسمت عقب اتومبیل شما به سمت راست می لغزد، چکار باید انجام دهید؟  
(الف) از کلاچ و ترمز به طور همزمان استفاده کنید.  
(ب) ترمز کنید و فرمان را بچرخانید.  
(ج) با دقت و مراقبت فرمان را به سمت چپ بچرخانید.  
(د) با دقت و مراقبت فرمان را به سمت راست بچرخانید. 

۱۲- علائم اخباری برای گرفتن سبقت در شب کدام مورد است؟  
(الف) تعویض نور چراغ بالا به پایین   
(ب) اشاره با دست  
(ج) بوق کوتاه و چراغ راهنما  
(د) افزایش سرعت و تبدیل متناوب نور چراغ

۱۳- به هنگام رانندگی در شرایط یخبندان فرمان به راحتی می چرخد و چرخ ها به طرفین می پیچد، علت آن چیست؟  
(الف) چرخ ها استحکام مطلوبی با راه ندارند.   
(ب) چرخ ها با راه اصطکاک بهتری دارند.  
(ج) چرخ ها خیلی نرم هستند.  
(د) چرخ ها خیلی سفت هستند.

۱۴- در شرایط یخبندان چگونه می توانید از لغزش چرخ های اتومبیل جلوگیری کنید؟  
(الف) اگر چرخ ها شروع به لغزندگی کرد از ترمز دستی استفاده کنید.  
(ب) با سرعت کمتر و با دنده سنگین حرکت کنید.   
(ج) در تمامی مواقع از دنده یک استفاده کنید.  
(د) به دفعات بیشتر و به آرامی ترمز کنید.

۱۵- در شرایط جاده خیس و یخبندان در حال رانندگی هستید، کدام مورد باید هنگام نزدیک شدن به پیچ تند رعایت شود؟  
(الف) هنگام رسیدن به پیچ با سرعت بیشتری برانید.  
(ب) قبل از رسیدن به پیچ از سرعت خود بکاهید و تا حد امکان با دنده سنگین حرکت کنید.   
(ج) به آرامی ترمز دستی را بکشید.  
(د) در تمامی مدت کلاچ را پایین نگه دارید.

۱۶- کلاچ گرفتن باعث کدامیک از موارد زیر می شود؟  
(الف) کنترل راننده به حرکت و جهت اتومبیل کم می شود.   
(ب) کنترل راننده به حرکت و جهت اتومبیل بیشتر می شود.  
(ج) پیچیدن به طرفین و چرخاندن فرمان سخت تر می شود.  
(د) هیچکدام



۱۷- در مواقع طوفانی در کدام یک از موارد زیر باید بیش از حد مراقب باشید؟



الف) به هنگام عبور از کنار دوچرخه سواران و موتورسیکلت سواران

ب) به هنگام سبقت

ج) به هنگام استفاده از ترمز ها

د) به هنگام گردش

۱۸- به هنگام رانندگی در طول روز و در شرایط هوای مه آلود چکار باید

انجام دهد؟



الف) از نور پایین استفاده کنید.

ب) از چراغ های بغل اتومبیل استفاده کنید.

ج) از نور بالا استفاده کنید.

د) چراغ های راهنما را روشن نمائید.



۱۹- بر روی جاده خیس ترمز می کنید، وسیله شما شروع به لغزش می

کند، اولین کاری که باید انجام دهید چیست؟

الف) به سرعت ترمز دستی را بکشید.



ب) ترمز را کاملاً آزاد کنید.

ج) با شدت بیشتری بر ترمز فشار آورید.

د) پای خود را بر روی کلاچ بگذارید.

۲۰- اگر مجبور شوید در مه رانندگی کنید کدام عامل زیر را باید بازدید نمائید؟



الف) بازدید چرخ ها و اطمینان از تمیز بودن شیشه ها

ب) اطمینان از سالم بودن بخاری

ج) اطمینان از اینکه در داخل اتومبیل تابلوی احتیاط دارید.

د) کنترل و بازدید باتری



۲۱- در هوای بسیار گرم سطح جاده نرم می باشد کدام مورد زیر از این

مسئله تأثیر پذیر است؟



الف) هدایت و گردش اتومبیل و ترمز

ب) تعویض دنده

ج) سیستم فنر بندی

د) میزان باد لاستیک ها

۲۲- در هوای مه آلود در حال رانندگی هستید، پشت سر بیش از حد به

شما نزدیک می شود، چه اقدامی باید انجام دهید؟



الف) با احتیاط به حرکت خود ادامه دهید.

ب) چراغ های هشدار دهنده خطر را روشن کنید.

ج) بلافاصله توقف کنید.

د) سرعت گرفته و از او دور شوید.



۲۳- در شرایط جوی با میدان دید محدود چگونه می توانید اطمینان

کنید که سایر رانندگان قادر به رویت شما هستند؟



الف) چراغ های نور پایین را روشن کنید.

ب) با فاصله کمی از اتومبیل جلویی حرکت کنید.

ج) چراغ های مه شکن عقب را روشن کنید.

د) کاملاً نزدیک به کنار جاده حرکت کنید.

۲۴- پایین بودن کدامیک از موارد زیر می تواند منجر به حادثه شود؟



الف) سطح روغن ترمز

ب) سطح ضد یخ

ج) آب باتری

د) آب خنک کننده رادیاتور



۲۵- در صورتی که خودرو جوش آورده چه اقدامی بایستی انجام داد ؟  
الف) در کنار راه متوقف و در رادیاتور را باز کرده و داخل آن آب اضافه کنیم.  
ب) به مسیر خود ادامه و خودرو را به اولین تعمیرگاه انتقال دهیم.  
ج) در کنار راه توقف و به هیچ وجه در رادیاتور را باز نکنید و با احتیاط مقداری آب بر روی رادیاتور بریزید.  
د) خودرو را در حین حرکت خاموش کنید تا رادیاتور خنک شود.

۲۶- کنترل باد لاستیک چرخ ها چه زمانی باید انجام شود؟  
الف) زمانی که لاستیک ها سرد هستند.  
ب) بعد از طی مسافت طولانی  
ج) بعد از یک رانندگی با سرعت بالا  
د) زمانی که لاستیک ها داغ شده اند.

۲۷- به هنگام رانندگی در شرایط غیر عادی (باران، برف و ...) بهترین کار این است که تا حد امکان از دنده سنگین استفاده کنید، دلیل آن را بیان کنید.  
الف) جهت ممانعت از لغزش چرخ ها  
ب) در مواقع ترمز از سرعت کمتری برخوردار باشید.  
ج) به دلیل اینکه دور زیاد موتور باعث لغزش چرخ ها نشود.  
د) در صورت لغزش استفاده از دنده پایین تر امکان پذیر باشد.

۲۸- سائیدگی نامتوازن یا بیش از حد لاستیک ناشی از کدام مورد زیر است؟  
الف) تنظیم نبودن فرمان، عدم تنظیم چرخ ها و ترمزها  
ب) میزان نبودن باد چرخ ها  
ج) سرعت بیش از حد  
د) تاب داشتن گاردان

۲۹- اگر چراغ ترمز شما کار نکند، چه موقع مجاز به رانندگی هستید؟  
الف) در طول روز  
ب) زمانی که به آزمایش رانندگی می روید.  
ج) هیچوقت  
د) در شرایط اضطراری

۳۰- زمانی که ترمز می کنید وسیله نقلیه شما به یک طرف می کشد، عمده ترین اشکال چیست؟  
الف) سطح روغن ترمز پایین است.  
ب) ترمز دستی بالاست.  
ج) ترمزها بخوبی تنظیم نیست.  
د) لاستیک ها بیش از حد ساییده شده است.

۱- تابلوی روبرو به چه معناست؟



الف) حداقل سرعت ۶۰ کیلومتر در ساعت

ب) حداکثر سرعت ۶۰ کیلومتر در ساعت

ج) منطقه اتو سرویس در ۶۰ کیلومتری

د) محل استراحت در ۶۰ کیلومتری



۲- اگر عابری با عصای سفید در دست ببینید، به چه معناست؟

الف) ناشنواست.

ب) معلول است.

ج) مسن است.

د) نابیناست. 

۳- قفل های خاص کودکان که در وسیله نقلیه نصب می شود، برای چه منظوری است؟

الف) جهت قفل کردن پنجره های درب عقب



ب) برای اینکه کودکان به طور ناخواسته درب عقب اتومبیل را باز نکنند.

ج) جهت ممانعت از حرکت صندلی های عقب

د) جهت قفل کردن سگک کمربند ایمنی

۴- حق تقدم عبور در تصویر روبرو با کدام است؟

الف) همه حق تقدم عبور یکسان دارند.

ب) اتومبیل سفید شماره ۲



ج) اتومبیل سیاه رنگ

د) اتومبیل سفید شماره ۱



۵- در چهار راهی با میدان دید کم در حال حرکت هستید چکار باید انجام دهید؟

الف) بدون توجه به طرفین به حرکت ادامه دهید.

ب) در حالیکه طرف راست را نگاه می کنید کاملاً آهسته حرکت کنید.



ج) در حالی که طرفین را نگاه می کنید به آهستگی حرکت کنید.

د) آماده باشید که به سرعت حرکت کنید.

۶- پوشیدن کفش های مناسب به هنگام رانندگی بسیار اهمیت دارد، علت این امر چیست؟



الف) به منظور حفظ کنترل صحیح بر روی پدالها

ب) به منظور راحتی پیاده روی در مواقع نقص اتومبیل

ج) به منظور ممانعت از ساییدگی سطح لاستیک پدالها

د) به منظور تعویض سر دنده

۷- برای روشن کردن اتومبیل اولین کاری که باید انجام شود چیست؟



الف) گرفتن کلاچ با پای چپ

ب) تنظیم آینه ها، خلاص کردن دنده و روشن کردن

ج) ترمز گرفتن

د) خلاص کردن دنده، تنظیم صندلی، بستن کمربند، روشن کردن

۸- زمانیکه رانندگان چراغ های بزرگ را روشن و خاموش می کنند، برای شما به چه معناست؟

الف) به شما حق تقدم می دهند.



ب) شما را از وجود خود مطلع می کنند.

ج) به شما اطلاع می دهند که وسیله ی شما دارای نقص و اشکال است.

د) به شما اطلاع می دهند که گشت پلیس در جاده حضور دارد.

۹- در وضعیت راه خشک و هوای خوب فاصله بین شما و اتومبیل جلویی ... می باشد.

الف) یک ثانیه

ب) دو ثانیه 


ج) سه ثانیه

د) چهار ثانیه

۱۰- قصد دارید تا منزل رانندگی کنید، عینک خود را جهت رانندگی لازم دارید پیدا نمیکنید، چه اقدامی می بایست انجام دهید؟

الف) به هنگام شب رانندگی کنید تا اینکه نور معابر به شما کمک نماید.

ب) از مسیرهای خلوت به آرامی برانید.

ج) باید به طریقی به منزل بروید که به رانندگی نیاز نباشد. 

د) از عینک یکی از دوستان استفاده کرده تا منزل رانندگی کنید.

۱۱- حداکثر سرعت در بزرگراه های واقع در شهر ها و مناطق مسکونی چند کیلومتر در ساعت است؟


الف) ۱۰۰ 

ب) ۱۲۰

ج) ۱۱۰

د) ۱۲۵

۱۲- قصد وارد شدن به خیابان فرعی را دارید، افراد پیاده شروع به عبور از یک سوی خیابان به سوی دیگر کرده اند، چکار باید انجام دهید؟

الف) توقف کرده و به آنان اجازه عبور دهید. 

ب) با دست اشاره کنید تا عبور کنند.

ج) بوق زده و عبور کنید.

د) به حرکت ادامه داده و با فاصله ی زیادی از مقابل آنها عبور کنید.

۱۳- کدامیک از تابلوهای زیر به معنای جریان همگراست؟

الف) شکل شماره ۱ 


ب) شکل شماره ۲

ج) شکل شماره ۳

د) شکل شماره ۴

۱۴- هنگامی که از نزدیکی مدرسه ای عبور می کنید احتمال عبور کودکان وجود دارد، چه اقدامی انجام می دهید؟

الف) با روشن کردن چراغ ها به آنها هشدار می دهید.

ب) همیشه سرعتی مناسب داشته باشید پیش بینی خطرات جانبی را بنمایید. 

ج) قبل از ورود کودکان به سواره رو با سرعت از منطقه عبور می کنید.

د) با بوق زدن مداوم آنان را از عبور خود آگاه سازید.



۱۵- علامت زیر که در آزاد راهها نصب می گردد به چه معناست؟

الف) فاصله شما را تا پل نشان می دهد.

ب) فاصله تا تلفن بعدی را نشان می دهد.

ج) فاصله شما را تا خروجی بعدی نشان می دهد. 

د) نشان دهنده محل بازرسی پلیس



۱۶- تابلوی روبرو چه خطری را هشدار می دهد؟

الف) پارک

ب) عبور اطفال 

ج) پلیس مدرسه

د) عابر در حال عبور



۱۷- در حین رانندگی در صورت برخورد به موارد اضطراری کدامیک از اقدامات زیر را می بایست انجام داد؟

- الف) بلافاصله ترمز کرده و ماشین را به سمت کنار هدایت می کنیم.  
ب) به اعصاب خود مسلط شده و با هر دو دست فرمان می گیریم تا اتومبیل به سمت کنار جاده هدایت کنیم.  
ج) ترمز ناگهانی نگرفته و با نگهداشتن هر دو دست بر فرمان سریع و ایمن گردش کرده و از جاده خارج می شویم.  
د) بلافاصله راهنما زده و با کم کردن سرعت، اتومبیل را به سمت راست هدایت می کنیم.

۱۸- مفهوم تابلوی زیر را بگویید:



- الف) نظارت با دوربین پلیس  
ب) عکسبرداری ممنوع  
ج) کنترل تردد  
د) سینما



۱۹- تابلوی روبرو به چه معناست؟

- الف) فقط عبور به راست مجاز است.  
ب) مسیر یک طرفه  
ج) فقط عبور مستقیم مجاز است.  
د) خیابان یکطرفه



- ۲۰- هنگام دنده عقب گرفتن اتومبیل به علتی قادر به دیدن پشت سر خود نیستید، چکار باید بکنید؟  
الف) شیشه را پایین آورده پشت سر را نگاه کنید.  
ب) در را باز کرده و پشت سر را نگاه کنید.  
ج) از افرادی بخواهید که شما را کمک کنند و به شما فرمان بدهند.  
د) به آینه بغل نگاه کنید.

۲۱- در چه مواقعی مجاز به حرکت با دنده عقب هستید؟

- الف) رانندگی با دنده عقب در همه موارد مجاز است.  
ب) با احتیاط کامل و احتراز از هرگونه حادثه و انسداد راه، می توان در مواقع ضروری با دنده عقب حرکت کرد.  
ج) در راه های یک طرفه می توان با دنده عقب حرکت کرد.  
د) چنانچه قصد ورود از گاراژ خصوصی به خیابان فرعی به اصلی دارید.

۲۲- کدام یک از موارد زیر جزو رفتارهای ناهنجار اجتماعی و ناپسند نمی باشد؟

- الف) نصب بوق های گوش خراش  
ب) رانندگی با سرعت مجاز  
ج) نصب سیستم های صوتی پر قدرت  
د) استفاده از لامپ های غیر مجاز

۲۳- فاصله مناسب از جدول هنگام پارک چه مقدار است؟

- الف) ۱ متر از جلو - نیم متر از عقب - ۴۵ سانت از جدول  
ب) نیم متر از جلو - ۱ متر از عقب - ۴۰ سانت از جدول  
ج) ۱ متر از جلو - ۱ متر از عقب - ۴۵ سانت از جدول  
د) ۱ متر از جلو - نیم متر از عقب - ۴۰ سانت از جدول

۲۴- اتومبیلی جلوی شما از یک فرعی بیرون می آید، چکار باید انجام دهید؟

- الف) با شتاب از کنار او عبور کنید.  
ب) چراغ داده و پشت سر او قرار بگیرید.  
ج) با سرعت از کنارش گذشته و بوق بزنید.  
د) از سرعت خود کاسته و آماده توقف شوید.




۲۵- قانون اولیه رانندگی حرکت از سمت ..... مگر برای ..... است.

الف) چپ - توقف

ب) چپ - گردش

ج) راست - توقف

د) راست - سبقت و گردش به چپ 

۲۶- تابلوی رعایت حق تقدم را مشخص نمایید:

الف) شکل شماره ۱

ب) شکل شماره ۲ 

ج) شکل شماره ۳

د) شکل شماره ۴



۲۷- هر گاه دارنده گواهینامه رانندگی یکی از شرایط پزشکی مربوطه

برای رانندگی را از دست بدهد بایستی ...؟

الف) با همان وضعیت به رانندگی ادامه بدهد.

ب) ظرف مدت یک ماه به راهنمایی و رانندگی مراجعه نماید. 

ج) به آن توجهی ننماید.

د) به درمانگاه مراجعه نماید.

۲۸- مفهوم تابلوی روبرو چیست؟

الف) ایستادن ممنوع

ب) ورود ممنوع

ج) خیابان اصلی 

د) رعایت حق تقدم



۲۹- کدام تابلو نمایش دهنده (مسیر لغزنده است) را نشان می دهد؟

الف) شکل شماره ۱

ب) شکل شماره ۲ 

ج) شکل شماره ۳

د) شکل شماره ۴

۳۰- فاصله شما و اتومبیل جلویی در راه خشک چند ثانیه می باشد؟

الف) ۵ ثانیه

ب) ۳ ثانیه

ج) ۴ ثانیه

د) ۲ ثانیه 



۱- چرا رانندگی در شب مشکل تر است؟

الف) وجود میدان دید طبیعی و کمتر

ب) عدم تشخیص فاصله و سرعت وسایل نقلیه


ج) کم شدن تشخیص عابر پیاده

د) همه موارد 

۲- برای استفاده از ترمز در حین رانندگی بهتر است؟

الف) پا همواره آماده برای ترمز گرفتن باشد.

ب) تمام کف پا را روی پدال ترمز قرار دهید.

ج) پاشنه پا را روی کف اتومبیل گذاشته و با پنجه پدال ترمز را فشار دهید. 

د) با کف پا ترمز را به آهستگی فشار داده و همزمان کلاچ بگیرید.

۳- مفهوم تابلوی زیر چیست؟

الف) تقاطع بدون راه بند

ب) تقاطع راه آهن با راه بند

ج) تقاطع راه آهن بدون راه بند

د) تقاطع با راه آهن 



۴- رانندگان هنگام مشاهده این خطوط چه کاری باید انجام دهند؟

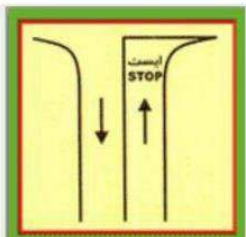
الف) با سرعت عبور کنید.

ب) به راست گردش کنید.

ج) به چپ گردش کنید.

د) توقف کامل نمایید و با رعایت احتیاط

سرعت کم و رعایت حق تقدم عبور کنید. 



۶- ترتیب کدام یک از پاسخ های زیر برای روشن کردن اتومبیل صحیح است؟

الف) خلاص کردن دنده، تنظیم صندلی، بستن کمربند، روشن کردن

ب) تنظیم آینه ها، خلاص کردن دنده و روشن کردن

ج) گرفتن کلاچ، خلاص کردن دنده و روشن کردن 

د) هیچکدام

۵- نحوه گرفتن صحیح فرمان اتومبیل در حالت معمول کدام است؟

الف) با یک دست به فرمان و با دست دیگر دنده را می گیریم.

ب) با هر دو دست و از خارج فرمان را می گیریم. 

ج) با یک دست خارج فرمان و با دست دیگر داخل فرمان را می گیریم.

د) با هر دو دست فرمان را در پایین نگه می داریم.


۸- میخ های زرد چشم گربه ای در چه قسمتهایی نصب می شود؟

الف) در مسیرهای ورودی و خروجی و باندهای کاهش و افزایش سرعت

ب) بین شانه خاکی و باند اصلی

ج) بین هر دو باند مجاز


د) غالباً در مسیر رفت و برگشت جاده ها و در سمت چپ مسیر (یا بین

محل خالی وسط آزاد راه و باند اصلی) 

۷- پس از روشن شدن موتور و آماده بودن برای حرکت ابتدا باید کدام

عمل را انجام داد؟

الف) ابتدا کمربند ایمنی خود را ببندید و مطمئن شوید که سرنشینان نیز

کمربند ایمنی خود را بسته اند. 

ب) ترمز دستی را خلاص کنید.


ج) در حالی که با پای راست ترمز را گرفتیم با پای چپ کلاچ را فشار میدهیم.

د) ترمز پایی را چند بار فشار دهیم تا از سلامت ترمز پایی مطمئن شویم.

۹- تنظیم صندلی برای چیست؟

الف) تسلط بر فرمان پدال های گاز ترمز و کلاچ و دنده

ب) میدان دید طبیعی

ج) گزینه یک و دو 

د) نقطه ی کور برای راننده از بین می رود.

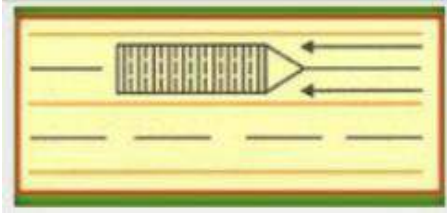
۱۰- خطوط هاشور زیر به چه معنا می باشد؟

الف) موانع در راه است 

ب) سرعت

ج) توقف کامل

د) گردش به راست



۱۱- منظور از خط زرد رنگ زیگزاگ در حاشیه خیابان چیست؟

الف) مخصوص توقف اتومبیل

ب) توقف کوتاه آزاد است.

ج) ایستادن روی آن ممنوع است. 

د) گزینه ۱ و ۲

۱۲- در چه زمان از دور دو فرمانه میتوان استفاده کرد؟

الف) عرض راه محدود باشد. 

ب) تقاطع های کوچک

ج) رسیدن به موانع در خیابانهای کم عرض

د) وارد شدن به کوچه بن بست

۱۳- در شکل مقابل حق تقدم عبور با کدام وسیله است؟

الف) ماشین سفید

ب) ماشین مشکی 

ج) ماشین قرمز


د) ماشینی که سرعتش بیشتر است.



۱۴- یکی از راه های کاهش مصرف سوخت کدام است؟

الف) حرکت با سرعت زیاد

ب) عدم تنظیم موتور

ج) تنظیم باد تایرها 

د) باز کردن ترموستات خودرو در تابستان

۱۵- گواهینامه رانندگی را بنا به درخواست چه کسی باید ارائه نمود؟

الف) مکانیک

ب) بازرس اتومبیل

ج) پلیس ترافیک 

د) مأمور کنترل راه

۱۶- در وضعیت راه خشک و هوای خوب فاصله بین شما و اتومبیل جلویی

... می باشد؟

الف) ۴ ثانیه

ب) ۲ ثانیه 

ج) ۱ ثانیه

د) ۳ ثانیه



۱۷- مفهوم تابلو را بگویید؟

الف) آزاد راه

ب) پایان راه

ج) خیابان اصلی

د) گذرگاه



۱۸- تابلوهای گذرگاه عابر پیاده کدام گزینه می باشد؟

الف) شکل شماره ۱

ب) شکل شماره ۲

ج) شکل شماره ۳

د) شکل شماره ۴



۱۹- هنگامی که پلیس راهنمایی دست خود را از موازات شانه پایین و بالا

ببرد به چه معنا است؟

الف) رانندگان با سرعت عبور کنند.

ب) رانندگان بایستند.

ج) رانندگان وسایل نقلیه در حال حرکت از سرعت

خود بکاهند.

د) بعد از عبور پشت سر او بایستند.



۲۰- تابلوها در آزاد راه ها به رنگ ... هستند؟

الف) آبی

ب) قرمز

ج) سفید

د) سبز

۲۲- قصد دارید تا منزل رانندگی کنید عینک خود را جهت رانندگی لازم

دارید را پیدا نمیکنید چه باید انجام دهید؟

الف) از مسیرهای خلوت به آرامی برانید.

ب) از عینک یکی از دوستان استفاده کرده تا منزل رانندگی کنید.

ج) به هنگام شب رانندگی کنید تا اینکه نور معابر به شما کمک کنند.

د) باید به طریقی به منزل بروید که به رانندگی نیاز نباشد.

۲۱- جهت رانندگی خوب باید از چه فاصله ای پلاک اتومبیل ها را بخوانید؟

الف) از فاصله ۱۵ متری

ب) از فاصله ۱۰ متری

ج) از فاصله ۲۰ متری

د) از فاصله ۲۵ متری

۲۴- تابلوی زیر به چه معنا می باشد ؟

الف) خیابان اصلی

ب) ورود ممنوع

ج) ایستادن ممنوع

د) رعایت حق تقدم



۲۳- تابلوی زیر یعنی؟

الف) حداکثر سرعت ۳۰ کیلومتر

ب) حداقل سرعت ۳۰ کیلومتر

ج) پایان حداقل سرعت ۳۰ کیلومتر

د) پایان حداکثر سرعت ۳۰ کیلومتر





۲۵- تابلوی زیر چیست؟

الف) راه یک طرفه ☒

ب) خیابان یک طرفه

ج) فقط عبور به راست مجاز

د) فقط عبور مستقیم مجاز



۲۶- مفهوم تابلوی زیر چیست؟

الف) منطقه ایستادن ممنوع

ب) توقف ممنوع

ج) ایستادن ممنوع ☒

د) ایست



۲۷- در چه فاصله ای از ورودی و خروجی مراکز آتش نشانی پلیس و

بیمارستانها توقف ممنوع است؟

الف) ۵ متر

ب) ۲۰ متر

ج) ۱۵ متر ☒

د) ۷۰ متر

۲۸- در شکل زیر حق تقدم با ... می باشد؟

الف) خودرو سفید

ب) عابر پیاده ☒

ج) خودرو مشکی

د) خودرو قرمز



۲۹- کدام تابلو به معنای پرتاب سنگ می باشد؟

الف) شکل شماره ۱

ب) شکل شماره ۲ ☒

ج) شکل شماره ۳

د) شکل شماره ۴



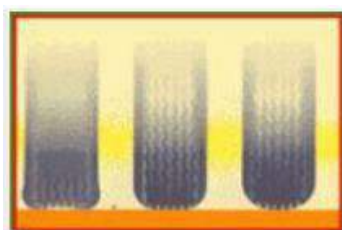
۳۰- کم بودن باد لاستیک بر کدام مورد زیر اثر میگذارد؟ آن را مشخص کنید.

الف) ترمز کردن و هدایت و کار فرمان ☒

ب) تعویض دنده

ج) گرم شدن موتور

د) نیروی موتور



۱- خستگی و خواب آلودگی راننده چه تأثیری بر رانندگی وی دارد؟

الف) افزایش توجه به رانندگی

ب) افزایش سرعت تصمیم گیری در هنگام بروز خطر

ج) شناسایی صحیح وضعیت رانندگی سایر رانندگان

د) کاهش هوشیاری و سرعت واکنش فرد 

۲- تنها زمانی می توانید از تلفن همراه در رانندگی استفاده کنید که ... ؟

الف) در یک محل و مکان امن توقف کرده باشید. 

ب) وسیله نقلیه شما دارای دنده اتوماتیک باشد.

ج) فرمان را با یک دست بگیرید و اتومبیل را هدایت کنید.

د) نیاز به انجام یک تلفن اضطراری باشد.

۳- اگر چراغ ترمز شما کار نکند چه موقع مجاز به رانندگی هستید؟

الف) در طول روز

ب) هیچ وقت 

ج) زمانی که به آزمایش رانندگی میروید.

د) در شرایط اضطراری

۴- تأثیرات مواد مخدر چیست؟

الف) عدم کنترل راننده در شرایط ضروری

ب) اعتنا نکردن به قوانین رانندگی و فرامین پلیس


ج) عدم رعایت شئونات و برهم زدن نظم رانندگی

د) افزایش اعتماد به نفس کاذب - کاهش هوشیاری 

۵- در حین رانندگی در صورت خستگی باید ... ؟

الف) سرعت را کم کرده و به راه ادامه دهیم.

ب) به محض توانستن اتومبیل را متوقف کنیم و در معرض هوای تازه

قرار گیریم. 

ج) با رعایت حق تقدم تغییر مسیر سرعت داده و از سرعت خود بکاهید.

د) بر سرعت خود می افزاییم تا زودتر به مقصد برسیم.

۶- کدام مورد است که به هنگام سبقت گرفتن از آنها باید فضای بیشتری

را برای وسیله نقلیه در نظر بگیرید؟

الف) موتور سیکلت - دوچرخه 

ب) تراکتور

ج) جرثقیل

د) ماشین های مجاور

۷- مفهوم تابلو زیر را بگویید؟

الف) عکسبرداری ممنوع

ب) سینما

ج) نظارت با دوربین پلیس 

د) کنترل تردد

۸- شما با سرعت ۴۵ کیلومتر در ساعت در یک جاده خشک در حال رانندگی

هستید، فاصله ی شما با اتومبیل جلویی چند طول اتومبیل باید باشد؟

الف) ۴ طول اتومبیل

ب) ۲ طول اتومبیل

ج) ۵ طول اتومبیل

د) ۳ طول اتومبیل 





۹- شما در هنگام رانندگی در شهر مجاز هستید حداکثر سرعتی معادل:  
 الف) ۵۰ کیلومتر در خیابان های شریانی اصلی، ۵۰ کیلومتر در خیابان های شریانی فرعی و ۳۰ کیلومتر در معابر محلی و میادین حرکت کنید.  
 ب) ۶۰ کیلومتر در خیابان های شریانی اصلی، ۵۰ کیلومتر در خیابان های شریانی فرعی و ۲۰ کیلومتر در معابر محلی و میادین حرکت کنید.  
 ج) ۶۰ کیلومتر در خیابان های شریانی اصلی، ۵۰ کیلومتر در خیابان های شریانی فرعی و ۳۰ کیلومتر در معابر محلی و میادین حرکت کنید. ✓  
 د) ۶۰ کیلومتر در خیابان های شریانی اصلی، ۴۰ کیلومتر در خیابان های شریانی فرعی و ۲۰ کیلومتر در معابر محلی و میادین حرکت کنید.

۱۰- در صورت زرد شدن چراغ راهنمایی در وسط تقاطع ... ؟  
 الف) متوقف می شوید.



ب) برای تخلیه تقاطع به راه خود ادامه می دهید.  
 ج) بدون رعایت حق تقدم میتوان عبور کرد.  
 د) بلافاصله ترمز کرده با دنده عقب پشت خط عابر متوقف می شوید.

۱۱- توقف یا ایستادن در کدامیک از محل های زیر مجاز است؟

الف) گذرگاه پیاده

ب) پیاده رو

ج) کنار وسیله نقلیه ای که خود متوقف می باشد.



د) محدوده پارک آزاد

۱۲- در تقاطع زیر حق تقدم عبور وسایل نقلیه را با ذکر رنگ تعیین نمایید؟



الف) سبز - قرمز - آبی یا زرد با هم

ب) قرمز - زرد - سبز - آبی

ج) زرد - آبی - قرمز - سبز

د) سبز - آبی - قرمز - زرد



۱۴- کاربرد روش دو ثانیه برای چیست؟

الف) محاسبه زمان



ب) تخمین مسافت خودرو با وسیله جلویی

ج) تست موتور

د) مورد ۱ و ۳

۱۳- حداکثر سرعت در جاده های اصلی:

الف) در روز ۸۰ کیلومتر - شب ۹۰ کیلومتر

ب) در روز ۹۰ کیلومتر - شب ۸۵ کیلومتر



ج) در روز ۹۵ کیلومتر - شب ۸۵ کیلومتر

د) در روز ۸۵ کیلومتر - شب ۹۵ کیلومتر

۱۶- هنگام طوفان - باد شدید بیش از حد مراقب چه مواردی باید بود؟

الف) وانت - تراکتور

ب) ماشین های مجاور - وسایل نقلیه سنگین



ج) موتورسیکلت و دوچرخه

د) ماشین های حامل مسافر - ماشین های حامل بار

۱۵- کدام یک از علائم پلیس راهنمایی زیر به این معنی است که رانندگان

در هر چهار طرف تقاطع باید پشت خط ایست متوقف شوند؟

الف) تصویر ۱



ب) تصویر ۲

ج) تصویر ۳

د) تصویر ۴



۱۷- تابلوی زیر چه خطری را هشدار میدهد؟



الف) سربالایی خطرناک

ب) شیب خطرناک

ج) شیب سربالایی

د) شیب



۱۹- تابلوهای راهنمایی که فرمانی صادر می کنند به چه شکل است؟

الف) مستطیل با حاشیه قرمز

ب) مثلث با حاشیه قرمز



ج) دایره با حاشیه قرمز

د) مستطیل فلش دار با حاشیه قرمز

۱۸- مهمترین عامل تصادفات رانندگی با اتومبیل جلویی چیست؟

الف) شرایط آب و هوایی

ب) عدم توجه کافی به راه - نزدیک شدن بیش از حد به اتومبیل



جلویی

ج) شرایط جاده

د مسائل مکانیکی

۲۰- چه موقعی باید بیش از حد مراقب موتورسیکلت سوارها و دوچرخه

سوار ها باشید؟



الف) در محل تقاطع ها

ب) در جاده دو طرفه

ج) در خط کشی عابرین پیاده

د) در خیابان های یکطرفه

۲۱- در کدام محل است که نباید پارک کنید؟

الف) خیابان اصلی



ب) در ۱۵ متری تقاطع ها و ایستگاه های اتوبوس

ج) در خیابان فرعی

د) در خیابان های یک طرفه

۲۲- مفهوم تابلوی زیر را بگویید؟

الف) سبقت مجاز



ب) پایان تمام محدودیت ها

ج) پایان منطقه محدوده سرعت

د) هیچ کدام



۲۳- مفهوم تابلوی زیر را بگویید؟



الف) ورود به راه اصلی از راست

ب) فرعی به اصلی از راست

ج) اصلی به فرعی از راست

د) ورود به جاده اصلی از چپ



۲۴- به دنبال یک کامیون بزرگ در حال حرکت هستید، کامیون به تقاطع

رسیده و علامت میدهد که به سمت راست گردش کند، ولی در عین حال

به سمت چپ متمایل می شود، چه کار باید انجام دهید؟

الف) فاصله را کاملاً در پشت سر او حفظ کرده و فضا را برای گردش او



آزاد می گذارید.

ب) نزدیک می شوید که به سرعت از او سبقت بگیرید.

ج) تصور میکنید که علامت را اشتباه داده و قصد گردش به چپ را دارد.

د) وقتی کامیون سرعت را کم میکند از او سبقت میگیرید.

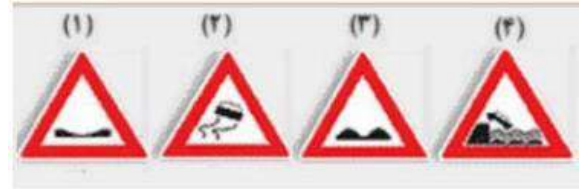
۲۵- راه لغزنده است مربوط به کدام گزینه می باشد؟

الف) شکل شماره ۱

ب) شکل شماره ۲

ج) شکل شماره ۳

د) شکل شماره ۴



۲۶- خطوط به رنگ زرد به صورت زیگزاگ در حاشیه راه های متصل به

پیاده رو نشانگر چیست؟

الف) عبور کردن و ایستادن روی آنها ممنوع است.

ب) ایستادن روی آنها آزاد است.

ج) پارک برای وسیله نقلیه

د) هیچ کدام

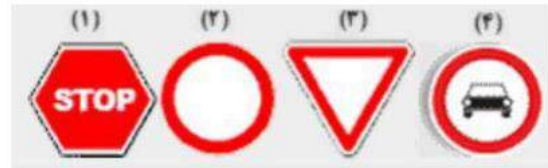
۲۷- تابلوی ورود از هر دو طرف ممنوع کدام است؟

الف) شکل شماره ۱

ب) شکل شماره ۲

ج) شکل شماره ۳

د) شکل شماره ۴



۲۸- در راه های دارای جدول برای پارک در سراسیمبی می باید ... ؟

الف) ترمز دستی را کشیده فرمان را به سمت جدول برگردانیم.

ب) فرمان را به سمت جدول چرخانده و اتومبیل را در دنده بگذاریم.

ج) اتومبیل را در دنده گذاشته و مانعی جلوی لاستیک عقب قرار میدهم.

د) ترمز دستی را کشیده، فرمان را به سمت جدول بچرخانیم و اتومبیل را

در دنده عقب قرار دهیم.

۲۹- در خیابان یک طرفه به سمت راست می پیچید، خود را در چه

موقعیتی قرار می دهید؟

الف) تنها در قسمت چپ خط وسط قرار بگیرید.

ب) در باند سمت چپ قرار بگیرید.

ج) در باند سمت راست قرار بگیرید.

د) در هر باندی امکان دارد.

۳۰- مستطیل افقی معمولاً برای تابلو های ... به کار میرود؟


الف) راهنما و هشدار برای خطرات ناشی از تعمیر و نگهداری

ب) راهنما برای تابلو های دستوری و خدمات

ج) هشدار دهنده برای خطر

د) دستوری و آگاهی از خطرات





- ۱- در شرایط غیرعادی مانند مواقع بارندگی و یخبندان و سرما، کنترل و هدایت و توقف اتومبیل به کدام دلیل مشکل است؟
- (الف) به لحاظ کاهش ضریب اصطکاک چرخ ها
- (ب) به سبب لغزندگی راه ها
- (ج) به لحاظ سرمای هوا و خارج شدن لاستیک ها از حالت طبیعی
- (د) الف و ب هر دو صحیح است. 


- ۲- در چه فاصله ای از پیچ ها دور زدن ممنوع می باشد؟
- (الف) ۱۰۰ متری
- (ب) ۱۵۰ متری 
- (ج) ۲۰۰ متری
- (د) ۲۵۰ متری


- ۳- در شکل مقابل تقاطع هم عرض می باشد، حق تقدم عبور با کدام وسیله است؟
- (الف) قرمز
- (ب) سفید
- (ج) مشکی 
- (د) همه با هم




- ۴- هنگام رانندگی ممنوع می باشد؟
- (الف) استعمال دخانیات
- (ب) خوردن و آشامیدن
- (ج) استفاده از تلفن همراه
- (د) همه موارد 

- ۵- کلاچ گرفتن باعث کدام یک از موارد زیر می شود؟
- (الف) کنترل راننده به حرکت و سرعت اتومبیل کم میشود. 
- (ب) کنترل راننده به حرکت و سرعت اتومبیل بیشتر میشود.
- (ج) پیچیدن به طرفین و چرخاندن فرمان سخت تر میشود.
- (د) پیچیدن به طرفین و چرخاندن فرمان آسان تر میشود.

- ۶- هنگام رانندگی کدام یک از مدارک زیر را باید به همراه داشته باشیم؟
- (الف) کارت اتومبیل، گواهینامه رانندگی
- (ب) بیمه شخص ثالث
- (ج) برگه معاینه فنی معتبر
- (د) همه موارد 

- ۷- متداولترین نوع پارک در شهرها کدامند؟
- (الف) پارک در محل مجاز
- (ب) پارک ۳۰ سانتی متر
- (ج) پارک دوبل 
- (د) پارک در پارکینگ

- ۸- شما به دنبال یک وسیله نقلیه دیگر بر روی یک جاده ی خیس رانندگی می کنید، فاصله زمانی بین شما و اتومبیل جلویی چقدر باید باشد؟
- (الف) دو ثانیه
- (ب) سه ثانیه
- (ج) چهار ثانیه 
- (د) پنج ثانیه

۹- در صورت ترکیدن لاستیک جلوی اتومبیل باید ...



الف) فرمان را محکم گرفته و به آرامی توقف کرد.

ب) به شدت ترمز کرد.

ج) فرمان را رها کرد.

د) هیچ کدام

۱۰- چرا باید برای سبقت از یک وسیله طویل فاصله بیشتری با آن حفظ کرد؟

الف) راحت بتوانیم با سرعت حرکت کنیم.

ب) بتوانیم جلوی کامیون را ببینیم.

ج) برای اینکه در نقطه کور قرار نگرفته و راننده کامیون بتواند ما را ببیند.



د) مورد ب و ج

۱۱- شما با سرعت ۴۵ کیلومتر در ساعت در یک جاده خشک در حال

رانندگی هستید، فاصله شما با اتومبیل جلویی چند طول اتومبیل باید باشد؟



الف) ۳ طول اتومبیل

ب) ۴ طول اتومبیل

ج) ۵ طول اتومبیل

د) ۲ طول اتومبیل

۱۲- مفهوم تابلوی زیر چیست؟

الف) خطوط همگرا



ب) افزایش خطوط عبور

ج) کاهش خطوط عبور

د) انحراف یکی از خطوط عبور



۱۳- دسترسی در آزاد راه ها چگونه است؟

الف) از طریق تقاطع ها

ب) از طریق اولین خروجی



ج) از طریق پل های هوایی و زیر گذر ها

د) تا شهرک یا تقاطع جاده دیگر راهی ندارد.

۱۴- برای خروج از پارک باید؟

الف) آینه عقب اتومبیل را کنترل کرده و راهنمای سمت چپ را روشن

کنیم، سپس سر را به چپ چرخانده با احتیاج به حق تقدم ور از پارک



خارج میشویم.

ب) با رعایت حق تقدم عبور خارج میشویم.

ج) راهنما زده و با رعایت حق تقدم عبور خارج میشویم.

د) راهنما زده و با دست علامت میدهید، سپس با اطمینان از کنار خود از

پارک خارج میشویم.

۱۵- خطوط زیگزاگ شکل رو به رو به چه معناست؟

الف) توقف کامل روی این خطوط آزاد است.



ب) عبور کردن و ایستادن روی این خطوط ممنوع است.

ج) عبور کردن آزاد، اما ایستادن روی آن ممنوع است.

د محل پارک اتومبیل ها می باشد.

۱۶- تابلوی (راه لغزنده است) کدام یک از گزینه های زیر می باشد؟


الف) شکل شماره ۱

ب) شکل شماره ۲

ج) شکل شماره ۳



د) شکل شماره ۴






۱۷- چرا رانندگی در شب سخت تر است؟

الف) محدود بودن حوزه دید راننده

ب) عدم تشخیص به موقع عابر پیاده

ج) عدم تشخیص فاصله و سرعت وسایل نقلیه


د) همه موارد 

۱۸- تابلوی زیر به چه معنا می باشد؟

الف) دور زدن در میدان

ب) میدان


ج) تامین حرکت

د) جهت عبور در میدان 



۱۹- تابلوهای بازدارنده را تابلوهای ... نیز می گویند که بیشتر به شکل ...

با نوار حاشیه ای ... رنگ هستند؟

الف) انتظامی - دایره - قرمز 

ب) هشدار دهنده - دایره - قرمز

ج) انتظامی - مثلث - قرمز

د) هشداردهنده - مثلث - آبی

۲۰- تابلوی زیر به چه معنا می باشد؟

الف) تقاطع با راه آهن

ب) تقاطع جاده و راه آهن در ۲۰۰ متری 

ج) خروجی از آزاد راه ۲۰۰ متر

د) ورودی به آزاد راه ۲۰۰ متر




۲۱- تابلوی رعایت حق تقدم کدام گزینه می باشد؟

الف) شکل شماره یک

ب) شکل شماره دو 

ج) شکل شماره سه

د) شکل شماره چهار



۲۲- برای راه اندازی خودرو راننده در چه مرحله ای بایستی کمربند

ایمنی را ببندد؟

الف) در حین حرکت

ب) پس از روشن کردن موتور خودرو 

ج) قبل از روشن کردن موتور خودرو

د) نیازی به بستن کمربند ایمنی نمی باشد.

۲۳- گواهینامه رانندگی یک سند رسمی است که تنها به ... نشان داده

می شود.

الف) بازرس اتومبیل

ب) پلیس ترافیک 

ج) مامور کنترل راه

د) همه موارد

۲۴- تابلوی راه یک طرفه کدام گزینه می باشد؟

الف) شکل شماره یک

ب) شکل شماره دو

ج) شکل شماره سه 


د) شکل شماره چهار









۲۵- کدام گزینه ها صحیح می باشد؟

- الف) حداقل سرعت در آزاد راه ها ۷۰ و حداکثر سرعت ۱۲۰ کیلومتر در ساعت
- ب) حداکثر سرعت در بزرگراه ها درون شهری ۱۰۰ کیلومتر در ساعت
- ج) حداکثر سرعت در جاده های اصلی ۹۵ کیلومتر در ساعت در شب
- د) حداکثر سرعت در معابر محلی ۳۰ کیلومتر در ساعت 


۲۶- کدام مورد زیر علت تصادف با اتومبیل جلویی است؟


- الف) تغییر نور چراغ ها
- ب) عبور عابر پیاده در مناطق شهری
- ج) شروع ترافیک وسایل نقلیه
- د) عدم توجه کافی به راه نزدیک شدن بیش از حد به اتومبیل جلویی 

۲۷- در برخورد راه اصلی با راه فرعی تقدم عبور با وسیله ای است که ... ؟


- الف) از راه فرعی عبور می کند.
- ب) به سمت راست گردش می کند.
- ج) از راه اصلی عبور می کند. 
- د) تابلو ها - چراغ راهنما - فرمان پلیس - خط کشی

۲۸- مستطیل قائم معمولاً برای تابلو های ... به کار میروند؟


- الف) صرفاً برای رعایت حق تقدم
- ب) معمولاً برای تابلو های دستوری و خدمات 
- ج) راهنما و هشدار برای خطرات
- د) راهنمای مسیر



۲۹- مفهوم تابلوی زیر چیست؟

- الف) عبور کامیون
- ب) مسیر ویژه کامیون
- ج) مسیر توصیه شده برای وسایل سنگین 
- د) عبور کامیون های کم ظرفیت

۳۰- تابلوی زیر یعنی ... ؟

- الف) عبور چرخ دستی
- ب) عبور گاری ممنوع
- ج) عبور خودروی کشاورزی ممنوع
- د) عبور چرخ دستی ممنوع 




۱- کدام یک از تابلوها به معنای تابلوی جریان همگرا است؟

الف) شکل شماره یک

ب - شکل شماره دو 

ج) شکل شماره سه

د) شکل شماره چهار



۲- تابلوی زیر چه مفهومی دارد؟

الف) عبور اطفال

ب) محل عبور دانش آموزان

ج) به مدرسه نزدیک میشوید.

د) مدرسه 



۳- تابلوهای هشداردهنده یا ... بیشتر به صورت ... با نور حاشیه ... رنگ

و زمینه ... رنگ می باشد.

الف) خطاری - مثلث - قرمز - سفید 

ب) اخباری - دایره - قرمز - آبی

ج) خطاری - مربع - قرمز - سفید

د) انتظامی - پنج ضلعی - قرمز - سفید

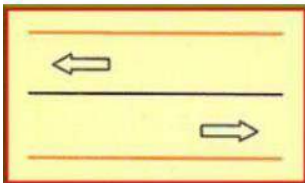
۴- در مورد شکل زیر کدام گزینه صحیح می باشد؟

الف) رانندگان فقط برای سبقت می توانند از آن عبور کنند.

ب) رانندگان به هیچ وجه نبایستی حتی از روی آن عبور کنند. 

ج) رانندگان فقط بر روی گردش میتوانند از آن عبور کنند.

د) عبور از این خطوط آزاد می باشد.



۵- در شرایط یخبندان مسافت توقف چند برابر افزایش می یابد؟

الف) ۱۰ برابر 

ب) ۵ برابر

ج) ۲ برابر

د) ۱۲ برابر

۶- حداکثر سرعت در خیابانهای شریانی اصلی ... کیلومتر در ساعت و

در خیابان های شریانی فرعی ... کیلومتر در ... ساعت و در معابر محلی ...

کیلومتر در ساعت است.

الف) اصلی ۶۰ - فرعی ۵۰ - محلی ۲۰

ب) اصلی ۵۰ - فرعی ۶۰ - محلی ۳۰

ج) اصلی ۶۰ - فرعی ۵۰ - محلی ۳۰ 

د) اصلی ۵۰ - فرعی ۶۰ - محلی ۲۰

۸- شما به دنبال یک وسیله نقلیه دیگر بر روی یک جاده خیس رانندگی

می کنید، فاصله زمانی بین شما و اتومبیل جلویی چقدر باید باشد؟

الف) دو ثانیه


ب) چهار ثانیه 

ج) شش ثانیه

د) هشت ثانیه

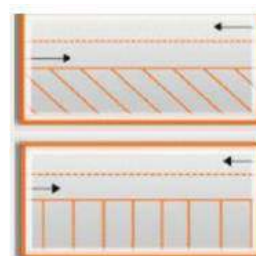
۷- خطوط در شکل زیر به معنا است؟

الف) تعریض حاشیه خیابان

ب) خطوط پارک 

ج) توقف روی خط ممنوع

د) مسیر کانال زیرگذر



۹- کدام یک از موارد زیر صحیح است؟



الف) باز کردن درهای وسیله نقلیه پیش از توقف کامل مجاز نیست.

ب) عبور وسایل نقلیه از پیاده روها مجاز است.

ج) اجازه رانندگی به شخص فاقد گواهینامه مجاز است.

د) ۲ توقف در ۱۰ متری ورودی بیمارستان ها مجاز است.

۱۰- به هنگام رانندگی در طول روز در شرایط مه آلود چه کاری باید انجام

دهید؟

الف) از نور بالا استفاده کنید.

ب) چراغ راهنما را روشن کنید.

ج) چراغ بغل را روشن کنید.



د) از نور پایین استفاده کنید.

۱۱- مفهوم تابلوی زیر چیست؟



الف) خط عبور برای گریز

ب) راه مستقیم بسته است.

ج) عبور اجباری از راه فرعی

د) گریز از مسیر محدود



۱۲- موثر ترین عضو بدن در رانندگی کدام است؟

الف) دست ها

ب) پاها



ج) چشمها

د) قلب

۱۴- طبق تصویر زیر راننده چه کاری می خواهد انجام دهد؟

الف) می خواهد به راست گردش کند.

ب) می خواهد مستقیم حرکت کند.



ج) میخواهد گردش به چپ انجام دهد.

د) می خواهد بایستد.



۱۳- از روشن شدن موتور و آماده بودن برای حرکت ابتدا باید کدام عمل

را انجام داد؟

الف) ترمز پایی را چند بار فشار دهیم تا از سلامت ترمز پایی مطمئن شویم.

ب) در حالی که با پای راست ترمز گرفته ایم با پای چپ کلاچ را فشار دهیم.

ج) ترمز دستی را خلاص کنیم.

د) ابتدا کمربند ایمنی خود را ببندید و مطمئن شوید که سرنشینان نیز



کمربند ایمنی را بسته اند.

۱۵- منظور ان این علامت پلیس راهنمایی چیست؟

الف) عبور از دو طرف آزاد

ب) هدایت اتومبیل ها به طرفین جهت روان تر شدن ترافیک


ج) وسایل نقلیه ای که در امتداد مسیر دست های مامور نشان داده می



شود اجازه حرکت ندارند (ایست نمایید)

د) علامت ایست برای اتومبیل های مقابل و دستور

حرکت برای اتومبیل های پشت



۱۶- مفهوم خطوط منقطع زیر چیست؟

الف) رانندگان باید توقف کامل نمایند و سس با رعایت احتیاط عبور کنند.

ب) رانندگان از سرعت خود کم کرده و با احتیاط و رعایت حق تقدم عبور



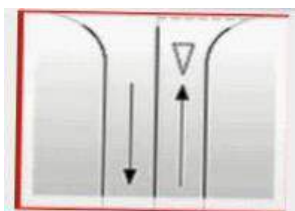
کنند.

ج) رانندگان سرعت خود را کاهش داده

و به راست گردش کنند.

د) رانندگان با سرعت و رعایت حق تقدم

عبور کنند.



۱۷- تابلو زیر به چه معناست ؟

الف) فقط عبور مستقیم مجاز

ب) خیابان یک طرفه ☒

ج) راه یک طرفه

د) فقط عبور به راست مجاز



۱۸- به هنگام ترکیدن لاستیک کدام مورد را باید انجام داد؟

الف) دنده را تعویض کرده و سس ترمز کنید.

ب) ترمز کرده و سریع متوقف کنید.

ج) فرمان را به شدت و محکم بگیرید و اجازه دهید اتومبیل خود به خود

متوقف شود. ☒

د) فرمان را شل بگیرید و محکم ترمز کنید.

۱۹- در شکل زیر حق تقدم عبور با کدام وسیله می باشد؟

الف) قرمز

ب) مشکی ☒

ج) سفید

د) سفید و مشکی



۲۰- تابلوی زیر یعنی ... ؟

الف) رعایت حق تقدم

ب) ایست ☒

ج) توقف ممنوع

د) ورود ممنوع



۲۱- تابلوی زیر یعنی ... ؟

الف) سبقت ممنوع ☒

ب) پایان سبقت ممنوع

ج) عبور سواری ممنوع

د) توقف ممنوع



۲۲- بخش وسط در راه هایی که به وسیله خط کشی یا علائم دیگر به سه

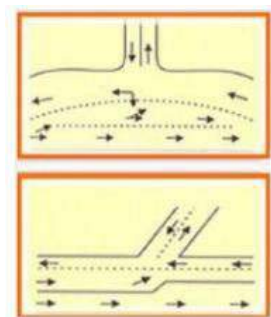
بخش تقسیم شده است، چه مفهومی دارد؟

الف) سبقت گرفتن

ب) گردش به چپ

ج) سبقت و گردش به چپ ☒

د) سبقت و گردش به راست




۲۳- تابلوی توقف ممنوع کدام گزینه می باشد؟

الف) شکل شماره ۱

ب) شکل شماره ۲

ج) شکل شماره ۳ ☒

د) شکل شماره ۴



۲۴- تابلوی عبور وسایل نقلیه موتوری ممنوع کدام گزینه می باشد؟

الف) شکل شماره ۱ ☒


ب) شکل شماره ۲

ج) شکل شماره ۳

د) شکل شماره ۴



۲۵- در چند متری تقاطع ها نباید توقف نمود؟

الف) ۱۵ متری 

ب) ۲۰ متری

ج) ۲۵ متری

د) ۳۰ متری

۲۶- کدام گزینه نسبت به گزینه های دیگر در اولویت میباشد؟


الف) فرمان پلیس 

ب) چراغ راهنما

ج) خط کشی

د) تابلو ها

۲۷- بیشترین نوع آلودگی وسایل نقلیه موتوری کدام است؟

الف) آلودگی هوا 

ب) آلودگی شنیداری

ج) آلودگی دیداری

د) آلودگی

۲۸) حداقل فاصله مناسب از جدول هنگام پارک ... ؟

الف) نیم متر از جلو - یک متر از عقب - ۴۰ سانتیمتر از جدول

ب) یک متر از جلو - نیم متر از عقب - ۴۵ سانتیمتر از جدول

ج) یک متر از جلو - یک متر از عقب - ۴۰ سانتیمتر از جدول

د) یک متر از جلو - یک متر از عقب - ۴۰ سانتیمتر از جدول 

۲۹- تابلوی زیر چه نام دارد؟

الف) راه لغزنده


ب) پرتاب سنگ

ج) شانه خطرناک 

د) دست انداز

۳۰- تابلوی زیر چه مفهومی دارد؟

الف) گذرگاه پیاده

ب) گذرگاه عابر پیاده 

ج) عبور اطفال

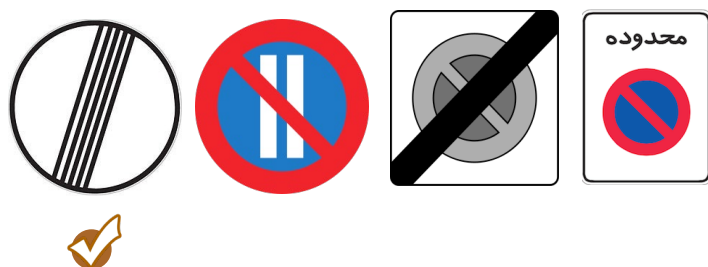
د) فقط عبور پیاده



۱- کدام تابلو درباره عبور عابر پیاده هشدار می دهد؟



۲- کدام تابلو درباره توقف نمی باشد؟



۳- در هنگام رانندگی و مشاهده چراغ چشمک زن قرمز چه اقدامی باید انجام داد؟

۱- ایست و عبور ✓

۲- عبور با احتیاط

۳- عبور از تقاطع با سرعت زیاد و احتیاط لازم

۴- عبور از تقاطع با سرعت کم و احتیاط لازم

۴- هرگاه وسیله نقلیه موتوری در راه ها از کار بیفتد و به دلیل نور کافی نیاز به چراغ نباشد راننده باید مثلث های شبرنگ را در چه فاصله ای از طرف عقب و جلو وسیله نقلیه به نحوی که قابل دیدن باشد قرار دهد؟

۱- ۷۰ متری ✓

۲- ۱۰۰ متری

۳- ۱۵۰ متری

۴- ۲۰۰ متری

۵- کدامیک از موارد زیر در خصوص رانندگی در شرایط ریزش برف و باران صحیح نمی باشد؟

۱- باید چراغ های نور پایین را روشن نمود

۲- استفاده از برف پاک کن در صورت شدت یافتن ریزش باران

۳- استفاده از سیستم تهویه خودرو

۴- عدم استفاده از چراغ ها در شب ✓

۶- براساس قوانین مصوب، رانندگانی که از راه فرعی وارد راه اصلی می شوند باید ...

۱- پیش از ورود، توقف و بارعایت حق تقدم وارد راه اصلی شود ✓

۲- سریعاً وارد راه اصلی گردند


۳- سریعاً به سمت چپ گردش نماید

۴- سریعاً به سمت راست گردش نمایند

۷- کدام تابلو ممنوعیت عبور وسایل نقلیه موتوری را اعلام می دارد؟



۸- کدام تابلو، درباره حق تقدم عبور نمی باشد؟





۹- عنوان این تابلو چیست؟

۱- ریزش سنگ

۲- سرازیری سنگ

۳- سربالایی خطرناک

۴- شیب سرازیری ۱۲ درصد ✓



۱۰- این تابلو بیانگر چیست؟

۱- عبور پیاده ممنوع ✓

۲- عبور عابر پیاده

۳- گذرگاه عابر پیاده

۴- فقط عبور پیاده



۱۱- این تابلو بیانگر چیست؟

۱- پایان حداقل سرعت ۳۰ کیلومتر ✓

۲- حداقل سرعت ۳۰ کیلومتر

۳- منطقه محدودیت سرعت

۴- سرعت بیش از ۳۰ کیلومتر بر ساعت ممنوع



۱۲- در چند متری پیچ ها، سبقت گرفتن ممنوع است؟

۱- ۳۰ متری

۲- ۵۰ متری ✓

۳- ۴۰ متری

۴- سبقت گرفتن در پیچ ها محدودیت ندارد.

۱۳- سبقت گرفتن در راه ها در کدام مورد مجاز است؟

۱- از ۱۰۰ متری مانده به پیچ ها

۲- از ۱۵۰ متری ورودی تونل ها

۳- اتوبوس و کامیون ها در معابر شهری ✓

۴- از ۱۰۰ متری پس از پیچ ها

۱۴- رانندگان هنگام روبرو شدن با وسایل نقلیه ای که

در جهت مخالف حرکت می کند حداقل از چند متری از

چراغ عبور (نور پایین) استفاده می نمایند؟

۱- ۱۵۰ متری ✓

۲- ۱۰۰ متری

۳- ۵۰ متری

۴- ۲۵۰ متری

۱۵- استفاده از تلفن همراه در حین رانندگی ...

۱- مجاز است

۲- ممنوع است ✓

۳- فقط در معابر شهری مجاز است.

۴- در صورت حواس پرتی ممنوع است.

۱۶- براساس آیین نامه راهنمایی و رانندگی، ایستادن

ممنوع ..... است؟

۱- توقف مطلقا ممنوع ✓

۲- توقف

۳- توقف ممنوع

۴- ایست وسیله نقلیه در زمان کوتاه

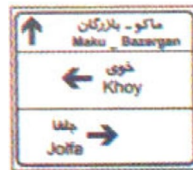
۱۷- حداکثر سرعت در بزرگ راه های درونشهری چند کیلومتر در ساعت است؟

- ۱- ۱۰۰ کیلومتر در ساعت ✓
- ۲- ۷۰ کیلومتر در ساعت
- ۳- ۹۵ کیلومتر در ساعت
- ۴- ۱۱۰ کیلومتر در ساعت

۱۸- در راه های یک طرفه، حرکت برخلاف مسیر تعیین شده ... ؟

- ۱- برای گردش به چپ آزاد است
- ۲- با دادن علامت و زدن چراغ راهنما مانعی ندارد
- ۳- ممنوع است ✓
- ۴- مجاز است

۱۹- کدامیک از تابلوهای زیر جزو تابلوهای راهنمای مسیر نمی باشد؟



۲۰- کدامیک از تابلوهای زیر جزو تابلوهای اخباری نمی باشد؟



۲۱- مفهوم شکل مقابل علائم عبور و مرور چیست؟

- ۱- معمولاً برای تابلوهای دستوری و خدماتی
- ۲- علامت هشدار دهنده برای خطر
- ۳- شروع و پایان حق تقدم مسیر
- ۴- معمولاً برای علائم راهنما ✓



۲۲- این تابلو بیانگر چیست؟

- ۱- جاده دو طرفه ✓
- ۲- حق تقدم عبور با شما
- ۳- حق تقدم عبور
- ۴- راهنمای مسیر



۲۳- در خیابان ها و جاده هایی که نور کافی وجود دارد ...

- ۱- باید تنها از چراغ های جانبی جلو و عقب استفاده نمود. ✓
- ۲- باید از نور بالا استفاده نمود.
- ۳- تمام چراغ ها را باید خاموش نمود.
- ۴- باید از نور پایین استفاده نمود.

۲۴- کدام گزینه در مورد گردش به چپ در راههای یک طرفه درست است؟

- ۱- گردش به چپ در خیابان یک طرفه ممنوع است.
- ۲- رانندگان موظفند وسیله نقلیه را به منتهی الیه طرف راست خیابان هدایت و سپس به چپ گردش کنند.
- ۳- رانندگان موظفند وسیله نقلیه را به منتهی الیه طرف چپ خیابان هدایت و سپس به چپ گردش کنند. ✓
- ۴- باید منتظر بمانند تا خیابان خلوت شود.



۲۵- تکیه نمودن و آویزان شدن اشخاص به وسایل نقلیه ...

۱- مجاز است.

۲- با رعایت احتیاط مجاز است.

۳- ممنوع است. ✓

۴- در صورت بی خطر بودن مجاز است.

۲۶- شستشوی وسایل نقلیه در راه ها ...

۱- ممنوع است

۲- مجاز است

۳- باعث سد راه و ایجاد خطر و انحراف وسایل نقلیه

امسیر حرکت می شود

۴- موارد ۱ و ۳ ✓

۲۷- در چه شرایطی می توان شاسی خودرو را عوض نمود؟

۱- در هیچ شرایطی نمی توان عوض نمود.

۲- تعویض آن دلبخواه و بدون اشکال است.

۳- تنها با مجوز راهنمایی و رانندگی می توان به این کار اقدام نمود. ✓

۴- مجوز کارخانه سازنده برای این کار کافی است.

۲۸- برای امن کردن محل حادثه با چه اقدامی می توان صحنه را عاری از خطر نمود؟

۱- خاموش کردن وسیله نقلیه حادثه دیده

۲- مراقب سلامت خود باشید

۳- مصدوم را تا حد ممکن از محل دور نمایید.

۴- موارد ۱ و ۲ ✓

۲۹- ترمز سرویس (ترمز یابی) مطابق با الزامات استانداردهای خودرویی باید بر... عمل کند.

۱- فقط بر چرخهای محرک

۲- فقط بر چرخهای جلو

۳- فقط بر چرخهای عقب

۴- بر تمامی چرخ ها عمل کند ✓

۳۰- چه هنگام می توان از ترمز دستی استفاده نمود؟

۱- هنگام توقف خودرو و یا در سرعتهای بسیار پایین ✓

۲- در هر شرایطی

۳- تنها در سرعتهای بالا

۴- هنگام حرکت در سرازیری ها یا سربالایی ها

۳۱- چه هنگام می توان از ترمز دستی استفاده نمود؟

۱- هنگام توقف خودرو و یا در سرعتهای بسیار پایین ✓

۲- در هر شرایطی

۳- تنها در سرعتهای بالا

۴- هنگام حرکت در سرازیری ها یا سربالایی ها

۳۲- این تابلو بیانگر چیست؟

۱- منطقه محدودیت سرعت

۲- پایان محدوده توقف ممنوع

۳- پایان محدوده پارک آزاد

۴- محدوده توقف ممنوع در

ساعات معین ✓



۳۳- این تابلو بیانگر چیست؟

۱- جایگاه سوخت ✓

۲- تلفن عمومی

۳- تفرجگاه

۴- هتل



۳۴- چرا شکسته و کثیف بودن شیشه های خودرو می تواند خطرناک باشد؟

۱- چون باعث کاهش دید می شود ✓

۲- چون باعث کاهش انعکاس نور می شود

۳- چون باعث افزایش انعکاس نور می شود

۴- شکسته و کثیف بودن شیشه ها خطر آفرین نمی باشد.

۳۵- این تابلو بیانگر چیست؟

۱- خروجی از آزادراه ۱۰۰ متر

۲- خروجی از آزادراه ۲۰۰ متر ✓

۳- تقاطع جاده و راه آهن در ۱۰۰ متری

۴- تقاطع جاده و راه آهن در ۲۰۰ متری



۳۶- کدام یک از موارد زیر باید قبل از شروع حرکت مورد بازبینی قرار بگیرد؟

۱- کلاچ - شیشه ها - گازها

۲- ترمزها - برف پاکن - بوق - کلاچ - گاز

۳- سیستم روشنایی - پلاک - تایرها - بوق - آئینه ها - کلاچ

۴- سیستم روشنایی - آئینه ها - ترمز - تایرها - میزان آب

✓ رادیاتور و شیشه شور - بوق - برف پاک کن - پلاک خودرو

۳۸- در آزاد راه های برون شهری، حداقل سرعت چند کیلومتر در ساعت است؟

۱- ۷۰ ✓

۲- ۵۰

۳- ۶۰

۴- ۶۵

۳۷- کدام وسیله می تواند به عنوان بازخوردی مناسب، صحت یا عدم سلامت بخشهای مهمی از خودرو همچون سیستم جلوبندی و وضعیت فرمان پذیری را آشکار نماید؟

۱- پدال ترمز

۲- پدال گاز

۳- غربیلک فرمان ✓

۴- آینه بغل

۴۰- کدام یک از موارد زیر به منظور ایمن کردن صحنه حادثه رانندگی می باشد؟

۱- رعایت فاصله مناسب، بررسی وضعیت مصدومین، دور کردن

۲- رعایت فاصله مناسب، کشیدن چند نفس عمیق و آرام

۳- موتور اتومبیل را خاموش کنید، در صورتی که نمیتوانیم عامل

✓ خطر ساز را حذف کنیم مصدوم را از محیط دور کنیم

۴- همه موارد

۳۹- سوئیچ استارت معمولاً دارای چند حالت است؟

۱- ۴ حالت ✓

۲- ۵ حالت

۳- ۳ حالت

۴- ۲ حالت

#### ۴۱- کمکهای اولیه چیست؟

- ۱- به اقدامات اولیه می گویند که بلافاصله پس از بروز سانحه و قبل از رسیدن به مرکز درمانی صورت می گیرد. ✓
- ۲- به اقدامات اولیه که در درمانگاه و اورژانس انجام می شود.
- ۳- به اقدامات اولیه قبل از بروز حادثه و برای جلوگیری از آن می گویند
- ۴- هیچکدام

#### ۴۲- کدام یک از موارد ذیل برای ایمن کردن صحنه تصادف صحیح نمی باشد؟

- ۱- قبل از هر اقدامی مطمئن شوید خطری شما را تهدید نمی کند.
- ۲- به هیچ وجه خود را در خطر جدی قرار ندهید.
- ۳- خودروی خود را در فاصله ای مناسب از صحنه حادثه پارک نمایید.
- ۴- برای نجات مصدومین باید ریسک نمود و با شتاب به کمک آنها شتافت. ✓

#### ۴۳- این تابلو بیانگر چیست؟



- ۱- پایان جداکننده
- ۲- شروع جداکننده ✓
- ۳- جریان همگرا
- ۴- برآمدگی

#### ۴۴- این تابلو بیانگر چیست؟



- ۱- تعمیرگاه
- ۲- هتل
- ۳- بیمارستان ✓
- ۴- بوق زدن ممنوع

#### ۴۵- براساس آیین نامه راهنمایی و رانندگی، منظور از ایست وسیله نقلیه در زمان کوتاه کدام است؟

- ۱- ایستادن ✓
- ۲- ایست وسیله نقلیه برای هر مدت زمانی
- ۳- ایستادن ممنوع
- ۴- ایست وسیله نقلیه در زمان کوتاه

#### ۴۶- در آزادراه های برون شهری و مناطق غیرمسکونی، حداقل سرعت چند کیلومتر در ساعت است؟

- ۱- ۶۰
- ۲- ۵۰
- ۳- ۷۰ ✓
- ۴- ۶۵

#### ۴۷- در شبها و در راه های بیرون شهر ( جاده های بیرون شهری ) حداکثر سرعت چند کیلومتر در ساعت است؟

- ۱- ۸۵ ✓
- ۲- ۹۵
- ۳- ۶۵
- ۴- ۷۵

#### ۴۸- پرباد بودن تایر خودرو می تواند باعث بروز کدامیک از موارد زیر شود؟

- ۱- فرمان پذیری خودرو را کاهش داده و باعث ایجاد خطر می گردد. ✓
- ۲- باعث افزایش مصرف سوخت در سرعت های زیر ۵۰ کیلومتر در ساعت می شود.
- ۳- باعث فرسایش تایر در سرعت های بالای ۵۰ کیلومتر خواهد بود.
- ۴- باعث سر خوردن لاستیک در حین ترمز در سرعت های زیر ۵۰ کیلومتر

۱- در برخورد راه اصلی با راه فرعی حق تقدم عبور با وسیله ای است که ... ؟

- (۱) از راه اصلی عبور می کند. ✓
- (۲) از راه فرعی عبور می کند.
- (۳) به سمت راست گردش می کند.
- (۴) در طرف راست وسیله نقلیه دیگر قرار دارد.

۲- علائم هشدار دهنده برای خطر به چه شکلی ترسیم می گردند؟

- (۱) هشت گوشه
- (۲) دایره ای
- (۳) لوزی شکل
- (۴) مثلث ✓

۳- در راه های شیب دار کوهستانی که در آنها عبور دو وسیله نقلیه کنار هم مشکل می باشد، حق تقدم عبور با کدام است؟

- (۱) وسیله نقلیه ای که در سرازیری در حال حرکت است.
- (۲) حق تقدم با وسیله نقلیه سبک می باشد.
- (۳) وسیله نقلیه ای که در سربالایی در حال حرکت است. ✓
- (۴) حق تقدم با وسایل نقلیه سنگین است.

۴- علائم اخباری برای گرفتن سبقت در شب کدام مورد است؟

- (۱) تعویض نور چراغ بالا به پایین ✓
- (۲) بوق کوتاه و چراغ راهنما
- (۳) اشاره با دست
- (۴) افزایش سرعت و تبدیل متناوب نور

۵- حداکثر سرعت در بزرگراه های واقع در شهر ها و مناطق مسکونی چند کیلومتر در ساعت است؟

- (۱) ۱۰۰ ✓
- (۲) ۱۲۰
- (۳) ۱۱۰
- (۴) ۱۲۵

۶- در معابر محلی حداکثر سرعت چند کیلومتر در ساعت می باشد؟

- (۱) ۴۰
- (۲) ۵۰
- (۳) ۴۵
- (۴) ۳۰ ✓

۷- در هنگام روبرو شدن با وسیله نقلیه ای که از جهت مخالف حرکت می کند، برای افزایش ایمنی تردد از چه فاصله ای باید چراغ نور پایین استفاده نمود؟

- (۱) ۱۵۰ متری ✓
- (۲) ۵۰ متری
- (۳) ۱۰۰ متری
- (۴) ۷۵ متری

۸- کدام مورد زیر از مصادیق رانندگی پرخطر و پرخطرگرانه است؟

- (۱) رانندگی بین خطوط
- (۲) توقف پشت خط ایست
- (۳) رعایت فاصله طولی
- (۴) مانور و تغییر مسیر به طور مکرر ✓

۹- از جمله احتیاط های لازم در هنگام وقوع تصادفات انجام کدامیک از موارد زیر اشتباه است؟

- (۱) روشن نگه داشتن خودرو حتی در صورتی که خودرو قابلیت حرکت ندارد. ✓
- (۲) هشدار توسط افراد به دیگر رانندگان تا سرعت خودرو را کاهش دهند.
- (۳) استفاده از تابلوهای اعلام خطر
- (۴) تذکر جهت روشن نکردن سیگار در صورت آسیب باک سوخت خودرو ها

۱۰- یکی از عوامل اصلی حوادث جاده ای مرگ و میر در گروه سنی زیر ۴۰ سال در کشور ایران چه چیزی می باشد؟

- (۱) رعایت قوانین و مقررات
- (۲) رعایت سرعت مطمئنه
- (۳) رعایت اصول ایمنی
- (۴) بی توجهی به فرهنگ رانندگی و عدم رعایت قوانین و مقررات ✓

۱۱- به مجموع رفتارهای منفی در رانندگی چه می گویند؟

- (۱) رانندگی مطمئنه
- (۲) رانندگی ایمن
- (۳) رانندگی خطر ساز و یا رانندگی تهاجمی ✓
- (۴) فرهنگ رانندگی

۱۲- وظیفه کنیستر در خودرو چیست؟

- (۱) از تبخیر روغن موتور جلوگیری می کند.
- (۲) عمر باتری را طولانی می کند.
- (۳) از تبخیر آب رادیاتور جلوگیری می کند.
- (۴) از ورود بخار های بنزین به فضای آزاد جلوگیری میکند. ✓

۱۳- میزان کارایی روغن های معمولی موتور چند کیلومتر می باشد؟

- (۱) در حدود ۸ تا ۱۰ هزار کیلومتر ✓
- (۲) در حدود ۸۰ تا ۱۰۰ هزار کیلومتر
- (۳) در حدود ۲ هزار کیلومتر
- (۴) هزار کیلومتر

۱۴- در ارزیابی مصدومین کدامیک از مصدومین را باید در اولویت انجام کمک های اولیه قرار داد؟

- (۱) مصدومینی که آسیب های آنها کم تر است.
- (۲) کودکان در اولویت انجام کمک های اولیه هستند.
- (۳) مصدومینی که از سن بالاتری نسبت به سایر مصدومین برخوردارند.
- (۴) مصدومینی که آسیب آنها بسیار شدید است نظیر سوختگی ها یا زخم های وسیع. ✓

۱۵- اگر خودرویی با نور بالا از روبرو به شما نزدیک شود چه باید بکنید؟

- (۱) باید سرعت را افزایش داده و سریع از کنار آن عبور کرد.
- (۲) باید با تبدیل نور پایین به نور بالا و بوق ممتد او را متوجه نمود که نور پایین استفاده کند.
- (۳) باید سرعت را کاهش داده و به سمت چپ جاده نگاه کرد.
- (۴) سرعت را کاهش داده و به سمت راست جاده نگاه کرده و با کنار چشم حرکت خودروی مقابل را تحت نظر داشت. ✓

۱۶- کدام یک از موارد زیر جزو رفتار ناهنجار اجتماعی و ناپسند نمی باشد؟

- (۱) نصب بوق های گوش خراش
- (۲) رانندگی با سرعت مجاز ✓
- (۳) نصب سیستم های صوتی پر قدرت
- (۴) استفاده از لامپ های غیر مجاز

۱۷- به منظور جلوگیری از آسیب رسی به بخش های موتور  
تسمه تایم پس از طی چه مسافتی بایستی تعویض شود؟

(۱) بین ۱۰ تا ۱۵ هزار کیلومتر

(۲) بین ۶۰ تا ۹۰ هزار کیلومتر ✓

(۳) با هر بار تعویض روغن

(۴) هر ۵ هزار کیلومتر

۱۸- از زمانی که راننده تشخیص می دهد نیاز به توقف  
دارد تا لحظه به کار گرفتن ترمز های چه نام دارد؟

(۱) مسافت توقف

(۲) مسافت ترمز

(۳) زمان واکنش ✓

(۴) زمان ترمز

۱۹- توقف و یا ایستادن در کدامیک از محل های زیر مجاز  
است؟

(۱) گذرگاه پیاده

(۲) پیاده رو

(۳) کنار وسایل نقلیه ای که خود متوقف می باشد.

(۴) محدوده پارک آزاد ✓

۲۰- در کدامیک از موارد زیر بوق زدن مجاز است؟

(۱) صدا زدن افراد

(۲) سبقت مجاز در روز ✓

(۳) اعلام حضور و باز کردن در منزل

(۴) خداحافظی

۲۱- این تابلو بیانگر چیست؟

(۱) رعایت حق تقدم

(۲) به تابلوی رعایت حق تقدم نزدیک می شوید. ✓

(۳) به تابلو ایست نزدیک می شوید.

(۴) تقاطع فرعی و اصلی



۲۲- نام این تابلو چیست؟

(۱) عبور دوچرخه ممنوع

(۲) عبور موتور گازی ممنوع

(۳) فقط عبور دوچرخه

(۴) عبور دوچرخه سوار ✓



۲۳- نام این تابلو چیست؟

(۱) آزاد راه

(۲) پایان آزاد راه ✓

(۳) پل متحرک

(۴) شانه خطرناک



۲۴- نام این تابلو چیست؟

(۱) حداقل سرعت ۶۰ کیلومتر

(۲) رعایت فاصله کم تر از ۶۰ متر ممنوع

(۳) سرعت بیش از ۶۰ کیلومتر بر ساعت ممنوع

(۴) سرعت توصیه شده ✓



۲۵- کدام تابلو مربوط به پارکینگ می باشد؟



۲۶- نام این تابلو چیست؟



- (۱) چاله ✓
- (۲) راه لغزنده
- (۳) دست انداز
- (۴) شانه خطرناک

۲۷- نام این تابلو چیست؟



- (۱) پیچ های پی در پی
- (۲) شانه خطرناک
- (۳) راه لغزنده ✓
- (۴) راه از راست باریک می شود

۲۸- این تابلو بیان گر چیست؟



- (۱) دور زدن ممنوع ✓
- (۲) گردش به چپ ممنوع
- (۳) پیچ های پی در پی
- (۴) پیچ به چپ

۲۹- این تابلو بیان گر چیست؟



- (۱) ورود ممنوع
- (۲) رعایت حق تقدم
- (۳) خیابان اصلی ✓
- (۴) عبور کلیه وسایل نقلیه ممنوع

۳۰- نام این تابلو چیست؟



- (۱) پرتاب سنگ ✓
- (۲) ریزش سنگ
- (۳) شانه خطرناک
- (۴) دست انداز



۱- در راه های مسطح که دو طرف راه منتهی به کوه و پرتگاه می باشد حق تقدم عبور با وسیله نقلیه ای است که ... ؟

(۱) در طرف کوه قرار دارد.

(۲) سرعت بالاتری دارد.

(۳) در طرف پرتگاه قرار دارد. 

(۴) سرعت کم تری دارد.

۲- در محل توقف (پارک) کنار خیابان حق تقدم با وسیله نقلیه ای است که ... ؟

(۱) وابسته به سازمان های دولتی است.

(۲) مستقیم و در مسیر مجاز حرکت می نماید.

(۳) ضمن حرکت به عقب مشغول توقف یا پارک کردن است. 


(۴) ابعاد بزرگتری دارد.

۳- در چند متری ورودی تونل ها سبقت گرفتن ممنوع است؟

(۱) ۱۸۰ متری

(۲) ۱۵۰ متری

(۳) ۲۰۰ متری

(۴) ۱۰۰ متری 

۴- چند متر بعد از تونل و پل ها سبقت آزاد است؟

(الف) ۵۰ متری

(۲) سبقت از انتهای آنها مجاز است. 

(۳) ۱۰۰ متری

(۴) ۷۰ متری

۵- در بزرگراه های بیرون شهر، حداکثر سرعت مجاز برای انواع وانت بار چند کیلومتر در ساعت است؟

(۱) ۱۲۰

(۲) ۱۲۵

(۳) ۱۱۰ 

(۴) ۱۳۰

۶- حداکثر میزان سرعت مجاز در بزرگراه های بیرون شهری برای سواری چند کیلومتر در ساعت است؟

(۱) ۸۵ کیلومتر در ساعت

(۲) ۹۵ کیلومتر در ساعت

(۳) ۱۲۵ کیلومتر در ساعت

(۴) ۱۱۰ کیلومتر در ساعت 

۷- استفاده از چراغ های رنگارنگ و چشمک زن در وسایل نقلیه ... ؟

(۱) ممنوع است مگر با اخذ مجوز از مراجع ذیصلاح 

(۲) مجاز است.

(۳) محدودیتی ندارد.

(۴) در معابر شهری ممنوع نیست.

۸- تا چه فاصله ای از تقاطع ها و میادین توقف وسایل نقلیه ممنوع است؟

(۱) ۲۰ متری

(۲) ۱۵ متری 

(۳) ۳۰ متری

(۴) ۲۵ متری



۹- کدامیک از پاسخ های زیر در خصوص نقص در سیستم جلو بندی و یا شکستگی آن صحیح می باشد؟

(۱) تایرهای عقب خودرو ساییده می شود.

(۲) مصرف سوخت افزایش می یابد.

(۳) هدایت و کنترل خودرو از دست راننده خارج میگردد. ✓

(۴) رادیاتور خودرو جوش می آورد.

۱۰- کدام یک از موارد زیر در خصوص عبور از روی خط آهن است؟

(۱) در حین عبور از خط آهن بایستی دنده خودرو را از دنده سبک به دنده سنگین تغییر داد.

(۲) در حین عبور از خط آهن می بایستی از تعویض دنده خودداری نمود. ✓

(۳) در حین عبور از خط آهن دنده خودرو را از دنده سنگین به دنده سبک تغییر داد.

(۴) قبل از رسیدن به خط آهن باید سرعت را افزایش داده و با سرعت از خط آهن عبور نمود.

۱۱ - هرگاه دارنده گواهینامه رانندگی یکی از شرایط پزشکی مربوط برای رانندگی را از دست بدهد بایستی ... ؟

(۱) با همان وضعیت به رانندگی ادامه دهد.

(۲) ظرف مدت یک ماه به راهنمایی و رانندگی مراجعه نماید. ✓

(۳) به آن توجهی ننماید.

(۴) به درمانگاه مراجعه نماید.

۱۲- در گذرگاه پیاده که فاقد چراغ راهنمایی و رانندگی است حق تقدم عبور با کدام است؟

(۱) وسیله نقلیه در حال حرکت

(۲) پیادگان ✓

(۳) وسیله نقلیه در حال گردش

(۴) وسیله نقلیه که متوقف شده است.

۱۳- یکی از علت های نقض قوانین و مقررات و بی احترامی به سایر رانندگان و انجام اقدامات حادثه ساز توسط راننده کدام مورد میباشد؟

(۱) داشتن خودروی ایمنی

(۲) وقت شناس نبودن و عدم برنامه ریزی مناسب برای رسیدن به مقصد

(۳) از مهارت و تجربه کافی در رانندگی برخوردار است.

(۴) راننده در زمان خلوتی معابر میتواند قوانین و مقررات را نقض و اقدامات حادثه ساز انجام دهد. ✓

۱۴- کدام مورد زیر از مصادیق حقوق شهروندی در حین رانندگی است؟

(۱) حرکت با سرعت غیر مجاز

(۲) حرکت غیر ایمن

(۳) حرکت مارپیچ در رانندگی

(۴) حرکت بین خطوط ترافیک ✓

۱۵- یکی از راه های کاهش مصرف سوخت کدام است؟

(۱) حرکت با سرعت زیاد

(۲) عدم تنظیم موتور

(۳) تنظیم باد تایرها ✓

(۴) باز کردن ترموستات خودرو در تابستان

۱۶- برای راه اندازی خودرو راننده در چه مرحله ای بایستی کمر بند ایمنی را ببندد؟

(۱) در حین حرکت

(۲) پس از روشن کردن موتور خودرو ✓

(۳) قبل از روشن کردن موتور خودرو

(۴) نیازی به بستن کمر بند ایمنی نمی باشد.

۱۷- کدام قطعه از ورود گرد و غبار به داخل موتور جلوگیری می کند؟

(۱) انژکتور

(۲) صافی بنزین

(۳) صافی هوا ✓

(۴) پروانه

۱۸- یکی از مزیت های ترمز های ضد قفل ABS عبارت است از ...  
(۱) در هنگام ترمز گیری از قفل شدن درهای خودرو جلوگیری می کند.

(۲) در هنگام ترمز گیری مسافت توقف خودرو را افزایش می دهد.

(۳) در هنگام ترمز گیری موجب سر خوردن وسیله نقلیه می شود.

(۴) در هنگام ترمز گیری امکان فرمان دادن و هدایت بهتر خودرو را می دهد. ✓

۱۹- تا چند متری ورودی و خروجی مراکز فوریت های پزشکی ایستادن وسایل نقلیه ممنوع است؟

(۱) ۱۵۰ متری

(۲) ۲۰ متری

(۳) ۱۵ متری ✓

(۴) محدودیتی ندارد.

۲۰- در هنگام پارک در سربالایی و در راه بدون جدول، فرمان وسیله نقلیه باید به کدام سمت چرخانده شود؟

(۱) سمت چپ

(۲) تفاوتی ندارد.

(۳) سمت راست ✓

(۴) مخالف عقربه ساعت

۲۱- این تابلو بیان گر چیست؟

(۱) جهت عبور در میدان

(۲) رعایت حق تقدم

(۳) به تابلوی ایست نزدیک می شوید. ✓

(۴) به میدان نزدیک می شوید.



۲۲- نام این تابلو چیست؟

(۱) راه از چپ باریک می شود. ✓

(۲) پیچ به راست

(۳) جاده باریک می شود.

(۴) خطر



۲۳- این تابلو بیان گر چیست؟

(۱) شروع محل پیاده روی

(۲) شیب سربالایی ۱۰ درصد

(۳) زیر گذر یا رو گذر ✓

(۴) گذرگاه پیاده



۲۴- نام این تابلو چیست؟

(۱) تونل

(۲) ورود به شهر

(۳) پایان شهر

(۴) پایان تونل ✓



۲۵- کدام تابلو بیان گر (خط عبور برای گریز) میباشد؟



۲۶- این تابلو بیان گر چیست؟



(۱) ایست

(۲) ایستادن ممنوع

(۳) عبور وسایل نقلیه موتور ممنوع

(۴) سبقت ممنوع



۲۷- این تابلو بیان گر چیست؟

(۱) پیچ به چپ

(۲) پیچ به راست

(۳) گردش به چپ ممنوع

(۴) گردش به راست ممنوع



۲۸- این تابلو بیان گر چیست؟

(۱) عبور کلیه وسایل نقلیه ممنوع

(۲) حق تقدم عبور با شما

(۳) حق تقدم عبور با وسیله نقلیه مقابل است.

(۴) سبقت ممنوع



۲۹- نام این تابلو چیست؟

(۱) تونل

(۲) تقاطع

(۳) بن بست

(۴) پایان آزاد راه



۳۰- نام این تابلو چیست؟



(۱) ریزش سنگ

(۲) پرتاب سنگ

(۳) راه لغزنده

(۴) جاده باریک می شود.



۱- حرکت کردن از روی خطوط هاشور در حاشیه راه ها که معمولاً کناره اتوبان ها ، آزاد راه ها ، بزرگراه ها و تونل ها کشیده می شوند... ؟

(۱) مجاز است.

(۲) در شب ها مجاز است.

(۳) در صورت ترافیک سنگین مجاز است.

(۴) ممنوع است. 

۲- در راه هایی که مسیر حرکت وسایل نقلیه به علت وجود موانع ثابت اعم از وسایل نقلیه پارک شده، مصالح ساختمانی، اشیاء، عملیات عمرانی، حفاری و خرابی راه بسته و یا برای عبور از مسیر مجاز کافی نباشد، حق تقدم عبور با وسیله ای است که ... ؟

(۱) به مسیر راست گردش می کند.

(۲) مسیر عبور آنها باز یا سهم عبور بیشتری را دارا می باشد. 

(۳) به طور مستقیم و در سمت و مسیر مجاز حرکت می کند.

(۴) مسیر عبور آنها بسته یا سهم کم تری را دارا می باشد.

۳- سبقت از طرف راست وسیله نقلیه ای که در حال گردش به چپ می باشد .... ؟

(۱) فقط در معابر شریانی درجه دو ممنوع است.

(۲) ممنوع است.

(۳) در هنگام روز مجاز است.

(۴) مجاز است. 

۴- رانندگان کلیه وسایل نقلیه موظفند از کدام خط عبور راه حرکت نمایند؟

(۱) خط وسط

(۲) سمت راست 

(۳) سمت چپ

(۴) خط زیگزاگ

۵- کدامیک از موارد زیر توسط راننده مجاز است؟

(۱) ریختن زباله از داخل خودرو به بیرون

(۲) حرکات نمایشی و دور زدن در جا

(۳) پرتاب آب دهان به بیرون

(۴) بستن دو عدد چراغ ویژه مه با نور زرد در دو طرف

قسمت جلوی خودرو 

۶- حداکثر میزان سرعت مجاز در بزرگراه های بیرون شهری برای سواری چند کیلومتر در ساعت است؟

(۱) ۱۰۰ کیلومتر در ساعت

(۲) ۱۱۰ کیلومتر در ساعت 

(۳) ۹۵ کیلومتر در ساعت

(۴) ۸۵ کیلومتر در ساعت

۷- کدام یک از موارد زیر صحیح می باشد؟

(۱) باز کردن درهای وسیله نقلیه پیش از توقف کامل مجاز نیست. 

(۲) عبور وسایل نقلیه از پیاده رو ها مجاز است.

(۳) اجازه رانندگی به شخص فاقد گواهینامه مجاز است.

(۴) توقف در ۱۰ متری ورودی بیمارستان ها مجاز است.

۸- دور زدن تا چه فاصله ای از پیچ ها که میدان دید کافی ندارند ممنوع است؟

(۱) ۲۵۰ متری

(۲) ۲۰۰ متری

(۳) ۳۰۰ متری

(۴) ۱۵۰ متری 

۹- استفاده از لاستیک های فرسوده و غیر استاندارد در وسایل نقلیه چگونه است؟  
(۱) مجاز است.

(۲) ممنوع است. 

(۳) در صورت ضرورت بلامانع است.


(۴) در تابستان بلامانع است.

۱۰- برای گردش به چپ در راه های بیرون شهر که منحصر به دو خط عبور رفت و برگشت بوده و مانع فیزیکی وسط جاده نداشته باشد، رانندگان موظفند وسیله نقلیه را ... ؟

(۱) در وسط راه متوقف و با علامت دادن به سایرین گردش نمایند.

(۲) راهنمای سمت چپ را روشن و گردش نمایند.


(۳) در شانه راه و یا منتهی الیه سمت راست راه متوقف و سپس

با رعایت حق تقدم گردش نمایند. 

(۴) در وسط راه یا زدن راهنما به سمت چپ گردش نمایند.

۱۱- ترمز دستی به نام ترمز ABS و ترمز پایی به نام ترمز ... یا ترمز سرویس شناخته می شود.

(۱) اولیه - ثانویه

(۲) ثانویه - اولیه 

(۳) قدرتی - سرعتی

(۴) سرعتی - قدرتی

۱۲- حرکت در پوشش وسایل نقلیه امدادی در حال مأموریت برای سایر وسایل نقلیه چگونه است؟  
(۱) مجاز است.

(۲) محدودیتی ندارد.

(۳) در صورت رعایت ایمنی مجاز است.

(۴) ممنوع است. 

۴- کدامیک از موارد زیر جان فرد را به خطر می اندازد؟

(۱) فقدان تنفس 

(۲) بالا بودن درجه حرارت بدن

(۳) داشتن ضربان قلب

(۴) خراشیدگی پوس

۱۳- در صورتی که خودرو جوش آورده چه اقدامی بایستی انجام داد؟  
(۱) در کنار راه متوقف و در رادیاتور را باز کرده و داخل آن آب اضافه نماییم.

(۲) به مسیر خود ادامه داده و خودرو را به اولین تعمیرگاه انتقال دهیم.

(۳) در کنار راه توقف و به هیچ وجه در رادیاتور را باز نکنید و با

احتیاط مقداری آب بر روی رادیاتور بریزید. 

(۴) خودرو را در حین حرکت خاموش تا رادیاتور خنک شود.

۱۶- کدام مورد نمونه ای از رفتار پرخطر هنگام رانندگی است؟

(۱) حرکت بین خطوط

(۲) توجه به جلو

(۳) رعایت فاصله طولی

(۴) استفاده از تلفن همراه 

۱۵- رانندگی هر فرد نشان دهنده چه چیزی میباشد؟

(۱) میزان سواد

(۲) شخصیت و درک اجتماعی 

(۳) میزان ثروت

(۴) معروف بودن

۱۷- کدام مورد زیر منظور و مفهوم رانندگی با سرعت مطمئنه است؟

- (۱) رانندگی بر اساس شرایط محیطی و جاده ای ✓
- (۲) رانندگی با سرعت های بالا
- (۳) رانندگی با سرعت های پایین
- (۴) رانندگی در ساعات روز

۱۸- راه هایی که مسیر حرکت وسایل نقلیه به علت وجود موانع ثابت مانند وسایل نقلیه پارک شده ، مصالح ساختمانی بسته یا برای عبور از مسیر مجاز کافی نباشد حق تقدم عبور با کیست؟

- (۱) وسایل نقلیه ای که دارای عرض بیشتری میباشند.
- (۲) وسایل نقلیه ای که مسیر عبور آنها باز یا سهم بیشتری را دارا باشند. ✓
- (۳) وسایل نقلیه ای که سرعت بیشتری دارند.
- (۴) نیازی به رعایت حق تقدم عبور نبوده و هر وسیله

۱۹- در کدام مورد زیر سبقت گرفتن ممنوع است؟

- (۱) ۲۰۰ متری سربالایی
- (۲) ۲۰۰ متری پیچ ها
- (۳) بر روی خط ممتد ✓
- (۴) ۲۰۰ متری تونل ها

۲۰- خستگی و خواب آلودگی راننده چه تاثیری بر رانندگی وی دارد؟

- (۱) افزایش توجه به رانندگی
- (۲) افزایش سرعت تصمیم گیری در هنگام بروز خطر
- (۳) شناسایی صحیح وضعیت رانندگی سایر رانندگان
- (۴) کاهش سطح هوشیاری و سرعت واکنش فرد ✓

۲۱- این تابلو بیان گر چیست؟

- (۱) تقاطع راه آهن با راه بند
- (۲) جهت وزش باد شدید از چپ
- (۳) جهت وزش باد شدید از راست ✓
- (۴) تقاطع راه آهن بدون راه بند



۲۲- این تابلو بیان گر چیست؟

- (۱) سربالایی خطرناک ✓
- (۲) شیب سربالایی ۱۰ درصد
- (۳) شیب سرازیری ۱۰ درصد
- (۴) خطر سقوط در آب

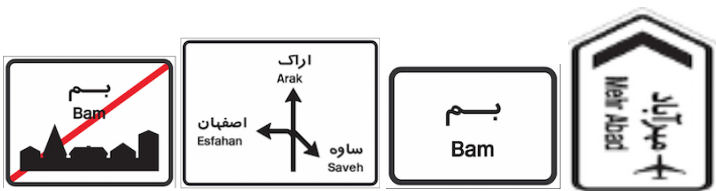


۲۳- نام این تابلو چیست؟

- (۱) تقاطع راه آهن با راه بند
- (۲) خطر سقوط در آب
- (۳) راه لغزنده
- (۴) پل متحرک ✓



۲۴- کدامیک از تابلوهای زیر (ورود به شهر) میباشد؟



۲۵- نام کدام تابلو (راهنمای مسیر) می باشد؟



۲۶- این تابلو بیان گر چیست؟

(۱) بسته بودن یکی از خطوط عبور

(۲) بن بست

(۳) سمت راست بن بست

(۴) خط عبور برای گریز



۲۸- این تابلو بیان گر چیست؟

(۱) عبور با عرض بیش از ۲ متر ممنوع

(۲) عبور با بار بیش از ۲ تن بر هر محور ممنوع

(۳) عبور وسایل نقلیه با وزن بیش از ۲ تن

(۴) عبور با ارتفاع بیش از ۲ متر ممنوع



۲۷- این تابلو بیانگر چیست؟

(۱) ایستادن ممنوع

(۲) محل پارک کردن

(۳) ورود ممنوع

(۴) ایست



۳۰- این تابلو بیان گر چیست؟

(۱) حق تقدم عبور با تاکسی

(۲) حق تقدم عبور با شما

(۳) راه دو طرفه

(۴) حق تقدم عبور با وسیله نقلیه مقابل



۲۹- این تابلو بیان گر چیست؟

(۱) رعایت فاصله بیشتر از ۷۰ متر ممنوع

(۲) رعایت فاصله کم تر از ۷۰ متر ممنوع

(۳) سرعت بیش از ۷۰ کیلومتر بر ساعت

(۴) سرعت کمتر از ۷۰ کیلومتر بر ساعت





۱- در سه راه ها حق تقدم عبور با وسیله نقلیه ای است که ؟

(۱) سریع تر از وسیله نقلیه دیگر حرکت می کند.

(۲) به چپ گردش می کند

(۳) به راست گردش می کند

(۴) به طور مستقیم و در سمت و مسیر مجاز حرکت میکند. ✓

۲- در تقاطع هم عرض اگر دو وسیله نقلیه ای که روبروی یکدیگر در حرکتند بخواهند باهم وارد خیابان مجاور واحدی شوند حق تقدم عبور با وسیله نقلیه ای است که ... ؟

(۱) به سمت راست گردش می کند. ✓

(۲) به سمت چپ گردش می کند.

(۳) وابسته به سازمان های دولتی است.

(۴) ابعاد بزرگ تری دارد.

۳- علائم اخباری برای گرفتن سبقت در روز کدام مورد است؟

(۱) تعویض نور چراغ بالا و پایین

(۲) بوق کوتاه و چراغ راهنما ✓

(۳) اشاره با دست

(۴) بوق مکرر و ممتد

۴- در چند متری ورودی تونل ها، سبقت گرفتن ممنوع است؟

(۱) ۱۲۰ متری

(۲) ۱۵۰ متری

(۳) ۱۰۰ متری ✓

(۴) ۲۰۰ متری

۵- میزان سرعت مجاز در آزاد راه ها و بزرگراه ها چگونه

تعیین می شود؟

(۱) بر اساس فصول سال

(۲) بر اساس میزان سرعت خودرو

(۳) بر اساس مهارت راننده

(۴) بر اساس تابلوهای نصب شده ✓

۶- حداکثر سرعت در میدان ها چند کیلومتر در ساعت است؟

(۱) ۷۰ کیلومتر در ساعت

(۲) ۵۰ کیلومتر در ساعت

(۳) ۳۰ کیلومتر در ساعت ✓

(۴) ۶۰ کیلومتر در ساعت

۷- در کدام موارد زیر توقف مجاز است؟

(۱) روی پل

(۲) درون تونل ها

(۳) معابر در ارتفاع

(۴) ۲۰ متری میادین ✓

۸- کدامیک از موارد زیر در خصوص تبدیل نور بالا به پایین اشتباه است؟

(۱) زمانی که فاصله خودرویی که از روبرو به شما نزدیک میشود ۱۵۰ متر یا کمتر باشند نور بالا را به نور پایین تبدیل کنید.

(۲) زمانی که فاصله شما با خودرویی که در جلوی شما در حرکت است ۱۵۰ متر یا کمتر است.

(۳) زمانی که خودرویی از روبرو به شما نزدیک میشود، نور بالا را به نور پایین تبدیل کنید.

(۴) زمانی که خودرویی در پشت سر شما حرکت می کند، نور بالا را

به نور پایین تبدیل کنید. ✓



۹- دور زدن از چه فاصله ای از تونل ها که دید کافی و ایمنی لازم را ندارد، ممنوع است؟

(۱) ۲۵۰ متری

(۲) ۱۵۰ متری ✓

(۳) ۲۰۰ متری

(۴) ۳۰۰ متری

۱۰- تابلوهای منع کننده با چه رنگی نشان داده تابلو چیست؟

(۱) زرد فسفری

(۲) قهوه ای تیره

(۳) نارنجی

(۴) قرمز ✓

۱۱- نام این می شوند؟

(۱) ورود ممنوع

(۲) ورود از هر دو طرف ممنوع ✓

(۳) راه باز است

(۴) عبور ممنوع



۱۲- نام این تابلو چیست؟

(۱) عبور عابر پیاده

(۲) گذرگاه عابر پیاده

(۳) عبور اطفال ✓

(۴) عبور پیادگان



۱۳- نام این تابلو چیست؟

(۱) استراحتگاه

(۲) جایگاه سوخت

(۳) تعمیرگاه ✓

(۴) پست امدادی



۱۴- نام این تابلو چیست؟

(۱) ورود به شهر

(۲) ابتدای منطقه مسکونی ✓

(۳) ابتدای شهر

(۴) پایان شهر



۱۵- این تابلو بیان گر چیست؟

(۱) پارکینگ

(۲) پارک سوار

(۳) محدوده توقف ممنوع در طول شبانه روز

(۴) محدوده پارک آزاد ✓



۱۶- این تابلو بیان گر چیست؟

(۱) عابر پیاده

(۲) عبور عابر پیاده

(۳) گذرگاه

(۴) عبور پیاده ممنوع ✓



۱۷- این تابلو بیانگر چیست؟

(۱) حق تقدم عبور با شما

(۲) حق تقدم عبور با وسیله نقلیه مقابل ✓

(۳) راه سمت چپ مسدود است.

(۴) خیابان دو طرفه



۱۸- نام این تابلو چیست؟

(۱) پایان سبقت ممنوع

(۲) توقف ممنوع

(۳) پایان تمام محدودیت ها ✓

(۴) تقاطع با راه آهن



۱۹- نام این تابلو چیست؟

(۱) پیچ به راست

(۲) پیچ به چپ ✓

(۳) گردش به راست ممنوع

(۴) گردش به چپ ممنوع



۲۰- کدام گزینه در مورد ضد یخ صحیح می باشد؟

(۱) بهتر است کل مخزن رادیاتور به جای آب از ضد یخ پر شود.

(۲) عدم استفاده از ضد یخ در تابستان می تواند منجر به

جوش آوردن زودتر موتور شود. ✓

(۳) ضد یخ در جلوگیری از زنگ زدگی رادیاتور و قطعات

سیستم خنک کاری موثر نیست.

(۴) مایع ضد یخ از یخ زدگی آب در سرما جلوگیری نمیکند.

۲۱- نام این تابلو چیست؟

(۱) ورود ممنوع ✓

(۲) راه مسدود است.

(۳) ورود از هر دو طرف ممنوع

(۴) توقف ممنوع



۲۲- سطح روغن موتور را با چه وسیله ای میتوان کنترل نمود؟

(۱) سطح روغن (گیج روغن) ✓

(۲) در مخزن روغن

(۳) فیلتر روغن

(۴) پمپ روغن

۲۳- در هنگام افزایش دمای موتور برای خنک شدن سریع

موتور چه اقدامی انجام می دهید؟

۱) آب بر روی بلوک موتور می ریزیم.

۲) به طور متناوب ولی با احتیاط آب را بر روی موتور می ریزیم.

۳) با احتیاط فقط آب تصفیه شده بر روی بلوک موتور می ریزیم.

۴) با احتیاط مقداری آب بر روی رادیاتور میریزیم. ✓

۲۴- کدامیک از موارد زیر در خصوص ایمن کردن صحنه حادثه می باشد؟

(۱) پارک خودرو در فاصله مناسب - کشیدن چند نفس عمیق و آرام

(۲) مطمئن شدن از اینکه خطری شما را تهدید نمی کند - پارک خودرو

در فاصله مناسب - استفاده از تابلوی اعلام خطر ✓

(۳) استفاده از تابلو اعلام خطر - گرفتن شرح و حال از مصدومین -

کشیدن چند نفس آرام و عمیق

(۴) پارک خودرو در نزدیکی صحنه تصادف - بررسی وضعیت مصدومین

- دور کردن مصدوم

۲۵- (( دیر رسیدن بهتر از هرگز نرسیدن است)) جمله چه مفهومی را می رساند؟

- (۱) پرهیز از عجله و شتاب در رانندگی ✓
- (۲) رعایت کردن قوانین مربوط به پارک
- (۳) عدم توجه به قوانین و مقررات
- (۴) با سرعت بالا حرکت کردن از صحنه حادثه

۲۶- کدام مورد نمونه ای از رفتار پر خطر هنگام رانندگی است؟

- (۱) حرکت بین خطوط
- (۲) استفاده از تلفن همراه ✓
- (۳) توجه به جلو
- (۴) رعایت فاصله طولی

۲۷- در کدامیک از سطوح زیر مسافت توقف افزایش میابد؟

- (۱) آسفالت با شرایط مطلوب ولی خشک
- (۲) در جاده های سنگلاخ
- (۳) آسفالت با شرایط نامطلوب و آغشته به قیر ✓
- (۴) آسفالت زبر

۲۸- کدامیک از موارد زیر در حین رانندگی مجاز است؟

- (۱) استعمال دخانیات
- (۲) استفاده از تلفن همراه
- (۳) عدم تمرکز
- (۴) توجه کامل به جلو ✓

۲۹- چه هنگام می توان از ترمز دستی استفاده نمود؟

- (۱) هنگام توقف خودرو و یا در سرعت های بسیار پایین ✓
- (۲) تنها در سرعت های بالا
- (۳) در هر شرایطی
- (۴) هنگام حرکت در سرازیری ها یا سربالایی ها

۳۰- در صورت ترکیدن لاستیک جلوی اتومبیل باید ....؟

- (۱) به شدت ترمز کرد.
- (۲) فرمان را رها کرد.
- (۳) فرمان را محکم گرفته و به آرامی توقف کرد. ✓
- (۴) ۱ و ۲ صحیح است.

۱- این تابلو بیانگر چیست؟

(۱) تراکم ترافیک

(۲) میدان ✓

(۳) پیچ به چپ

(۴) جهت عبور در میدان



۲- نام این تابلو چیست؟

(۱) عبور پیاده ممنوع

(۲) گذرگاه عابر پیاده ✓

(۳) عبور عابر پیاده

(۴) عبور اطفال



۳- این تابلو بیانگر چیست؟

(۱) سبقت ممنوع

(۲) راه لغزنده

(۳) توقف ممنوع

(۴) عبور سواری ممنوع ✓



۴- این تابلو بیانگر چیست؟

(۱) جهت عبور در میدان

(۲) عبور از هر دو سمت مجاز ✓

(۳) عبور به چپ مجاز

(۴) عبور از سمت راست مجاز



۵- نام این تابلو چیست؟

(۱) شانه خطرناک ✓

(۲) راه لغزنده

(۳) پل متحرک

(۴) برآمدگی



۶- نام این تابلو چیست؟

(۱) عبور حیوانات اهلی


(۲) فقط عبور آهو

(۳) عبور حیوانات وحشی ✓

(۴) پایان منطقه مسکونی



۸- کدام تابلو بیان گر (کاهش خطوط عبور) میباشد؟



۷- نام این تابلو چیست؟

(۱) تقاطع با راه آهن

(۲) ورود ممنوع

(۳) توقف ممنوع

(۴) تقاطع ✓



۹- این تابلو بیان گر چیست؟

(۱) فقط عبور پیاده ✓

(۲) گذرگاه پیاده

(۳) عابر پیاده

(۴) عبور عابر پیاده و همراه



۱۰- نام این تابلو چیست؟

(۱) نظارت با دوربین پلیس

(۲) طول محدوده خطر ✓

(۳) طول ممنوعیت با محدودیت پارکینگ

(۴) حاشیه نمای دو طرفه



۱۱- بیشترین نوع آلودگی وسایل نقلیه موتور کدام است؟

(۱) آلودگی دیداری

(۲) آلودگی شنیداری

(۳) آلودگی هوا ✓

(۴) همه موارد

۱۲- فاصله مناسب از جدول هنگام پارک ... ؟

(۱) نیم متر از جلو - ۱ متر از عقب - ۴۰ سانتی متر از جدول

(۲) ۱ متر از جلو - ۱ متر از عقب - ۴۵ سانتی متر از جدول ✓

(۳) ۱ متر از جلو - نیم متر از عقب - ۴۵ سانتی متر از جدول

(۴) ۱ متر از جلو - ۱ متر از عقب - ۴۰ سانتی متر از جدول

۱۳- موثر ترین عضو بدن در رانندگی کدام است؟

(۱) پاها

(۲) چشم ها ✓

(۳) دست ها

(۴) قلب

۱۴- به هنگام رانندگی در طول روز در شرایط مه آلود چه

کار باید انجام دهید؟

(۱) از نور بالا استفاده کنید.

(۲) از نور پایین استفاده کنید. ✓

(۳) چراغ بغل را روشن کنید.

(۴) چراغ راهنما را روشن کنید.

۱۵- تابلو های هشدار دهنده یا ... بیشتر به صورت ... با

نوار حاشیه ... رنگ و زمینه ... رنگ می باشد.

(۱) خطاری - مثلث - قرمز - سفید ✓

(۲) خطاری - مربع - قرمز - سفید

(۳) اخباری - دایره - قرمز - آبی

(۴) انتظامی - پنج ضلعی - قرمز - سفید

۱۶- در شرایط یخبندان مسافت توقف چند برابر افزایش

می یابد؟


(۱) ۲ برابر


(۲) ۵ برابر

(۳) ۱۰ برابر ✓

(۴) ۱۲ برابر


۱۷- در زمان دیدن گیج روغن در چه حالت باید روغن تواند بین بررسی شود؟

- (۱) سطح روغن از علامت روی گیج بالاتر باشد.
- (۲) سطح روغن از علامت روی گیج پایین تر باشد.
- (۳) سطح روغن بین علامت گیج باشد.
- (۴) مورد الف و ب 


- ۱۸- عمر تسمه تایم بسته به نوع خودرو ... می باشد؟
- (۱) حدود ۵۰ تا ۱۰۰ هزار کیلومتر
  - (۲) حدود ۴۰ تا ۷۰ هزار کیلومتر
  - (۳) حدود ۶۰ تا ۹۰ هزار کیلومتر 
  - (۴) هیچکدام

۱۹- محل تایر ها هر ... تعویض نمود تا تمام آنها به طور یکسان مورد سایش قرار گیرند؟


- (۱) هر ۵ هزار کیلومتر 
- (۲) هر ۱۰ هزار کیلومتر
- (۳) هر ۱۵ هزار کیلومتر
- (۴) هر ۲۰ هزار کیلومتر

- ۲۰- وضعیت باد تایرها هر چند وقت یکبار باید کنترل شود؟
- (۱) هر ماه یکبار
  - (۲) هر سه ماه یکبار
  - (۳) یکبار در هفته 
  - (۴) هر روز


۲۱- کدام مورد باعث ساییدگی نامتوازن یا ساییدگی بیش از حد تایر ها می شود؟

- (۱) عدم تنظیم فرمان
- (۲) عدم تنظیم چرخ ها
- (۳) عدم تنظیم ترمز ها
- (۴) همه موارد 


۲۲- فیلتر هوا توصیه می شود هر چند وقت یکبار تعویض گردد؟

- (۱) هفته ای یکبار
- (۲) ماهی یکبار
- (۳) هر بار تعویض روغن 
- (۴) هر سال یکبار

۲۳- روغن جعبه دنده یا واسکازین هر چند کیلومتر نیاز به تعویض دارد؟

- (۱) هر ۲۰ هزار کیلومتر
- (۲) هر ۳۰ هزار کیلومتر 
- (۳) هر ۴۰ هزار کیلومتر
- (۴) هر ۵۰ هزار کیلومتر

۲۴- در باتری های آبی میزان آب باتری چه موقع مورد بررسی قرار می گیرد؟

- (۱) هر ۵ هزار کیلومتر
- (۲) هر ۱۰ هزار کیلومتر 
- (۳) هر ۱۵ هزار کیلومتر
- (۴) هر ۲۰ هزار کیلومتر

۲۵- این وسیله از ورود بخارهای بنزین به فضای آزاد جلوگیری می کند؟

- (۱) کنیستر ✓
- (۲) کاتالیست
- (۳) فیلتر بنزین
- (۴) فیلتر روغن

۲۶- سطح آب مخزن توصیه می شود هرچند وقت یکبار کنترل شود؟

- (۱) روزی یکبار
- (۲) هفته ای یکبار ✓
- (۳) یکبار در ماه
- (۴) کنترل نیاز نیست

۲۷- کنیستر هر چند وقت یکبار نیاز به تعویض دارد؟

- (۱) هر یکسال یک بار
- (۲) هر ماه یکبار
- (۳) هر هفته یکبار
- (۴) هر دو سال یکبار ✓

۲۸- جای تایرها هر چند کیلومتر باید تعویض شود؟

- (۱) ۲۰۰۰
- (۲) ۳۰۰۰
- (۳) ۴۰۰۰
- (۴) ۵۰۰۰ ✓

۲۹- سیستم هدایت فرمان هر چند وقت یکبار باید کنترل شود؟

- (۱) هر ماه یکبار
- (۲) هر سه ماه یکبار
- (۳) هر شش ماه یکبار ✓
- (۴) هر سال یکبار

۳۰- کدام مورد موجب ساییدگی نامتقارن چرخ ها می شود؟

- (۱) تنظیم نبودن ترمز ها
- (۲) تنظیم نبودن فرمان
- (۳) تنظیم نبودن چرخ ها
- (۴) همه موارد ✓

۱- برای بهبود وضع ترافیک کدامیک از کارهای زیر را باید انجام داد؟  
 الف) رعایت قوانین مقررات عبور و مرور  
 ب) اطلاعات از فرامین پلیس  
 ج) رانندگی صحیح  
 د) همه موارد ✓

۲- آمادگی در رانندگی شامل چه مواردی است؟  
 الف) مهارت در رانندگی  
 ب) آگاهی داشتن از وضعیت رانندگی دیگران  
 ج) پیش بینی خطای دیگران  
 د) مشاهده، پیش بینی، تمرکز، آگاهی، عدم حواس پرتی ✓

۳- کدام گزینه در مورد حداقل فاصله طول ایمن با خودروی جلویی در شرایط برف صحیح نمی باشد؟  
 الف) به ازای هر ۱۵ کیلومتر ۳ طول اتومبیل  
 ب) به ازای هر ۳۰ کیلومتر ۶ طول اتومبیل  
 ج) به ازای هر ۴۵ کیلومتر ۹ طول اتومبیل  
 د) به ازای هر ۶۰ کیلومتر ۱۳ طول اتومبیل ✓

۴- در شکل زیر راننده اتومبیل قرمز رنگ چه کار باید بکند؟  
 الف) بوق زده تا دیگران بدانند کجا قرار دارد.  
 ب) به حرکت خود ادامه داده وسط تقاطع پشت ترافیک توقف کند.  
 ج) علی رغم داشتن حق تقدم و روشن بو شود تا راه باز شود. ✓  
 د) به راننده اتومبیل سفید رنگ علامت می دهد که حرکت کند.



۵- پس از سبقت چه زمان می بایست به خط اولیه بازگشت؟  
 الف) وقتی به اتومبیل مقابل نزدیک می شوید.  
 ب) هنگامی که از اتومبیلی که از آن سبقت می گرفتید گذشته باشید.  
 ج) زمانی که چراغ های بزرگ اتومبیلی را که از آن سبقت گرفته اید در آینه داخل اتومبیل خود مشاهده نمایید. ✓  
 د) پس از زدن راهنما و اطمینان عبور از اتومبیل کناری.

۶- کدام گزینه به ترتیب اولویت صحیح می باشد؟  
 الف) چراغ راهنما - فرمان پلیس - تابلوها - خط کشی  
 ب) فرمان پلیس - چراغ راهنما - تابلوها - خط کشی ✓  
 ج) تابلوها - چراغ راهنما - خط کشی - فرمان پلیس  
 د) فرمان پلیس - تابلوها - خط کشی - چراغ راهنما

۷- در شرایط یخبندان مسافت توقف ممکن است چند برابر افزایش یابد؟  
 الف) ۱۰ برابر ✓  
 ب) ۲ برابر  
 ج) ۵ برابر  
 د) ۳ برابر

۸- تابلو به شکل مثلث متساوی الاضلاع نشسته روی قاعده برای .... می باشد؟  
 الف) رعایت حق تقدم  
 ب) هشدار دهنده برای خطر ✓  
 ج) ایست  
 د) بازدارنده



۹- حالت روحی و وضعیت شما در رانندگی به چه عواملی بستگی دارد؟

- الف) تفکر، موقعیت، دانش قبلی، ادب، نزاکت ✓  
ب) رفتارهای مثبت ترافیکی  
ج) دانش رانندگی و مهارت  
د) پایبندی به مقررات

۱۰- خط ... خط کشی عرضی است که در ورودی تقاطع و به منظور تعیین مرز توقف وسایل نقلیه پیش از گذرگاه پیاده در سطح راه ترسیم می شود.

- الف) ایست ✓  
ب) هاشور  
ج) زیگزاگ  
د) پارک

۱۱- منظور از خطوط توقف در این تقاطع چیست؟  
الف) توقف کامل نموده با رعایت حق تقدم دیگران و سرعت کم حرکت می کنیم. ✓

ب) خطوط هشدار در محور وسط تقاطع.  
ج) محدود بودن حرکت.

د) با دادن علامت به حرکت خود ادامه می دهیم.



۱۲- تابلوی زیر به چه معناست؟

الف) با مشاهده این تابلو سرعت خود را به ۳۰ کیلومتر در ساعت رسانده و کمتر از ۳۰ کیلومتر در ساعت ممنوع.

ب) با مشاهده این تابلو سرعت خود را به ۳۰ کیلومتر در ساعت رسانده و تا پایان محدودیت آن را افزایش ندهید.

ج) با سرعت مطمئنه در ساعت حرکت کرده.

د) با مشاهده این تابلو سرعت، حداکثر ۳۰ کیلومتر



در ساعت است و تا پایان محدودیت آن را افزایش ندهید. ✓

۱۴- زمانی که در یک جاده دو طرفه در حال حرکت هستید و اتومبیلی بدون رعایت فاصله جلوی شما قرار گیرد چه اقدامی باید انجام دهید؟

الف) فاصله گرفته و فاصله ایمن را رعایت کنیم. ✓  
ب) ترمز کنیم.

ج) با زدن چراغ و بوق راننده را جهت گرفتن فاصله با اطلاع می کنیم.

د) احتیاجی به رعایت فاصله در جاده دو طرفه نیست.

۱۳- مفهوم تابلوی زیر چیست؟

الف) تقاطع فرعی

ب) تقاطع ✓

ج) دو راهی

د) تقاطع اصلی به فرعی



۱۶- تابلوی زیر یعنی ...

الف) سرعت توصیه شده ✓

ب) حداقل سرعت

ج) حداکثر سرعت

د) پایان سرعت ۶۰ کیلومتر



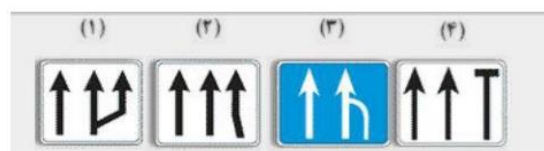
۱۵- تابلوی کاهش خطوط عبور کدام گزینه می باشد؟

الف) تصویر ۱

ب) تصویر ۲

ج) تصویر ۳ ✓

د) تصویر ۴



۱۷- در جاده های اصلی حداکثر میزان سرعت مجاز در روز .... کیلومتر در ساعت و در شب .... کیلومتر در ساعت می باشد.

الف) روز ۸۰ - شب ۹۵

ب) روز ۸۵ - شب ۷۵

ج) روز ۹۰ - شب ۸۰

د) روز ۹۵ - شب ۸۵ ✓

۱۸- چه عاملی می تواند میزان خطر ناشی از آسیب دیدگی گردن را در موقع تصادف کم کند؟

الف) صندلی مجهز به بالشتک هوا

ب) وجود پشتی مناسب پشت سر و تنظیم شده ✓

ج) وجود پشتی مناسب

د) ترمزهای ضد قفل

۱۹- در سربالائی (راه دارای جدول است) هنگام توقف (پارک) فرمان به کدام سمت باید چرخانده شود؟

الف) باید فرمان به چپ (خلاف جهت عقربه های ساعت) چرخانده شود. ✓

ب) باید فرمان به راست (جهت عقربه های ساعت) چرخانده شود.

ج) فرمان مستقیم نگاه داشته می شود.

د) تمام موارد بالا صحیح است.

۲۰- بی توجهی به علائم و مقررات رانندگی نشان: الف) عدم توانایی و صلاحیت رانندگی است. ✓

ب) عدم آمادگی لازم است.

ج) شتاب و عجله بیهوده است.

د) عدم سواد کافی است.

۲۱- هوای گرم بر کدام قسمت از خودرو اثر می گذارد؟ الف) سرنشینان خودرو

ب) آمادگی راننده در کنترل خودرو

ج) باد لاستیک و دمای موتور ✓

د) ترمزها

۲۲- به پلیس مدرسه نزدیک می شوید چه عملی انجام می دهید؟

الف) قبل از توقف به کودکان اشاره می کنید که عبور کنند.

ب) توقف کرده و به کودکان اجازه عبور می دهید. ✓

ج) تنها اگر کودکان در حال عبور از خط کشی عابر پیاده هستند توقف می کنید.

د) با سرعت عبور می کنید.

۲۳- تابلوی (فقط عبور به راست مجاز) کدام گزینه می باشد؟

الف) تصویر ۱

ب) تصویر ۲

ج) تصویر ۳

د) تصویر ۴ ✓

۲۴- تابلوی (توقف ممنوع) کدام می باشد؟

الف) تصویر ۱

ب) تصویر ۲ ✓

ج) تصویر ۳

د) تصویر ۴



۲۵- تابلوی زیر به چه معنا است؟

الف) پایان آزاد راه ✓

ب) آزاد راه

ج) خیابان اصلی

د) پایان خیابان اصلی



۲۶- تابلوی زیر یعنی ...

الف) سبقت برای کامیون ممنوع

ب) سبقت ممنوع ✓

ج) عبور سواری ممنوع

د) عبور کامیون ممنوع



۲۷- تابلوی زیر به چه معنا می باشد؟

الف) پارک سوار

ب) پارکینگ ✓

ج) پارک ممنوع

د) توقف ممنوع



۲۸- در کدام محل نباید پارک کرد؟

الف) در ۱۵ متری تقاطع ها

ب) در ایستگاه اتوبوس

ج) خیابان های اصلی

د) ۲۰ م ✓

۳۰- تابلوی زیر چه مفهومی دارد؟

الف) هدایت مسیر با جداکننده

ب) بن بست

ج) جریان همگرا ✓

د) تقاطع فرعی به اصلی



۲۹- روش ۲ ثانیه ای زمان برای .... مورد استفاده قرار می گیرد.

الف) تعیین سرعت

ب) تعیین مسافت

ج) تعیین فاصله با اتومبیل جلویی ✓

د) هیچکدام

۱- مفهوم تابلوی زیر چیست؟



- (الف) ابتدای منطقه مسکونی ✓  
(ب) به منطقه مسکونی نزدیک می شوید.  
(ج) منطقه صنعتی  
(د) خروج از محدوده صنعتی



۲- با سرعت ۴۵ کیلومتر در ساعت در یک جاده خشک در حال رانندگی هستید، فاصله شما با اتومبیل جلویی چند طول اتومبیل باید باشد؟

- (الف) ۲ طول اتومبیل  
(ب) ۳ طول اتومبیل ✓  
(ج) ۴ طول اتومبیل  
(د) ۵ طول اتومبیل

۴- چه موقع می توانید با دنده عقب از خیابان فرعی به خیابان اصلی وارد شوید؟

- (الف) اگر خلوت باشد  
(ب) همه مواقع  
(ج) هیچوقت ✓  
(د) مورد ۱ و ۲

۳- وسیله نقلیه ای که در مسیر مجاز در حال حرکت است حق تقدم عبور دارد بر....

- (الف) وسیله نقلیه در حال توقف یا در حال شروع حرکت  
(ب) وسیله نقلیه در حال دور زدن  
(ج) وسیله نقلیه در حال جلو رفتن (عقب، جلو کردن)  
(د) هر سه موارد ✓

۶- در شرایط جوی با میدان دید محدود چگونه می توانید اطمینان کنید که سایر رانندگان قادر به رویت شما هستند؟

- (الف) کاملاً نزدیک به کنار جاده حرکت کنید.  
(ب) با فاصله کمی از اتومبیل جلویی حرکت کنید.  
(ج) چراغ های نور پائین را روشن کنید. ✓  
(د) چراغ های مه شکن عقب را روشن کنید.

۵- تابلوهای با زمینه قهوه ای نشانگر چه چیزی هستند؟

- (الف) مسیرهای اصلی  
(ب) مسیرهای فرعی  
(ج) جهت حرکت به سمت مراکز فرهنگی تفریحی ✓  
(د) حرکت مجاز، راهنمای مسیر و اماکن مذهبی

۸- کدامیک از فرامین پلیس در شکل زیر مقدم بر علائم راهنمایی است؟



- (الف) تمام موارد ✓  
(ب) ۱ و ۲  
(ج) ۳ و ۴  
(د) فقط ۲



۷- عمده ترین خطری که راننده اتومبیل پشت سر با آن مواجه خواهد بود چیست؟



- (الف) ممکن است دوچرخه سوار ناگهان به داخل خیابان منحرف شود. ✓  
(ب) ممکن است دوچرخه سوار ناگهان به سمت راست رفته و پیاده شود.  
(ج) ممکن است محتوای سبد پشت دوچرخه روی جاده بریزد.  
(د) ممکن است دوچرخه سوار توقف کند.



۹- هنگامی که قصد دارید از یک وسیله نقلیه طویل که آهسته حرکت می کند در یک جاده شلوغ سبقت بگیرید چه کار باید انجام دهید؟  
 الف) در پشت وسیله منتظر بمانید تا راننده به شما اشاره کند که عبور کنید.  
 ب) چراغ های بزرگ را برای وسایل نقلیه ای که از روبرو می آیند روشن کنید تا اجازه دهند عبور کنید.  
 ج) با فاصله کافی پشت سر وسیله نقلیه حرکت کنید تا بتوانید قسمت جلویی وسیله مذکور را ببینید تا زمان مناسب و ایمن برای سبقت فراهم شود.  
 د) هیچکدام



۱۰- تابلوی زیر به چه مفهومی می باشد؟

الف) سبقت ممنوع



ب) حق تقدم با وسیله نقلیه مقابل است

ج) خیابان یک طرفه

د) خیابان دو طرفه



۱۱- تابلوی زیر به چه مفهومی می باشد؟

الف) گردش به راست

ب) پیچ

ج) بن بست

د) تقاطع



۱۲- در خیابان یکطرفه باید در کدام سمت اتومبیل را

پارک کرد؟



الف) چپ

ب) راست

ج) در خیابان یکطرفه نمی توان پارک کرد.

د) در هر دو طرف پارک شود مانعی ندارد.

۱۳- تابلوی زیر به چه معنا می باشد؟

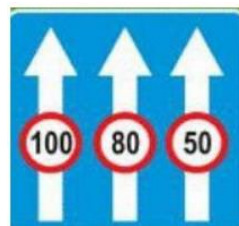
الف) حداقل سرعت در خط عبور



ب) حداکثر سرعت در خطهای عبور

ج) حداقل سرعت در خط های عبور

د) خط ویژه عبور



۱۴- تابلوی زیر چه نام دارد؟



الف) پایان آزاد راه

ب) پایان بزرگراه

ج) پایان خیابان اصلی

د) پایان راه



۱۵- معنای تابلوی زیر چیست؟

الف) پایان محدودیت

ب) پایان منطقه توقف دوبل

ج) پایان سبقت ممنوع

د) پایان تمام محدودیت ها



۱۶- به مجموعه رفتارهای منفی در رانندگی چه می گویند؟

الف) رانندگی مطمئن



ب) رانندگی خطر ساز یا رانندگی تهاجمی

ج) رانندگی ایمن

د) فرهنگ رانندگی



۱۸- تابلوی ایستادن ممنوع کدام گزینه می باشد؟

الف) تصویر ۱

ب) تصویر ۲

ج) تصویر ۳

د) تصویر ۴ ✓



۱۷- دو خط ممتد در کنار هم به معنای ....

الف) زیبایی بیشتر

ب) تاکید بیشتر برای حرکت نکردن روی آنها ✓

ج) گردش روی این خطوط انجام می گیرد.

د) فقط سبقت روی این خطوط انجام می گیرد.

۲۰- کدامیک از موارد زیر عامل تصادف با اتومبیل جلویی است؟

الف) عدم توجه کافی به راه و نزدیک شدن بیش از حد به

اتومبیل جلویی ✓

ب) تراکم وسایل نقلیه

ج) عبور عابر پیاده در مناطق سفری و شلوغ

د) تغییر نور چراغ ها

۱۹- در جاده پر ترافیکی، اتومبیل ها و وسایل نقلیه دیگر

پشت سر هم، به طور فشرده در حرکت هستند، چگونه می


توانید از بروز حادثه جلوگیری کنید؟

الف) فاصله خود را با اتومبیل جلویی افزایش می دهید. ✓

ب) پای خود را روی ترمز قرار می دهید.

ج) چراغ های خطر را روشن می کنید.

د) در شانه خاکی توقف می کنید.



۲۲- قفل های خاص کودکان که در وسیله نقلیه نصب می

شود برای چه منظوری است؟

الف) جهت قفل کردن سگ کمر بند ایمنی

ب) جهت قفل کردن پنجره های درب عقب

ج) برای اینکه کودکان به طور ناخواسته درب عقب اتومبیل

را باز نکنند. ✓

د) جهت ممانعت از حرکت صندلی های عقب و از حرکت

آنها به جلو

۲۱- در یک منطقه مسکونی و شهری در حال حرکت

هستید به یک سرعت گیر نزدیک می شود شما باید:

الف) با سرعت عبور کنید.

ب) از قسمت چپ خیابان عبور کنید.

ج) سریعاً سرعت خود را کاهش دهید. ✓

د) هیچ کدام

۲۴- حداکثر سرعت در جاده های اصلی خارج از شهر:

الف) روزها ۹۵ کیلومتر - در شب ۸۵ کیلومتر ✓

ب) روزها ۸۰ کیلومتر - شب ۹۰ کیلومتر

ج) روزها ۹۰ - شب ۸۵ کیلومتر

د) روزها ۱۱۰ کیلومتر - شب ۹۵

۲۳- کدام بیمه برای خودرو الزامیست؟

الف) بیمه بدنه

ب) بیمه شخص ثالث ✓

ج) بیمه آتش سوزی

د) بیمه حوادث


۲۶- هنگام خروج از پارک راهنمای ..... اتومبیل را روشن می کنیم.  
 الف) هر دو طرف  
 ب) سمت راست  
 ج) سمت چپ ✓  
 د) هیچ کدام

۲۵- در چه شرایطی می توانید از باند سمت چپ در آزاد راه استفاده کنید؟  
 الف) برای کنار رفتن از سر راه کامیون های بزرگ  
 ب) برای رانندگی در سرعت عای بیش از ۹۰ کیلومتر در ساعت  
 ج) هنگامی که با سرعت کم حرکت می کنیم.  
 د) برای سبقت از سایر وسایل نقلیه و رانندگی با حداکثر سرعت ✓

۲۸- شما اولین نفری هستید که به محل تصادف می رسید کدام مورد را باید انجام دهید؟  
 الف) محل را فوراً ترک کنید.  
 ب) به محض این که اولین اتومبیل رسید از محل دور شوید.  
 ج) اتومبیل ها را از محل حادثه کنار بکشید.  
 د) موتور اتومبیل حادثه دیده را خاموش کنید. افراد زخمی را از داخل اتومبیل خارج کنید. و زخمی ها را با صحبت کردن آرام نمایید. ✓

۲۷- تابلو ایست به شکل ... می باشد؟  
 الف) هشت ضلعی ✓  
 ب) مثلث متساوی الاضلاع  
 ج) مربع  
 د) دایره

۳۰- تابلو ایست کدام گزینه می باشد؟  
 الف) تصویر ۱  
 ب) تصویر ۲  
 ج) تصویر ۳  
 د) تصویر ۴ ✓



۲۹- کدام یک از تابلوها به معنای پارک سوار است؟  
 الف) تصویر ۱  
 ب) تصویر ۲ ✓  
 ج) تصویر ۳  
 د) تصویر ۴



۲- تابلوی (خروج از آزاد راه ۳۰۰ متر) کدام تابلو است؟

الف) تصویر ۱

ب) تصویر ۲ ✓

ج) تصویر ۳

د) تصویر ۴



۱- روش یک طول اتومبیل یعنی چه؟

الف) به ازای هر ۱۵ کیلومتر در ساعت سرعت فاصله ای به اندازه یک طول اتومبیل (حدود ۶ متر) مورد نیاز است. ✓

ب) به ازای هر ۳۰ کیلومتر در ساعت سرعت فاصله ای به اندازه ۲ طول اتومبیل (حدود ۶ متر) مورد نیاز است.

ج) به ازای هر ۴۵ کیلومتر در ساعت سرعت فاصله ای به اندازه ۳ طول اتومبیل (حدود ۶ متر) مورد نیاز است.

د) به ازای هر ۶۰ کیلومتر در ساعت سرعت فاصله ای به اندازه ۴ طول اتومبیل (حدود ۶ متر) مورد نیاز است.

۴- هنگام رانندگی از چه فاصله ای باید پلاک اتومبیل جلویی را بخوانید؟

الف) ۵ متری

ب) ۱۰ متری

ج) ۱۵ متری

د) ۲۰ متری ✓

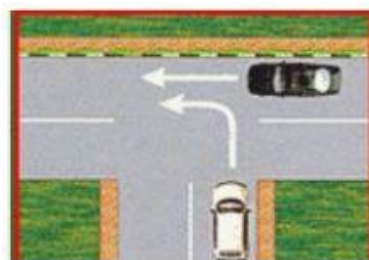
۳- در شکل مقابل حق تقدم عبور با کدام وسیله می باشد؟

الف) مشکی - سفید ✓

ب) سفید - مشکی

ج) هر دو همزمان

د) هیچکدام



۶- میخ های زرد رنگ چشم گربه ای در چه محلی دیده می شوند؟

الف) بین شانه خاکی و باند اصلی

ب) در مسیرهای ورودی و خروجی و باندهای کاهش و افزایش سرعت

ج) بین هر دو باند مجاز

د) غالبا در مسیر رفت و برگشت جاده ها و در سمت چپ مسیر یا (بین محلی خالی وسط آزاد راه و باند اصلی) ✓

۵- در صورت ترکیدن لاستیک جلوی اتومبیل باید ...

الف) به شدت ترمز کرد.

ب) فرمان را رها کرد.

ج) فرمان را محکم گرفته و به آرامی توقف کرد. ✓

د) ۱ و ۲ صحیح است.

۸- تابلوی زیر یعنی ...

الف) عبور سواری ممنوع

ب) عبور کامیون ممنوع

ج) سبقت برای کامیون ممنوع ✓

د) سبقت ممنوع



۷- کدام یک از علائم زیر شما را از انجام عملی باز می دارد؟

الف) تصویر ۱

ب) تصویر ۲

ج) تصویر ۳

د) تصویر ۴ ✓





۹- مفهوم تابلوی زیر چیست؟

(الف) منطقه عبور معلولین

(ب) رانندگی با ویلچر

(ج) راننده معلول ✓

(د) هیچکدام



۱۰- در شرایط عادی مانند مواقع بارندگی و یخبندان و سرما، کنترل و هدایت و توقف اتومبیل به کدام دلیل مشکل است؟

(الف) به لحاظ کاهش ضریب اصطکاک چرخ ها با جاده

(ب) لغزندگی راه

(ج) ۱ و ۲ صحیح است ✓

(د) به لحاظ سرمای هوا و خارج شدن لاستیک ها از حالت طبیعی

۱۱- یکی از موارد افزایش احتمال خطر هنگام رانندگی در

شب را بگویید؟

(الف) استفاده از چرخ ها

(ب) استفاده از سایبان

(ج) محدودیت میدان دید راننده ✓

(د) خواب آلودگی راننده

۱۲- زمانی که به یک سرعت گیر در خیابان می رسید باید ....

(الف) از سمت راست عبور کنید.

(ب) با همان سرعت عبور کنید.

(ج) سرعت خود را افزایش دهد.

(د) سریعاً از سرعت خود بکاهید. ✓

۱۴- به هنگام رانندگی در طول روز و در شرایط هوای مه

آلود چکار باید انجام دهید؟

(الف) از نور پایین استفاده کنید. ✓

(ب) از چراغ های بغل اتومبیل استفاده کنید.

(ج) از نور بالا استفاده کنید.

(د) چراغ های راهنما را روشن نمایید.

۱۳- در جاده دچار حادثه ای شده اید ، در چه فاصله ای

باید تابلوی احتیاط را قرار دهید؟

(الف) ۷۰ متری ✓

(ب) ۶۰ متری

(ج) ۵۰ متری

(د) ۴۰ متری

۱۶- خطوط زیر در کجا رسم می شود و به چه معناست؟

(الف) در طول خیابان ها و برای عابر پیاده در طول راه کشیده می شود.

(ب) در خیابان های اصلی و به معنای عبور عابرین پیاده است.

(ج) در محل های معینی از راه برای عابرین پیاده در عرض راه کشیده می شود. ✓

(د) هیچکدام



۱۵- مفهوم خطوط شکل زیر چیست؟


(الف) شکل صحیح تقاطع بزرگراه ها و پیچ ها

(ب) طریقه صحیح ورودی و خروجی جاده ها

(ج) نمایشگر تغییر مسیر دایره ای

شکل و خطوط کاهش و افزایش سرعت

(د) نمایشگر قرار گرفتن مسیرهای



ورودی و خروجی و خط کاهش سرعت و افزایش سرعت ✓

۱۷- تابلوی (جاده دو طرفه) کدام می باشد؟

(الف) تصویر ۱

(ب) تصویر ۲

(ج) تصویر ۳ ✓

(د) تصویر ۴



۱۸- چه موقع نباید از چراغ هشدار فلاشر استفاده نمایید؟

(الف) هنگام بکسل کردن اتومبیل

(ب) زمانی که دچار نقص فنی شوید.

(ج) به صورت دوبله پارک می کنید.

(د) مورد ۱ و ۳ ✓

۱۹- مراحل اساسی که در هنگام تصادف و آسیب جدی

شدید لازم است اتخاذ شوند عبارتند از:

(الف) حفظ صحنه تصادف

(ب) آگاه ساختن مراجع ذی صلاح

(ج) مراقبت نمودن از مجروحین

(د) هر سه مورد فوق ✓

۲۰- هنگامی که در شب فاصله اتومبیل شما با اتومبیل

جلویی بیش از ۱۵۰ متر باشد ...

(الف) از نور پایین استفاده می کنیم.

(ب) چراغ را خاموش می کنیم.

(ج) از نور بالا استفاده می کنیم. ✓

(د) از هر نوری که خواستیم استفاده می کنیم.

۲۱- کدام گزینه درست نمی باشد؟

(الف) تابلوهای بازدارنده یا اخطاری ✓

(ب) تابلوهای هشدار دهنده یا اخطاری

(ج) تابلوهای آگاهی دهنده یا اخباری

(د) تابلوهای بازدارنده یا انتظامی

۲۲- تابلوی زیر به معنای چیست؟

(الف) هدایت مسیر با جدا کننده ✓

(ب) شروع جدا کننده

(ج) جریان همگرا

(د) تعیین مسیر جدا کننده



۲۴- چه موقع می توان در داخل تونل سبقت گرفت؟

(الف) پهنا تونل عریض باشد.

(ب) راه یکطرفه باشد.

(ج) نور کافی داشته باشیم.

(د) این کار ممنوع است. ✓

۲۳- در راههای مسطح که دو طرف راه منتهی به کوه و

پرتگاه می باشد ...

(الف) حق تقدم عبور با وسیله ای است که در طرف پرتگاه

قرار دارد. ✓

(ب) باید با احتیاط و رعایت حق تقدم عبور کرد.

(ج) حق تقدم عبور با وسیله ای است که در طرف کوه است.

(د) حق تقدم با وسیله نقلیه سبک تر است.

۲۵- تابلوی زیر به چه مفهومی می باشد؟

الف) سربالایی خطرناک ✓

ب) سرازیری خطرناک

ج) شیب خطرناک

د) خطر



۲۶- مفهوم تابلوی زیر چیست؟

الف) جاده یخبندان است.

ب) زنجیر چرخ الزامی است.

ج) عبور فقط با زنجیر چرخ ✓

د) خطر برف



۲۷- خط ممتد، دوبله، مقطع، هاشور، زیگزاگ، انواع

خطوط ... هستند.

الف) عرضی

ب) طولی ✓

ج) ۱ و ۲

د) ترکیبی

۲۸- رنگ سیاه و سفید در علائم راهنمایی به چه معناست؟

الف) راهنمای اماکن مذهبی و اخباری

ب) اخباری و گردشگری

ج) دستوری و راهنمای مسیر در سایر راه ها ✓

د) هیچکدام

۲۹- ساییدگی نامتوازن یا بیش از حد لاستیک ناشی از کدام

مورد زیر است؟

الف) تنظیم نبودن فرمان، عدم تنظیم چرخ ها و ترمزها ✓

ب) میزان نبودن باد چرخ ها

ج) سرعت بیش از حد

د) تاب داشتن گاردان

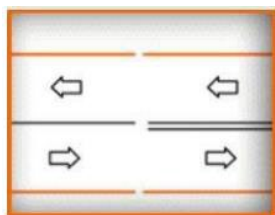
۳۰- دو خط طولی ممتد روبرو به معنای چیست؟

الف) عبور از یک طرف از روی خط آزاد است.

ب) عبور از دو طرف ممنوع است.

ج) تاکید بیشتر جهت جلوگیری از عبور از روی خطوط ✓

د) هیچکدام



۱- حق تقدم عبور در تصویر زیر با کدام است؟

الف) اتومبیل سفید شماره ۱

ب) اتومبیل سفید شماره ۲

ج) اتومبیل سیاه رنگ ✓

د) همه حق تقدم عبور یکسان دارند.



۲- علت اینکه در هنگام رانندگی پوشیدن کفش مناسب

مورد نیاز است چیست؟

الف) به منظور حفظ کنترل صحیح بر روی پدالها ✓

ب) به منظور راحتی پیاده روی در مواقع نقص اتومبیل

ج) به منظور ممانعت از ساییدگی سطح لاستیک پدالها

د) به منظور تعویض سریع دنده

۳- برای جلوگیری از لغزندگی اتومبیل در شرایط یخبندان

چه تمهیداتی لازم است؟

الف) اگر چرخ ها شروح به لغزندگی کرد از ترمز دستی استفاده کنید.

ب) در تمامی مواقع از دنده یک استفاده کنید.

ج) با سرعت کمتر و با دنده سنگین حرکت کنید. ✓

د) به دفعات بیشتر و به آرامی ترمز کنید.

۴- چه چیزی موجب به هم ریختن تمرکز شما در رانندگی

خواهد شد؟

الف) نگاه کردن به اطراف اتومبیل

ب) نگاه کردن به آینه اتومبیل

ج) استفاده از شیشه شور اتومبیل

د) نگاه کردن به نقشه، گوش کردن به موزیک با صدای

بلند و استفاده از تلفن همراه ✓

۵- سبقت گرفتن در پیچ های تند و سربالایی ها چه مورد

قانونی را شامل می شود؟

الف) ممنوع است. ✓

ب) ضروری است.

ج) با احتیاط کامل میتوان سبقت گرفت.

د) بلامانع است.

۶- در حال رانندگی در جاده خیس به دنبال اتومبیلی دیگر،

فاصله زمانی ایمن از اتومبیل جلویی چقدر باید باشد؟

الف) ۸ ثانیه

ب) ۶ ثانیه

ج) ۴ ثانیه ✓

د) ۲ ثانیه

۷- مفهوم تابلوی روبرو چیست؟

الف) تقاطع با راه آهن دو خط ✓

ب) تقاطع دو خط آهن با یکدیگر

ج) تقاطع مانع با راه آهن

د) تقاطع با راه آهن



۸- تأثیرات مواد مخدر چیست؟

الف) اعتنا نکردن به قوانین رانندگی و فرامین پلیس

ب) افزایش اعتماد به نفس کاذب - کاهش هوشیاری ✓

ج) برهم زدن نظم رانندگی

د) عدم کنترل راننده در شرایط ضروری

۹- برای استفاده از ترمز در حین رانندگی بهتر است ...

الف) تمام کف پا روی پدال ترمز قرار دهید.

ب) پاشنه پا روی کف اتومبیل گذاشته و با پنجه پدال ترمز را فشار دهید. ✓

ج) با کف پا ترمز را به آهستگی فشار داده و همزمان کلاچ را بگیرید.

د) پاها همواره برای ترمز گرفتن باشد.

۱۰- کدامیک از تابلوهای زیر مفهوم آنست که هیچ وسیله ای

نمی تواند وارد شود؟

الف) شکل شماره ۱

ب) شکل شماره ۲

ج) شکل شماره ۳

د) شکل شماره ۴ ✓



۱۱- شما موقعی می توانید شروح به حرکت کنید که:

الف) بعد از حرکت اقدام به بستن کمربند نمایید.

ب) از بسته شدن کمربند ایمنی خود و سایر سرنشینان اطمینان حاصل نمایید. ✓

ج) از بسته شدن کمربند ایمنی خود اطمینان حاصل کنید.

د) از بسته شدن کمربند ایمنی سرنشینان اطمینان حاصل نمایید.

۱۲- این تابلو به چه معناست؟

الف) عبور دوچرخه سوار ✓

ب) عبور دوچرخه سوار ممنوع

ج) دوچرخه سوار مجاز به عبور نیست.

د) دوچرخه سوار باید از دوچرخه پیاد



۱۳- کدام مورد است که به هنگام سبقت گرفتن از آنها

باید فضای بیشتری را به وسیله نقلیه در نظر بگیرید؟

الف) موتور سیکلت و دوچرخه ✓

ب) ماشین های مجاور وسایل نقلیه سنگین

ج) وانت و تراکتور

د) ماشینهای حامل مسافر و ماشینهای حامل بار

۱۴- مفهوم تابلوی زیر چیست؟

الف) سینما

ب) نظارت با دوربین پلیس ✓

ج) کنترل تردد

د) عکسبرداری ممنوع است.



۱۵- در خیابان شلوغ و پر ترافیک با سرعت مجاز در حال حرکت هستید

راننده اتومبیل پشت سر سعی می کند سبقت بگیرد، چه کاری باید انجام دهد؟

الف) به اتومبیل جلویی نزدیک می شوید تا راننده ی عقبی نتواند سبقت بگیرد.

ب) با دست به راننده پشت سر علامت می دهید، زمانی که خطری نیست سبقت بگیرد.

ج) بر سرعت خود اضافه می کنید تا اینکه راننده پشت سر فاصله بگیرد.

د) مسیر صحیح و مستقیم خود را ادامه دهید تا راننده مذکور سبقت بگیرد. ✓

۱۶- مستطیل قائم معمولاً برای چه تابلوهایی به کار می رود؟

الف) راهنمای مسیر

ب) معمولاً برای تابلوهای دستوری و خدماتی ✓

ج) صرفاً برای رعایت حق تقدم

د) راهنما و هشدار برای خطرات



۱۷- تابلوی روبرو به چه معناست؟

الف) راه یک طرفه

ب) فقط عبور به راست مجاز است.

ج) خیابان یکطرفه ✓

د) فقط عبور مجاز است.



۱۸- در کدامیک از موارد زیر نباید دنده عقب گرفت؟

الف) برای مسافت های طولانی ✓

ب) دنده عقب به داخل یک خیابان فرعی

ج) برای مسافت هایی که نمی شود پیاده طی کرد.

د) دنده عقب در مناطق مسکونی و شهری

۱۹- تابلوهای با زمینه قهوه ای نشانگر چه چیز هستند؟

الف) جهت حرکت به سمت مراکز فرهنگی و تفریحی ✓

ب) جاده های اولیه یا مسیر قبلی

ج) مسیر بزرگراهها

د) مسیر فرعی و غیر اصلی

۲۰- چرا سبقت گرفتن از کامیون طویل (کشنده و یدک)

خطرناک تر از سبقت گرفتن از یک اتومبیل معمولی است؟

الف) کامیون ها ممکن است کنار کشیده و توقف کنند.

ب) ترمز های کامیون ها به خوبی اتومبیل های دیگر نیست.

ج) کامیون ها با سرعت کمتری نسبت به وسایل دیگر از

تپه ها بالا می روند.

د) کامیون ها نسبت دیگر وسایل نقلیه کشنده تر هستند و سبقت

گرفتن از آن ها مسافت و زمان بیشتری را مصرف می کند. ✓

۲۱- کدام تابلو به معنای ممنوع بودن عبور وسایل نقلیه

موتوری است؟

الف) شکل شماره ۱

ب) شکل شماره ۲ ✓

ج) شکل شماره ۳

د) شکل شماره ۴



۲۲- کدام مورد هنگام رانندگی ممنوع می باشد؟

الف) خوردن و آشامیدن

ب) استفاده از تلفن همراه

ج) همه موارد ✓

د) استعمال دخانیات

۲۴- اگر چراغ ترمز شما کار نکند چه موقع مجاز به

رانندگی هستید؟

الف) در طول روز

ب) زمانی که به آزمایش رانندگی می روید.

ج) هیچوقت ✓

د) در شرایط اضطراری

۲۳- کدام گزینه نشان دهنده تابلوی عبور وسایل نقلیه

ممنوع می باشد؟

الف) شکل شماره ۱

ب) شکل شماره ۲ ✓

ج) شکل شماره ۳

د) شکل شماره ۴





۲۵- نحوه بارگیری تریلرها به نحوی باید باشید که:

(الف) بار عمدتا در بخش عقب قرار گیرد.

(ب) بار در بخش جلوی تریلر قرار گیرد.

(ج) بار به صورت متوازن و خوب بسته شود. ✓

(د) بار عمدتا در نزدیکی چراها بارگیری شود.

۲۶- چه موقع می توانید از چراغ هشدار دهنده خطر

(فلاشر یا چهار چراغ) استفاده نمایید؟

(الف) زمانی که برای خرید بر روی خطوط زرد دابل توقف کرده اید.

(ب) زمانی که در تاریکی بدون چراغ بزرگ حرکت می کنید.

(ج) زمانی که به آرامی رانندگی کرده و به دنبال آدرس می گردید.

(د) زمانی که به صورت موقت و یا اضطراری توقف کرده و

ترافیک را متوقف نموده اید. ✓

۲۷- تابلوی روبرو چه مفهومی دارد؟

(الف) پایان سبقت ممنوع ✓

(ب) ابتدای سبقت ممنوع

(ج) پایان سبقت کامیون ممنوع

(د) پایان محدوده سرعت



۲۸- در کدام مورد زیر سبقت گرفتن ممنوع است ؟

(الف) ۲۰۰ متری سربالایی

(ب) ۲۰۰ متری پیچ ها

(ج) بر روی خط ممتد ✓

(د) ۲۰۰ متری تونل ها

۳۰- مفهوم تابلوی روبرو را بگویید.

(الف) اصلی به فرعی

(ب) فرعی به اصلی از راست

(ج) ورود به جاده اصلی از چپ

(د) ورود به راه اصلی از راست ✓



۲۹- اگر عابری با عصای سفید در دست ببینید به چه

معناست؟

(الف) معلول است.

(ب) نابیناست. ✓

(ج) ناشنواست.

(د) مسن است.

۱- وقتی در حین رانندگی حواس شما متوجه چیزهایی دیگر باشد این کار:

الف) تصمیم سریع و عکس العمل به موقع را از شما خواهد گرفت. ✓

ب) قادر به تصمیم گیری نخواهید بود.

ج) عکس العمل از خودتان نشان نخواهید داد.

د) ممکن است مسیر خود را اشتباه بروید.

۲- از جمله احتیاط های لازم در هنگام وقوع تصادفات انجام کدام یک از موارد زیر اشتباه است؟

الف) روشن نگه داشتن خودرو حتی در صورتی که خودرو قابلیت حرکت ندارد. ✓

ب) هشدار توسط افراد به دیگر رانندگان تا سرعت خود را کاهش دهد.

ج) استفاده از تابلو اعلام خطر

د) تذکر جهت روشن نکردن سیگار در صورت آسیب باک خودرو

۳- علائم هشدار برای خطر به چه شکلی ترسیم می کردند؟  
الف) هشت گوشه

ب) دایره ای

ج) مثلث ✓

د) لوزی شکل

۴- یکی از عوامل اصلی جاده ای مرگ و میر در گروه سنی زیر ۴۰ سال در کشور ایران چه چیزی می باشد؟

الف) رعایت قوانین و مقررات

ب) رعایت سرعت مطمئنه

ج) رعایت اصول ایمنی

د) بی توجهی به فرهنگ رانندگی و عدم رعایت قوانین و مقررات ✓

۵- صحیح ترین روش ترمز کردن چیست؟

الف) ابتدا سریعاً ترمز کرده و دنده را به حالت خالص در آورید، ترمز دستی را در مرحله قبل از توقف کامل بکشید.

ب) ابتدا به آرامی ترمز کرده سپر پدال ترمز را بیشتر فشار دهید. ✓

ج) بشدت ترمز کنید و پدال کلاچ همزمان فشار دهد.

د) اندکی ترمز کرده، پدال کلاچ را فشار دهید، ترمز دستی را قبل از توقف بکشید.

۶- تنها چه موقعی می توان از تلفن همراه استفاده نمود؟  
الف) فرمان را با دست بگیرید و اتومبیل را هدایت نکنید.

ب) وسیله نقلیه دارای دنده اتوماتیک باشد.

ج) در یک محل و مکان امن توقف کرده باشید. ✓

د) هیچکدام

۷- به هنگام خروج از پارک چه اعمالی را باید انجام داد؟

الف) از آینه ها استفاده نموده و برای کنترل نهانی سر را به سمت چپ برگردانده و عقب را نگاه کنید. ✓

ب) چنانچه لازم است سایر رانندگان آهسته برانند به آنها علامت دهید.

ج) اگر اتومبیل دیگری در مقابل شما پارک نشده به عقب برنگردید.

د) علاوه بر استفاده از راهنما با دست علامت دهید.

۸- در هنگام شب رانندگی می کنید و نور بالای چراغ اتومبیل هایی که از رو به رو می آیند چشم های شما را خیره می کند چه کاری باید انجام دهید؟

الف) به طور مستقیم به نور چراغ روبه رو نگاه کنید و از نگاه کردن به سمت راست خودداری کنید. ✓

ب) به طور مستقیم به نور چراغ رو به رو نگاه نکنید و سمت راست راه را نگاه کنید و از گوشه چشم به اتومبیل روبه رو توجه کنید.

ج) نور بالای اتومبیل را روشن کنید و به وسیله نقلیه مقابل توجه نکنید.

د) هیچکدام



۹- هنگامی که قصد دارید از وسیله نقلیه طویل که آهسته حرکت می کند در یک جاده شلوغ سبقت بگیرید چه کار باید انجام دهید؟  
(الف) با فاصله کمی پشت وسیله حرکت کنید تا بتوانید بلافاصله سبقت بگیرید.  
(ب) چراغ های بزرگ را برای وسایل نقلیه ای که از روبرو می آیند روشن کنید تا اجازه دهند عبور کنید.  
(ج) در پشت وسیله منتظر بمانید تا راننده به شما اشاره کند که عبور کنید.  
(د) با فاصله کافی پشت سر وسیله نقلیه حرکت کنید تا بتوانید قسمت جلویی وسیله مذکور را ببینید تا زمان مناسب و ایمن برای سبقت فرا شود. ✓

۱۰- کدام مورد زیر هنگام رانندگی در شب احتمال خطر را افزایش می دهد؟  
(الف) محدودیت میدان دید راننده، خیره شدن به راه و عدم تشخیص فاصله وسیله نقلیه مقابل ✓  
(ب) استفاده از چراغ ها  
(ج) استفاده از سایبان  
(د) استفاده از بوق

۱۱- بر روی یک راه لغزنده قسمت عقب اتومبیل شما به سمت راست می لغزد، چکار باید انجام دهید؟  
(الف) از کلاچ و ترمز به طور همزمان استفاده کنید.  
(ب) ترمز کنید و فرمان را بچرخانید.  
(ج) با دقت و مراقبت فرمان را به سمت چپ بچرخانید. ✓  
(د) با دقت و مراقبت فرمان را به سمت راست بچرخانید. ✓

۱۲- علائم اخباری برای گرفتن سبقت در شب کدام مورد است؟  
(الف) تعویض نور چراغ بالا به پایین ✓  
(ب) اشاره با دست  
(ج) بوق کوتاه و چراغ راهنما  
(د) افزایش سرعت و تبدیل متناوب نور چراغ


۱۳- به هنگام رانندگی در شرایط یخبندان فرمان به راحتی می چرخد و چرخ ها به طرفین می پیچد، علت آن چیست؟  
(الف) چرخ ها استحکام مطلوبی با راه ندارند. ✓  
(ب) چرخ ها با راه اصطکاک بهتری دارند.  
(ج) چرخ ها خیلی نرم هستند.  
(د) چرخ ها خیلی سفت هستند.

۱۴- در شرایط یخبندان چگونه می توانید از لغزش چرخ های اتومبیل جلوگیری کنید؟  
(الف) اگر چرخ ها شروع به لغزندگی کرد از ترمز دستی استفاده کنید.  
(ب) با سرعت کمتر و با دنده سنگین حرکت کنید. ✓  
(ج) در تمامی مواقع از دنده یک استفاده کنید.  
(د) به دفعات بیشتر و به آرامی ترمز کنید.


۱۵- در شرایط جاده خیس و یخبندان در حال رانندگی هستید، کدام مورد باید هنگام نزدیک شدن به پیچ تند رعایت شود؟  
(الف) هنگام رسیدن به پیچ با سرعت بیشتری برانید.  
(ب) قبل از رسیدن به پیچ از سرعت خود بکاهید و تا حد امکان با دنده سنگین حرکت کنید. ✓  
(ج) به آرامی ترمز دستی را بکشید.  
(د) در تمامی مدت کلاچ را پایین نگه دارید.

۱۶- کلاچ گرفتن باعث کدامیک از موارد زیر می شود؟  
(الف) کنترل راننده به حرکت و جهت اتومبیل کم می شود. ✓  
(ب) کنترل راننده به حرکت و جهت اتومبیل بیشتر می شود.  
(ج) پیچیدن به طرفین و چرخاندن فرمان سخت تر می شود.  
(د) هیچکدام


۱۷- در مواقع طوفانی در کدام یک از موارد زیر باید بیش از حد مراقب باشید؟

- الف) به هنگام عبور از کنار دوچرخه سواران و موتورسیکلت سواران 
- ب) به هنگام سبقت
- ج) به هنگام استفاده از ترمز ها
- د) به هنگام گردش


۱۸- به هنگام رانندگی در طول روز و در شرایط هوای مه آلود چکار باید انجام دهد؟

- الف) از نور پایین استفاده کنید. 
- ب) از چراغ های بغل اتومبیل استفاده کنید.
- ج) از نور بالا استفاده کنید.
- د) چراغ های راهنما را روشن نمائید.


۱۹- بر روی جاده خیس ترمز می کنید، وسیله شما شروع به لغزش می کند، اولین کاری که باید انجام دهید چیست؟

- الف) به سرعت ترمز دستی را بکشید.
- ب) ترمز را کاملاً آزاد کنید. 
- ج) با شدت بیشتری بر ترمز فشار آورید.
- د) پای خود را بر روی کلاچ بگذارید.


۲۰- اگر مجبور شوید در مه رانندگی کنید کدام عامل زیر را باید بازدیدنمائید؟

- الف) بازدید چرخ ها و اطمینان از تمیز بودن شیشه ها 
- ب) اطمینان از سالم بودن بخاری
- ج) اطمینان از اینکه در داخل اتومبیل تابلوی احتیاط دارید.
- د) کنترل و بازدید باتری


۲۱- در هوای بسیار گرم سطح جاده نرم می باشد کدام مورد زیر از این مسئله تأثیر پذیر است؟

- الف) هدایت و گردش اتومبیل و ترمز 
- ب) تعویض دنده
- ج) سیستم فنر بندی
- د) میزان باد لاستیک ها


۲۲- در هوای مه آلود در حال رانندگی هستید، پشت سر بیش از حد به شما نزدیک می شود، چه اقدامی باید انجام دهید؟

- الف) با احتیاط به حرکت خود ادامه دهید. 
- ب) چراغ های هشدار دهنده خطر را روشن کنید.
- ج) بلافاصله توقف کنید.
- د) سرعت گرفته و از او دور شوید.

۲۳- در شرایط جوی با میدان دید محدود چگونه می توانید اطمینان کنید که سایر رانندگان قادر به رویت شما هستند؟

- الف) چراغ های نور پایین را روشن کنید. 
- ب) با فاصله کمی از اتومبیل جلویی حرکت کنید.
- ج) چراغ های مه شکن عقب را روشن کنید.
- د) کاملاً نزدیک به کنار جاده حرکت کنید.


۲۴- پایین بودن کدامیک از موارد زیر می تواند منجر به حادثه شود؟

- الف) سطح روغن ترمز 
- ب) سطح ضد یخ
- ج) آب باتری
- د) آب خنک کننده رادیاتور

۲۵- در صورتی که خودرو جوش آورده چه اقدامی بایستی انجام داد؟


(الف) در کنار راه متوقف و در رادیاتور را باز کرده و داخل آن آب اضافه کنیم.

(ب) به مسیر خود ادامه و خودرو را به اولین تعمیرگاه انتقال دهیم.

(ج) در کنار راه توقف و به هیچ وجه در رادیاتور را باز نکنید و با احتیاط مقداری آب بر روی رادیاتور بریزید. 

(د) خودرو را در حین حرکت خاموش کنید تا رادیاتور خنک شود.

۲۶- کنترل باد لاستیک چرخ ها چه زمانی باید انجام شود؟


(الف) زمانی که لاستیک ها سرد هستند. 

(ب) بعد از طی مسافت طولانی

(ج) بعد از یک رانندگی با سرعت بالا

(د) زمانی که لاستیک ها داغ شده اند.

۲۷- به هنگام رانندگی در شرایط غیر عادی (باران، برف و ...) بهترین کار این است که تا حد امکان از دنده سنگین استفاده کنید، دلیل آن را بیان کنید.

(الف) جهت ممانعت از لغزش چرخ ها 

(ب) در مواقع ترمز از سرعت کمتری برخوردار باشید.

(ج) به دلیل اینکه دور زیاد موتور باعث لغزش چرخ ها نشود.

(د) در صورت لغزش استفاده از دنده پایین تر امکان پذیر باشد.

۲۸- سائیدگی نامتوازن یا بیش از حد لاستیک ناشی از کدام مورد زیر است؟

(الف) تنظیم نبودن فرمان، عدم تنظیم چرخ ها و ترمزها 

(ب) میزان نبودن باد چرخ ها

(ج) سرعت بیش از حد

(د) تاب داشتن گاردان

۲۹- اگر چراغ ترمز شما کار نکند، چه موقع مجاز به رانندگی هستید؟

(الف) در طول روز

(ب) زمانی که به آزمایش رانندگی می روید.

(ج) هیچوقت 

(د) در شرایط اضطراری

۳۰- زمانی که ترمز می کنید وسیله نقلیه شما به یک طرف می کشد، عمده ترین اشکال چیست؟

(الف) سطح روغن ترمز پایین است.

(ب) ترمز دستی بالاست.

(ج) ترمزها بخوبی تنظیم نیست. 

(د) لاستیک ها بیش از حد ساییده شده است.

- ۲- اگر عابری با عصای سفید در دست ببینید، به چه معناست؟
- الف) ناشنواست.  
ب) معلول است.  
ج) مسن است.  
د) نابیناست. ✓

- ۱- تابلوی روبرو به چه معناست؟
- الف) حداقل سرعت ۶۰ کیلومتر در ساعت ✓  
ب) حداکثر سرعت ۶۰ کیلومتر در ساعت  
ج) منطقه اتو سرویس در ۶۰ کیلومتری  
د) محل استراحت در ۶۰ کیلومتری



- ۴- حق تقدم عبور در تصویر روبرو با کدام است؟
- الف) همه حق تقدم عبور یکسان دارند.  
ب) اتومبیل سفید شماره ۲  
ج) اتومبیل سیاه رنگ ✓  
د) اتومبیل سفید شماره ۱



- ۳- قفل های خاص کودکان که در وسیله نقلیه نصب می شود، برای چه منظوری است؟
- الف) جهت قفل کردن پنجره های درب عقب  
ب) برای اینکه کودکان به طور ناخواسته درب عقب اتومبیل را باز نکنند. ✓  
ج) جهت ممانعت از حرکت صندلی های عقب  
د) جهت قفل کردن سگ کمربند ایمنی

- ۶- پوشیدن کفش های مناسب به هنگام رانندگی بسیار اهمیت دارد، علت این امر چیست؟
- الف) به منظور حفظ کنترل صحیح بر روی پدالها ✓  
ب) به منظور راحتی پیاده روی در مواقع نقص اتومبیل  
ج) به منظور ممانعت از ساییدگی سطح لاستیک پدالها  
د) به منظور تعویض سر دنده

- ۵- در چهار راهی با میدان دید کم در حال حرکت هستید چکار باید انجام دهید؟
- الف) بدون توجه به طرفین به حرکت ادامه دهید.  
ب) در حالیکه طرف راست را نگاه می کنید کاملاً آهسته حرکت کنید.  
ج) در حالی که طرفین را نگاه می کنید به آهستگی حرکت کنید. ✓  
د) آماده باشید که به سرعت حرکت کنید.

- ۸- زمانی که رانندگان چراغ های بزرگ را روشن و خاموش می کنند، برای شما به چه معناست؟
- الف) به شما حق تقدم می دهند.  
ب) شما را از وجود خود مطلع می کنند. ✓  
ج) به شما اطلاع می دهند که وسیله ی شما دارای نقص و اشکال است.  
د) به شما اطلاع می دهند که گشت پلیس در جاده حضور دارد.

- ۷- برای روشن کردن اتومبیل اولین کاری که باید انجام شود چیست؟
- الف) گرفتن کلاچ با پای چپ ✓  
ب) تنظیم آینه ها، خلاص کردن دنده و روشن کردن  
ج) ترمز گرفتن  
د) خلاص کردن دنده، تنظیم صندلی، بستن کمربند، روشن کردن

۹- در وضعیت راه خشک و هوای خوب فاصله بین شما و اتومبیل جلویی ... می باشد.

الف) یک ثانیه

ب) دو ثانیه ✓

ج) سه ثانیه

د) چهار ثانیه

۱۰- قصد دارید تا منزل رانندگی کنید، عینک خود را جهت رانندگی لازم دارید پیدا نمیکنید، چه اقدامی می بایست انجام دهید؟  
الف) به هنگام شب رانندگی کنید تا اینکه نور معابر به شما کمک نماید.

ب) از مسیر های خلوت به آرامی برانید.

ج) باید به طریقی به منزل بروید که به رانندگی نیاز نباشد. ✓

د) از عینک یکی از دوستان استفاده کرده تا منزل رانندگی کنید.

۱۱- حداکثر سرعت در بزرگراه های واقع در شهر ها و مناطق مسکونی چند کیلومتر در ساعت است؟

الف) ۱۰۰ ✓

ب) ۱۲۰

ج) ۱۱۰

د) ۱۲۵

۱۲- قصد وارد شدن به خیابان فرعی را دارید، افراد پیاده شروع به عبور از یک سوی خیابان به سوی دیگر کرده اند، چکار باید انجام دهید؟

الف) توقف کرده و به آنان اجازه عبور دهید. ✓

ب) با دست اشاره کنید تا عبور کنند.

ج) بوق زده و عبور کنید.

د) به حرکت ادامه داده و با فاصله ی زیادی از مقابل آنها عبور کنید.

۱۳- کدامیک از تابلوهای زیر به معنای جریان همگراست؟

الف) شکل شماره ۱ ✓

ب) شکل شماره ۲

ج) شکل شماره ۳

د) شکل شماره ۴



۱۴- هنگامی که از نزدیکی مدرسه ای عبور می کنید احتمال عبور کودکان وجود دارد، چه اقدامی انجام می دهید؟  
الف) با روشن کردن چراغ ها به آنها هشدار می دهید.

ب) همیشه سرعتی مناسب داشته باشید پیش بینی خطرات جانبی را بنمایید. ✓

ج) قبل از ورود کودکان به سواره رو با سرعت از منطقه عبور می کنید.

د) با بوق زدن مداوم آنان را از عبور خود آگاه سازید.

۱۵- علامت زیر که در آزاد راهها نصب می گردد به چه معناست؟

الف) فاصله شما را تا پل نشان می دهد.

ب) فاصله تا تلفن بعدی را نشان می دهد. ✓

ج) فاصله شما را تا خروجی بعدی نشان می دهد.

د) نشان دهنده محل بازرسی پلیس



۱۶- تابلوی روبرو چه خطری را هشدار می دهد؟  
الف) پارک

ب) عبور اطفال ✓

ج) پلیس مدرسه

د) عابر در حال عبور



۱۷- در حین رانندگی در صورت برخورد به موارد اضطراری کدامیک از اقدامات زیر را می بایست انجام داد؟  
 الف) بلافاصله ترمز کرده و ماشین را به سمت کنار هدایت می کنیم.  
 ب) به اعصاب خود مسلط شده و با هر دو دست فرمان می گیریم تا اتومبیل به سمت کنار جاده هدایت کنیم.  
 ج) ترمز ناگهانی نگرفته و با نگهداشتن هر دو دست بر فرمان سریع و ایمن گردش کرده و از جاده خارج می شویم. ✓  
 د) بلافاصله راهنما زده و با کم کردن سرعت، اتومبیل را به سمت راست هدایت می کنیم.

۱۸- مفهوم تابلوی زیر را بگویید:

الف) نظارت با دوربین پلیس ✓

ب) عکسبرداری ممنوع

ج) کنترل تردد

د) سینما



۱۹- تابلوی روبرو به چه معناست؟

الف) فقط عبور به راست مجاز است.

ب) مسیر یک طرفه

ج) فقط عبور مستقیم مجاز است.

د) خیابان یکطرفه ✓



۲۰- هنگام دنده عقب گرفتن اتومبیل به علتی قادر به دیدن پشت سر خود نیستید، چکار باید بکنید؟  
 الف) شیشه را پایین آورده پشت سر را نگاه کنید.  
 ب) در را باز کرده و پشت سر را نگاه کنید.  
 ج) از افرادی بخواهید که شما را کمک کنند و به شما فرمان بدهند. ✓  
 د) به آینه بغل نگاه کنید.

۲۲- کدام یک از موارد زیر جزو رفتارهای ناهنجار اجتماعی و ناپسند نمی باشد؟  
 الف) نصب بوق های گوش خراش  
 ب) رانندگی با سرعت مجاز ✓  
 ج) نصب سیستم های صوتی پر قدرت  
 د) استفاده از لامپ های غیر مجاز

۲۱- در چه مواقعی مجاز به حرکت با دنده عقب هستید؟  
 الف) رانندگی با دنده عقب در همه موارد مجاز است.  
 ب) با احتیاط کامل و احتراز از هرگونه حادثه و انسداد راه، می توان در مواقع ضروری با دنده عقب حرکت کرد. ✓  
 ج) در راه های یک طرفه می توان با دنده عقب حرکت کرد.  
 د) چنانچه قصد ورود از گاراژ خصوصی به خیابان فرعی به اصلی دارید.

۲۴- اتومبیلی جلوی شما از یک فرعی بیرون می آید، چکار باید انجام دهید؟  
 الف) با شتاب از کنار او عبور کنید.  
 ب) چراغ داده و پشت سر او قرار بگیرید.  
 ج) با سرعت از کنارش گذشته و بوق بزنید.  
 د) از سرعت خود کاسته و آماده توقف شوید. ✓

۲۳- فاصله مناسب از جدول هنگام پارک چه مقدار است؟  
 الف) ۱ متر از جلو - نیم متر از عقب - ۴۵ سانت از جدول  
 ب) نیم متر از جلو - ۱ متر از عقب - ۴۰ سانت از جدول  
 ج) ۱ متر از جلو - ۱ متر از عقب - ۴۵ سانت از جدول ✓  
 د) ۱ متر از جلو - نیم متر از عقب - ۴۰ سانت از جدول



۲۵- قانون اولیه رانندگی حرکت از سمت ..... مگر برای ..... است.

(الف) چپ - توقف

(ب) چپ - گردش

(ج) راست - توقف

(د) راست - سبقت و گردش به چپ ✓


۲۶- تابلوی رعایت حق تقدم را مشخص نمایید:

(الف) شکل شماره ۱

(ب) شکل شماره ۲ ✓

(ج) شکل شماره ۳

(د) شکل شماره ۴



۲۷- هرگاه دارنده گواهینامه رانندگی یکی از شرایط پزشکی

مربوطه برای رانندگی را از دست بدهد بایستی ...؟

(الف) با همان وضعیت به رانندگی ادامه بدهد.

(ب) ظرف مدت یک ماه به راهنمایی و رانندگی مراجعه نماید. ✓

(ج) به آن توجهی ننماید.

(د) به درمانگاه مراجعه نماید.

۲۸- مفهوم تابلوی روبرو چیست؟

(الف) ایستادن ممنوع

(ب) ورود ممنوع

(ج) خیابان اصلی ✓

(د) رعایت حق تقدم



۲۹- کدام تابلو نمایش دهنده (مسیر لغزنده است) را

نشان می دهد؟

(الف) شکل شماره ۱

(ب) شکل شماره ۲ ✓

(ج) شکل شماره ۳

(د) شکل شماره ۴



۳۰- فاصله شما و اتومبیل جلویی در راه خشک چند

ثانیه می باشد؟

(الف) ۵ ثانیه

(ب) ۳ ثانیه

(ج) ۴ ثانیه

(د) ۲ ثانیه ✓

۱- چرا رانندگی در شب مشکل تر است؟

- الف) وجود میدان دید طبیعی و کمتر
- ب) عدم تشخیص فاصله و سرعت وسایل نقلیه
- ج) کم شدن تشخیص عابر پیاده
- د) همه موارد ✓

۲- برای استفاده از ترمز در حین رانندگی بهتر است؟

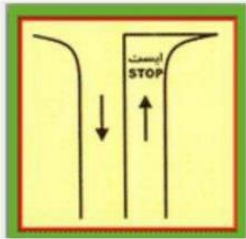
- الف) پا همواره آماده برای ترمز گرفتن باشد.
- ب) تمام کف پا را روی پدال ترمز قرار دهید.
- ج) پاشنه پا را روی کف اتومبیل گذاشته و با پنجه پدال ترمز را فشار دهید. ✓
- د) با کف پا ترمز را به آهستگی فشار داده و همزمان کلاچ بگیرید.

۳- مفهوم تابلوی زیر چیست؟

- الف) تقاطع بدون راه بند
- ب) تقاطع راه آهن با راه بند
- ج) تقاطع راه آهن بدون راه بند
- د) تقاطع با راه آهن ✓



۴- رانندگان هنگام مشاهده این خطوط چه کاری باید انجام دهند؟



- الف) با سرعت عبور کنید.
- ب) به راست گردش کنید.
- ج) به چپ گردش کنید.
- د) توقف کامل نمایید و با رعایت احتیاط سرعت کم و رعایت حق تقدم عبور کنید. ✓

۶- ترتیب کدام یک از پاسخ های زیر برای روشن کردن اتومبیل صحیح است؟

- الف) خلاص کردن دنده، تنظیم صندلی، بستن کمربند، روشن کردن
- ب) تنظیم آینه ها، خلاص کردن دنده و روشن کردن
- ج) گرفتن کلاچ، خلاص کردن دنده و روشن کردن ✓
- د) هیچکدام

۵- نحوه گرفتن صحیح فرمان اتومبیل در حالت معمول کدام است؟

- الف) با یک دست به فرمان و با دست دیگر دنده را می گیریم.
- ب) با هر دو دست و از خارج فرمان را می گیریم. ✓
- ج) با یک دست خارج فرمان و با دست دیگر داخل فرمان را می گیریم.
- د) با هر دو دست فرمان را در پایین نگه می داریم.

۸- میخ های زرد چشم گربه ای در چه قسمتهایی نصب می شود؟

- الف) در مسیرهای ورودی و خروجی و باندهای کاهش و افزایش سرعت
- ب) بین شانه خاکی و باند اصلی
- ج) بین هر دو باند مجاز
- د) غالباً در مسیر رفت و برگشت جاده ها و در سمت چپ مسیر (یا بین محل خالی وسط آزاد راه و باند اصلی) ✓

۷- پس از روشن شدن موتور و آماده بودن برای حرکت ابتدا باید کدام عمل را انجام داد؟

- الف) ابتدا کمربند ایمنی خود را ببندید و مطمئن شوید که سرنشینان نیز کمربند ایمنی خود را بسته اند. ✓
- ب) ترمز دستی را خلاص کنید.
- ج) در حالی که با پای راست ترمز را گرفتیم با پای چپ کلاچ را فشار میدهیم.
- د) ترمز پایی را چند بار فشار دهیم تا از سلامت ترمز پایی مطمئن شویم.



۹- تنظیم صندلی برای چیست؟

الف) تسلط بر فرمان پدال های گاز ترمز و کلاچ و دنده

ب) میدان دید طبیعی

ج) گزینه یک و دو ✓

د) نقطه ی کور برای راننده از بین میرود.

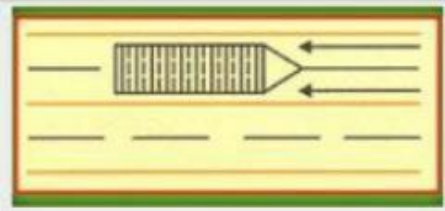
۱۰- خطوط هاشور زیر به چه معنا می باشد؟

الف) موانع در راه است ✓

ب) سرعت

ج) توقف کامل

د) گردش به راست



۱۱- منظور از خط زرد رنگ زیگزاگ در حاشیه خیابان چیست؟

الف) مخصوص توقف اتومبیل

ب) توقف کوتاه آزاد است.

ج) ایستادن روی آن ممنوع است. ✓

د) گزینه ۱ و ۲

۱۲- در چه زمان از دور دو فرمانه میتوان استفاده کرد؟

الف) عرض راه محدود باشد. ✓

ب) تقاطع های کوچک

ج) رسیدن به موانع در خیابانهای کم عرض

د) وارد شدن به کوچه بن بست

۱۳- در شکل مقابل حق تقدم عبور با کدام وسیله است؟

الف) ماشین سفید

ب) ماشین مشکی ✓

ج) ماشین قرمز

د) ماشینی که سرعتش بیشتر است.



۱۴- یکی از راه های کاهش مصرف سوخت کدام است؟

الف) حرکت با سرعت زیاد

ب) عدم تنظیم موتور

ج) تنظیم باد تایرها ✓

د) باز کردن ترموستات خودرو در تابستان

۱۶- در وضعیت راه خشک و هوای خوب فاصله بین شما و

اتومبیل جلویی ... می باشد؟

الف) ۴ ثانیه

ب) ۲ ثانیه ✓

ج) ۱ ثانیه

د) ۳ ثانیه

۱۵- گواهینامه رانندگی را بنا به درخواست چه کسی باید

ارائه نمود؟

الف) مکانیک

ب) بازرس اتومبیل

ج) پلیس ترافیک ✓

د) مأمور کنترل راه

۱۷- مفهوم تابلو را بگویید؟

- ✓ الف) آزاد راه
- ب) پایان راه
- ج) خیابان اصلی
- د) گذرگاه



۱۸- تابلوهای گذرگاه عابر پیاده کدام گزینه می باشد؟

- ✓ الف) شکل شماره ۱
- ب) شکل شماره ۲
- ج) شکل شماره ۳
- د) شکل شماره ۴



۱۹- هنگامی که پلیس راهنمایی دست خود را از موازات

شانه پایین و بالا ببرد به چه معنا است؟  
الف) رانندگان با سرعت عبور کنند.

ب) رانندگان بایستند.

ج) رانندگان وسایل نقلیه در حال حرکت  
از سرعت خود بکاهند. ✓

د) بعد از عبور پشت سر او بایستند.



۲۰- تابلوها در آزاد راه ها به رنگ ... هستند؟

- ✓ الف) آبی
- ب) قرمز
- ج) سفید
- د) سبز

۲۲- قصد دارید تا منزل رانندگی کنید عینک خود را جهت

رانندگی لازم دارید را پیدا نمیکنید چه باید انجام دهید؟

الف) از مسیرهای خلوت به آرامی برانید.

ب) از عینک یکی از دوستان استفاده کرده تا منزل  
رانندگی کنید.

ج) به هنگام شب رانندگی کنید تا اینکه نور معابر به شما  
کمک کنند.

✓ د) باید به طریقی به منزل بروید که به رانندگی نیاز نباشد.

۲۱- جهت رانندگی خوب باید از چه فاصله ای پلاک

اتومبیل ها را بخوانید؟

الف) از فاصله ۱۵ متری

ب) از فاصله ۱۰ متری

✓ ج) از فاصله ۲۰ متری

د) از فاصله ۲۵ متری

۲۴- تابلوی زیر به چه معنا می باشد ؟

- ✓ الف) خیابان اصلی
- ب) ورود ممنوع
- ج) ایستادن ممنوع
- د) رعایت حق تقدم



۲۳- تابلوی زیر یعنی؟

الف) حداکثر سرعت ۳۰ کیلومتر

✓ ب) حداقل سرعت ۳۰ کیلومتر

ج) پایان حداقل سرعت ۳۰ کیلومتر

د) پایان حداکثر سرعت ۳۰ کیلومتر



۲۵- تابلوی زیر چیست؟

الف) راه یک طرفه ✓

ب) خیابان یک طرفه

ج) فقط عبور به راست مجاز

د) فقط عبور مستقیم مجاز



۲۶- مفهوم تابلوی زیر چیست؟

الف) منطقه ایستادن ممنوع

ب) توقف ممنوع

ج) ایستادن ممنوع ✓

د) ایست



۲۷- در چه فاصله ای از ورودی و خروجی مراکز آتش

نشانی پلیس و بیمارستانها توقف ممنوع است؟

الف) ۵ متر

ب) ۲۰ متر

ج) ۱۵ متر ✓

د) ۷۰ متر

۲۸- در شکل زیر حق تقدم با ... می باشد؟

الف) خودرو سفید

ب) عابر پیاده ✓

ج) خودرو مشکی

د) خودرو قرمز



۲۹- کدام تابلو به معنای پرتاب سنگ می باشد؟

الف) شکل شماره ۱

ب) شکل شماره ۲ ✓

ج) شکل شماره ۳

د) شکل شماره ۴



۳۰- کم بودن باد لاستیک بر کدام مورد زیر اثر میگذارد؟ آن

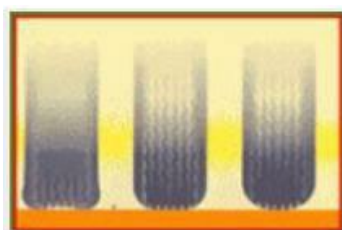
رامشخص کنید.

الف) ترمز کردن و هدایت و کار فرمان ✓

ب) تعویض دنده

ج) گرم شدن موتور

د) نیروی موتور



۱- خستگی و خواب آلودگی راننده چه تأثیری بر رانندگی وی دارد؟

الف) افزایش توجه به رانندگی

ب) افزایش سرعت تصمیم گیری در هنگام بروز خطر

ج) شناسایی صحیح وضعیت رانندگی سایر رانندگان

د) کاهش هوشیاری و سرعت واکنش فرد ✓

۲- تنها زمانی می توانید از تلفن همراه در رانندگی استفاده کنید که ... ؟

الف) در یک محل و مکان امن توقف کرده باشید. ✓

ب) وسیله نقلیه شما دارای دنده اتوماتیک باشد.

ج) فرمان را با یک دست بگیرید و اتومبیل را هدایت کنید.

د) نیاز به انجام یک تلفن اضطراری باشد.

۳- اگر چراغ ترمز شما کار نکند چه موقع مجاز به رانندگی هستید؟

الف) در طول روز

ب) هیچ وقت ✓

ج) زمانی که به آزمایش رانندگی میروید.

د) در شرایط اضطراری

۴- تأثیرات مواد مخدر چیست؟

الف) عدم کنترل راننده در شرایط ضروری

ب) اعتنا نکردن به قوانین رانندگی و فرامین پلیس

ج) عدم رعایت شئونات و برهم زدن نظم رانندگی

د) افزایش اعتماد به نفس کاذب - کاهش هوشیاری ✓

۵- در حین رانندگی در صورت خستگی باید ... ؟

الف) سرعت را کم کرده و به راه ادامه دهیم.

ب) به محض توانستن اتومبیل را متوقف کنیم و در

معرض هوای تازه قرار گیریم. ✓

ج) با رعایت حق تقدم تغییر مسیر سرعت داده و از

سرعت خود بکاهید.

د) بر سرعت خود می افزاییم تا زودتر به مقصد برسیم.

۶- کدام مورد است که به هنگام سبقت گرفتن از آنها باید فضای بیشتری را برای وسیله نقلیه در نظر بگیرید؟

الف) موتور سیکلت - دوچرخه ✓

ب) تراکتور

ج) جرثقیل

د) ماشین های مجاور

۷- مفهوم تابلو زیر را بگویید؟

الف) عکسبرداری ممنوع

ب) سینما

ج) نظارت با دوربین پلیس ✓

د) کنترل تردد



۸- شما با سرعت ۴۵ کیلومتر در ساعت در یک جاده خشک در حال رانندگی هستید، فاصله ی شما با اتومبیل جلویی چند طول اتومبیل باید باشد؟

الف) ۴ طول اتومبیل

ب) ۲ طول اتومبیل

ج) ۵ طول اتومبیل

د) ۳ طول اتومبیل ✓

۱۰- در صورت زرد شدن چراغ راهنمایی در وسط تقاطع ... ؟  
(الف) متوقف می شوید.

(ب) برای تخلیه تقاطع به راه خود ادامه می دهید. ✓  
(ج) بدون رعایت حق تقدم میتوان عبور کرد.  
(د) بلافاصله ترمز کرده با دنده عقب پشت خط عابر متوقف می شوید.

۹- شما در هنگام رانندگی در شهر مجاز هستید حداکثر سرعتی معادل:  
(الف) ۵۰ کیلومتر در خیابان های شریانی اصلی، ۵۰ کیلومتر در خیابان های شریانی فرعی و ۳۰ کیلومتر در معابر محلی و میادین حرکت کنید.  
(ب) ۶۰ کیلومتر در خیابان های شریانی اصلی، ۵۰ کیلومتر در خیابان های شریانی فرعی و ۲۰ کیلومتر در معابر محلی و میادین حرکت کنید.  
(ج) ۶۰ کیلومتر در خیابان های شریانی اصلی، ۵۰ کیلومتر در خیابان های شریانی فرعی و ۳۰ کیلومتر در معابر محلی و میادین حرکت کنید. ✓  
(د) ۶۰ کیلومتر در خیابان های شریانی اصلی، ۴۰ کیلومتر در خیابان های شریانی فرعی و ۲۰ کیلومتر در معابر محلی و میادین حرکت کنید.

۱۲- در تقاطع زیر حق تقدم عبور وسایل نقلیه را با ذکر رنگ تعیین نمایید؟

(الف) سبز - قرمز - آبی یا زرد با هم ✓  
(ب) قرمز - زرد - سبز - آبی  
(ج) زرد - آبی - قرمز - سبز  
(د) سبز - آبی - قرمز - زرد



۱۱- توقف یا ایستادن در کدامیک از محل های زیر مجاز است؟  
(الف) گذرگاه پیاده

(ب) پیاده رو  
(ج) کنار وسیله نقلیه ای که خود متوقف می باشد.  
(د) محدوده پارک آزاد ✓

۱۴- کاربرد روش دو ثانیه برای چیست؟

(الف) محاسبه زمان  
(ب) تخمین مسافت خودرو با وسیله جلویی ✓  
(ج) تست موتور  
(د) مورد ۱ و ۳

۱۳- حداکثر سرعت در جاده های اصلی:

(الف) در روز ۸۰ کیلومتر - شب ۹۰ کیلومتر  
(ب) در روز ۹۰ کیلومتر - شب ۸۵ کیلومتر  
(ج) در روز ۹۵ کیلومتر - شب ۸۵ کیلومتر ✓  
(د) در روز ۸۵ کیلومتر - شب ۹۵ کیلومتر

۱۶- هنگام طوفان - باد شدید بیش از حد مراقب چه مواردی باید بود؟

(الف) وانت - تراکتور  
(ب) ماشین های مجاور - وسایل نقلیه سنگین  
(ج) موتورسیکلت و دوچرخه ✓  
(د) ماشین های حامل مسافر - ماشین های حامل بار

۱۵- کدام یک از علائم پلیس راهنمایی زیر به این معنی است که رانندگان در هر چهار طرف تقاطع باید پشت خط ایست متوقف شوند؟

(الف) تصویر ۱ ✓

(ب) تصویر ۲

(ج) تصویر ۳

(د) تصویر ۴



۱۷- تابلوی زیر چه خطری را هشدار میدهد؟

الف) سربالایی خطرناک ✓

ب) شیب خطرناک

ج) شیب سربالایی

د) شیب



۱۸- مهمترین عامل تصادفات رانندگی با اتومبیل جلویی چیست؟

الف) شرایط آب و هوایی

ب) عدم توجه کافی به راه - نزدیک شدن بیش از حد

به اتومبیل جلویی ✓

ج) شرایط جاده

د) مسائل مکانیکی

۱۹- تابلوهای راهنمایی که فرمانی صادر می کنند به چه شکل است؟

الف) مستطیل با حاشیه قرمز

ب) مثلث با حاشیه قرمز

ج) دایره با حاشیه قرمز ✓

د) مستطیل فلش دار با حاشیه قرمز

۲۰- چه موقعی باید بیش از حد مراقب موتورسیکلت سوارها و دوچرخه سوارها باشید؟

الف) در محل تقاطع ها ✓

ب) در جاده دو طرفه

ج) در خط کشی عابرین پیاده

د) در خیابان های یکطرفه

۲۱- در کدام محل است که نباید پارک کنید؟

الف) خیابان اصلی

ب) در ۱۵ متری تقاطع ها و ایستگاه های اتوبوس ✓

ج) در خیابان فرعی

د) در خیابان های یک طرفه

۲۲- مفهوم تابلوی زیر را بگویید؟

الف) سبقت مجاز

ب) پایان تمام محدودیت ها ✓

ج) پایان منطقه محدوده سرعت

د) هیچ کدام



۲۳- مفهوم تابلوی زیر را بگویید؟

الف) ورود به راه اصلی از راست ✓

ب) فرعی به اصلی از راست

ج) اصلی به فرعی از راست

د) ورود به جاده اصلی از چپ



۲۴- به دنبال یک کامیون بزرگ در حال حرکت هستید، کامیون به تقاطع رسیده و علامت میدهد که به سمت راست گردش کند، ولی در عین حال به سمت چپ متمایل می شود، چه کار باید انجام دهید؟

الف) فاصله را کاملاً در پشت سر او حفظ کرده و فضا را برای گردش او آزاد می گذارید. ✓

ب) نزدیک می شوید که به سرعت از او سبقت بگیرید.

ج) تصور میکنید که علامت را اشتباه داده و قصد گردش به چپ را دارد.

د) وقتی کامیون سرعت را کم میکند از او سبقت میگیرید.



۲۵- راه لغزنده است مربوط به کدام گزینه می باشد؟

الف) شکل شماره ۱

ب) شکل شماره ۲ ✓

ج) شکل شماره ۳

د) شکل شماره ۴



۲۶- خطوط به رنگ زرد به صورت زیگزاگ در حاشیه راه

های متصل به پیاده رو نشانگر چیست؟

الف) عبور کردن و ایستادن روی آنها ممنوع است. ✓

ب) ایستادن روی آنها آزاد است.

ج) پارک برای وسیله نقلیه

د) هیچ کدام

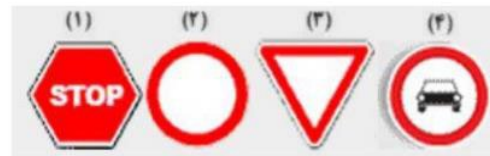
۲۷- تابلوی ورود از هر دو طرف ممنوع کدام است؟

الف) شکل شماره ۱

ب) شکل شماره ۲ ✓

ج) شکل شماره ۳

د) شکل شماره ۴



۲۸- در راه های دارای جدول برای پارک در سراسیابی می باید ...؟

الف) ترمز دستی را کشیده فرمان را به سمت جدول برگردانیم.

ب) فرمان را به سمت جدول چرخانده و اتومبیل را در دنده بگذاریم.

ج) اتومبیل را در دنده گذاشته و مانعی جلوی لاستیک عقب

قرار میدهم.

د) ترمز دستی را کشیده، فرمان را به سمت جدول بچرخانیم و

اتومبیل را در دنده عقب قرار دهیم. ✓

۳۰- مستطیل افقی معمولاً برای تابلو های ... به کار میرود؟

الف) راهنما و هشدار برای خطرات ناشی از تعمیر و

نگهداری ✓

ب) راهنما برای تابلو های دستوری

ج) هشدار دهنده برای خطر

د) دستوری و آگاهی از خطرات



۲۹- در خیابان یک طرفه به سمت راست می پیچید، خود

را در چه موقعیتی قرار می دهید؟

الف) تنها در قسمت چپ خط وسط قرار بگیرید.

ب) در باند سمت چپ قرار بگیرید.

ج) در باند سمت راست قرار بگیرید. ✓

د) در هر باندی امکان دارد.

۲- در چه فاصله ای از پیچ ها دور زدن ممنوع می باشد؟

الف) ۱۰۰ متری

☒ ب) ۱۵۰ متری

ج) ۲۰۰ متری

د) ۲۵۰ متری

۱- در شرایط غیرعادی مانند مواقع بارندگی و یخبندان و سرما، کنترل و هدایت و توقف اتومبیل به کدام دلیل مشکل است؟

الف) به لحاظ کاهش ضریب اصطکاک چرخ ها

ب) به سبب لغزندگی راه ها

ج) به لحاظ سرمای هوا و خارج شدن لاستیک ها از حالت طبیعی

☒ د) الف و ب هر دو صحیح است.

۴- هنگام رانندگی ممنوع می باشد؟

الف) استعمال دخانیات

ب) خوردن و آشامیدن

ج) استفاده از تلفن همراه

☒ د) همه موارد

۳- در شکل مقابل تقاطع هم عرض می باشد، حق تقدم عبور با کدام وسیله است؟

الف) قرمز

ب) سفید

☒ ج) مشکی

د) همه با هم



۶- هنگام رانندگی کدام یک از مدارک زیر را باید به همراه داشته باشیم؟

الف) کارت اتومبیل، گواهینامه رانندگی

ب) بیمه شخص ثالث

ج) برگه معاینه فنی معتبر

☒ د) همه موارد

۵- کلاچ گرفتن باعث کدام یک از موارد زیر می شود؟

☒ الف) کنترل راننده به حرکت و سرعت اتومبیل کم میشود.

ب) کنترل راننده به حرکت و سرعت اتومبیل بیشتر میشود.

ج) پیچیدن به طرفین و چرخاندن فرمان سخت تر میشود.

د) پیچیدن به طرفین و چرخاندن فرمان آسان تر میشود.

۸- شما به دنبال یک وسیله نقلیه دیگر بر روی یک جاده ی

خیس رانندگی می کنید، فاصله زمانی بین شما و اتومبیل

جلویی چقدر باید باشد؟

الف) دو ثانیه

ب) سه ثانیه

☒ ج) چهار ثانیه

د) پنج ثانیه

۷- متداولترین نوع پارک در شهرها کدامند؟

الف) پارک در محل مجاز

ب) پارک ۳۰ سانتی متر

☒ ج) پارک دوبل

د) پارک در پارکینگ



- ۹- در صورت ترکیدن لاستیک جلوی اتومبیل باید ...  
 (الف) فرمان را محک گرفته و به آرامی توقف کرد. ✓  
 (ب) به شدت ترمز کرد.  
 (ج) فرمان را رها کرد.  
 (د) هیچ کدام

- ۱۰- چرا باید برای سبقت از یک وسیله طویل فاصله بیشتری با آن حفظ کرد؟  
 (الف) راحت بتوانیم با سرعت حرکت کنیم.  
 (ب) بتوانیم جلوی کامیون را ببینیم.  
 (ج) برای اینکه در نقطه کور قرار نگرفته و راننده کامیون بتواند ما را ببیند.  
 (د) مورد ب و ج ✓

- ۱۱- شما با سرعت ۴۵ کیلومتر در ساعت در یک جاده خشک در حال رانندگی هستید، فاصله شما با اتومبیل جلویی چند طول اتومبیل باید باشد؟  
 (الف) ۳ طول اتومبیل ✓  
 (ب) ۴ طول اتومبیل  
 (ج) ۵ طول اتومبیل  
 (د) ۲ طول اتومبیل


- ۱۲- مفهوم تابلوی زیر چیست؟  
 (الف) خطوط همگرا  
 (ب) افزایش خطوط عبور ✓  
 (ج) کاهش خطوط عبور  
 (د) انحراف یکی از خطوط عبور



- ۱۳- دسترسی در آزاد راه ها چگونه است؟  
 (الف) از طریق تقاطع ها  
 (ب) از طریق اولین خروجی  
 (ج) از طریق پل های هوایی و زیر گذر ها ✓  
 (د) تا شهرک یا تقاطع جاده دیگر راهی ندارد.

- ۱۴- برای خروج از پارک باید؟  
 (الف) آینه عقب اتومبیل را کنترل کرده و راهنمای سمت چپ را روشن کنیم، سپس سر را به چپ چرخانده با احتیاج به حق تقدم ور از پارک خارج میشویم. ✓  
 (ب) با رعایت حق تقدم عبور خارج میشویم.  
 (ج) راهنما زده و با رعایت حق تقدم عبور خارج میشویم.  
 (د) راهنما زده و با دست علامت میدهید، سپس با اطمینان از کنار خود از پارک خارج میشویم.

- ۱۵- خطوط زیگزاگ شکل رو به رو به چه معناست؟  
 (الف) توقف کامل روی این خطوط آزاد است.  
 (ب) عبور کردن و ایستادن روی این خطوط ممنوع است. ✓  
 (ج) عبور کردن آزاد، اما ایستادن روی آن ممنوع است.  
 (د) محل پارک اتومبیل ها می باشد.



- ۱۶- تابلوی (راه لغزنده است) کدام یک از گزینه های زیر می باشد؟  
 (الف) شکل شماره ۱  
 (ب) شکل شماره ۲  
 (ج) شکل شماره ۳  
 (د) شکل شماره ۴ ✓



۱۷- چرا رانندگی در شب سخت تر است؟

(الف) محدود بودن حوزه دید راننده

(ب) عدم تشخیص به موقع عابر پیاده

(ج) عدم تشخیص فاصله و سرعت وسایل نقلیه

(د) همه موارد ✓

۱۸- تابلوی زیر به چه معنا می باشد؟

(الف) دور زدن در میدان

(ب) میدان

(ج) تامین حرکت

(د) جهت عبور در میدان ✓



۱۹- تابلوهای بازدارنده را تابلوهای ... نیز می گویند که

بیشتر به شکل ... با نوار حاشیه ای ... رنگ هستند؟

(الف) انتظامی - دایره - قرمز ✓

(ب) هشدار دهنده - دایره - قرمز

(ج) انتظامی - مثلث - قرمز

(د) هشداردهنده - مثلث - آبی

۲۰- تابلوی زیر به چه معنا می باشد؟

(الف) تقاطع با راه آهن

(ب) تقاطع جاده و راه آهن در ۲۰۰ متری ✓

(ج) خروجی از آزاد راه ۲۰۰ متر

(د) ورودی به آزاد راه ۲۰۰ متر



۲۱- تابلوی رعایت حق تقدم کدام گزینه می باشد؟

(الف) شکل شماره یک

(ب) شکل شماره دو ✓

(ج) شکل شماره سه

(د) شکل شماره چهار



۲۲- برای راه اندازی خودرو راننده در چه مرحله ای

بایستی کمربند ایمنی را ببندد؟

(الف) در حین حرکت

(ب) پس از روشن کردن موتور خودرو ✓

(ج) قبل از روشن کردن موتور خودرو

(د) نیازی به بستن کمربند ایمنی نمی باشد.

۲۳- گواهینامه رانندگی یک سند رسمی است که تنها به

... نشان داده می شود.

(الف) بازرس اتومبیل

(ب) پلیس ترافیک ✓

(ج) مامور کنترل راه

(د) همه موارد


۲۴- تابلوی راه یک طرفه کدام گزینه می باشد؟

(الف) شکل شماره یک

(ب) شکل شماره دو

(ج) شکل شماره سه ✓

(د) شکل شماره چهار



۲۵- کدام گزینه ها صحیح می باشد؟

- الف) حداقل سرعت در آزاد راه ها ۷۰ و حداکثر سرعت ۱۲۰ کیلومتر در ساعت
- ب) حداکثر سرعت در بزرگراه ها درون شهری ۱۰۰ کیلومتر در ساعت
- ج) حداکثر سرعت در جاده های اصلی ۹۵ کیلومتر در ساعت در شب
- د) حداکثر سرعت در معابر محلی ۳۰ کیلومتر در ساعت ✓

- ۲۶- کدام مورد زیر علت تصادف با اتومبیل جلویی است؟
- الف) تغییر نور چراغ ها
  - ب) عبور عابر پیاده در مناطق شهری
  - ج) شروع ترافیک وسایل نقلیه
  - د) عدم توجه کافی به راه نزدیک شدن بیش از حد به اتومبیل جلویی ✓

۲۷- در برخورد راه اصلی با راه فرعی تقدم عبور با وسیله ای است که ... ؟

- الف) از راه فرعی عبور می کند.
- ب) به سمت راست گردش می کند.
- ج) از راه اصلی عبور می کند. ✓
- د) تابلو ها - چراغ راهنما - فرمان پلیس - خط کشی

- ۲۸- مستطیل قائم معمولاً برای تابلو های ... به کار میروند؟
- الف) صرفاً برای رعایت حق تقدم
  - ب) معمولاً برای تابلو های دستوری و خدمات ✓
  - ج) راهنما و هشدار برای خطرات
  - د) راهنمای مسیر



۲۹- مفهوم تابلوی زیر چیست؟

- الف) عبور کامیون
- ب) مسیر ویژه کامیون
- ج) مسیر توصیه شده برای وسایل سنگین ✓
- د) عبور کامیون های کم ظرفیت



۳۰- تابلوی زیر یعنی ... ؟

- الف) عبور چرخ دستی
- ب) عبور گاری ممنوع
- ج) عبور خودروی کشاورزی ممنوع
- د) عبور چرخ دستی ممنوع ✓




۱- کدام یک از تابلوها به معنای تابلوی جریان همگرا است؟

الف) شکل شماره یک

ب - شکل شماره دو ✓

ج) شکل شماره سه

د) شکل شماره چهار



۲- تابلوی زیر چه مفهومی دارد؟

الف) عبور اطفال

ب) محل عبور دانش آموزان

ج) به مدرسه نزدیک میشوید.

د) مدرسه ✓



۳- تابلوهای هشداردهنده یا ... بیشتر به صورت ... با نور

حاشیه ... رنگ و زمینه ... رنگ می باشد.

الف) اختاری - مثلث - قرمز - سفید ✓

ب) اخباری - دایره - قرمز - آبی

ج) اختاری - مربع - قرمز - سفید

د) انتظامی - پنج ضلعی - قرمز - سفید

۴- در مورد شکل زیر کدام گزینه صحیح می باشد؟

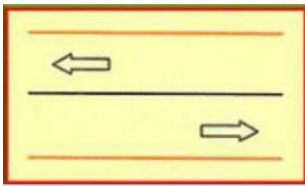
الف) رانندگان فقط برای سبقت می توانند از آن عبور کنند. ✓

ب) رانندگان به هیچ وجه نبایستی حتی از روی آن عبور کنند.

ج) رانندگان فقط بر روی گردش میتوانند از آن عبور کنند.

د) عبور از این خطوط آزاد

می باشد.



۵- در شرایط یخبندان مسافت توقف چند برابر افزایش

می یابد؟

الف) ۱۰ برابر ✓

ب) ۵ برابر

ج) ۲ برابر

د) ۱۲ برابر

۶- حداکثر سرعت در خیابانهای شریانی اصلی ... کیلومتر

در ساعت و در خیابان های شریانی فرعی ... کیلومتر در

... ساعت و در معابر محلی ... کیلومتر در ساعت است.

الف) اصلی ۶۰ - فرعی ۵۰ - محلی ۲۰

ب) اصلی ۵۰ - فرعی ۶۰ - محلی ۳۰

ج) اصلی ۶۰ - فرعی ۵۰ - محلی ۳۰ ✓

د) اصلی ۵۰ - فرعی ۶۰ - محلی ۲۰

۸- شما به دنبال یک وسیله نقلیه دیگر بر روی یک جاده

خیس رانندگی می کنید، فاصله زمانی بین شما و اتومبیل

جلویی چقدر باید باشد؟

الف) دو ثانیه

ب) چهار ثانیه ✓

ج) شش ثانیه

د) هشت ثانیه

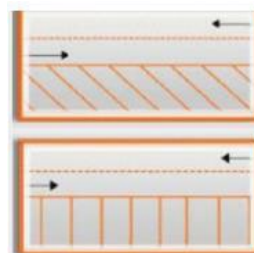
۷- خطوط در شکل زیر به معنا است؟

الف) تعریض حاشیه خیابان

ب) خطوط پارک ✓

ج) توقف روی خط ممنوع

د) مسیر کانال زیرگذر



۹- کدام یک از موارد زیر صحیح است؟  
الف) باز کردن درهای وسیله نقلیه پیش از توقف کامل مجاز نیست. ✓

ب) عبور وسایل نقلیه از پیاده روها مجاز است.  
ج) اجازه رانندگی به شخص فاقد گواهینامه مجاز است.  
د) ۲ توقف در ۱۰ متری ورودی بیمارستان ها مجاز است.

۱۰- به هنگام رانندگی در طول روز در شرایط مه آلود چه کاری باید انجام دهید؟  
الف) از نور بالا استفاده کنید.  
ب) چراغ راهنما را روشن کنید.  
ج) چراغ بغل را روشن کنید.  
د) از نور پایین استفاده کنید. ✓


۱۱- مفهوم تابلوی زیر چیست؟  
الف) خط عبور برای گریز ✓

ب) راه مستقیم بسته است.  
ج) عبور اجباری از راه فرعی  
د) گریز از مسیر محدود



۱۲- موثر ترین عضو بدن در رانندگی کدام است؟  
الف) دست ها  
ب) پاها  
ج) چشمها ✓  
د) قلب

۱۴- طبق تصویر زیر راننده چه کاری می خواهد انجام دهد؟  
الف) می خواهد به راست گردش کند.  
ب) می خواهد مستقیم حرکت کند.  
ج) می خواهد گردش به چپ انجام دهد. ✓  
د) می خواهد بایستد.



۱۳- از روشن شدن موتور و آماده بودن برای حرکت ابتدا باید کدام عمل را انجام داد؟  
الف) ترمز پایی را چند بار فشار دهیم تا از سلامت ترمز پایی مطمئن شویم.  
ب) در حالی که با پای راست ترمز گرفته ایم با پای چپ کلاچ را فشار دهیم.  
ج) ترمز دستی را خلاص کنیم.  
د) ابتدا کمر بند ایمنی خود را ببندید و مطمئن شوید که سرنشینان نیز کمر بند ایمنی را بسته اند. ✓

۱۵- منظور ان این علامت پلیس راهنمایی چیست؟  
الف) عبور از دو طرف آزاد

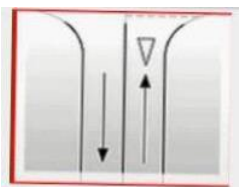
ب) هدایت اتومبیل ها به طرفین جهت روان تر شدن ترافیک  
ج) وسایل نقلیه ای که در امتداد مسیر دست های مامور نشان داده می شود اجازه حرکت ندارند  
(ایست نمایید) ✓

د) علامت ایست برای اتومبیل های مقابل و دستور حرکت برای اتومبیل های پشت



۱۶- مفهوم خطوط منقطع زیر چیست؟  
الف) رانندگان باید توقف کامل نمایند و سبب رعایت احتیاط عبور کنند.  
ب) رانندگان از سرعت خود کم کرده و با احتیاط و رعایت حق تقدم عبور کنند. ✓

ج) رانندگان سرعت خود را کاهش داده و به راست گردش کنند.  
د) رانندگان با سرعت و رعایت حق تقدم عبور کنند.





۱۷- تابلو زیر به چه معناست ؟

الف) فقط عبور مستقیم مجاز

ب) خیابان یک طرفه ☒

ج) راه یک طرفه

د) فقط عبور به راست مجاز



۱۸- به هنگام ترکیدن لاستیک کدام مورد را باید انجام داد؟

الف) دنده را تعویض کرده و سس ترمز کنید.

ب) ترمز کرده و سریع متوقف کنید.

ج) فرمان را به شدت و محکم بگیرید و اجازه دهید

اتومبیل خود به خود متوقف شود. ☒

د) فرمان را شل بگیرید و محکم ترمز کنید.

۱۹- در شکل زیر حق تقدم عبور با کدام وسیله می باشد؟

الف) قرمز

ب) مشکی ☒

ج) سفید

د) سفید و مشکی



۲۰- تابلوی زیر یعنی ... ؟

الف) رعایت حق تقدم

ب) ایست ☒

ج) توقف ممنوع

د) ورود ممنوع



۲۲- بخش وسط در راه هایی که به وسیله خط کشی یا علائم

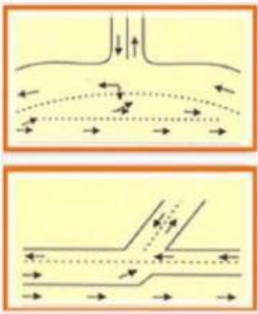
دیگر به سه بخش تقسیم شده است، چه مفهومی دارد؟

الف) سبقت گرفتن

ب) گردش به چپ

ج) سبقت و گردش به چپ ☒

د) سبقت و گردش به راست



۲۱- تابلوی زیر یعنی ... ؟

الف) سبقت ممنوع ☒

ب) پایان سبقت ممنوع

ج) عبور سواری ممنوع

د) توقف ممنوع



۲۴- تابلوی عبور وسایل نقلیه موتوری ممنوع کدام گزینه

می باشد؟

الف) شکل شماره ۱ ☒

ب) شکل شماره ۲

ج) شکل شماره ۳

د) شکل شماره ۴



۲۳- تابلوی توقف ممنوع کدام گزینه می باشد؟

الف) شکل شماره ۱

ب) شکل شماره ۲

ج) شکل شماره ۳ ☒

د) شکل شماره ۴



۲۵- در چند متری تقاطع ها نباید توقف نمود؟

الف) ۱۵ متری ✓

ب) ۲۰ متری

ج) ۲۵ متری

د) ۳۰ متری

۲۶- کدام گزینه نسبت به گزینه های دیگر در اولویت میباشد؟

الف) فرمان پلیس ✓

ب) چراغ راهنما

ج) خط کشی

د) تابلوها

۲۷- بیشترین نوع آلودگی وسایل نقلیه موتوری کدام است؟

الف) آلودگی هوا ✓

ب) آلودگی شنیداری

ج) آلودگی دیداری

د) آلودگی

۲۸- حداقل فاصله مناسب از جدول هنگام پارک ... ؟

الف) نیم متر از جلو - یک متر از عقب - ۴۰ سانتیمتر از جدول

ب) یک متر از جلو - نیم متر از عقب - ۴۵ سانتیمتر از جدول

ج) یک متر از جلو - یک متر از عقب - ۴۰ سانتیمتر از جدول

د) یک متر از جلو - یک متر از عقب - ۴۵ سانتیمتر از جدول ✓

۲۹- تابلوی زیر چه نام دارد؟

الف) راه لغزنده

ب) پرتاب سنگ

ج) شانه خطرناک ✓

د) دست انداز

۳۰- تابلوی زیر چه مفهومی دارد؟

الف) گذرگاه پیاده

ب) گذرگاه عابر پیاده ✓

ج) عبور اطفال

د) فقط عبور پیاده





۱- در چند متری ورودی تونل ها، سبقت گرفتن ممنوع است؟

الف) ۱۸۰ متری

ب) ۱۵۰ متری

ج) ۲۰۰ متری

د) ۱۰۰ متری 

۲- استفاده از چراغ های رنگارنگ و چشمک زن در

وسایل نقلیه ... ؟

الف) ممنوع است مگر با اخذ مجوز از مراجع ذیصلاح. 

ب) محدودیتی ندارد.

ج) مجاز است.

د) در معابر شهری ممنوع نیست.

۳- در چه فاصله ای از تقاطع و میادین توقف وسایل نقلیه

ممنوع است؟

الف) ۲۰ متری

ب) ۱۵ متری 

ج) ۳۰ متری

د) ۲۵ متری

۴- کدامیک از پاسخ های زیر در خصوص نقص در سیستم

جلو بندی و یا شکستگی آن صحیح می باشد؟

الف) تایر های عقب خودرو ساییده میشود.

ب) مصرف سوخت افزایش میابد.

ج) هدایت و کنترل خودرو از دست راننده خارج میشود. 

د) رادیاتور خودرو جوش می آورد.

۵- کدامیک از موارد زیر در خصوص عبور از روی خط آهن صحیح

می باشد؟

الف) در حین عبور از خط آهن بایستی دنده خودرو را از دنده سبک به دنده سنگین تغییر داد.

ب) در حین عبور از خط آهن بایستی از تعویض دنده خودداری نمود. 

ج) در حین عبور از خط آهن دنده خودرو را از دنده سنگین به دنده سبک تغییر داد.


د) قبل از رسیدن به خط آهن باید سرعت را افزایش داده و با سرعت از خط آهن عبور نمود.

۶- در راه هایی که مسیر حرکت وسایل نقلیه به علت وجود موانع

ثابت اعم از وسایل نقلیه پارک شده، مصالح ساختمانی، اشیاء،

عملیات عمرانی، حفاری و خرابی راه بسته و یا برای عبور از مسیر مجاز کافی نباشد، حق تقدم عبور با وسیله ای است که ...

الف) به سمت راست گردش میکند.

ب) مسیر عبور آنها باز یا سهم عبور بیشتری را دارا میباشد. 

ج) به طور مستقیم و در سمت و مسیر مجاز حرکت میکند.

د) مسیر عبور آنها بسته یا سهم کمتری را دارا میباشد.

۷- سبقت از طرف راست وسیله نقلیه ای که در حال

گردش به چپ میباشد ... ؟

الف) فقط در معابر شریانی درجه دو ممنوع است.

ب) ممنوع است.

ج) در هنگام روز مجاز است.

د) مجاز است. 

۸- برای گردش به چپ در راه های بیرون شهر که منحصر به


دو خط عبور رفت و برگشت بوده و مانع فیزیکی وسط جاده

نداشته باشد رانندگان موظفند وسایل نقلیه را ... ؟

الف) در وسط راه متوقف و با علامت دادن به سایرین گردش نمایند.

ب) راهنمای سمت چپ را روشن و گردش نمایند.

ج) در شانه راه و یا منتهی الیه سمت راست راه متوقف و سپس

با رعایت حق تقدم گردش نمایند. 

د) در وسط راه با زدن راهنما به سمت چپ گردش نمایند.

۹- رانندگی هر فرد نشان دهنده چه چیزی میباشد؟

الف) میزان سواد

ب) شخصیت و درک اجتماعی 

ج) میزان ثروت

د) معروف بودن

۱۰- کدام مورد نمونه ای از رفتار پر خطر هنگام رانندگی است؟

الف) حرکت بین خطوط

ب) توجه به جلو

ج) رعایت فاصله طولی

د) استفاده از تلفن همراه 

۱۱- کدام مورد زیر منظور و مفهوم رانندگی با سرعت مطمئنه را بیان میکند؟

الف) رانندگی بر اساس شرایط محیطی و جاده ای 

ب) رانندگی با سرعت های پایین

ج) رانندگی با سرعت های بالا

د) رانندگی در ساعات روز

۱۲- در سه راه ها حق تقدم عبور با وسیله نقلیه ای است که .... ؟

الف) سریع تر از وسیله نقلیه دیگر حرکت میکند.

ب) به چپ گردش میکند.

ج) به راست گردش میکند.

د) به طور مستقیم و در سمت و مسیر مجاز حرکت میکند. 

۱۳- علائم اخباری برای گرفتن سبقت در روز کدام است؟

الف) تعویض نور چراغ بالا و پایین

ب) بوق کوتاه و چراغ راهنما 

ج) اشاره با دست

د) بوق مکرر و ممتد

۱۴- حداکثر سرعت در میدان ها چقدر است؟

الف) ۷۰ کیلومتر در ساعت

ب) ۵۰ کیلومتر در ساعت

ج) ۳۰ کیلومتر دو ساعت 

د) ۶۰ کیلومتر در ساعت

۱۵- کدامیک از موارد زیر جز سیستم اگزوز خودرو میباشد؟

الف) کاتالیست 

ب) فیلتر هوا

ج) نشانگر سوخت

د) فن

۱۶- کدامیک درباره ضد یخ صحیح میباشد؟

الف) بهتر است کل مخزن رادیاتور به جای آب از ضد یخ پر شود.

ب) مایع ضد یخ از یخ زدگی آب در سرما جلوگیری میکند. 

ج) استفاده از ضد یخ در تابستان میتواند منجر به جوش آوردن زودتر موتور شود.

د) ضد یخ در جلوگیری از زنگ زدگی رادیاتور و قطعات سیستم خنک کاری موثر نمیشود.

۱۷- معیوب بودن سیستم تعلیق یک خودرو موجب میشود ... ؟

- الف) افزایش آلایندگی گازهای خروجی از موتور میشود.  
ب) فرمان پذیری و سیستم هدایت خودرو دچار اختلال شود. ✓  
ج) آب رادیاتور جوش بیاورد.  
د) روغن موتور به مرور زمان کاهش یابد.

۱۸- دو برخورد با مصدوم بیهوش، مهم ترین اقدام کدام است؟

الف) با کشیدن پتو بدن او را گرم نگه داریم.  
ب) دادن مایعات و نوشیدنی گرم.  
ج) باز کردن راه هوایی تنفس. ✓  
د) مصدوم را با تکان دادن بدنش به هوش آورید.

۱۹- بی احترامی به سایر کاربران ترافیک، دشنام و ناسزا گفتن به سایرین در حین رانندگی نشان دهنده چیست؟

- الف) جرأت و شجاعت  
ب) شخصیت متزلزل و منفی فرد ✓  
ج) شلوغی ترافیک  
د) عجله و شتاب

۲۰- کدامیک از موارد زیر جز رفتارهای رانندگان پرخطر و پرخاشگر نمیشود؟

الف) بوق زدن های بیهوده و مکرر  
ب) استفاده از نور بالا برای اذیت کردن راننده مقابل  
ج) رعایت حقوق شهروندی و حریم دیگران در حین رانندگی ✓  
د) توهین سایر رانندگان و انجام رفتارهای ناپسند و زشت

۲۱- در ارزیابی مصدومین کدامیک از مصدومین را باید در اولویت انجام کمک های اولیه قرار داد؟

- الف) مصدومینی که آسیب آنها کم تر است.  
ب) کودکان در اولویت انجام کمک های اولیه هستند.  
ج) مصدومینی که از سن بالاتری نسبت به سایر مصدومین برخوردارند.  
د) مصدومینی که آسیب آنها بسیار شدید است نظیر سوختگی ها یا زخم های وسیع. ✓

۲۲- از زمانی که راننده تشخیص میدهد نیاز به توقف دارد تا لحظه به کار گرفتن ترمز ها چه نام دارد؟

الف) مسافت توقف  
ب) مسافت ترمز  
ج) زمان واکنش ✓  
د) زمان ترمز

۲۳- دو کدامیک از موارد زیر بوق زدن مجاز است؟

- الف) صدا زدن افراد  
ب) سبقت مجاز در روز ✓  
ج) اعلام حضور و باز کردن در منزل  
د) خدا حافظی

۲۴- در گذرگاه پیاده که فاقد چراغ راهنمایی و رانندگی است حق تقدم عبور با کدام است؟

الف) وسیله نقلیه در حال حرکت  
ب) پیادگان ✓  
ج) وسیله نقلیه در حال گردش  
د) وسیله نقلیه ای که متوقف شده است.