

# نمونه سوالات

## آیین نامه رانندگی



بسته شماره: ۳



ارائه شده توسط وب سایت تست درایو

[WWW.TEST-DRIVE.IR](http://WWW.TEST-DRIVE.IR)





۱- در تصویر زیر حق تقدم وسایل نقلیه به ترتیب از راست به چپ کدام است؟

۱ - ۳ - ۲

۳ - ۲ - ۱

✓ ۲ - ۳ - ۱

۱ - ۲ - ۳



دلیل: حق تقدم ابتدا با وسیله نقلیه ای است که در خیابان اصلی قرار دارد (خیابانی که دارای تابلوی ایست یا حق تقدم است خیابان فرعی می باشد پس در این تصویر ابتدا حق تقدم با خودرو مشکی رنگ یعنی شماره یک است چون در خیابان اصلی است و مسیر مستقیم حرکت میکند سپس با خودرو قرمز رنگ یعنی شماره ۳ و در نهایت با خودرو سفید رنگ یعنی شماره ۲ میباشد.

۲- در تصویر زیر حق تقدم وسایل نقلیه به ترتیب از راست به چپ کدام است؟

آبی - زرد - قرمز

آبی - قرمز - زرد

✓ قرمز - آبی - زرد

زرد - آبی - قرمز



دلیل: در تقاطع هایی که تابلو ندارند حق تقدم ابتدا با وسیله نقلیه ای است که در سمت راست آن وسیله ای نیست بدین ترتیب ابتدا قرمز باید حرکت کند سپس آبی و پس از آن زرد.

۳- در تصویر زیر حق تقدم وسایل نقلیه به ترتیب از راست به چپ کدام است؟

✓ دوچرخه - سفید - زرد

دوچرخه - زرد - سفید

زرد - دوچرخه - سفید

سفید - دوچرخه - زرد

دلیل: مشابه سوال ۱



۴- در تصویر زیر حق تقدم وسایل نقلیه به ترتیب از راست به چپ کدام است؟

آبی - قرمز - زرد

قرمز - آبی - زرد

زرد - آبی - قرمز

✓ آبی - زرد - قرمز

دلیل: مشابه سوال ۱



۵- در تصویر زیر حق تقدم وسایل نقلیه به ترتیب از راست به چپ کدام است؟

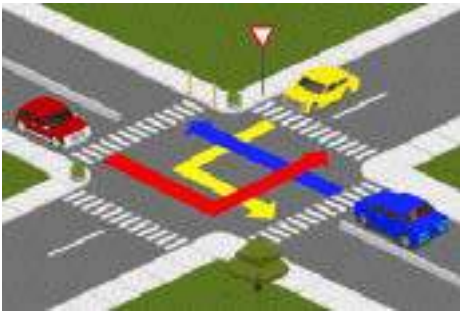
قرمز - آبی - زرد

آبی - زرد - قرمز

✓ آبی - قرمز - زرد

زرد - آبی - قرمز

دلیل: مشابه سوال ۱



۶- در تصویر زیر حق تقدم وسایل نقلیه به ترتیب از راست به چپ کدام است؟

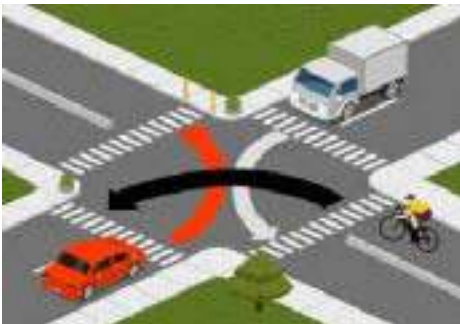
✓ کامیون - دوچرخه - قرمز

دوچرخه - کامیون - قرمز

دوچرخه - قرمز - کامیون

کامیون - قرمز - دوچرخه

دلیل: مشابه سوال ۲



۷- در تصویر زیر حق تقدم وسایل نقلیه به ترتیب از راست به چپ کدام است؟

اتوبوس - دوچرخه - سفید

دوچرخه - سفید - اتوبوس

دوچرخه - سفید - اتوبوس

✓ سفید - دوچرخه - اتوبوس

دلیل: مشابه سوال ۲



۸- در تصویر زیر حق تقدم وسایل نقلیه به ترتیب از راست به چپ کدام است؟

دوچرخه - موتور - کامیون - سواری

✓ سواری - دوچرخه - موتور - کامیون

سواری - موتور - دوچرخه - کامیون

سواری - کامیون - دوچرخه - موتور

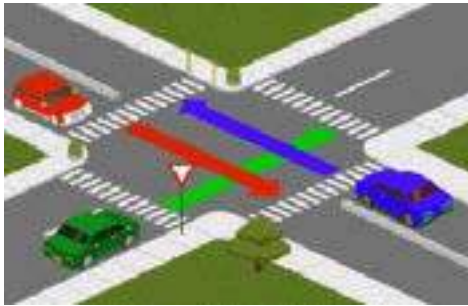
دلیل: مشابه سوال ۱



## نمونه سوالات آیین نامه مقدماتی

## نمونه سوالات آیین نامه از بخش حق تقدم

۹- در تصویر زیر حق تقدم وسایل نقلیه به ترتیب از راست به چپ کدام است؟



قرمز - آبی - سبز

✓ قرمز و آبی باهم - سبز

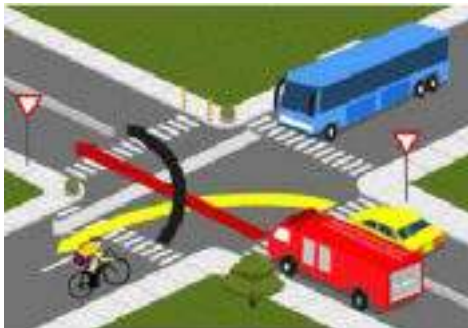
سبز - قرمز - آبی

قرمز - سبز - آبی

دلیل: در اینجا چون قرمز و آبی در مسیر یکدیگر نیستند، نسبت به هم حق تقدمی ندارند میتوانند باهم عبور کنند و از آنجایی که در خیابان اصلی هستند پس ابتدا حق تقدم با این قرمز و آبی باهم و سپس با سبز رنگ میباشد.



۱۰- در تصویر زیر حق تقدم وسایل نقلیه به ترتیب از راست به چپ کدام است؟



اتوبوس - دوچرخه - سواری - آتش نشانی

اتوبوس - دوچرخه - آتش نشانی - سواری

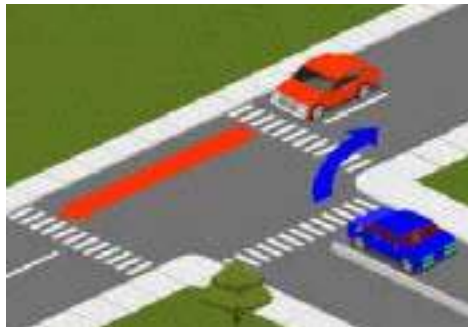
آتش نشانی - دوچرخه - سواری - اتوبوس

✓ آتش نشانی - اتوبوس - دوچرخه - سواری

دلیل: ابتدا با وسیله نقلیه امدادی است و در اینجا حق تقدم ابتدا با آتش نشانی میباشد پس از آن با وسیله نقلیه ای است که در خیابان اصلی است که در اینجا اتوبوس و دوچرخه میباشد و چون اتوبوس مسیر مستقیم دارد پس ابتدا با اتوبوس پس از آن با دوچرخه و پس از آن با سواری زرد رنگ میباشد.



۱۱- در تصویر زیر حق تقدم وسایل نقلیه به ترتیب از راست به چپ کدام است؟



قرمز - آبی

آبی - قرمز

✓ نسبت به هم حق تقدمی ندارند

هیچکدام

دلیل: قرمز و آبی در مسیر یکدیگر نیستند، پس نسبت به هم حق تقدمی ندارند



۱۲- در تصویر زیر حق تقدم وسایل نقلیه به ترتیب از راست به چپ کدام است؟



موتور - زرد

✓ زرد - موتور

زرد و موتور باهم

هیچکدام

دلیل: وقتی دو وسیله نقلیه وارد یک خیابان میشوند حق تقدم با وسیله ای است که در حال گردش به راست میباشد.

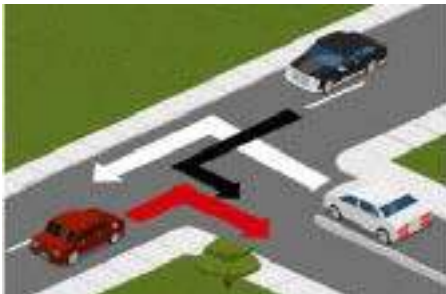
۱۳- در تصویر زیر حق تقدم وسایل نقلیه به ترتیب از راست به چپ کدام است؟



- ✓ مشکی
- سفید
- قرمز
- هیچکدام

دلیل: ابتدا با وسیله ای است که در میدان در حال گردش است.

۱۴- در تصویر زیر حق تقدم وسایل نقلیه به ترتیب از راست به چپ کدام است؟



- قرمز - سفید - مشکی
- سفید - قرمز - مشکی
- سفید - مشکی - قرمز
- ✓ قرمز - مشکی - سفید

دلیل: در سه راهی مسیر تلاقی کننده (در این تصویر همان خیابانی که خودرو سفید در آن است) خیابان فرعی محسوب میشود و باید آخر از همه در حق تقدم باشد.







در این قسمت قصد داریم مهم ترین و شبیه ترین تابلوهای راهنمایی و رانندگی که در کتاب جدید آیین نامه است و معمولاً هنرآموزان گواهینامه پایه ۳ در آزمون آیین نامه آن ها را باهم اشتباه میگیرند در کنارهم به شما آموزش دهیم تا در زمان امتحان آنها را باهم اشتباه نگیرید. توصیه میشود حتما بخش تابلوهای راهنمایی و رانندگی از کتاب را یک دور مرور کنید و سعی کنید همه ی تابلوها را به خاطر بسپارید.

۱- دو تابلو مشابه زیر را باهم اشتباه نگیرید !!!



برآمدگی



دست انداز

۲- دو تابلو مشابه زیر را با هم اشتباه نگیرید !!!



عبور عابر پیاده



عبور کودکان

۳- دو تابلو مشابه زیر را با هم اشتباه نگیرید !!!



عبور حیوان وحشی



عبور حیوان اهلی

۴- دو تابلو مشابه زیر را با هم اشتباه نگیرید !!!



عبور موتور گازی ممنوع



عبور موتور سیکلت ممنوع

۵- دو تابلو مشابه زیر را با هم اشتباه نگیرید !!!



راه لغزنده



شانه خطرناک

۶- دو تابلو مشابه زیر را با هم اشتباه نگیرید !!!



سبقت برای کامیون ممنوع



سبقت ممنوع

۷- دو تابلو مشابه زیر را با هم اشتباه نگیرید !!!



ورود از هر دو طرف ممنوع



ورود ممنوع

۸- دو تابلو مشابه زیر را باهم اشتباه نگیرید !!!



توقف در روزهای زوج ممنوع



توقف در روزهای فرد ممنوع

۹- دو تابلو مشابه زیر را باهم اشتباه نگیرید !!!



توقف ممنوع



ایستادن ممنوع

۱۰- دو تابلو مشابه زیر را باهم اشتباه نگیرید !!!



تقاطع راه آهن با راه بند



تقاطع راه آهن بدون راه بند

۱۱- دو تابلو مشابه زیر را باهم اشتباه نگیرید !!!



پارکینگ



پارک سوار

۱۲- دو تابلو مشابه زیر را با هم اشتباه نگیرید !!!



عبور گاری ممنوع



عبور چرخ دستی ممنوع

۱۳- دو تابلو مشابه زیر را با هم اشتباه نگیرید !!!



بیمارستان



پست امدادی

۱۴- دو تابلو مشابه زیر را با هم اشتباه نگیرید !!!



راه یک طرفه



خیابان یک طرفه

۱۵- دو تابلو مشابه زیر را با هم اشتباه نگیرید !!!



عبور عابر پیاده



گذرگاه عابر پیاده

۱۶- دو تابلو مشابه زیر را با هم اشتباه نگیرید !!!



پل متحرک



خطر سقوط در آب

۱۷- دو تابلو مشابه زیر را با هم اشتباه نگیرید !!!



فقط عبور اسب سوار مجاز است



سوار کاری ممنوع

۱۸- دو تابلو مشابه زیر را با هم اشتباه نگیرید !!!

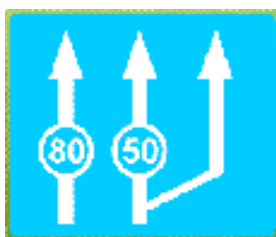


حق تقدم عبور با شما



حق تقدم عبور با وسیله نقلیه مقابل است

۱۹- دو تابلو مشابه زیر را با هم اشتباه نگیرید !!!



حداقل سرعت در خط های عبور



حداکثر سرعت در خط های عبور

۲۰- دو تابلو مشابه زیر را باهم اشتباه نگیرید !!!



عبور دوچرخه ممنوع



عبور دوچرخه سوار

۲۱- دو تابلو مشابه زیر را با هم اشتباه نگیرید !!!



عبور خودرو با یدک ممنوع



عبور کامیون یدک دار ممنوع

۲۲- دو تابلو مشابه زیر را با هم اشتباه نگیرید !!!



ریزش سنگ



پرتاب سنگ

۲۳- دو تابلو مشابه زیر را با هم اشتباه نگیرید !!!



پیچ های پی در پی (نخستین پیچ به چپ)



پیچ های پی در پی (نخستین پیچ به راست)

۲۴- رنگ سبز تابلوها و علائم راهنمایی و رانندگی برای کدام یک از موارد زیر است؟

راهنمای خدمات

علائم اخباری و راهنمای مسیر در آزاد راه ها

راهنما برای مناطق اداری آموزشی و خدماتی

راهنمای مسیر در بزرگراه ها و اماکن مذهبی ✓

۲۵- رنگ نارنجی تابلوها و علائم راهنمایی و رانندگی برای کدام یک از موارد زیر است؟

راهنما برای مناطق اداری و آموزشی و خدماتی

علائم اخباری و راهنمای مسیر در آزاد راه ها

راهنما برای مناطق اداری آموزشی و خدماتی ✓

راهنمای مسیر در بزرگراه ها و اماکن مذهبی

۲۶- رنگ آبی تابلوها و علائم راهنمایی و رانندگی برای کدام یک از موارد زیر است؟

هشدارهای عمومی

راهنمای خدمات ، علائم اخباری و راهنمای مسیر در آزاد راه ها ✓

راهنما برای مناطق اداری آموزشی و خدماتی

راهنمای مسیر در بزرگراه ها و اماکن مذهبی

۲۷- رنگ قهوه ای تابلوها و علائم راهنمایی و رانندگی برای کدام یک از موارد زیر است؟

راهنما برای مناطق تفریحی و فرهنگی و گردشگری ✓

علائم اخباری و راهنمای مسیر در آزاد راه ها

راهنما برای مناطق اداری آموزشی و خدماتی

راهنمای مسیر در بزرگراه ها و اماکن مذهبی



۲۸- رنگ سیاه و سفید تابلوها و علائم راهنمایی و رانندگی برای کدام یک از موارد زیر است؟

- علائم اخباری و راهنمای مسیر در آزاد راه ها
- راهنما برای مناطق اداری آموزشی و خدماتی
- راهنمای مسیر در بزرگراه ها و اماکن مذهبی
- ✓ علامت دستوری و راهنمای مسیر در راه ها

۲۹- شکل هشت گوشه برای کدام یک از موارد زیر است؟

- ✓ صرفا برای تابلوهای ایست
- برای تابلوهای راهنما و هشدار برای خطرات ناشی از تعمیر و نگه داری
- صرفا برای رعایت حق تقدم
- برای تابلوهای دستوری و خدمات

۳۰- شکل مستطیل افقی برای کدام یک از موارد زیر است؟

- صرفا برای تابلوهای ایست
- ✓ برای تابلوهای راهنما و هشدار برای خطرات ناشی از تعمیر و نگه داری
- صرفا برای رعایت حق تقدم
- برای تابلوهای دستوری و خدمات

۳۱- شکل مثلث متساوی الضلاع نشسته روی یک راس برای کدام یک از موارد زیر است؟

- صرفا برای تابلوهای ایست
- برای تابلوهای راهنما و هشدار برای خطرات ناشی از تعمیر و نگه داری
- ✓ صرفا برای رعایت حق تقدم
- برای تابلوهای دستوری و خدمات

۳۲- شکل مستطیل قائم برای کدام یک از موارد زیر است؟

- ✓ صرفاً برای تابلوهای ایست
- برای تابلوهای راهنما و هشدار برای خطرات ناشی از تعمیر و نگه داری
- صرفاً برای رعایت حق تقدم
- ✓ برای تابلوهای دستوری و خدمات



۳۳- شکل مستطیل پرچمی برای کدام یک از موارد زیر است؟

- ✓ برای علائم راهنما
- برای تابلوهای راهنما و هشدار برای خطرات ناشی از تعمیر و نگه داری
- شروع و پایان حق تقدم مسیر
- برای تابلوهای دستوری و خدمات



۳۴- شکل لوزی برای کدام یک از موارد زیر است؟

- برای علائم راهنما
- برای تابلوهای راهنما و هشدار برای خطرات ناشی از تعمیر و نگه داری
- ✓ شروع و پایان حق تقدم مسیر
- برای تابلوهای دستوری و خدمات





۱- آمادگی در رانندگی شامل چه مواردی می باشد؟

- خطای دیگران را پیش بینی کنیم
- آگاهی داشتن از وضعیت رانندگی دیگران
- مهارت در رانندگی
- مشاهده پیش بینی تمرکز آگاهی عدم حواس پرتی ✓

۲- حالت و وضعیت شما در رانندگی به چه عواملی بستگی دارد؟

- دانش رانندگی
- پایبندی به مقررات
- مهارت رانندگی
- تفکر و موقعیت دانش قبلی ادب نزاکت ✓

۳- بی توجهی به علائم و مقررات رانندگی نشانه چیست؟

- عدم آمادگی لازم است
- شتاب و عجله بیهوده است
- عدم توانایی و صلاحیت در رانندگی ✓
- عدم سواد کافی در رانندگی

۴- کدام یک از موارد زیر روش صحیح ترمز کردن می باشد؟

- به شدت ترمز کنید و پدال کلاچ را همزمان فشار دهید.
- ابتدا به آرامی ترمز کرده سپس پدال ترمز را بیشتر فشار دهید. ✓
- ابتدا سریعاً ترمز کرده و دنده را به صورت خلاص درآورید ترمز دستی را در مرحله قبل از توقف کامل بکشید.
- اندکی ترمز کرده پدال را فشار دهید ترمز دستی را درست قبل از توقف بکشید.

۵- چه زمانی می توانید از تلفن همراه در رانندگی استفاده نماییم؟

نیاز به انجام این تلفن اضطراری داشته باشیم.  
اگر وسیله نقلیه ما دارای دنده اتوماتیک باشد.  
در یک محل و مکان امن توقف کرده باشیم. ✓  
فرمان را با یک دست بگیریم و اتومبیل را هدایت کنیم.



۶- در هنگام شب رانندگی می کنیم و نور بالای چراغ اتومبیل های که از روبرو می آیند چشم های ما را خیره میکند چه کار باید انجام دهیم؟

باید به طور مستقیم نور چراغ رو به رو نگاه کنیم  
از نگاه کردن به سمت راست خودداری کنیم  
نور بالای اتومبیل را روشن کنیم و به وسیله نقلیه مقابل توجه نکنیم  
به طور مستقیم نور چراغ رو به رو نگاه نکنیم و سمت راست راه را نگاه کنیم از گوشه چشم به اتومبیل روبرو توجه کنیم. ✓



۷- اگر به هنگام رانندگی متوجه بوی بنزین شدید شدید چه اقدامی کنیم؟

مهم نیست و به رانندگی ادامه می دهیم  
باید سرعت خود را کمتر کنیم  
بوی ناشی از سوختن بنزین طبیعی است و اهمیتی ندارد  
توقف کرده و مسئله را بررسی می کنیم ✓



۸- در کدام موقعیت زیر ورزش شدید باد میتواند در مسیر ما تاثیر بگذارد؟

بعد از سبقت گرفتن از یک وسیله نقلیه بزرگ  
در مسیرهای باز بدون درخت و موانع طبیعی  
در بخش از شهرها که دارای ساختمان نبوده و در معرض باد قرار دارند  
همه موارد ✓

۹- چراغ قرمز راهنمایی به چه معناست؟

باید سریع سرعتمان را کم کنیم  
باید در پشت خط ایست توقف کنیم و منتظر باشیم ✓  
اگر می توانیم بیخطر ترمز کنیم ، توقف کنیم  
با احتیاط عبور کنیم

۱۰- اگر عینک خود را جهت رانندگی در دسترس نداشته باشیم کدام یک از موارد زیر صحیح می باشد؟

فقط در هنگام روز مجاز به رانندگی هستیم  
باید از مسیر های خلوت عبور کنیم  
باید از یکی از همراهان کمک بگیریم در رانندگی خود  
مجاز به رانندگی نیستیم ✓

۱۱- چرا باید در هنگام رانندگی توجه به جلو و اطراف داشته باشیم؟

تا بتوانیم تابلوها و علائم را ببینیم  
خطرات احتمالی را پیش بینی کنیم  
زمان بیشتری برای واکنش داشته باشیم  
موارد ۲ و ۳ ✓

۱۲- در صورت مواجه شدن با چراغ چشمک زن قرمز کدام یک از موارد زیر را باید انجام دهید؟

باید با احتیاط عبور کنیم  
فقط باید سرعت مان را کمتر کنیم  
به رفتن خود ادامه می دهیم  
ایست کرده و با رعایت حق تقدم عبور میکنیم ✓

۱۳- کدام گزینه به ترتیب اولویت صحیح میباشد؟

- فرمان پلیس - تابلوها - خط کشی - چراغ راهنما
- ✓ فرمان پلیس - چراغ راهنما - تابلوها - خط کشی
- تابلوها - چراغ راهنما - خط کشی - فرمان پلیس
- چراغ راهنما - فرمان پلیس - تابلوها - خط کشی

۱۴- هوای گرم بر کدام قست خودرو تاثیر می گذارد؟

- لنت ها
- ترمز ها
- ✓ باد لاستیک و دمای موتور
- صفحه کلاچ

۱۵- کدام یک از موارد زیر ناشی از تنظیم صندلی مناسب میباشد؟

- سهولت در تعویض دنده
- ایجاد میدان دید طبیعی
- تسلط کامل راننده به فرمان
- ✓ همه موارد

۱۶- در هنگام رانندگی باید کدام یک از موارد زیر را به همراه داشته باشیم؟

- برگه معاینه فنی معتبر و بیمه شخص ثالث
- کارت اتومبیل
- گواهینامه رانندگی
- ✓ همه موارد



۱۷- کدام یک از موارد زیر نقص فنی محسوب نمی شود؟

- ✓ کم بودن باد تایرها
- نداشتن چراغ های جلو و عقب
- نداشتن برف پاک کن
- گزینه دو و سه

۱۸- حواس پرتی در هنگام رانندگی عامل مهمی در کدام یک از موارد زیر است؟

- در توجه به ترافیک شهری
- در فرامین پلیس
- ✓ در تصمیم گیری به موقع
- همه موارد

۱۹- قانون اولیه اولیه رانندگی حرکت از سمت ... جاده مگر برای ... است .

- ✓ راست - سبقت
- راست - گردش
- راست - توقف
- چپ - سبقت

۲۰- کدامیک از موارد زیر از فواید رانندگی در روز می باشد؟

- میدان دید کافی
- استفاده از آینه های جانبی
- در اختیار داشتن فاصله های قابل رویت و مشاهده سایر رانندگان
- ✓ همه موارد

۲۱- در تصویر زیر کدامیک به معنای "رانندگان در حال عبور از پشت وی باید توقف کنند" میباشد؟



- ✓ تصویر شماره ۱
- تصویر شماره ۲
- تصویر شماره ۳
- تصویر شماره ۴

۲۲- در تصویر زیر کدامیک به معنای "در هر چهار طرف تقاطع باید وسیله نقلیه خود را پشت خط ایست متوقف کنند" میباشد؟



- تصویر شماره ۱
- ✓ تصویر شماره ۲
- تصویر شماره ۳
- تصویر شماره ۴

۲۳- در تصویر زیر کدامیک به معنای "کاستن سرعت" میباشد؟



- تصویر شماره ۱
- تصویر شماره ۲
- ✓ تصویر شماره ۳
- تصویر شماره ۴

۲۴- در تصویر زیر کدامیک به معنای "رانندگانی که در امتداد دست پلیس هستند باید بایستند" میباشد؟



- تصویر شماره ۱
- تصویر شماره ۲
- تصویر شماره ۳
- ✓ تصویر شماره ۴

۲۵- تصویر زیر به چه معناست؟



- ✓ راننده قصد گردش به راست را دارد
- راننده قصد گردش به چپ را دارد
- راننده قصد سبقت دارد
- راننده قصد توقف دارد

۲۶- تصویر زیر به چه معناست؟



- راننده قصد گردش به راست را دارد
- راننده قصد گردش به چپ را دارد
- راننده قصد سبقت دارد
- ✓ راننده قصد توقف دارد

۲۷- تصویر زیر به چه معناست؟



- راننده قصد گردش به راست را دارد
- ✓ راننده قصد گردش به چپ را دارد
- راننده قصد سبقت دارد
- راننده قصد توقف دارد

۲۸- علت اصلی تصادف با اتومبیل جلویی چیست؟

- ✓ عدم رعایت فاصله طولی با ماشین جلویی
- سرعت بیش از حد مجاز
- حواس پرتی
- ناسالم بودن ترمزها

۲۹- چه عاملی میزان خطر ناشی از آسیب دیدگی گردن را در هنگام تصادف کاهش میدهد؟

- ✓ وجود پشته مناسب در پشت سر
- بستن کمر بند
- صندلی مناسب و استاندارد
- نشستن صحیح و استاندارد در پشت فرمان

۳۰- ساییدگی نامتوازن یا بیش از حد لاستیک ها ناشی از کدام مورد زیر است؟

- میزان نبودن باد چرخ ها
- تنظیم نبودن فرمان
- تنظیم نبودن چرخ ها و ترمزها
- ✓ گزینه دو و سه

۳۱- تاثیر استفاده از مواد مخدر و مشروبات الکلی در رانندگی چیست؟

- اعتماد به نفس را به طور کاذبی افزایش میدهد
- تشخیص سرعت را مختل میکند
- قدرت واکنش را کم کرده و هماهنگی را کاهش میدهد
- ✓ همه موارد

۳۲- گواهینامه رانندگی را بنا به درخواست چه کسی باید ارائه کنیم؟

- ✓ پلیس ترافیک
- پلیس مدرسه
- مامور ترافیک
- بازرس اتومبیل

۳۳- مهم ترین عامل تصادف رانندگی چیست؟

- ترافیک سنگین
- ✓ اشتباهات رانندگی
- نقص فنی
- سرعت غیرمجاز



۳۴- مهم ترین عضو بدن در رانندگی چیست؟

- قلب
- ✓ چشم
- پا
- دست



۳۵- چرا رانندگی در شب مشکل تر است؟

- محدود بودن میدان دید
- عدم تشخیص فاصله و سرعت وسایل نقلیه
- عدم تشخیص به موقع عابر پیاده
- ✓ همه موارد





۱- بر روی یک راه لغزنده قسمت عقب اتومبیل ما به سمت راست می لرزد چه کار باید انجام دهیم؟

- باید بلافاصله ترمز کنیم و فرمان را بچرخانیم
- باید ترمز دستی را بکشیم
- باید فرمان را به سمت راست بچرخانیم ✓
- باید کلاچ و ترمز را همزمان فشار دهیم

۲- در شرایطی یخبندان مسافت توقف ممکن است تا چند برابر افزایش یابد؟

- ۱۰ برابر ✓
- ۵ برابر
- ۲ برابر
- ۲۰ برابر

۳- در شرایط یخبندان چگونه می توانیم از لغزش چرخ های اتومبیل جلوگیری کنیم؟

- از ترمز بیشتر استفاده کنیم
- با دنده یک حرکت کنیم
- اگر چرخ هاشروع به لغزندگی کرد از ترمز دستی استفاده کنیم
- در تمام مواقع با دنده سنگین حرکت کنیم ✓

۴- حرکت با دنده خلاص باعث کدام یک از موارد زیر می شود؟

- پیچیدن به طرفین و چرخاندن فرمان آسانتر میشود
- پیچیدن به طرفین و چرخاندن فرمان سختتر میشود
- کنترل راننده به حرکت اتومبیل بیشتر میشود
- کنترل راننده به حرکت اتومبیل کمتر می شود ✓



۵- در مواقع باد شدید باید کدام یک از موارد زیر را بیش از حد مراقب باشیم؟

- به هنگام استفاده از ترمز ها
- به هنگام عبور از کنار دوچرخه ها
- به هنگام عبور از کنار موتور سواران
- گزینه دو و سه ✓



۶- بر روی یک جاده خیس ترمز می کنیم وسیله نقلیه ما شروع به لرزش می کند اولین کاری که باید انجام دهیم، چیست؟

- ترمز دستی را بکشیم
- پدال ترمز را بیشتر فشار دهیم
- فرمان را آزاد کنیم
- ترمز را آزاد کنیم ✓



۷- این موضوع که در هوای بسیار گرم سطح جاده نرم می باشد کدام یک از موارد زیر از این موضوع تأثیر پذیر می باشد؟

- سیستم جلوبندی اتومبیل
- هدایت و گردش اتومبیل
- ترمز
- گزینه دو و سه ✓



۸- در هوای مه آلود در حال رانندگی هستیم اتومبیل پشت سر ما بیش از حد به ما نزدیک می شود چه اقدامی باید انجام دهیم؟

- چراغ های هشدار دهنده خطر این موضوع را به وی هشدار دهیم
- باید در یک مکان امن توقف کنیم تا از ما عبور کند
- با احتیاط به حرکت خود ادامه می دهیم ✓
- سرعت گرفته و کمی از او دور می شویم

۹- کدامیک از موارد زیر در شرایط جوی با میدان دید محدود درست است؟

- با فاصله کمی از اتومبیل جلویی حرکت کنیم
- چراهای نور بالا را روشن کنیم
- نزدیک به کنار جاده حرکت کنیم
- ✓ چراغ های نور پایین را روشن کنیم

۱۰- در صورتی که چراغ ترمز خراب باشد و کار نکند در چه صورت مجاز به رانندگی هستیم؟

- در طول روز که روشنایی کافی است
- در شرایط اضطراری
- ✓ هیچ وقت مجاز به رانندگی نیستیم
- در روز و در شب در صورتی که روشنایی کافی باشد

۱۱- زمانی باید از چراغ های خطر هشدار دهنده استفاده کنیم؟

- زمانی که سرعتمان را می خواهیم کم کنیم
- زمانی که قصد توقف کامل را داریم
- زمانی که قصد گردش داریم به چپ را داریم
- ✓ زمان که اتومبیل ما دچار نقص فنی شده باشد

۱۲- در سربالایی با جدول هنگام پارک کردن باید فرمان را به کدام سمت چرخاند؟

- باید فرمان را به سمت راست چرخاند
- ✓ باید فرمان را به سمت چپ بچرخانیم
- باید فرمان را

۱۳- در سربالایی بدون جدول هنگام پارک کردن باید فرمان را به کدام سمت چرخاند؟

- ✓ باید فرمان را به سمت راست چرخاند
- باید فرمان را به سمت چپ بچرخانیم
- باید فرمان را مستقیم نگه داشت
- هیچ کدام

۱۴- در سرپایینی با جدول هنگام پارک کردن باید فرمان را به کدام سمت چرخاند؟

- ✓ باید فرمان را به سمت راست چرخاند
- باید فرمان را به سمت چپ بچرخانیم
- باید فرمان را مستقیم نگه داشت
- هیچ کدام

۱۵- حداکثر سرعت در جاده های اصلی برون شهری در روز ... کیلومتر در ساعت و در شب ... کیلومتر در ساعت میباشد.

- ✓ ۸۵ - ۹۵
- ۸۰ - ۹۰
- ۷۵ - ۸۵
- ۷۰ - ۸۰

۱۶- حداکثر سرعت در بزرگراه برون شهری برای سواری ... کیلومتر در ساعت و برای اتوبوس ... کیلومتر در ساعت میباشد.

- ۱۱۰ - ۱۲۰
- ✓ ۱۰۰ - ۱۱۰
- ۹۰ - ۱۰۰
- ۱۱۰ - ۱۱۰

۱۷- حداکثر سرعت در جاده های فرعی برون شهری در روز... کیلومتر در ساعت و در شب ... کیلومتر در ساعت میباشد.

۸۵ - ۹۰

۸۵ - ۹۵

✓ ۷۵ - ۸۵

۷۰ - ۸۰



۱۸- حداقل سرعت در آزاد راه های برون شهری ... کیلومتر در ساعت و حداکثر سرعت برای سواری ها ... و برای کامیون ها و اتوبوس ها ... کیلومتر در ساعت میباشد .

۱۰۰ - ۱۱۰ - ۷۰

۱۱۰ - ۱۲۰ - ۷۵

✓ ۱۱۰ - ۱۲۰ - ۷۰

۱۰۰ - ۱۲۰ - ۷۰



۱۹- حداکثر سرعت در شریانی اصلی ... کیلومتر در ساعت و در شریانی فرعی ... کیلومتر در ساعت میباشد .

۶۰ - ۷۰

۶۵ - ۷۵

۵۵ - ۶۵

✓ ۵۰ - ۶۰



۲۰- حداکثر سرعت در معابر محلیدرن شهری ... کیلومتر در ساعت میباشد .

۱۰

۲۰

✓ ۳۰

۴۰

۲۱- انواع خط کشی های خیابان کدامیک میباشند؟

طولی - ممتد

عرضی - ممتد

مقطع - ممتد

✓ طولی - عرضی

۲۲- کدامیک از انواع دور زدن زیر مخصوص خیابان های کم عرض است؟

دور یک فرمانه

✓ دور دو فرمانه

در خیابان های کم عرض دور زدن مطرح نیست

همه موارد

۲۳- کدامیک از موارد زیر در رابطه با نحوه گرفتن صحیح فرمان اتومبیل درست است؟

میبایست با دست چپ فرمان و با دست راست دنده را بگیریم

میبایست با یک دست خارج و با یک دست داخل فرمان را بگیریم

✓ میبایست با هر دو دست و از خارج فرمان را بگیریم

میبایست با هر دو دست و از داخل فرمان را بگیریم

۲۴- کدامیک از موارد زیر ترتیب اقدامات برای روشن کردن اتومبیل را درست نشان میدهد؟

✓ گرفتن پدال کلاچ - خلاص کردن دنده - چرخاندن سویچ

خلاص کردن دنده - گرفتن پدال کلاچ - چرخاندن سویچ

چرخاندن سویچ - گرفتن پدال کلاچ - خلاص کردن دنده

گرفتن پدال کلاچ - چرخاندن سویچ - خلاص کردن دنده

۲۵- کدامیک از موارد زیر ترتیب اقدامات برای حرکت اتومبیل را درست نشان میدهد؟

- ✓ بستن کمربند ایمنی - قرار دادن دسته دنده در وضعیت دنده یک - ترمز دستی را خلاص کنیم  
 بستن کمربند ایمنی - ترمز دستی را خلاص کنیم - قرار دادن دسته دنده در وضعیت دنده یک  
 ترمز دستی را خلاص کنیم - بستن کمربند ایمنی - قرار دادن دسته دنده در وضعیت دنده یک  
 قرار دادن دسته دنده در وضعیت دنده یک - بستن کمربند ایمنی - ترمز دستی را خلاص کنیم

۲۶- کم بودن باد لاستیک ها بر کدام قسمت خودرو تاثیر میگذارد؟

- جعبه دنده  
 لنت ها  
 ✓ ترمز کردن و هدایت  
 همه موارد

۲۷- هنگام خروج از پارک باید راهنمای کدام سمت را زد؟

- راست  
 باید جفت راهنما زد  
 ✓ چپ  
 هیچکدام

۲۸- کدامیک از موارد زیر ناشی از نگه داشتن کلاچ میباشد؟

- اتومبیل سرعت میگیرد  
 هدایت اتومبیل سخت تر میشود و کنترل کم تر میشود  
 ✓ گزینه یک و دو  
 هیچکدام

۲۹- در آزادراه ها میخ های زرد رنگ چشم گربه ای در چه محلی دیده میشود؟

- در هر دو باند
- در باند کاهش سرعت
- در باند افزایش سرعت
- در محل خالی وسط آزاد راه و باند اصلی ✓

۳۰- عقب رفتن وسایل نقلیه در آزاد راه ها و بزرگراه ها چه حکمی دارد؟

- در شرایط اضطراری در بزرگراه ها مانعی ندارد ولی در آزادراه ها ممنوع
- در شرایط اضطراری در بزرگراه ها و آزاد راه ها مانعی ندارد
- ممنوع است ✓
- مجاز است

۳۱- در کدامیک از موارد زیر نباید دنده عقب برویم؟

- دنده عقب به داخل یک خیابان فرعی
- برای مسافت های طولانی ✓
- در مناطق مسکونی
- در مناطق روستایی

۳۲- چرا موتور سواران نسبت به رانندگان دیگر آسیب پذیر تر هستند؟

- تغییرات سطح راه بر روی آنها تاثیر بیشتری دارد
- محافظی اطراف خود ندارند
- از ایمنی پایین تری برخوردار هستند
- گزینه ۱ و ۲ ✓



۳۳- میخ های زرد رنگ در وسط جاده به چه معناست؟

- خطوط هاشور
- خطوط مقطع
- خطوط زیگزاگ
- ✓ خطوط ممتد

۳۴- دسترسی در آزاد راه ها چگونه است؟

- ✓ از طریق پل های هوایی و زیر گذرها
- از طریق تقاطع هم سطح
- از طریق اولین خروجی
- از طریق بریدگی ها



۱- در کدام محل دور زدن ممنوع است؟

- در سربالایی ها
- در ۱۵۰ متری تونل ها
- در ۱۵۰ متری تقاطع ها
- همه موارد ✓



۲- با سرعت مجاز در حال حرکت هستیم اتومبیلی به سرعت از پشت به ما نزدیک می شود و با دادن چراغ از ما راه می خواهد چه کار باید انجام دهیم؟

- سرعت را حفظ کنیم و مانع از سبقت وسیله مذکور شویم
- سرعت خود را کم کنید و بایستیم
- اجازه می دهیم اتومبیل از ما سبقت بگیرد ✓
- هیچ کدام



۳- اگر اتومبیلی ناگهان از فرعی بیرون بیاید و جلوی ما ظاهر شود چه کار باید انجام دهیم؟

- باید با شتاب از کنار آن عبور کنیم
- باید بوق ممتد بزنیم
- باید چراغ داده و با سرعت از کنار او عبور کنیم
- باید از سرعت خود کاسته و توقف کنیم ✓



۴- در یک خیابان یک طرفه در حال رانندگی هستیم و قصد داریم به راست بپیچیم کدام یک از موارد زیر صحیح است؟

- باید در باند سمت چپ قرار بگیریم
- مهم نیست در چه باندی قرار بگیریم
- باید در باند سمت راست قرار بگیریم ✓
- باید با سرعت خودمان را به باند سمت چپ برسانیم

۵- چرا سبقت گرفتن از کامیون طویل خطرناک تر از سبقت گرفتن از یک اتومبیل معمولی است؟

- کامیون ها سرعت کمتری دارند
- میدان دید خوبی کامیون ها نسبت به سواریه‌ها ندارند
- کامیون ها نسبت به اتومبیل ها کشیده تر هستند و برای سبقت گرفتن از آنها به مسافت بیشتری نیاز است ✓
- ممکن است کامیونها ناگهان از مسیر خود منحرف شود

۶- چرا باید قبل از اقدام به سبقت گرفتن از یک کامیون طویل فاصله را با آن حفظ کنیم؟

- زیرا در نقطه کور آن قرار نگیریم
- زیرا بتوانیم از موقعیت جلوی کامیون اطلاع داشته باشیم
- زیرا سرعت کامیون ها کم است
- گزینه یک و دو ✓

۷- در یک جاده ای مرطوب با سرعت ۶۰ کیلومتر در ساعت در حال رانندگی هستیم فاصله مناسب ما با اتومبیل جلویی باید چند طول اتومبیل باشد؟

- ۲ طول اتومبیل
- ۴ طول اتومبیل
- ۸ طول اتومبیل ✓
- ۱۰ طول اتومبیل

۸- در یک جاده ی برفی با سرعت ۳۰ کیلومتر در ساعت در حال رانندگی هستیم فاصله مناسب ما با اتومبیل جلویی باید چند طول اتومبیل باشد؟

- ۳ طول اتومبیل
- ۶ طول اتومبیل ✓
- ۹ طول اتومبیل
- ۱۲ طول اتومبیل

۹- کدامیک از موارد زیر در رابطه با وسایل نقلیه امدادی و انتظامی صحیح نمی باشد؟

- توقف در محل ممنوعه مجاز است
- تجاوز از سرعت مجاز ، مجاز است
- عبور از طرف چپ راه مجاز است
- ورود ممنوع و عبور ممنوع مجاز است ✓

۱۰- چگونه می توانیم مطمئن شویم که فاصله مناسب را با اتومبیل جلویی حفظ کرده ایم؟

- باید فاصله ۱ ثانیه ای را با اتومبیل جلویی داشته باشیم
- باید فاصله ۲ ثانیه ای را با اتومبیل جلویی داشته باشیم ✓
- باید فاصله ۳ ثانیه ای را با اتومبیل جلویی داشته باشیم
- باید فاصله ۴ ثانیه ای را با اتومبیل جلویی داشته باشیم

۱۱- مثلث خطر باید از چه فاصله ای قابل دیدن باشد؟

- ۷۰ متری
- ۷۵ متری
- ۱۵۰ متری ✓
- ۱۵۵ متری

۱۲- اگر در جاده هستیم باید مثلث خطر را در فاصله ... متری بگذاریم و اگر در بزرگراه هستیم باید مثلث خطر را در فاصله ... متری بگذاریم .

- ۷۵ - ۱۵۵
- ۷۰ - ۱۵۰ ✓
- ۷۰ - ۱۵۰
- ۷۵ - ۱۵۵

۱۳- در صورت ترکیدن لاستیک جلوی اتومبیل باید چه کار کنیم؟

- ✓ فرمان را محکم بگیریم و به آرامی توقف کنیم
- فرمان را رها کنیم
- ترمز دستی را بکشیم
- ترمز را رها کنیم

۱۴- چه زمانی میتوانیم از نور بالا استفاده نماییم؟

- ✓ هنگامی که تا بیش از ۱۵۰ متری ماشینی نباشد
- هنگامی که تا بیش از ۷۰ متری ماشینی نباشد
- هنگامی که تا بیش از ۱۵۵ متری ماشینی نباشد
- هنگامی که تا بیش از ۷۵ متری ماشینی نباشد

۱۵- در صورت زرد شدن چراغ راهنمایی در وسط تقاطع چه کار باید انجام دهیم؟

- ✓ به راه خود ادامه دهیم و تقاطع را تخلیه کنیم
- با احتیاط و رعایت حق تقدم توقف کنیم
- در همان جا متوقف شویم
- با دنده عقب پشت خط عابر توقف کنیم

۱۶- علامت دادن با چراغ بزرگ به چه منظور میباشد؟

- ✓ جهت اعلام حضور به دیگران
- جهت سلام کردن به دیگران
- جهت هشدار به دیگران
- همه موارد

۱۷- در خیابان یک طرفه باید در کدام سمت پارک کرد؟

- ☒ در سمت چپ
- ☐ در سمت راست
- ☐ در هر دو سمت میتوان پارک کرد
- ☐ در خیابان های یک طرفه نمیتوان پارک کرد

۱۸- در چند متری تقاطع ها نباید پارک کرد؟

- ☒ ۱۰ متری
- ☒ ۱۵ متری
- ☐ ۲۰ متری
- ☐ ۲۵ متری

۱۹- در صورت کشیدن یدک یا باری که از ماشین بیرون زده است چگونه باید رانندگان دیگر را متوجه این موضوع کرد؟

- ☐ با استفاده از پرچم قرمز رنگ انتهای یدک
- ☐ با استفاده از پرچم زرد رنگ انتهای یدک
- ☐ با استفاده از پرچم آبی رنگ انتهای یدک
- ☒ با استفاده از پرچم سفید رنگ به ابعاد ۵۰ سانتی متر مربع

۲۰- هنگام رانندگی از چه فاصله ای باید قادر باشیم پلاک ماشین جلویی را بخوانیم؟

- ☐ ۱۵ متری
- ☒ ۲۰ متری
- ☐ ۲۵ متری
- ☐ ۳۰ متری

۲۱- متداولترین نوع پارک کدام است؟

- ✓ پارک دوبل
- پارک معمولی
- پارک در پارکینگ
- پارک در پیاده رو

۲۲- خطوط هاشور به چه معنا می باشد؟

- قبل از خط عابر پیاده است و به معنای عبور ممنوع است
- قبل از خط عابر پیاده است و به معنای ایستادن ممنوع است
- ✓ به معنای وجود موانع در راه است
- به معنای پارکینگ اتومبیل است

۲۳- خطوط زیگزاگ به چه معناست؟

- وجود موانع در راه
- قبل از خط عابر پیاده است و به معنای عبور کردن ممنوع است
- ✓ قبل از خط عابر پیاده است به معنای عبور کردن و ایستادن ممنوع است
- قبل از خط عابر پیاده است به معنای ایستادن ممنوع است

۲۴- رنگ تابلوها در آزاد راهها ... و در بزرگراه ها ... می باشد .

- سبز - آبی
- ✓ آبی - سبز
- آبی - زرد
- زرد - آبی



۲۵- خط ایست جز کدامیک از انواع خطوط زیر است؟

- هاشور
- زیگزاگ
- ☒ عرضی
- طولی

۲۶- حداقل از چه فاصله ای در بزرگراه ها باید راهنما زد؟

- ۲۵ متری
- ۵۰ متری
- ۷۰ متری
- ☒ ۱۰۰ متری

۲۷- در چه فاصله ای قبل و بعد از پیچ ها سبقت گرفتن ممنوع است؟

- ۲۵ متری
- ۱۵۰ متری
- ☒ ۵۰ متری
- ۱۰۰ متری

۲۸- در کدام یک از وضعیت های زیر باید فاصله دو ثانیه ای با اتومبیل جلویی داشته باشیم؟

- ☒ هوا خوب و خشک باشد
- هوا مرطوب باشد
- هوا مه آلود باشد
- هوا برفی باشد

۲۹- در چه فاصله ای از ورودی یا خروجی مراکز آتش نشانی ، پلیس و بیمارستان ها توقف ممنوع است؟

- ✓ ۱۵ متری
- ۲۰ متری
- ۲۵ متری
- ۲۵ متری



# جزوه آموزش آیین نامه راهنمایی رانندگی

## جلسه اول

جلسه اول

آشنایی با خودرو:

- ۱- باید فرمان را از خارج با هر دو دست و نیمه ی بالای فرمان گرفت
- ۲- پدال ها : گاز ، ترمز ، کلاچ (فقط اتومبیل)
- ۳- دنده : دنده ای ، اتوماتیک
- ۴- آئینه : داخلی ، کناری

روش صحیح ترمز کردن:

- الف- پاشنه پا را کف وسیله نقلیه قرار دهید و با پنجه پا یا سینه پا ترمز بگیریم .
- ب- به تدریج ترمز بگیرید و از ترمز ناگهانی پرهیز کنید

مراحل شروع حرکت :

- ۱- تنظیم صندلی
- ۲- روشن کردن
- ۳- حرکت کردن

تنظیم صندلی باید به گونه ای باشد که:

- ۱- تسلط به فرمان داشته باشیم
- ۲- احساس راحتی و تسلط بر اتومبیل داشته باشیم
- ۳- بتوانیم به راحتی دنده عوض کنیم
- ۴- میدان دید طبیعی ما را فراهم کند

## جلسه اول

### ترتیب اقدامات برای روشن کردن اتومبیل:

- ۱- ابتدا پدال کلاچ را با پای چپ تا آخر نگه دارید
- ۲- دسته دنده را در وضعیت خلاص قرار دهید
- ۳- سویچ را در جهت موافق عقربه های ساعت بچرخانید و استارت بزنید
- ۴- همزمان با استارت زدن پدال گاز را فشار دهید تا ماشین روشن شود
- ۵- بلافاصله پس از روشن شدن سویچ را رها کنید
- ۶- آمپر و نشان دهنده های وضعیت موتور (آب ، روغن ، بنزین و ...) کنترل کنید

### ترتیب اقدامات برای حرکت کردن:

- ۱- ابتدا کمربند ایمنی را ببندید و مطمئن شوید بقیه سرنشینان نیز کمربند را بسته اند
- ۲- ترمز پایی را چند بار فشار داده تا از سلامت ترمز مطمئن شوید
- ۳- همزمان با نگه داشتن ترمز با پای راست ، با پای چپ پدال کلاچ را تا انتها نگه دارید
- ۴- دسته دنده را در وضعیت دنده یک قرار دهید
- ۵- ترمز دستی را خلاص کنید
- ۶- از طریق آینه ها مسیر را کنترل کنید
- ۷- ترمز را رها کرده و به آرامی پدال گاز را فشار دهید و همزمان به تدریج پدال کلاچ را رها کنید و با رعایت حق تقدم وسایل نقلیه در حال حرکت شروع به حرکت کنید

### انواع تابلوها:

- ۱- تابلوهای بازدارنده انتظامی: دایره ای شکل با نوار حاشیه قرمز رنگ که درون آن ممنوعیت را نشان میدهد
- ۲- هشدار دهنده خطاری: نوع خطر را نشان میدهد
- ۳- آگاهی دهنده یا اخباری: به رنگ ها و شکل های مختلف اند که یا دستوری میباشد یا آگاهی دهنده غیر دستوری

### - شباهت تابلو ایست و حق تقدم :

هر دو در خیابان های فرعی نصب میشوند .

### - تفاوت تابلو ایست و توقف ممنوع :

در کنار تابلوی توقف ممنوع میشود برای چند لحظه توقف نمود ( سوار و پیاده کردن سرنشینان ) به شرطی که وسیله نقلیه روشن و راننده پشت فرمان باشد اما در کنار تابلوی ایستادن ممنوع به هیچ وجه نمیتوان توقف نمود ( حتی برای یک لحظه )

## جلسه اول

– وقتی که در یک راه در حال رانندگی هستید، همیشه بین خطوط برانید و وقتی که قصد تغییر خط عبور دارید با رعایت سه نکته تغییر مسیر دهید :

۱- احتیاط

۲- رعایت حق تقدم اتومبیل هایی که به مسیر آنها میروید

۳- راهنما زدن

### انواع خط کشی ها:

#### طولی:

ممتد : در حاشیه راه برای تفکیک راه از شانه .سبقت، گردش و دورزدن ممنوع است

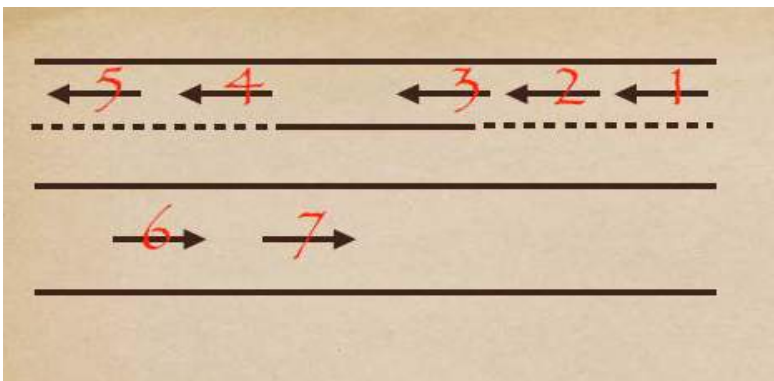
مقطع : برای تفکیک راه ها . سبقت ، گردش و دور زدن مجاز است

دوبله : برای تاکید بیشتر ممنوعیت

#### عرضی:

خط مخصوص عابر پیاده

خط ممتد ایست : قبل از آن بایستید



۱ میتواند از ۲ سبقت بگیرد

۴ میتواند از ۵ سبقت بگیرد

### – خطوط هاشور :

به معنای وجود مانع در راه است .

### – خطوط زیگزاگ :

قبل از خط عابر پیاده است و به معنای عبور کردن و ایستادن ممنوع است .

# جزوه آموزش آیین نامه راهنمایی رانندگی

## جلسه دوم

[www.test-drive.ir](http://www.test-drive.ir)

جلسه دوم

چراغ راهنمایی:

ثابت:

- قرمز : به معنای ایست و با دیدن آن باید پشت خط ممتد بایستید .
- زرد : به معنای احتیاط و دو موقع با این چراغ برخورد میکنیم
- ۱- هنوز به تقاطع نرسیده ایم : در این حالت مانند چراغ قرمز عمل میکنیم
- ۲- در وسط تقاطع هستیم : در این حالت با احتیاط به راه ادامه میدهیم
- سبز : عبور و گردش آزاد مگر اینکه گردش با علامتی دیگر ممنوع شده باشد .

چراغ راهنمایی:

چشمک زن:

- قرمز : روبروی خیابان فرعی - ایست کامل با دیدن آن با احتیاط و رعایت حق تقدم به راه ادامه می دهیم
- زرد : روبروی خیابان اصلی - سرعت را کم میکنیم با احتیاط و رعایت حق تقدم به راه ادامه میدهیم

علائم دست پلیس:

- بالا بردن درست راست به صورت قائم (کف دست به سمت صورت)
- در هر چهار طرف تقاطع باید وسیله نقلیه خود را پشت خط ایست متوقف کنند.
- بالا بردن دست راست (کف دست به سمت روبرو)
- ماشین های روبرو باید پشت خط ایست متوقف شوند .
- باز کردن دست راست به موازات شانه
- رانندگان در حال عبور از پشت وی توقف کنند

- بلند کردن دست ها به دو طرف و به صورت افقی
- رانندگانی که در امتداد دست های پلیس هستند باید بایستند
- بلند کردن دست ها به صورت افقی و سپس پایین آوردن آن
- برای رانندگانی که جلو و عقب پلیس قرار دارند باید بایستند
- دست خود را به موازات شانه بالا و پایین میبرد
- به معنای کاستن سرعت است
- دست به سمت روبرو فقط به سمت یک خودرو باشد
- دست به سمت مقابل و روبروی یک ماشین ، همان ماشین مورد نظر باید بایستد .



جلسه دوم

۵- علامت دست راننده:

برای گردش به چپ:

دست چپ را از اتومبیل بیرون می آوریم افقی نگه میداریم و سپس چراغ راهنمای سمت چپ را روشن میکنیم .

برای گردش به راست:

دست چپ را از اتومبیل بیرون می آوریم و از آرنج به طرف بالا خم میکنیم و به صورت عمودی نگه میداریم و چراغ راهنمای سمت راست را روشن میکنیم .

برای کاستن سرعت و ایست:

دست چپ را به صورت عمودی پایین نگه می داریم و از فلشر استفاده میکنیم .

– حق تقدم در عبور و مرور:

تعریف: عبارتست از اولویت حق تقدم عبور یک وسیله نقلیه نسبت به سایر وسایل نقلیه یا عابر پیاده و بالعکس .

در گجا: برای ماشین هایی که امکان برخوردشان وجود دارد .

– ترتیب اولویت علائم و مقررات:

۱) فرمان پلیس (مقدم بر بقیه فرامین)

۲) چراغ راهنما

۳) تابلوها

۴) خط کشی ها

– راه اصلی در برخورد با راه فرعی با تابلو ایست مشخص میشود .

– راه اصلی دارای عرض بیشتری است و راه فرعی دارای تابلو ایست میباشد .

– اولویت در حق تقدم:

۱- امدادی و انتظامی:

۱- پلیس

۲- اورژانس

۳- آتش نشانی

در صورتی که در حال ماموریت باشند حق تقدم ابتدا با این وسایل میباشد.

۲- وسائل نقلیه ای که از خیابان فرعی می آید:

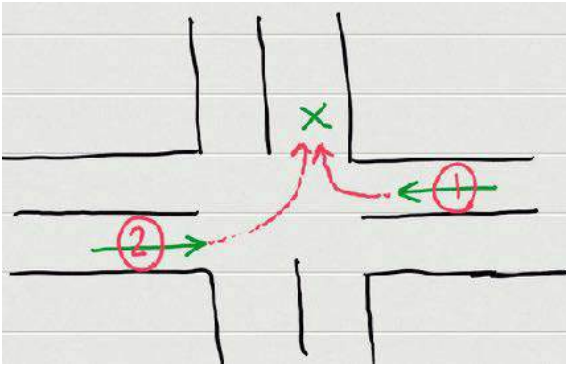
باید بگذاریم آخر .

جلسه دوم

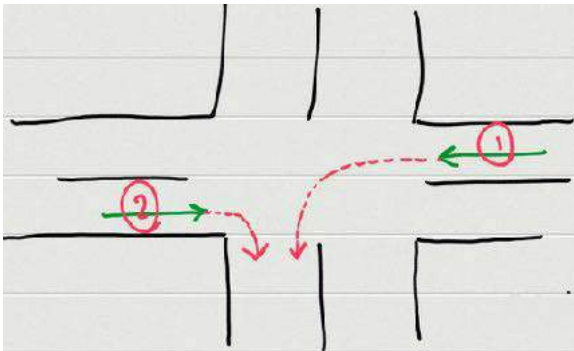
سوال :

در شکل های زیر حق تقدم را مشخص کنید؟

جواب : ۱

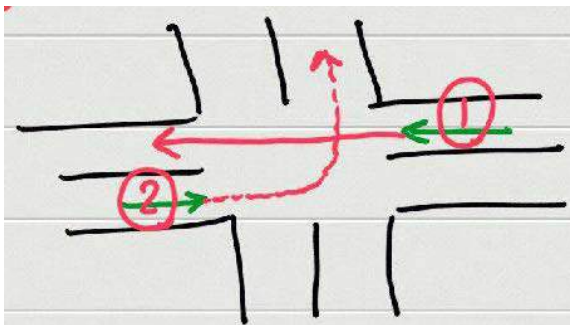


جواب : ۲

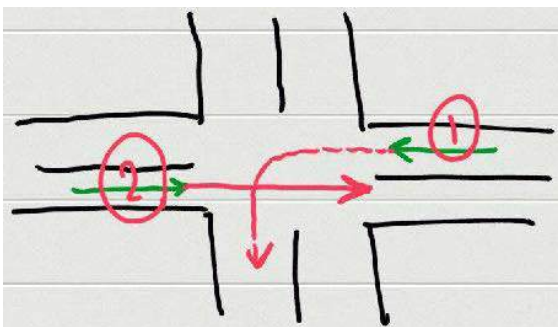


نکته: هنگامی که دو وسیله روبروی یکدیگر قرار دارند ابتدا با وسیله ای است که در حال گردش به راست است (زمانی که هر دو وارد یک خیابان میشوند. مثال:

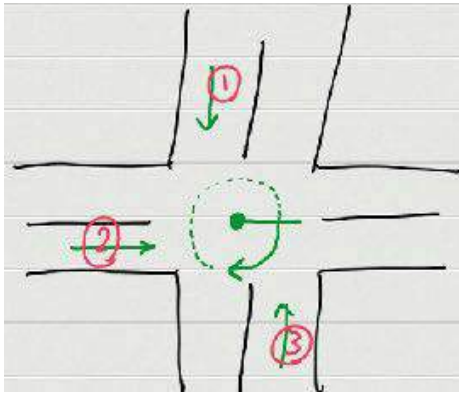
جواب : ۱



جواب : ۲



جلسه دوم



– حق تقدم همیشه با وسیله ای است که به صورت مستقیم در حال حرکت است .

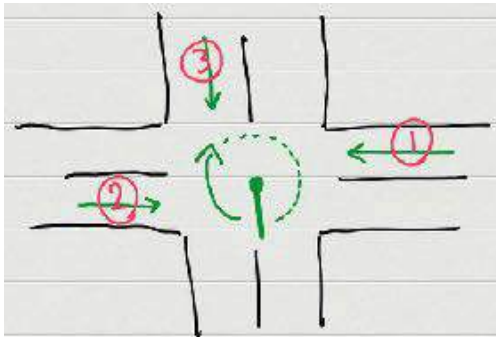
– در تقاطع های هم عرض و بدون تابلو به این صورت عمل میکنیم :

عقربه ساعت را میگذاریم جایی که ماشین نیست سپس به ترتیب جهت عقربه های ساعت اولویت های حق تقدم را نشان میدهد .

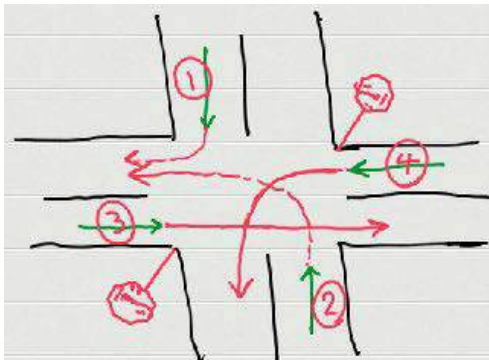
مثال:

جواب: ۱-۲-۳

به ترتیب



جواب: ۱-۳-۲



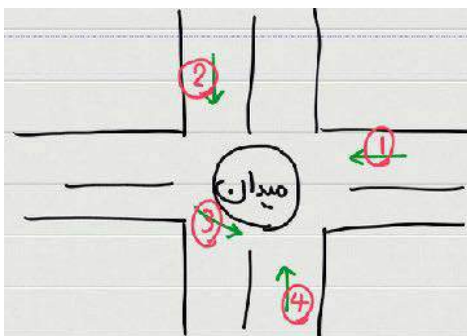
– زمانی که راه دارای تابلو است آن راه فرعی است و اتومبیل های آن باید بایستند

تا اول اتوبیل های راه اصلی بروند ( ماشین های راه فرعی را میگذاریم آخر )

مثال:

جواب: ۱-۲-۳-۴

به ترتیب



– در میدان حق تقدم با وسیله ای است که درون میدان در حال گردش است .

مثال:

جواب: ۳

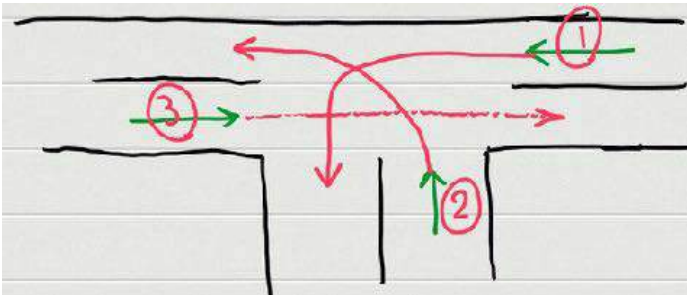
جلسه دوم

– در سه راه حتی اگر راه تلاقی کننده عرضی بیشتر باشد هم راه فرعی محسوب می شود. حق تقدم با وسیله ای است که در مسیر مستقیم و مجاز در حال حرکت است.

مثال:

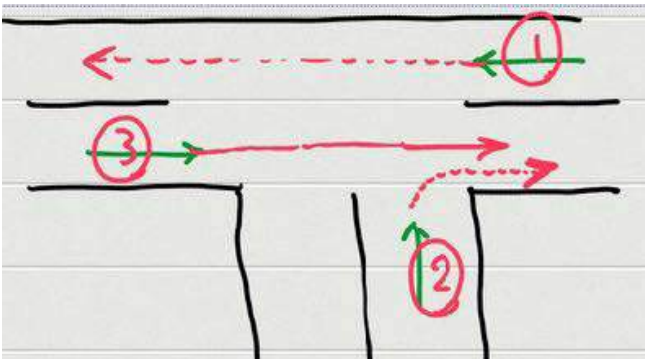
جواب: ۳ – ۱ – ۲

به ترتیب



مثال:

جواب: ۱ و ۳ با هم بعد از آن ۲



مثال:

– وقتی قسمتی از راه مسدود باشد حق تقدم با وسیله ای است که سهم بیشتری از راه را دارد.

جواب: ۲

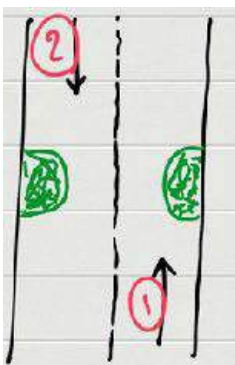


– وقتی دو طرف راه را به یک اندازه مسدود باشد و یک سمت راه سربالایی باشد و یک سمت راه سرازیری،

حق تقدم با اتومبیلی است که در سربالایی در حال حرکت است.

مثال: (اتومبیل ۲ در سرازیری و اتومبیل ۱ در سربالایی قرار دارد)

جواب: ۱



– وقتی هر دو سمت راه به یک اندازه مسدود باشد و امکان عبور هر دو وسیله نقلیه نباشد یک سمت

راه پرتگاه باشد و سمت دیگر کوه، حق تقدم با وسیله نقلیه ای است که در سمت پرتگاه است.

# جزوه آموزش آیین نامه راهنمایی رانندگی

## جلسه سوم

جلسه سوم

سبقت :

تعریف : عبارتست از جلو افتادن یا پیشی گرفتن از وسیله ای که هم مسیر شماست .

چگونه سبقت بگیریم ؟

- ۱- وقتی که واقعا احساس نیاز به سبقت میکنیم سبقت بگیریم .
- ۲- وقتی که مطمئن هستید بدون فشار زیاد به وسیله نقلیه تان و بدون افزایش سرعت قادر به سبقت گرفتن هستید سبقت بگیریم .  
( مثلا وقتی اتومبیل جلویی سرعتش ۶۰ باشد و سرعت شما ۸۰ میتوانید از آن سبقت بگیرید نه اینکه سرعت اتومبیل جلویی ۱۱۰ باشد و شما برای سبقت گرفتن مجبور بشوید سرعتتان را به ۱۵۰ افزایش دهید).
- ۳- از وجود فاصله ایمن برای سبقت گرفتن مطمئن شوید . (از وجود فاصله ایمن با ماشین جلو و روبرو اطمینان حاصل کنید تا از برخورد با آنها جلوگیری شود)



۴- کنترل وسائل نقلیه جلو و روبرو و پشت سر

۵- توجه به علائم سبقت ممنوع

۶- سبقت همیشه از چپ صورت میگیرد استثنا در این دو مورد میتوانیم از راست سبقت بگیریم :

- ۱) وقتی اتومبیل جلویی شما در حال گردش به چپ است میتوانید از سمت راست آن عبور کنیم .
- ۲) وقتی در راه یا جاده ای که دارای سه راه عبور است میتوانیم با سرعت مجاز و با احتیاط به راه خودمان ادامه بدهیم و از سمت راست اتومبیل جلویی حاضر در خط عبور چپ خود سبقت بگیریم . (۳) وسیله نقلیه انتظامی و امدادی در حال ماموریت باشند .
- ۷- با چراغ یا بوق به ماشینی که از آن میخواهیم سبقت بگیریم اطلاع بدهیم . (چراغ میزنیم در صورتی که ماشین جلویی حواسش نبود با بوق او را آگاه کنیم)
- ۸- پس از سبقت گرفتن برای بازگشت به مسیر اصلی راهنمای سمت راست را میزنیم .
- ۹- زمانی که چراغ اتومبیلی که از آن سبقت گرفتیم را در آینه داخل ماشین دیدیم . ۱۰- راهنما را خاموش میکنیم . ۱۱- با سرعت عادی حرکت میکنیم .



کجا سبقت نگیریم؟!

- ۱- در سر پیچ و سربالایی که میدان دید راننده کم باشد .
- ۲- از ۵۰ متر قبل از پیچ تا ۵۰ متر بعد از پیچ سبقت ممنوع است .
- ۳- هنگامی که روشنایی یا میدان دید به هر علت کافی نباشد .
- ۴- سبقت از ماشینی که خود در حال سبقت است ممنوع است مگر اینکه دارای سه خط عبور یا بیشتر باشد .
- ۵- سبقت برای اتوبوس و کامیون ها در معابر شهری ممنوع است .



کجا سبقت نگیریم?!

- ۶- ۱۰۰ متر مانده به پل یا تونل تا انتهای آن سبقت ممنوع است . (دیگر ۱۰۰ متر بعدش ممنوع نیست )
- ۷- در نقاطی که با نصب علائم مخصوص سبقت گرفتن ممنوع باشد .
- ۸- هنگامی که وسیله نقلیه از فاصله نزدیک و غیر ایمن در روبرو شما در حال حرکت باشد .

جلسه سوم

**سرعت مطمئنه :**

چيست؟! سرعتی است که با توجه به چهار مورد ، شما اتخاذ میکنید تا قادر به پیشگیری از هر گونه خطر باشید .

**این چهار مورد عبارتند از:**

- ۱- وضعیت خودتان ( سر حال هستید ، خواب آلود هستید، راننده حرفه ای هستید تازه کار هستید و ... )
- ۲- با چه ماشینی در حال رانندگی هستید ( لامبورگینی یا ژبان ... )
- ۳- یک جاده لیز و لغزنده است یا یک جاده استاندارد
- ۴- آب و هوا

**سرعت در راه ها:**

**درون شهری و مسکونی:**

**شریانی درجه یک:**

آزاد راه: حداقل ۷۰ حداکثر ۱۲۰

بزرگراه: حداکثر ۱۰۰ حداقل ندارد

**شریانی درجه ۲:**

شریانی اصلی: حداکثر ۶۰

شریانی فرعی: حداکثر ۵۰

**مغایر محلی:**

حداکثر ۳۰ کیلومتر در ساعت

**برون شهری:**

**آزادراه:**

حداقل ۷۰

حداکثر سرعت برای سواری و وانت ۱۲۰ / کامیون ۱۱۰

**بزرگراه:**

سواری ۱۱۰ / اتوبوس ۱۰۰

**جاده اصلی:**

روز ۹۵ / شب ۸۵

**جاده فرعی:**

روز ۸۵ / شب ۷۵

جلسه سوم

**دور زدن :**

تعریف : یعنی قرار گرفتن در مسیر مقابل ( دقیقاً ۱۸۰ درجه تغییر مسیر دادن )

**انواع دور زدن:**

یک فرمانه : مخصوص راه های با عرض زیاد ( در یک مرحله و در واقع با یک فرمان انجام میشود )  
دو فرمانه : مخصوص راه های با عرض کم ( در سه مرحله انجام میشود چون نمیتوان با یک فرمان دور زد )

**گردش:**

یعنی تغییر مسیر ۹۰ درجه .

**در گردش به چپ در جاده دو طرفه ( بدون بلوار یا کاردریل ) به این چهار نکته باید توجه داشت :**

- ۱- از فاصله ی ۵۰۰ متری راهنمای سمت راست را میزنیم .
- ۲- سمت راست راه یا در شانه خاکی راه توقف میکنیم .
- ۳- ماشین های روبرو و پشت سر را کنترل میکنیم .
- ۴- راهنمای سمت چپ را میزنیم و با دو شرط ۱- احتیاط ۲- سرعت عمل اقدام به گردش میکنیم . ( اگر میخواهیم راننده خوبی شویم باید این دو را با یکدیگر در نظر داشته باشیم )



جزوه آموزش آیین نامه راهنمایی رانندگی

## جلسه چهارم

جلسه چهارم

جاهایی که دور زدن ممنوع است :

- ۱- ۱۵۰ متری پیچ ها
- ۲- ۱۵۰ متری تقاطع ها
- ۳- سربالایی ها
- ۴- ۱۵۰ متری تونل و تا انتهای آن
- ۵- ۱۵۰ متری پل ها و تا انتها آنها
- ۶- جایی که دید کافی وجود ندارد
- ۷- جایی که خط ممتد است

- برای توقف در خیابان یک طرفه راهنمای چپ میزنیم چون در خیابان یک طرفه سمت چپ پارک میکنیم .
- برای توقف در خیابان های دو طرفه راهنمای سمت راست میزنیم چون در خیابان های دوطرفه سمت راست پارک میکنیم .
- وقتی که وسیله نقلیه شما دچار نقص فنی میشود بایستی یک مثلث خطر یا سب رنگ داشته باشید که در شرایط جوی معمولی از فاصله ۱۵۰ متری قابل دیدن باشد.

**اما وقتی ماشینتان دچار نقص فنی میشود:** اگر اگر در جاده هستید باید مثلث خطر را در فاصله ۷۰ متری بگذارید



- اگر در بزرگراه هستید باید مثلث خطر را در فاصله ۱۵۰ متری بگذارید .
- تابلو مثلث خطر باید در پشت ماشین خود قرار دهید تا دیگران ببینند .
- هنگامی که شب در کنار جاده می ایستید حتما چراغ کوچک اتومبیل را روشن کنید .

- **یدک کشی :**

**تعریف :** انتقال وسیله نقلیه آسیب دیده ای که با قوه ی محرکه ی خود قادر به حرکت نباشد توسط وسیله دیگر .

**۹ شرط برای یدک کشی وجود دارد که عبارتند از :**

- ۱- باید در شرایط مجاز شبانه روز انجام گیرد . (زمانی که نور کافی باشد صورت بگیرد)
- ۲- وسیله نقلیه ای که میخواهد یدک بکشد باید دارای نیروی کافی برای یدک کشی باشد .
- ۳- یدک کشی باید با سیم بکسل ثابت یا سیمی صورت بگیرد .
- ۴- وسیله نقلیه آسیب دیده باید دارای راننده مستقل باشد .
- ۵- این راننده ( راننده وسیله نقلیه آسیب دیده ) باید دارای گواهینامه ی معتبر باشد.

۶- وسیله نقلیه آسیب دیده باید دارای سیستم ترمز و فرمان سالم باشد .

اگر دارای ترمز و فرمان سالم نباشد باید با جرثقیل حمل شود .

۷- یک وسیله نقلیه نمیتواند همزمان بیش از یک ماشین را یدک بکشد .

۸- وسیله نقلیه مسافربری که دارای مسافر است نمیتواند وسیله نقلیه دیگری را یدک بکشید . حتی اگر هر دو از یک نوع باشد

۹- وسیله نقلیه یدک باید یک پارچه سفید رنگ به ابعاد ۵۰ سانتی متر پشت سر وسیله نقلیه طوری وصل کند که از طرفین قابل مشاهده باشد .

جلسه چهارم

- قانون اول رانندگی اینست که همیشه از سمت راست برانید مگر اینکه بخواهید سبقت بگیرید. (مهم ترین قانون رانندگی)
- حتما بین خطوط رانندگی کنید و وقتی بخواهید از یه خط کشی تغییر مسیر بدهید به خط دیگر با رعایت سه شرط تغییر مسیر بدهید:
  - ۱- احتیاط.
  - ۲- رعایت حق تقدم ماشین هایی که میخواهید به مسیرشان بروید.
  - ۳- راهنما زدن.

- حتما سرعت کم به معنای احتیاط نیست همیشه باید متناسب با راه برانید مثلا در یک آزاد راه که همه با سرعت بالا میروند شما اگر بخواهید با سرعت پایین برانید میتواند خطر ساز باشد .
- هیچ کس حق ندارد وسیله نقلیه ای که متعلق به او نیست یا راننده او نمیشد بدون اجازه ی صاحب آن از محل خود حرکت دهد مگر ماموران انتظامی و در چارچوب مقررات .
- هیچ کس حق ندارد به کسی که گواهی نامه رانندگی ندارد اجازه رانندگی با وسیله نقلیه خود را بدهد .

جراغ بزرگ وسیله نقلیه:

نور بالا:

نور رانندگی در شب  
تا بیش از ۱۵۰ متری ماشینی نباشد

نور پایین:

موقعی که کم تر از ۱۵۰ متر با ماشین جلویی فاصله باشد .  
شب ها در شهر که خیابان ها روشن باشد.  
در روز و هر زمانی که دید به هر علت کافی نباشد. ( مثلا گرد و خاک باشد و ... )

- دنده عقب رفتن در آزادراه ها و بزرگراه ها ممنوع است در بقیه راه ها در صورت ضرورت مجاز است .

- حرکت با دنده خلاص در سرازیری ها ممنوع است .

- وسایل نقلیه امدادی و انتظامی مجاز به موارد زیر می باشند :

- ۱- توقف در محل ممنوعه .
- ۲- تجاوز از سرعت مجاز .
- ۳- سبقت از راست وسیله نقلیه دیگر .
- ۴- عبور از طرف چپ راه .
- ۵- دور زدن در نقاط ممنوعه .

## جلسه چهارم

- **استثنا:** وسیله نقلیه انتظامی و امدادی حتی اگر در حال مأموریت باشند باز مجاز به ورود ممنوع و عبور ممنوع نیستند.
- **عابرین پیاده** موظف اند در خیابان دو طرفه در خلاف جهت اتومبیل ها حرکت کنند تا یک ماشین از راه منحرف شد دید داشته باشید و بتوانید **عکس العمل مناسب** را نشان دهید .
- **رانندگی** با وسیله نقلیه ای که برگ معاینه فنی ندارد ممنوع است .

### - راننده ی هر وسیله نقلیه باید چهار مدرک را حتما با خود داشته باشد :

- ۱- گواهی نامه رانندگی
  - ۲- برگ معاینه فنی معتبر
  - ۳- کارت ماشین
  - ۴- بیمه شخص ثالث
- مدت اعتبار انواع گواهی نامه رانندگی ۱۰ سال میباشد و پس از پایان اعتبار آن و در صورت احراز سلامت جسمی و روانی برای دوره های ۱۰ ساله تمدید میگردد . ضمنا افرادی که سن آن ها بیش از ۷۰ سال است مکلف اند هر ۵ سال یکبار جهت احراز سلامت جسمی و روانی به راهنمایی و رانندگی مراجعه کنند .

### تصادفات:

#### ۱- خسارت مالی:

اگر توافق کردید که کدام مقصر است ، اول مدارک گرفته میشود بعد به کنار راه می آییم ، اگر خسارت کم تر از ۵ میلیون بود و مقصر بیمه داشت مستقیم کپی مدارک را میگیریم بعد به آن شخص ثالثی که بیمه دارد میرویم ، اگر توافق نکردید جای لاستیک ها را با گچ علامت میزنیم و به کنار راه می آییم .

### تصادفات:

#### ۲- خسارت جانی :

- ۱- ماشین را حرکت نمیدهیم و به آمبولانس زنگ میزنیم .
  - ۲- اگر جایی بود که آمبولانس وجود نداشت مانند حالت قبل جای لاستیک را علامت گذاری میکنیم و طبق اصولی که برای انتقال آسیب دیده وجود دارد وی را به بیمارستان منتقل میکنیم .
- رانندگان باید همواره بیمه نامه همراه داشته و در صورت درخواست پلیس راهنمایی رانندگی ارائه کنند .

جزوه آموزش آیین نامه راهنمایی رانندگی

جلسه پنجم

جلسه پنجم

– متداول ترین نوع پارک در شهر ها پارک دوبل است .

برای پارک دوبل ، در کنار ماشین جلویی به فاصله ۵۰ سانتی متر نسبت به آن و در کنار آن توقف میکنیم و اقدامات زیر را انجام میدهیم :

- ۱- راهنمای راست را میزنیم
- ۲- فرمان را به سمت راست میچرخانیم ( در حرکت فرمان را به راست میچرخانیم )
- ۳- یک توقف فرمان را به سمت چپ میچرخانیم
- ۴- فرمان را به صورت مستقیم قرار بدهید
- ۵- در نهایت باید فاصله با ماشین جلویی ۱ متر با ماشین عقب نیز ۱ متر و ۴۵ سانتی متر با جدول باشد

پارک:

در سربالایی:

- ۱- باجدول : وقتی که در سربالایی میخواهید پارک کنید و جدول وجود دارد باید فرمان را به سمت چپ بچرخانید
- ۲- بدون جدول: باید فرمان را به سمت راست بچرخانیم

در سرازیری:

- ۱- باجدول : باید فرمان را به سمت راست بچرخانیم
- ۲- بدون جدول : شرایط غیر ایمن محسوب میشود و پارک ممنوع است .

– رایج ترین نوع تصادفات ، تصادف جلو و عقب است . (بیشترین تصادفی که در خیابان میبینیم )

دلیل : عدم رعایت فاصله طولی با ماشین جلویی

– چطوری متوجه شویم فاصله با ماشین جلویی رعایت کردیم یا خیر ؟

| شرایط جاده | 15 km/h | 30 km/h | 45 km/h | 60 km/h | 75 km/h |
|------------|---------|---------|---------|---------|---------|
| خشک        | 1       | 2       | 3       | 4       | 5       |
| مرطوب      | 2       | 4       | 6       | 8       | 10      |
| ماسه و شن  | 2       | 4       | 6       | 8       | 10      |
| برف        | 3       | 6       | 9       | 12      |         |
| یخ         | 6       | 12      | 18      |         |         |

- ۱- طول اتومبیل : وقتی در جاده ای خشک در حال رانندگی هستید به به ازای هر ۱۵ کیلومتر سرعت بایستی به اندازه ی یک طول اتومبیل (اندازه ماشین خودمان ) فاصله داشته باشید .
- طبق جدول بالا به طور مثال در جاده خشک داریم اگر سرعت شد ۳۰ کیلومتر، بایستی فاصله ۲ طول اتومبیل باشد.

۲- روش دو ثانیه : در این روش وقتی که پشت ماشینی داریم حرکت میکنیم باید دو ثانیه با ماشین جلویی فاصله داشته باشیم.

– چطور بفهمیم فاصله دو ثانیه را رعایت کردیم یا خیر ؟

یک شی ثابت را در اطرف در نظر میگیریم وقتی ماشین جلویی از شی گذشت ، میشماریم و باید بعد از دو ثانیه به آن شی که در نظر گرفته بودیم برسیم .

جلسه پنجم

– چگونه از تصادف پشت سر ( جلو به عقب ) جلوگیری کنیم ؟

- ۱- مطمئن شویم ( چراغ ) ترمز خودرو سالم است و درست کار میکند .
- ۲- آینه ها جانبی تمیز باشد در میدان دید طبیعی کمک کند
- ۳- استفاده از علامت دست در تغییر مسیر
- ۴- از ترمز و توقف ناگهانی پرهیز کنیم
- ۵- اگر اتومبیلی نزدیک به شما در حال حرکت است سرعتتان را کم کنید و اجازه دهید سبقت بگیرد
- ۶- هماهنگ با وضعیت ترافیک حرکت کنید

مسافت توقف :

**تعریف :** مسافتی که از دست میدهیم پس از توقف خودرو جلویی تا خودروی شما کاملاً بایستد .

– چه چیزهایی در مسافت توقف دخیل است ؟

- ۱- هدر رفتن زمان راننده ( از مشاهده تا عکس العمل )
- ۲- از عکس العمل تا توقف کامل خودرو
- ۳- نوع و شرایط آسفالت ، لاستیک و جاده
- ۴- اندازه و وزن وسیله نقلیه
- ۵- نوع و شرایط ترمز ها

– حداقل شیار تایر ها باید ۱.۵ میلی متر باشد . (در کتاب قدیم ۱.۶ میلی متر )

- مهم ترین عضو بدن در هنگام رانندگی چشم است .
- آینه ها را طوری تنظیم کنیم که نقاط کور معلوم باشد .

– چرا رانندگی با سرعت زیاد خطر آفرین است ؟

- ۱- صدمات و تلفات بسیار بیشتر است .
- ۲- احتمال کشته شدن افزایش میابد .
- ۳- کنترل وسایل نقلیه بسیار سخت است .
- ۴- زمان واکنش نسبت به خطرات افزایش میابد .
- ۵- سایر کاربران راه بدلیل سرعت بالای شما زمان واکنش بسیار کمی داشته توانایی جلوگیری از تصادف را نخواهند داشت .

### تأثیرات استفاده از مواد مخدر :

- استفاده از مواد مخدر اعتماد به نفس را به طور کاذبی افزایش میابد .
- چرا باید با فاصله بیشتری از موتور سوار و دوچرخه حرکت کرد ؟
- زیرا از ایمنی کم تری نسبت به خودورها برخوردار است .

### رانندگی در روز از سهولت بیشتری برخوردار است:

- ۱- وجود میدان دید طبیعی
- ۲- استفاده از آینه های جانبی
- ۳- در اختیار داشتن فاصله های قابل رویت
- ۴- مشاهده ی سایر استفاده کنندگان از راه

### رانندگی در شب احتمال خطر را بیشتر میکند:

- ۱- محدودیت حوزه دید راننده
- ۲- خیره شدن به مسیر جاده
- ۳- عدم تشخیص فاصله و سرعت وسایل نقلیه
- ۴- موانع و عابرین پیاده که قابل تشخیص نیستند

### - دسترسی به آزادراه ها بوسیله پل های روگذر و زیر گذر ( تقاطع غیر هم سطح ) صورت میگیرد .

- **خط افزایش سرعت ( برای ورود به آزاد راه ها):** با سرعت کم نمی توان وارد آزادراه شد چون حداقل سرعت در آزادراه ۷۰ کیلومتر در ساعت میباشد بنابراین باید در خط افزایش سرعت ، سرعتمان را حداقل به ۷۰ برسانیم و سپس در آزاد راه به راه خود ادامه بدهیم .

- **خط کاهش سرعت ( برای خروج از آزادراه ها):** حداقل سرعت ۷۰ کیلومتر در ساعت در آزادراه داریم و نمیتوان با این سرعت از آزادراه خارج شد و بپیچیم بنابراین در خط کاهش سرعت خود ا کم می کنیم و سپس از آزادراه خارج می شویم.

- **تابلو در آزادراه ها آبی رنگ است .**

- **تابلو در بزرگراه ها سبز رنگ است .**





## آزمون آیین نامه راهنمایی و رانندگی ایرانیان - تست درایو

سوالات آزمون آیین نامه مقدماتی شماره: ۱

[www.test-drive.ir](http://www.test-drive.ir)

۱. در پشت تقاطع جاده و راه آهن راننده چه هنگام مجاز به عبور است؟

الف. هنگامی که قطار عبور می کند

ب. زمانی که چراغ محل همچنین روشن بماند

ج. موارد یک و دو صحیح است

د. هنگامیکه چراغ محل تقاطع خاموش شود

پاسخ صحیح: د

۲. حداکثر میزان سرعت در جاده های فرعی برای انواع وسایل نقلیه در روز ... کیلومتر و در شب ... کیلومتر در ساعت می باشد.

الف. ۶۵-۷۵

ب. ۸۵-۹۵

ج. ۷۵-۸۵

د. ۵۵-۶۵

پاسخ صحیح: ج

۳. در چه فاصله ای از ورودی یا خروجی مراکز آتش نشانی، پلیس و بیمارستانها توقف وسایل نقلیه ممنوع است؟

الف. ۵ متری

ب. ۱۵ متری

ج. ۳۰ متری

د. محدودیت ندارد

پاسخ صحیح: ب

۴. صحیح ترین روش ترمز کردن در خودروهای فاقد ترمز ABS چیست؟

الف. پدال ترمز را بشدت فشار داده و سپس فشار وارده را کمتر نموده

ب. ابتدا پدال را به آرامی فشار داده و بتدریج فشار را افزایش داد

ج. بطور پی در پی پدال ترمز را فشار داده و رها نمود

د. همزمان با فشار دادن پدال ترمز ترمز دستی را نیز کشید

پاسخ صحیح: ب

۵. کدامیک از موارد زیر علت اصلی تصادف با اتومبیل جلویی است؟

- الف. عدم توجه به راه و نزدیک شدن بیش از حد به اتومبیل جلویی    ب. سرعت غیرمجاز  
ج. عبور عابر پیاده در مناطق شهری و شلوغ    د. وجود ترافیک سنگین در راهها  
پاسخ صحیح: الف

۶. اگر بعد از آزمایش چشم متوجه شدید که نیاز به عینک دارید چه موقع باید از آن استفاده کنید؟

- الف. فقط در موقع آلودگی هوا    ب. در زمانی که احساس می کنید لازم است  
ج. در تمام اوقات رانندگی    د. فقط در نور کم و شبها  
پاسخ صحیح: ج

۷. اگر اتومبیل شما در محل گذرگاه قطار خاموش شود و نتوانید آن را روشن کنید و همزمان نیز بوق هشدار قطار به صدا درآید چه کاری باید انجام دهید؟

- الف. از اتومبیل خارج شده و از تقاطع دور می شوید  
ب. بر روی خط آهن جهت هشدار به سوزن بان شروع به دویدن می کنید  
ج. سعی می کنید موتور اتومبیل را روشن کنید  
د. اتومبیل را حرکت داده و از محل تقاطع دور کنید  
پاسخ صحیح: الف

۸. چرا باید در هنگام رانندگی توجه به جلو و اطراف داشته باشیم؟

- الف. در انتخاب مسیر دچار اشتباه نشویم    ب. متوجه حرکات سایر رانندگان باشیم  
ج. خطرات احتمالی را پیش بینی کرده و زمان بیشتری برای واکنش داشته باشیم  
د. قادر باشیم علائم را ببینیم  
پاسخ صحیح: ج

۹. اگر به هنگام رانندگی در آزادراه تایر خودرو پنچر شود چه باید کرد؟

- الف. باید در همان محل توقف کرد  
ب. باید در خط اضطراری توقف کرد  
ج. می توان بین خطوط عبوری آزادراه توقف کرد  
د. موارد الف و ج صحیح است
- پاسخ صحیح: ب

۱۰. در محل توقف کنار خیابان حق تقدم عبور با وسیله نقلیه ای است که ...

- الف. اتومبیلی که مستقیم حرکت می کند  
ب. اتومبیلی ضمن حرکت با دنده عقب مشغول پارک کردن است  
ج. هر دو مورد  
د. هیچکدام
- پاسخ صحیح: ب

۱۱. کدام مورد از انواع آلودگی سهم زیادی از آلودگی شهری را تشکیل می دهد؟

- الف. آلودگی صوتی  
ب. آلودگی هوا ناشی از وسایل موتوری  
ج. آلودگی محیط زیستی  
د. موارد الف و ب صحیح می باشد
- پاسخ صحیح: ب

۱۲. متداول ترین نوع پارک در شهرها کدام مورد می باشد؟

- الف. پارک دوبل  
ب. پارک بغل  
ج. پارک پل  
د. هیچکدام
- پاسخ صحیح: الف

۱۳. هنگام پارک کردن در سرازیری که دارای جدول می باشد فرمان را باید به کدام سمت چرخاند؟

- الف. مستقیم  
ب. چپ  
ج. راست  
د. هیچکدام
- پاسخ صحیح: ج

۱۴. حداقل از چه فاصله در بزرگراه باید راهنما زد؟

|              |       |        |        |
|--------------|-------|--------|--------|
| الف. ۵۰      | ب. ۷۰ | ج. ۱۰۰ | د. ۱۵۰ |
| پاسخ صحیح: ج |       |        |        |

۱۵. به هنگام گردش به راست کدامیک از موارد زیر را باید رعایت کرد؟

|  |                                  |
|--|----------------------------------|
| الف. علامت دادن با چراغ راهنمای سمت راست از فاصله ۱۰۰ متری | ب. توجه به جریان ترافیک و عابرین |
| ج. توجه به دوچرخه سوارها و موتورسوارها میان خودرو و جدول   | د. تمام موارد                    |
| پاسخ صحیح: د   |                                  |

۱۶. در چه مواقعی نمی‌توانید از چراغ هشدار دهنده خطر استفاده کنید؟

|                              |                                  |
|------------------------------|----------------------------------|
| الف. زمانی که خودرو بکسل شده | ب. زمانی که بصورت دوبله پارک شده |
| ج. موارد الف و ب صحیح است    | د. هیچکدام                       |
| پاسخ صحیح: ج                 |                                  |

۱۷. به هنگام سبقت گرفتن از کدام یک از موارد زیر باید فضای بیشتری را برای وسیله نقلیه در نظر گرفت؟

|                 |           |            |                  |
|-----------------|-----------|------------|------------------|
| الف. موتورسیکلت | ب. دوچرخه | ج. تراکتور | د. موارد الف و ب |
| پاسخ صحیح: د    |           |            |                  |

۱۸. هنگام ورود به میادین حق تقدم با وسیله نقلیه‌ای است که ...

|                               |                                      |
|-------------------------------|--------------------------------------|
| الف. در حال ورود به میدان است | ب. در سمت راست وسیله نقلیه قرار دارد |
| ج. درون میدان در حال حرکت است | د. در حال عبور مستقیم است            |
| پاسخ صحیح: ج                  |                                      |

۱۹. غالب میخهای زرد رنگ (چشم گربه) در چه محل‌هایی نصب می‌شود؟

- الف. در مسیرهای ورودی و خروجی آزادراهها      ب. در باند کاهش سرعت
- ج. در باند افزایش سرعت      د. در مسیر رفت و برگشت جاده‌ها و در سمت چپ مسیر
- پاسخ صحیح: د

۲۰. در مواقع طوفانی و وزش باد شدید کدامیک از موارد زیر باید بیش از حد مراقب باشید؟

- الف. به هنگام عبور از کنار دوچرخه و موتورسواران      ب. به هنگام استفاده از ترمزها
- ج. به هنگام سبقت گرفتن از خودروهای طویل      د. به هنگام عبور از پیچ‌ها و سربالایی‌ها
- پاسخ صحیح: الف

۲۱. حرکت با دنده خلاص در سرپایینی چه خطراتی را در پی خواهد داشت؟

- الف. موجب سرعت گرفتن خودرو شده و دنده سخت جل می‌رود
- ب. ترمز گرفتن و هدایت خودرو مشکل می‌شود
- ج. سیستم کلاچ آسیب می‌بیند
- د. موارد الف و ب
- پاسخ صحیح: د

۲۲. سبقت گرفتن در سر پیچ‌های تند و سربالایی‌ها به چه علت ممنوع می‌باشد؟

- الف. نامحدود بودن میدان دید راننده      ب. کم بودن میدان دید راننده
- ج. اختلال در ترافیک      د. عدم کشش خودرو
- پاسخ صحیح: ب

۲۳. مفهوم این شکل چیست؟



- الف. توقف مطلقاً ممنوع  
ب. توقف ممنوع  
ج. ایستادن ممنوع  
د. توقف در روزهای زوج هفته ممنوع
- پاسخ صحیح: د

۲۴. مفهوم این شکل چیست؟



- الف. جریان همگرا  
ب. تقاطع فرعی با اصلی در قوس  
ج. پایان جدا کننده  
د. هدایت مسیر با جدا کننده
- پاسخ صحیح: ب

۲۵. مفهوم این شکل چیست؟



- الف. سبقت ممنوع  
ب. بوق زدن ممنوع  
ج. خیابان یک طرفه  
د. حق تقدم با وسیله نقلیه مقابل است
- پاسخ صحیح: د

۲۶. مفهوم این شکل چیست؟



- الف. پیچهای پی در پی  
ب. پیچ به راست  
ج. موارد الف و ب صحیح است  
د. هیچکدام
- پاسخ صحیح: الف

۲۷. کدام تابلو زیر بمعنی عبور اطفال است؟



د.



ج.




ب.



الف.

پاسخ صحیح: ب

۲۸. معنی خط مقابل چیست؟



الف. خط توقف دوبله منقطع


ب. خط شطرنجی

ج. خط ممتد ایست

د. خط عابر پیاده

پاسخ صحیح: ب

۲۹. کدامیک از اشکال زیر بمعنای "رانندگان وسایط نقلیه در حال عبور از پشت وی توقف نمایند" می باشد؟



د.



ج.



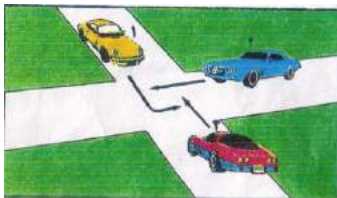
ب.



الف.

پاسخ صحیح: ج

۳۰. در شکل بالا حق تقدم با کدام می باشد؟



الف. 1-2-3

ب. 3-1-2

ج. 3-2-1

د. 2-1-3

پاسخ صحیح: ج



## آزمون آیین نامه راهنمایی و رانندگی ایرانیان - تست درایو

سوالات آزمون آیین نامه مقدماتی شماره: ۲

[www.test-drive.ir](http://www.test-drive.ir)

۱. با مشاهده چراغ چشمک زن زرد در تقاطع چه عملی را انجام می‌دهیم؟

الف. ایست کامل کرده و بارعایت حق تقدم حرکت میکنیم. از سرعت خود کاسته و با احتیاط عبور میکنیم

ج. به حرکت خود ادامه می‌دهیم

د. هیچکدام

پاسخ صحیح: ب

۲. معاینه و آزمایش فنی وسایل نقلیه شامل چه مواردی می‌شود؟

الف. تشخیص اصالت

ب. سلامت زیست محیطی

ج. سلامت فنی، تجهیزات و ایمنی

د. همه موارد

پاسخ صحیح: د

۳. در هنگام رانندگی و برخورد با موارد اضطراری انجام کدام موارد ضروری می‌باشد؟

الف. نگهداشتن هر دو دست بر روی فرمان

ب. نحوه گردش صحیح و ایمن

ج. موارد الف و ب صحیح است

د. ترمز گرفتن ناگهانی

پاسخ صحیح: ج

۴. برای تغییر مسیر و تعویض خط حرکت چگونه باید عمل نمود؟

الف. فقط با استفاده از چراغ راهنما تغییر مسیر می‌دهیم

ب. با دادن علامت وسایل نقلیه دیگر را از قصد خود آگاه نموده و با رعایت حق تقدم عبور و احتیاط کامل

تغییر مسیر می‌دهیم

ج. با استفاده از آینه تغییر مسیر می‌دهیم

د. تغییر مسیر ممنوع می‌باشد

پاسخ صحیح: ب



۵. موقعی که اتومبیل خود را پارک می کنید نباید ...؟

- الف. چرخها را به سمت جدول قرار دهید  
ب. در دنده بگذارید  
ج. ترمز دستی را بکشید  
د. مانع سایر استفاده کنندگان از راه شوید
- پاسخ صحیح: د

۶. به هنگام حرکت پشت یک خودرو بر روی جاده خیس فاصله زمانی با آن چقدر باید باشد؟

- الف. یک ثانیه  
ب. دو ثانیه  
ج. هشت ثانیه  
د. چهار ثانیه
- پاسخ صحیح: د

۷. چرا در جاده پرترافیک باید از خودرو جلویی فاصله بیشتری گرفت؟

- الف. برای جلوگیری از خستگی چشمها  
ب. چون اینکار باعث روان شدن جریان ترافیک میگردد  
ج. برای کاهش خطر حادثه و تصادف زنجیره‌ای  
د. هیچکدام
- پاسخ صحیح: ج

۸. قانون اولیه در رانندگی حرکت از منتهی الیه سمت ... است مگر برای ...؟

- الف. راست-سبقت  
ب. چپ-سبقت  
ج. راست-توقف  
د. چپ-توقف
- پاسخ صحیح: الف

۹. در یک منطقه شهری و مسکونی در حال حرکت هستید و به یک سرعت گیر نزدیک می شوید شما باید ...؟

- الف. از قسمت چپ راه عبور کنید  
ب. سریعاً سرعت را کاهش دهید  
ج. بر سرعت خود بیافزایید  
د. با همان سرعت قبلی به حرکت خود ادامه دهید
- پاسخ صحیح: ب

۱۰. کدامیک از کارهای زیر را نباید در پمپ بنزین انجام داد؟

- الف. استعمال دخانیات  
ب. صحبت کردن  
ج. خوردن  
د. آشامیدن
- پاسخ صحیح: الف

۱۱. به هنگام عبور احشام از جاده کدام مورد را باید انجام بدهید؟

- الف. آرام و بی صدا عبور کنید  
ب. بوق نزنید و عبور کنید  
ج. به آرامی به حرکت خود ادامه دهید  
د. هیچکدام
- پاسخ صحیح: د

۱۲. اولین فردی که به محل تصادف می رسد کدام مورد را نباید انجام دهد؟

- الف. موتور اتومبیل حادثه دیده را خاموش کند  
ب. به سایرین که در حال عبورند هشدار دهد  
ج. افراد زخمی را از داخل اتومبیل بیرون بکشد  
د. به مصدومین حادثه خوراکی و نوشیدنی دهد
- پاسخ صحیح: د

۱۳. در سه راهها حق تقدم عبور با وسیله نقلیه ای است که ...؟

- الف. بصورت مستقیم و در سمت و مسیر مجاز حرکت میکند  
ب. در طرف راست وسیله نقلیه دیگر قرار دارد  
ج. بسمت راست گردش کند  
د. موارد ب و ج صحیح است
- پاسخ صحیح: الف

۱۴. کدام گزینه در مورد یدک کشی نادرست است؟

- الف. وسیله ترابری آسیب دیده باید دارای سیستم فرمان و ترمز سالم باشد  
ب. عمل یدک کشی در ساعت مجاز انجام شود  
ج. وسایل ترابری مسافربری که دارای مسافر است نمی تواند وسیله ای را یدک بکشد  
د. هر وسیله ترابری میتواند همزمان دو وسیله دیگر را یدک بکشد
- پاسخ صحیح: د

۱۵. اصلی ترین علت منحرف شدن خودرو به یک طرف در زمان ترمز گرفتن چیست؟

- الف. پایین بودن سطح روغن ترمز  
ب. بالا بودن ترمز دستی  
ج. تنظیم نبودن دقیق ترمزها  
د. ساییدگی بیش از حد تایرهای خودرو
- پاسخ صحیح: ج

۱۶. در چه فاصله‌ای قبل و بعد از پیچها و تقاطع راه آهن سبقت گرفتن ممنوع است؟

الف. ۵۰ متری      ب. ۱۰۰ متری      ج. ۱۵۰ متری      د. ۷۵ متری

پاسخ صحیح: الف

۱۷. آیا نشاندن کودکان در صندلی ردیف اول خودرو مناسب است؟

الف. بله با اینکار لذت بیشتری از دیدن مناظر اطراف می‌برد

ب. در صورت رعایت احتیاط اشکالی ندارد

ج. خیر اینکار باعث حادثه و مجروح شدن می‌شود

د. اگر به همراه یک فرد مسن‌تر بنشیند اشکالی ندارد

پاسخ صحیح: ج

۱۸. کدام مورد باعث بهم خوردن تمرکز شما در حال رانندگی می‌شود؟

الف. نگاه کردن به نقشه‌ها      ب. گوش کردن موسیقی با صدای بلند

ج. استفاده از تلفن همراه      د. تمام موارد

پاسخ صحیح: د

۱۹. حداکثر میزان سرعت مجاز انواع سواری و وانت بارها در آزادراههای برون شهری ... می‌باشد؟

الف. ۱۱۰ کیلومتر بر ساعت      ب. ۱۰۰ کیلومتر بر ساعت

ج. ۱۱۵ کیلومتر بر ساعت      د. ۱۲۰ کیلومتر بر ساعت

پاسخ صحیح: د


۲۰. اگر به هنگام رانندگی در آزادراهها تایر خودرو پنچر شود چه باید کرد؟

الف. باید در همان محل توقف کرد      ب. باید در خط توقف اضطراری توقف کرد

ج. میتوان در بین خطوط عبوری آزادراه توقف کرد      موارد الف و ج صحیح است

پاسخ صحیح: ب

۲۱. در جاده های پر ترافیکی، اتومبیلها و وسایل نقلیه دیگر پشت سر هم بطور فشرده در حرکت هستند چگونه از بروز حادثه جلوگیری کنید؟



الف. پای خود را روی ترمز قرار میدهید

ب. فاصله خود را با اتومبیل جلویی افزایش میدهید

ج. چراغهای خطر را روشن میکنید

د. در شانه خاکی توقف میکنید

پاسخ صحیح: ب

۲۲. نام تابلو مقابل چیست؟



ب. توقف ممنوع

د. منطقه توقف ممنوع

پاسخ صحیح: ب

الف. ورود ممنوع

ج. محدودیت سرعت

۲۳. نام تابلو مقابل چیست؟



ب. جهت آگاهی (اطلاع)

د. جهت نمایش مسیر

پاسخ صحیح: الف

الف. جهت هشدار

ج. جهت حکم (بازدارنده)

۲۴. نام تابلو زیر چیست؟



ب. فقط عبور مستقیم مجاز

د. کاهش خطوط عبور

پاسخ صحیح: ج

الف. خیابان یکطرفه

ج. راه یکطرفه


۲۵. نام تابلو مقابل چیست؟

|                         |               |
|-------------------------|---------------|
| الف. پایان سبقت ممنوع   | ب. سبقت ممنوع |
| ج. پایان تمام محدودیتها | د. هیچکدام    |
| پاسخ صحیح: الف          |               |




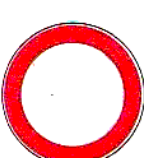


۲۶. نام تابلو مقابل چیست؟



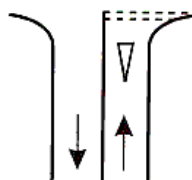
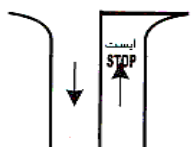
|                                      |  |
|--------------------------------------|--|
| الف. عبور وسیله نقلیه با تریلی ممنوع | ب. عبور وسیله نقلیه با محموله خطرناک ممنوع |
| ج. مسیر کامیون حامل کالای خطرناک     | د. عبور کامیون ممنوع                       |
| پاسخ صحیح: ب                         |  |



۲۷. کدام تابلو بمعنی "ورود از دو طرف ممنوع" است؟

|   |  |   |   |
|---|--|---|---|
| الف.  | ب.  | ج.  | د.  |
| پاسخ صحیح: د  |  |   |   |

۲۸. خط توقف دوبله منقطع کدام است؟

|   |  |
|---|--|
| الف.  | ب.  |
| ج.   | د.  |
| پاسخ صحیح: ج  |  |

۲۹. کدامیک از اشکال زیر قصد متوقف کردن را به راننده نشان می دهد؟



ب.



الف.



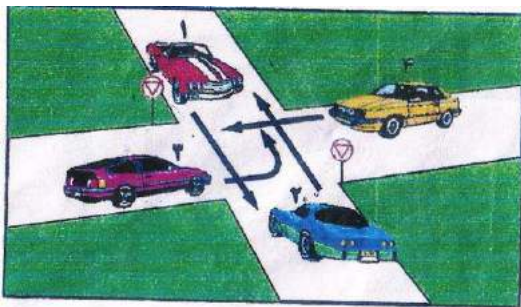
د.



ج.

پاسخ صحیح: ب

۳۰. در شکل زیر حق تقدم با کدام است؟



الف. 3-4-2-1

ب. 2-1-4-3

ج. 1, 2-3-4

د. 1-2-3-4

پاسخ صحیح: ج



## آزمون آیین نامه راهنمایی و رانندگی ایرانیان - تست درایو

سوالات آزمون آیین نامه مقدماتی شماره: ۳

[www.test-drive.ir](http://www.test-drive.ir)

۱. هنگام رانندگی در شرایط یخبندان از انجام دادن کدام عمل باید اجتناب نمود؟

الف. استفاده مدام از ترمز دستی

ب. سریعا و پشت سر هم ترمز گرفتن

ج. استفاده مدام از دنده یک

د. از تمام موارد

پاسخ صحیح: د

۲. حق تقدم عبور در تقاطع ها و میدانها چگونه مشخص میشود؟

الف. با استفاده علائم و فرمانهای پلیس

ب. فقط با فرمان پلیس

ج. مطابق با نظر رانندگان

د. فقط با استفاده از علائم

پاسخ صحیح: الف

۳. حداکثر سرعت در خیابانهای شریانی اصلی .... و در خیابانهای شریانی فرعی .... کیلومتر بر ساعت است؟

الف. ۸۰-۱۰۰

ب. ۸۰-۱۰۰

ج. ۵۰-۶۰

د. ۵۰-۶۰

پاسخ صحیح: د

۴. تابلو تقدم عبور معمولا در چه جاهایی نصب میشود؟

الف. پلهای باریک

ب. محل انجام تعمیرات جاده

ج. تقاطعها

د. همه موارد

پاسخ صحیح: د

۵. در صورت استشمام بوی بنزین در حین رانندگی چه باید کرد؟

الف. عدم نگرانی

ب. کاستن از سرعت

ج. رها کردن خودرو

د. توقف کردن و بررسی مسئله

پاسخ صحیح: د

۶. به هنگام گردش به راست کدامیک از موارد زیر باید رعایت گردد؟

الف. علامت دادن با چراغ راهنمای راست از فاصله ۱۰۰ متری      ب. توجه به جریان ترافیک و عابران

ج. توجه به دوچرخه سوارها و موتورسوارها      د. همه موارد

پاسخ صحیح:د

۷. وسیله نقلیه انتظامی و امدادی در حال ماموریت مجاز به انجام چه مواردی می باشند؟

الف. تجاوز از سرعت مجاز و سبقت از راست وسیله نقلیه دیگر      ب. ورود ممنوع

ج. حرکت بر خلاف جهت عبور در میدان      د. حرکت در مسیر مخالف آزاد راه

پاسخ صحیح:الف

۸. راننده کامیونی به تقاطع رسیده و به سمت راست راهنما می زند اما ابتدا به سمت چپ متمایل می شود چه توجیحی برای اینکار وجود دارد؟

الف. راننده اشتباه راهنما زده است

ب. برای اینکه چرخهای عقب به جدول سمت راست برخورد نکند

ج. راننده کنترل خود را بر کامیون از دست داده است

د. راننده از گردش به راست پشیمان شده است

پاسخ صحیح:ب

۹. کدام گزینه صحیح است؟

الف. رانندگی در مه مانند رانندگی با چشم بسته است ب. رانندگی در مه مانند رانندگی با دید عادی است

ج. رانندگی در مه مانند رانندگی در شب است      د. رانندگی در مه مانند رانندگی در هوای بارانی است

پاسخ صحیح:الف

۱۰. عبور از روی کدام خطوط زیر ممنوع نمی باشد؟

الف. خط زیگزاک      ب. خط مقطع      ج. خط طولی ممتد      د. الف و ج

پاسخ صحیح:ب



۱۱. روش یک طول اتومبیل در تعیین فاصله با خودرو جلویی در راههای خشک چگونه است؟

الف. یک طول خودرو به ازای هر ۱۵ کیلومتر سرعت در ساعت

ب. دو طول خودرو به ازای هر ۱۵ کیلومتر سرعت در ساعت

ج. یک طول خودرو به ازای هر ۳۰ کیلومتر سرعت در ساعت

د. دو طول خودرو به ازای هر ۳۰ کیلومتر سرعت در ساعت

پاسخ صحیح:الف

۱۲. اگر بر سر چهارراهی چراغ سبز باشد اما داخل تقاطع به دلیل ترافیک بسته باشد؟

الف. چون چراغ سبز است می توان عبور کرد

ب. باید صبر کرد تا راه باز شود و نباید تقاطع را مسدود کرد

ج. میتوان با بوق زدن خودروهای جلویی را وادار به حرکت نمود

د. میتوان با چراغ خودروهای جلویی را وادار به حرکت کرد

پاسخ صحیح:ب

۱۳. در چهارراهی با میدان دید کم در حال حرکت هستید چه کاری باید انجام دهید؟

الف. در حالیکه طرفین را نگاه میکنید با رعایت احتیاط به آهستگی حرکت کنید

ب. در حالیکه طرفین راست را نگاه می کنید کاملاً آهسته حرکت کنید

ج. با سرعت کم حرکت کنید تا موجب تصادف نگردد

د. ضمن توجه به طرفین با همین سرعت به حرکت خود ادامه دهید زیرا حق تقدم با شماست

پاسخ صحیح:الف

۱۴. در کدامیک از محلهای زیر توقف اتومبیل ایجاد خطر کرده و مانع عبور سایرین خواهد شد؟

ب. حریم ایستگاه اتوبوس

الف. مقابل درب ورودی ساختمانها

د. تمام موارد

ج. حریم تقاطعها و گذرگاه عابر پیاده

پاسخ صحیح:د

۱۵. مفهوم چراغ راهنمایی سبز چیست؟

الف. ایست کامل و سپس عبور

ب. عبور یا گردش آزاد است مگر آنکه گردش نمودن توسط علائم دیگر ممنوع شده باشد

ج. رعایت حق تقدم وسایلی که مستقیم حرکت می کنند و یا عابرین پیاده الزامی است

د. موارد ب و ج صحیح می باشد

پاسخ صحیح:د

۱۶. رانندگی در بخش وسط راههایی که به وسیله خط کشی یا علائم دیگر به سه بخش تقسیم شده ممنوع است مگر برای ....؟

الف. سبقت گرفتن یا گردش به چپ با رعایت علائم و مقررات

ب. استراحت کردن با رعایت احتیاط

ج. سرعتهای بالا

د. سرعتهای پایین

پاسخ صحیح:الف

۱۷. هنگام پارک کردن در سرازیری که دارای جدول می باشد فرمان را باید به کدام سمت چرخاند؟

الف. راست

ب. چپ

ج. مستقیم

د. فرقی ندارد

پاسخ صحیح:الف

۱۸. در هنگام حرکت و لغزش همزمان عقب خودرو از کدام موارد باید اجتناب کرد؟

الف. گاز دادن

ب. استفاده از ترمز و کلاچ

ج. موارد الف و ب

د. علامت دادن به سایرین

پاسخ صحیح:ج

۱۹. کدامیک از موارد زیر بر فرمان پلیس مقدم است؟

الف. علائم

ب. تابلوها

ج. خط کشی ها

د. هیچکدام

پاسخ صحیح:د

۲۰. در هنگام رانندگی در شرایط یخبندان و جاده خیس هنگام نزدیک شدن به پیچ چه مواردی را باید رعایت کرد؟

الف. قبل از رسیدن به پیچ از رعت خود بکاهید

ب. تا حد امکان با دنده سنگین حرکت کنید

ج. از حرکت سریع فرمان و انحراف به طرفین خودداری کنید

د. تمام موارد

پاسخ صحیح:د

۲۱. نام تابلو مقابل چیست؟



الف. ورود به راه اصلی از چپ

ب. ورود به راه اصلی از راست

ج. تقاطع فرعی به اصلی

د. تقاطع

پاسخ صحیح:ب

۲۲. نام تابلو مقابل چیست؟



الف. پایان خیابان دو طرفه

ب. وسایل نقلیه مقابل حق تقدم دارند

ج. مسیر ویژه اتوبوس شروع می شود

د. شما نسبت به وسیله نقلیه ای که به طرف شما می آید حق تقدم دارید

پاسخ صحیح:د

۲۳. نام تابلو مقابل چیست؟



الف. عبور وسایل نقلیه موتوری ممنوع

ب. سبقت ممنوع

ج. راه آزاد است

د. فقط موتور سیکلت و اتومبیل سواری می توانند وارد شود

پاسخ صحیح:الف

۲۴. نام تابلو مقابل چیست؟



الف. شروع جدا کننده

ب. جریان همگرا

ج. پایان جدا کننده

د. هدایت مسیر با جدا کننده

پاسخ صحیح: ج

۲۵. نام تابلو مقابل چیست؟



الف. حاشیه نمای راست ۳۰۰ متر

ب. حاشیه نمای چپ ۳۰۰ متر

ج. خروجی از آزادراه ۳۰۰ متر

د. حاشیه و جهت نما (گروهی)

پاسخ صحیح: ج

۲۶. نام تابلو مقابل چیست؟



الف. فقط عبور دوچرخه

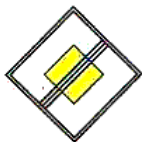
ب. عبور دوچرخه سوار

ج. عبور دوچرخه ممنوع

د. محل عبور دوچرخه

پاسخ صحیح: الف

۲۷. کدامیک از علائم روبه رو شما را از انجام عملی باز می دارد؟



د.



ج.



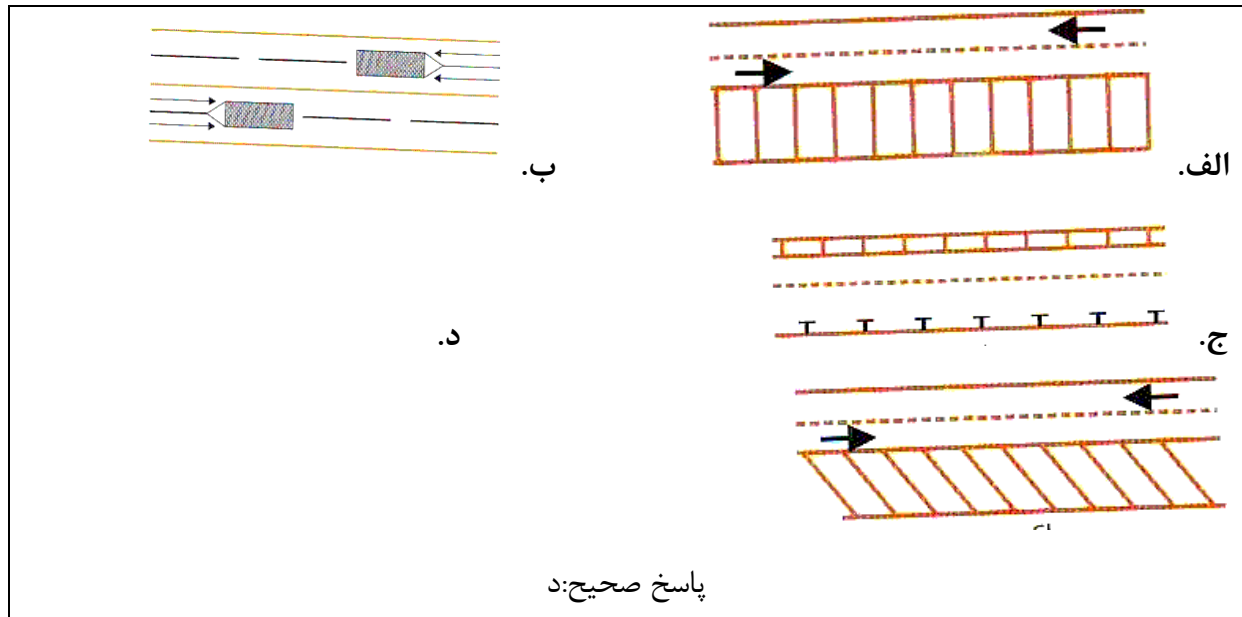
ب.



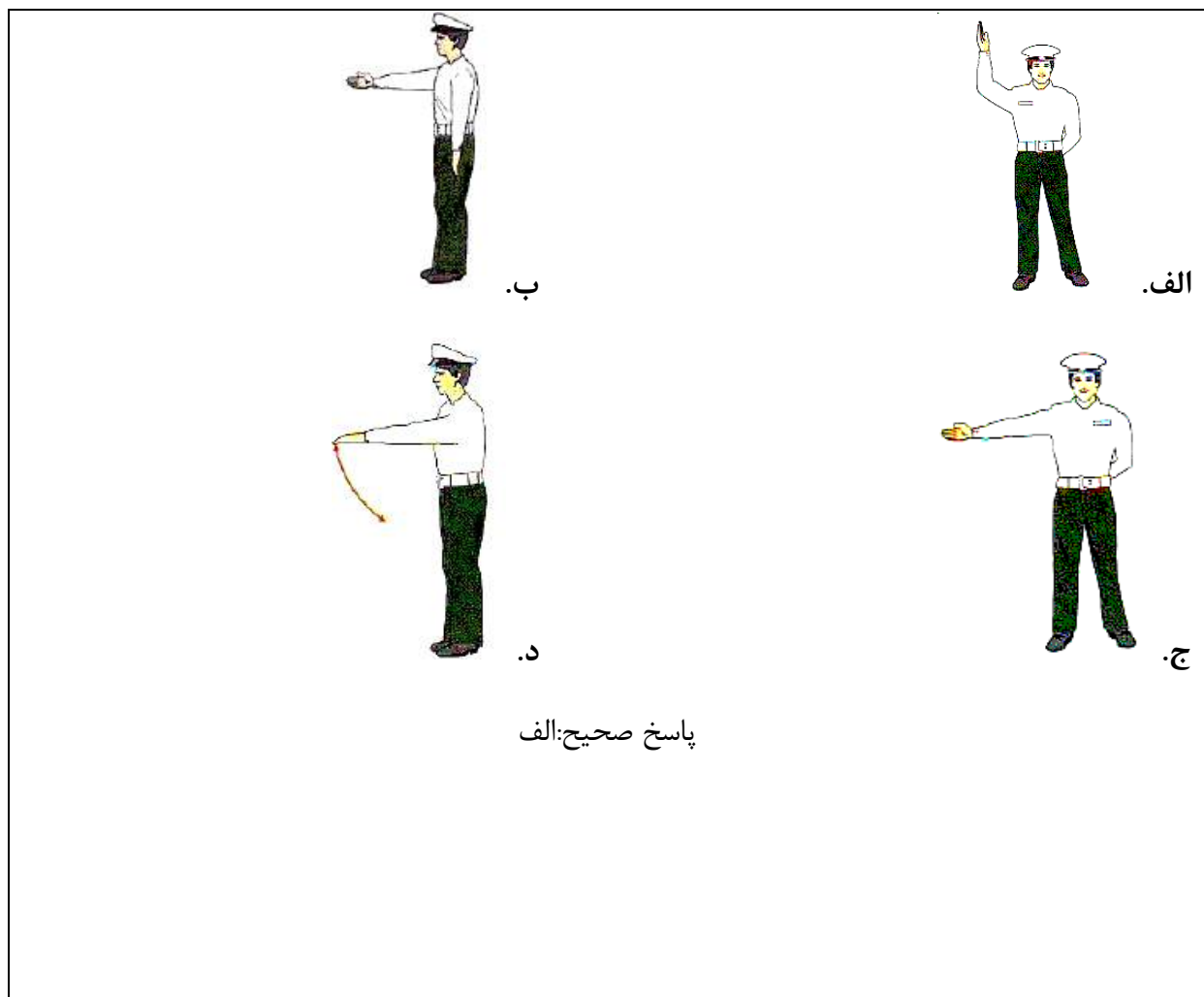
الف.

پاسخ صحیح: الف

۲۸. کدامیک از خطوط زیر نشانگر پارک مورب است؟



۲۹. کدامیک از اشکال زیر به معنی "رانندگان باید در چهار طرف تقاطع پشت خط ایست توقف نمایند" میباشد؟



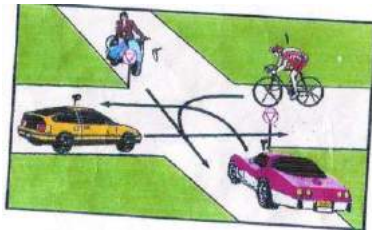
۳۰. در شکل زیر حق تقدم با کدام است؟

ب. ۲-۱-۴-۳

الف. ۳-۲-۱-۴

د. ۱-۳-۲-۴

ج. ۱-۲-۳-۴



پاسخ صحیح: الف



## آزمون آیین نامه راهنمایی و رانندگی ایرانیان - تست درایو

سوالات آزمون آیین نامه مقدماتی شماره: ۴

[www.test-drive.ir](http://www.test-drive.ir)

۱. در مبحث علائم عبور و مرور کدام رنگ مفهوم مناطق تفریحی، فرهنگی و گردشگری را بیان می‌کند؟

الف. قرمز      ب. آبی      ج. قهوه‌ای      د. زرد

پاسخ صحیح: ج

۲. مفهوم تابلوهای مثلثی شکل راهنمایی چیست؟

الف. خطر      ب. احتیاط      ج. ممنوعیت      د. هیچکدام

پاسخ صحیح: ب

۳. اولین مرحله در روشن کردن صحیح خودرو چیست؟

الف. دنده      ب. کلاچ      ج. گاز      د. موارد الف و ب

پاسخ صحیح: ب

۴. ورود و عبور عابرین پیاده در آزادراهها ...؟

الف. آزاد است      ب. ممنوع است      ج. تفاوتی ندارد      د. با احتیاط مجاز است

پاسخ صحیح: ب

۵. علت سر خوردن خودرو در شرایط یخبندان کدام عامل است؟

الف. ترمز شدید      ب. گرفتن کلاچ      ج. سرعت زیاد      د. اصطکاک کم لاستیک با سطح جاده

پاسخ صحیح: د

۶. برای گردش به چپ از خیابان دوطرفه به یکطرفه از چه فاصله‌ای باید راهنما بزنیم؟

الف. ۵۰ متری      ب. ۷۰ متری      ج. ۱۰۰ متری      د. ۱۵۰ متری

پاسخ صحیح: ج

۷. در صورت لغزش قسمت عقب خودرو به هنگام حرکت کدام عمل صحیح است؟

- الف. چرخاندن فرمان برخلاف جهتی که خودرو می‌لغزد      ب. فرمان را با دو دست محکم نگه دارید  
ج. ترمز شدید      د. چرخاندن فرمان در جهتی که خودرو می‌لغزد
- پاسخ صحیح: د

۸. چه عاملی می‌تواند میزان خطر ناشی از آسیب دیدگی گردن را در موقع تصادف کم کند؟

- الف. بستن کمربند      ب. وجود پشته مناسب و تنظیم شده در پشت سر  
ج. ترمزهای ضد قفل      د. موارد الف و ب صحیح است
- پاسخ صحیح: ب

۹. آیا عقب راندن وسیله نقلیه در آزادراهها و بزرگراهها و ورودی و خروجی ...؟

- الف. مجاز است      ب. ممنوع است      ج. با احتیاط میتوان عقب رفت      د. هیچکدام
- پاسخ صحیح: ب

۱۰. منظور از خطوط زیگزاک در حاشیه راه چیست؟

- الف. ایستادن روی آن ممنوع است      ب. پارک کردن آزاد است  
ج. پارک کردن برای مدت کوتاهی مجاز است      د. با سرعت ۲۰ کیلومتر برانید
- پاسخ صحیح: الف

۱۱. در مبحث رنگها و علائم عبور و مرور راهنمایی مسیر در بزرگراهها با کدام رنگ نشان داده میشود؟

- الف. سبز      ب. قرمز      ج. آبی      د. زرد
- پاسخ صحیح: الف

۱۲. سبقت گرفتن در چه مواردی ممنوع نمی باشد؟

- الف. در خطوط طولی ممتد      ب. در خطوط طولی مقطع      ج. در خروجی بزرگراهها      د. هیچکدام
- پاسخ صحیح: ب



۱۳. حداقل فاصله طولی ایمن در راههای پوشیده از برف به نسبت راههای خشک چه اندازه است؟

- الف. دوبرابر      ب. سه برابر      ج. چهار برابر      د. شش برابر
- پاسخ صحیح: ب

۱۴. سبقت گرفتن در سر پیچ های تند و سربالایی ها به چه علت ممنوع است؟

- الف. کم بودن میدان دید راننده      ب. ترافیک سنگین
- ج. تنظیم نبودن فرمان      د. همه موارد
- پاسخ صحیح: الف

۱۵. سبقت گرفتن از سمت راست وسیله نقلیه ای که در حال گردش به چپ می باشد ...؟

- الف. ممنوع است      ب. با احتیاط میتوان عبور کرد
- ج. آزاد است      د. با فرمان پلیس میتوان عبور کرد
- پاسخ صحیح: ج

۱۶. مفهوم رنگ قرمز در علائم عبور و مرور چیست؟

- الف. احتیاط      ب. عبور      ج. هشدار      د. منع کننده یا ایست
- پاسخ صحیح: د

۱۷. کدامیک از موارد زیر جز نقص فنی خودرو محسوب نمیشود؟

- الف. کم بودن باد تایرها      ب. نداشتن چراغ خطر
- ج. شکسته بودن شیشه      د. هیچکدام
- پاسخ صحیح: الف

۱۸. حق تقدم در تقاطع ها و میادین چگونه مشخص میشود؟

- الف. با استفاده از علائم      ب. با فرمان پلیس      ج. با نظر رانندگان      د. الف و ب
- پاسخ صحیح: د

۱۹. در هنگام پارک دوبل معمولاً فاصله خودرو از جدول چند سانتیمتر میباشد؟

الف. ۲۵ سانتیمتر      ب. ۳۰ سانتیمتر      ج. ۴۰ سانتیمتر      د. ۴۵ سانتیمتر

پاسخ صحیح: د

۲۰. در میدان حق تقدم با وسیله نقلیه ای است که ...؟

الف. از سمت راست حرکت می کند      ب. در داخل میدان در حال عبور میباشد

ج. مستقیم حرکت میکند      د. هیچکدام

پاسخ صحیح: ب

۲۱. نام تابلو مقابل چیست؟



الف. خیابان اصلی

ب. راه اصلی

ج. آزادراه

د. جاده اصلی

پاسخ صحیح: ج

۲۲. نام تابلو مقابل چیست؟



الف. عبور بار با وزن ۳ و نیم تن ممنوع

ب. عبور بار با ارتفاع بیش از ۳ و نیم متر ممنوع

ج. رعایت حد فاصله      د. عبور با عرض بیش از ۳ و نیم متر ممنوع

پاسخ صحیح: ب

۲۳. نام تابلو مقابل چیست؟



الف. توقف ممنوع

ب. ایستادن ممنوع

ج. منطقه ایستادن ممنوع

د. عبور ممنوع

پاسخ صحیح: ب

۲۴. نام تابلو مقابل چیست؟



الف. شروع جداکننده

ب. جریان همگرا

۳. پایان جداکننده

د. هدایت مسیر با جدا کننده

پاسخ صحیح: ب

۲۵. نام تابلو مقابل چیست؟



الف. محل عبور اطفال

ب. مدرسه

ج. منطقه عبور عابران

د. گذرگاه پیاده

پاسخ صحیح: ب

۲۶. نام تابلو مقابل چیست؟



الف. فقط عبور دوچرخه

ب. عبور دوچرخه سوار

ج. عبور دوچرخه ممنوع

د. محل عبور دوچرخه

پاسخ صحیح: ج

۲۷. تابلو راهنمایی که فرمان صادر میکنند معمولا به چه شکلی میباشند؟



د.



ج.



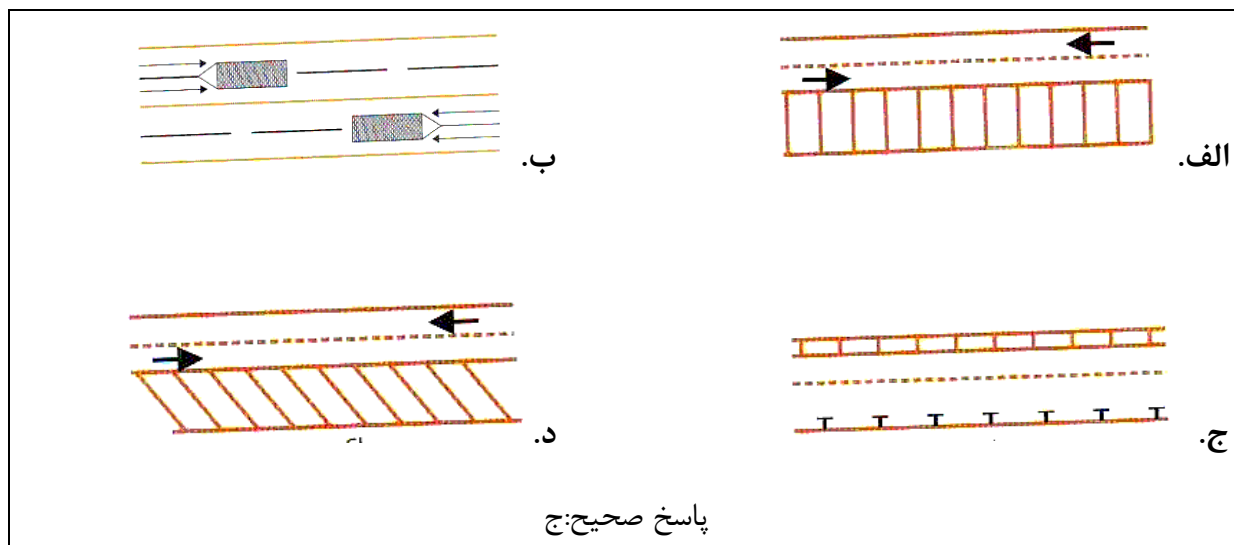
ب.



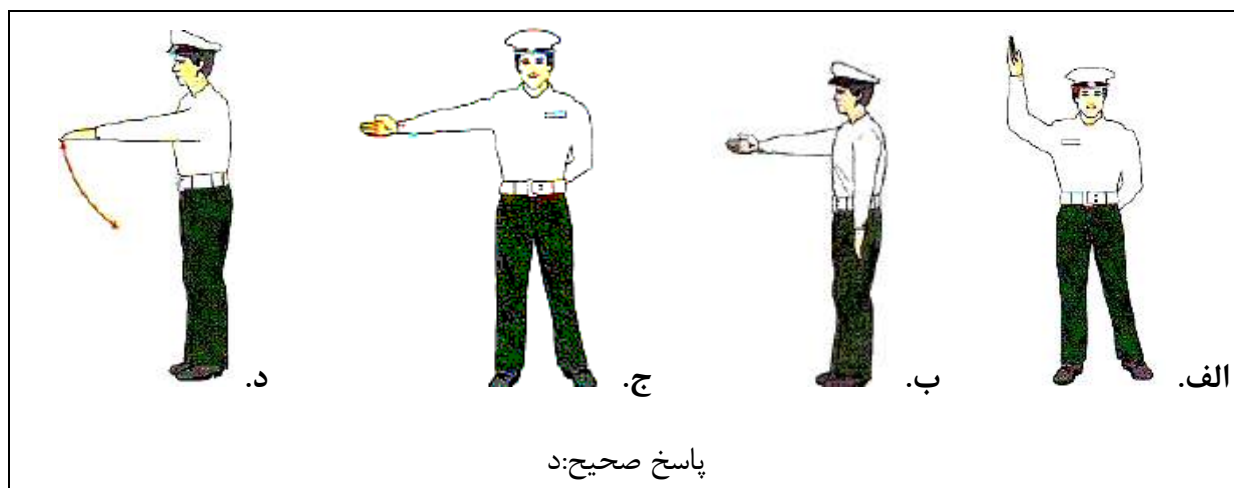
الف.

پاسخ صحیح: د

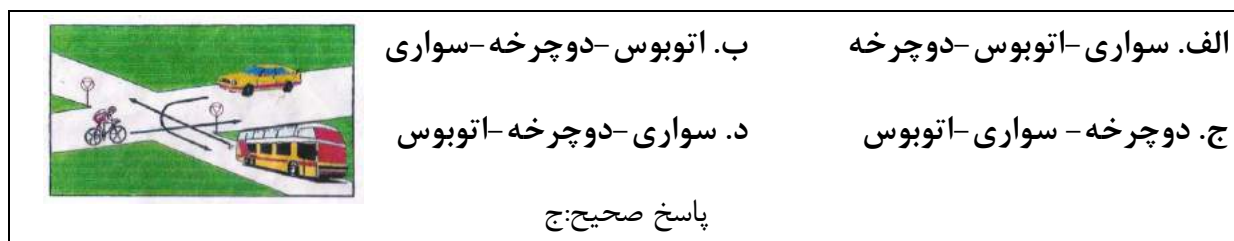
۲۸. کدامیک از خطوط زیر نشانگر پارک افقی است؟



۲۹. کدامیک از اشکال زیر بمعنی "سرعت خود را کاهش دهید" است؟



۳۰. در شکل زیر حق تقدم با کدام است؟





آزمون آیین نامه راهنمایی و رانندگی ایرانیان - تست درایو

سوالات آزمون آیین نامه مقدماتی شماره: ۵

[www.test-drive.ir](http://www.test-drive.ir)

۱. در کدامیک از محل‌های زیر توقف اتومبیل ایجاد خطر کرده و مانع عبور سایرین خواهد شد؟

الف. مقابل درب ورودی ساختمانها

ب. در حریم ایستگاه اتوبوس

ج. در حریم تقاطع ها و گذرگاه عابرین پیاده

د. تمام موارد

پاسخ صحیح: د

۲. تنها موقعی می توانید از تلفن همراه استفاده کنید که ؟

الف. در یک محل و مکان امن توقف کرده باشید

ب. وسیله نقلیه شما دارای دنده اتوماتیک باشید

ج. نیاز به انجام یک تلفن اضطراری باشید

د. فرمان رابایک دست بگیرید اتومبیل راهنمایت کنید

پاسخ صحیح: الف

۳. کدام مورد زیر هنگام رانندگی در شب احتمال خطر را افزایش می دهد؟

الف. محدودیت میدان دید راننده و خیره شدن به آن

ب. استفاده از چراغها

ج. استفاده از سایبان

د. استفاده از بوق

پاسخ صحیح: الف

۴. در شرایط یخبندان مسافت توقف ممکن است چند برابر افزایش یابد؟

الف. ۵ برابر

ب. ۲ برابر

ج. ۱۰ برابر

د. ۳ برابر

پاسخ صحیح: ج

۵. اگر مجبور شوید در مه رانندگی کنید کدام عامل زیر را باید بازدید نمود؟

الف. اطمینان از سالم بودن بخاری

ب. اطمینان از اینکه در اتومبیل تابلو احتیاط دارید

ج. کنترل و بازدید باطری

د. بازدید چراغها و اطمینان از تمیز بودن شیشه ها

پاسخ صحیح: د

۶. کم بودن باد لاستیک بر کدام مورد زیر اثر می گذارد؟

- الف. تعویض دنده  
ب. ترمز کردن و هدایت کار فرمان  
ج. نیروی موتور  
د. گرم شدن موتور  
پاسخ صحیح: ب

۷. اگر در هنگام رانندگی متوجه بوی شدید بنزین شدید چه اقدامی انجام می دهید؟

- الف. نگران نباشید زیرا بو ناشی از سوخت بنزین است  
ب. با سرعت کم حرکت کنید  
ج. توقف کرده و مسئله را بررسی می کنید  
د. هر لحظه باید انتظار داشت که بوی بنزین از بین برود  
پاسخ صحیح: ج

۸. مابین شما و اتومبیل جلویی فاصله دو ثانیه ای مناسب خواهد بود چنانچه؟

- الف. هوا مرطوب و جاده خیس باشد  
ب. هوا بارانی باشد  
ج. هوا مه آلود باشد  
د. وضعیت راه خشک و هوا خوب باشد  
پاسخ صحیح: د

۹. با سرعت مجاز در رانندگی هستید اتومبیل پشت سر شما در حال سبقت است آیا می توانید مانع سبقت او شوید؟

- الف. نه مگر اینکه انجام این کار خطر باشد  
ب. بله برای اینکه راننده مذکور کار خطرناکی انجام می دهد  
ج. نه به هیچ وجه  
د. بله برای اینکه راننده مذکور قانون شکنی می کند  
پاسخ صحیح: ج

۱۰. آیا رانندگان وسایل نقلیه امدادی در هنگام ماموریت مجاز به عبور از محل ممنوع می باشند؟

- الف. در صورتی که موجب تصادف نشوند  
ب. بستگی به شرایط دارد  
ج. در هر شرایطی مجاز هستند  
د. به علت خطرات موجود نمی توانند عبور ممنوع بروند  
پاسخ صحیح: د

۱۱. به دنبال یک کامیون بر روی جاده خیس حرکت می کنید پاشیدن آب باران دید را مختل میکند چه کار باید انجام دهید؟

- الف. از کامیون فاصله می گیرید تا جایی که بهتر بتوانید ببینید  
ب. نزدیک به کامیون حرکت کنید  
ج. در حاشیه حرکت کنید تا از پاشیدن آب در امان باشید  
د. سرعت گرفته و سبقت می گیرید
- پاسخ صحیح: الف

۱۲. پوشیدن کفش های مناسب به هنگام رانندگی بسیار اهمیت دارد علت این امر چیست؟

- الف. به منظور ممانعت از ساییدگی لاستیک پدالها  
ب. به منظور تعویض سریع دنده  
ج. به منظور حفظ کنترل صحیح بر روی پدالها  
د. به منظور راحتی پیاده روی در مواقع نقص فنی
- پاسخ صحیح: ج

۱۵. راننده اتومبیلی که به چهارراه می رسد چکار باید انجام دهد؟

- الف. با همان سرعت به مسیر ادامه دهد  
ب. باید آهسته رانده و جهت توقف آماده شود  
ج. بوق بزند  
د. به آرامی حرکت کرده و عبور کند
- پاسخ صحیح: ب

۱۶. حداکثر سرعت در جاده های اصلی (برون شهری)؟

- الف. در روز ۸۰ کیلو متر در شب ۹۰ کیلومتر  
ب. در روز ۱۱۰ کیلومتر در شب ۹۰ کیلومتر  
ج. در روز ۹۵ کیلومتر در شب ۸۵ کیلومتر  
د. در روز ۹۰ کیلومتر در شب ۸۵ کیلومتر
- پاسخ صحیح: ج

۱۷. شما قصد دارید رانندگی کنید ولی احساس بیماری می کنید چکار باید انجام دهید؟

- الف. قبل از رانندگی داروی مناسبی بخورید  
ب. در صورت امکان طول سفر را کوتاه کنید  
ج. شب زود بخوابید  
د. رانندگی نکنید
- پاسخ صحیح: د

۱۸. در جاده ای در حال حرکت هستید احساس خستگی می کنید چکار می کنید؟

الف. به رانندگی ادامه می دهید ولی آهسته برانید

ب. سفر را هر چه سریعتر به انتها برسانید

ج. در شانه خاکی جاده توقف نمایید

د. در اولین خروجی از جاده خارج شده استراحت کنید یا یک لیوان چایی بنوشید

پاسخ صحیح: د

۱۹. راننده اتومبیلی که به گذرگاه راه آهن میرسد چکار باید انجام دهد؟

الف. قبل از مانع توقف کند

ب. با سرعت عبور کند

ج. با دقت و مراقبت عبور کند

د. چراغهای خطر را روشن کند

پاسخ صحیح: د

۲۰. کدام مورد است که به هنگام سبقت گرفتن از آنها باید فضای بیشتری در نظر گرفت؟

الف. وانت و تراکتور

ب. موتورسیکلت و دوچرخه

ج. ماشین های مجاور و وسایل نقلیه سنگین

د. ماشین های حامل مسافر و ماشین های حامل بار

پاسخ صحیح: ب

۲۱. نام تابلو مقابل چیست؟



الف. تقاطع راه آهن

ب. تقاطع راه آهن بدون راه بند

ج. تقاطع مسیر قطار شهری

د. تقاطع راه آهن با قطار شهری

پاسخ صحیح: ج

۲۲. نام تابلو مقابل چیست؟



الف. رعایت حق تقدم

ب. به تابلو رعایت حق تقدم نزدیک می شویم

ج. عبور آزاد

د. عبور با رعایت حق تقدم

پاسخ صحیح: ب



۲۳. نام تابلو مقابل چیست؟



الف. عبور تراکتور ممنوع

ب. عبور وسایل نقلیه موتوری ممنوع

ج. عبور خودرو کشاورزی ممنوع

د. منطقه کشاورزی

پاسخ صحیح: ج

۲۴. نام تابلو مقابل چیست؟



الف. شروع جدا کننده

ب. جریان همگرا

ج. پایان جدا کننده

د. هدایت مسیر با جدا کننده

پاسخ صحیح: د

۲۵. نام تابلو مقابل چیست؟



الف. محل عبور اطفال

ب. مدرسه

ج. منطقه عبور عابران

د. گذرگاه پیاده

پاسخ صحیح: ب

۲۶. نام تابلو مقابل چیست؟



الف. فقط عبور دوچرخه

ب. عبور دوچرخه سوار

ج. عبور دوچرخه ممنوع

د. محل عبور دوچرخه

پاسخ صحیح: ب

۲۷. کدام تابلو بمعنی ممنوع بودن عبور وسایل نقلیه موتوری می باشد؟



د.



ج.




ب.



الف.

پاسخ صحیح: ب

۲۸. خط زیر نشانگر چیست؟



الف. پارک کردن بصورت افقی

ب. عبور کردن و ایستادن روی آن آزاد است

ج. عبور کردن و ایستادن روی آن ممنوع

د. خط مخصوص عبور پیاده

پاسخ صحیح: ج

۲۹. مفهوم شکل زیر چیست؟



ب. فقط به راست گردش کنید

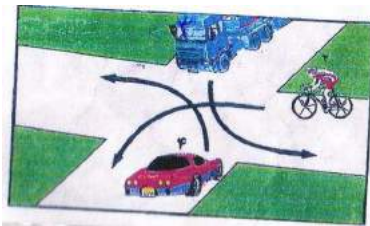
الف. پشت خط توقف بایستید

د. مقابل پلیس بایستید

ج. فقط به چپ گردش کنید

پاسخ صحیح: الف

۳۰. در شکل زیر حق تقدم با کدام است؟



ب. کامیون - دوچرخه - سواری

الف. سواری - کامیون - دوچرخه

د. سواری - دوچرخه - کامیون

ج. دوچرخه - سواری - کامیون

پاسخ صحیح: ب



## آزمون آیین نامه راهنمایی و رانندگی ایرانیان - تست درایو

سوالات آزمون آیین نامه مقدماتی شماره: ۶

[www.test-drive.ir](http://www.test-drive.ir)

۱. بر روی جاده خیس ترمزی می کنید وسیله شما شروع به لغزش می کند اولین کاری که انجام می دهید چیست؟

الف. ترمز را کاملاً آزاد می کنید

ب. به سرعت ترمز دستی را بکشید

ج. پای خود را با شدت بیشتری بر ترمز فشار دهید

د. پای خود را بر روی کلاچ بگذارید

پاسخ صحیح: الف

۲. ساییدگی نا متوازن یا بیش از حد لاستیک ناشی از کدام موارد زیر است؟

الف. میزان نبودن باد چرخها

ب. سرعت بیش از حد

ج. تنظیم نبودن فرمان عدم تنظیم چرخها و ترمزها

د. تاب داشتن گاردان

پاسخ صحیح: ج

۳. کنترل باد لاستیک چرخها چه زمانی باید انجام شود؟

الف. بعد از طی مسافت طولانی

ب. زمانی که لاستیک ها سرد هستند

ج. بعد از یک رانندگی با سرعت بالا

د. زمانیکه لاستیک ها داغ هستند

پاسخ صحیح: ب

۴. در چه مواردی می توانید به رانندگان و عابرین با چرخ علامت دهید؟

الف. جهت اعلام اینکه به آنها راه داده اید

ب. جهت اعلام اینکه دنده عقب می روید

ج. جهت اعلام اینکه حق تقدم با شماست

د. جهت اعلام حضور با آنها

پاسخ صحیح: د

۵. کدامیک از موارد زیر عامل تصادف با اتومبیل جلویی است؟

الف. عدم توجه کافی به راه و نزدیک شدن بیش از حد به اتومبیل جلویی

ب. تغییر نور چراغها

ج. عبور عابر پیاده در مناطق شهری و شلوغ

د. تراکم وسایل نقلیه

پاسخ صحیح: الف

۶. اتومبیلی ناگهانی از یک فرعی بیرون می آید چکار میکنید؟

الف. چراغ داده و پشت سر او قرار می گیرید

ب. با سرعت از کنارش گذشته و بوق می زنید

ج. از سرعت خود کاسته و آماده توقف می شوید

د. با شتاب از کنار او عبور می کنید

پاسخ صحیح: ج

۷. جهت رانندگی خوب از چه فاصله ای پلاک اتومبیلها را بخوانید؟

الف. ۱۰ متری

ب. ۱۵ متری

ج. ۲۰ متری

د. ۲۵ متری

پاسخ صحیح: ج

۸. وظیفه رانندگان در برخورد با وسیله نقلیه امدادی که دستگاههای خبری و صوتی را به کار

انداخته پیست؟

الف. در کنار وسیله نقلیه حرکت کنند

ب. باید به منتهی الیه سمت راست هدایت و عند الزوم تا گذاشتن وسیله نقلیه امدادی توقف کنند

ج. به مسیر خود ادامه دهند

د. به سمت پیچ متمایل شوند

پاسخ صحیح: ب

۹. چه عاملی میزان خطر ناشی از آسیب دیدگی گردن را در مواقع تصادف کم می کند؟

الف. صندلی مجهز به بالشک هوا

ب. ترمزهای ضد قفل

ج. فرمان مقابل انعطاف

د. وجود پشتی مناسب پشت سر و تنظیم شده

پاسخ صحیح: د

۱۰. شما در اتومبیل خود دو کودک دارید چه کسی مسئولیت دارد که کودکان کمربند ایمنی را بسته باشند؟

الف. کودکان      ب. والدین بچه ها      ج. راننده      د. مسافری که صندلی جلو نشسته

پاسخ صحیح: ج

۱۱. در چهار راهی با دید کم در حال حرکت هستید چکار می کنید؟

الف. در حالیکه طرفین را نگاه می کنید به آهستگی حرکت کنید  
ب. در حالیکه طرف راست را نگاه می کنید کاملاً آهسته حرکت کنید  
ج. آماده باشید که به سرعت حرکت کنید  
د. بدون توجه به طرفین به حرکت ادامه دهید

پاسخ صحیح: الف

۱۲. چه عاملی موجب بهم خوردن ترمز در رانندگی می شود؟

الف. استفاده از شیشه شور اتومبیل      ب. نگاه کردن به آینه انومبیل  
ج. نگاه کردن به طرف اتومبیل      د. نگاه کردن به نقشه و گوش کردن به موزیک و استفاده از موبایل

پاسخ صحیح: د

۱۳. هنگامیکه از نزدیکی مدرسه ای عبور می کنید احتمال عبور کودکان وجود دارد چه اقدامی انجام می دهید؟

الف. با بوق زدن مداوم آنان را آگاه می سازید  
ب. همیشه سرعت مناسبی داشته باشید و پیش بینی خطرات جانبی را بنمایید  
ج. با روشن کردن چراغ به آنها هشدار می دهید  
د. قبل ورود کودکان به سواره رو با سرعت عبور می کنید

پاسخ صحیح: ب

۱۴. مصرف مشروبات الکلی چه تاثیری در رانندگی دارد؟

- الف. قدرت واکنش را کم کرده هماهنگی را کاهش داده و تشخیص سرعت را مختل می کند  
ب. قدرت واکنش را زیاده‌تر کرده هماهنگی را کاهش داده و تشخیص سرعت را مختل می کند  
ج. اعتماد به نفس را کم کرده قدرت واکنش را زیاده‌تر می کند  
د. اعتماد به نفس را کم کرده تشخیص قدرت را زیاده‌تر می کند
- پاسخ صحیح: الف

۱۵. در مواقعی که اتومبیل خود را پارک می کنید نباستی....؟

- الف. در جاده اصلی پارک کنید  
ب. در دنده بگذارید  
ج. ترمز دستی را بکشید  
د. مانع سایر استفاده کنندگان از راه شوید
- پاسخ صحیح: د

۱۶. در آزادراهها میخهای زرد رنگ در چه محلی دیده می شود؟

- الف. بین شانه خاکی و باند اصلی  
ب. بین هر دو باند مجاور  
ج. در باند کاهش و افزایش سرعت  
د. بین محل خالی وسط آزادراه و باند اصلی
- پاسخ صحیح: د

۱۷. فاصله اتومبیل ها در جاده یخبندان با سرعت ۳۰ کیلومتر در ساعت چند اتومبیل می باشد؟

- الف. ۶  
ب. ۱۲  
ج. ۱۸  
د. ۲۴
- پاسخ صحیح: ب

۱۸. نام تابلو مقابل چیست؟



- الف. ایست ممنوع  
ب. توقف ممنوع  
ج. توقف در روزهای فرد هفته ممنوع  
د. پایان منطقه توقف ممنوع
- پاسخ صحیح: ب

۱۹. نام تابلو مقابل چیست؟



الف. رعایت حق تقدم

ب. به تابلو رعایت حق تقدم نزدیک می شوید

ج. خطر

د. عبور با رعایت حق تقدم

پاسخ صحیح: الف

۲۰. نام تابلو مقابل چیست؟



الف. عبور گاری ممنوع

ب. عبور وسایل نقلیه موتوری ممنوع

ج. عبور کلیه وسایل نقلیه ممنوع

د. تمام موارد

پاسخ صحیح: ج

۲۱. نام تابلو مقابل چیست؟



الف. جاده دو طرفه

ب. فقط عبور مستقیم مجاز است

ج. عبور از هر دو سمت مجاز است

د. حق تقدم عبور با وسیله نقلیه مقابل است

پاسخ صحیح: د

۲۲. نام تابلو مقابل چیست؟



الف. تقاطع

ب. تقاطع فرعی به اصلی

ج. تقاطع Y شکل

د. ورود به راه اصلی

پاسخ صحیح: الف

۲۳. نام تابلو مقابل چیست؟



الف. راه لغزنده

ب. خطر سقوط در آب

ج. شانه خطرناک

د. سر بالایی خطرناک

پاسخ صحیح: ج

۲۴. کدام تابلو به معنی جریان همگرا می باشد؟



د.



ج.



ب.



الف.

پاسخ صحیح: ج

۲۵. این فلش نشانگر چیست؟



ب. حق تقدم عبور

الف. جهت نما برای راهنمایی رانندگان

د. توقف دوبله منقطع

ج. خط توقف

پاسخ صحیح: الف

۲۶. مفهوم شکل زیر چیست؟



ب. فقط به راست گردش کنید

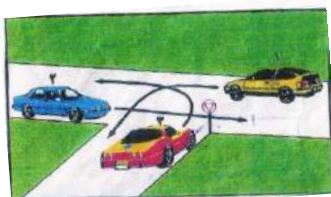
الف. پشت خط توقف بایستید

د. قصد متوقف کردن دارد

ج. فقط به چپ گردش کنید

پاسخ صحیح: د

۲۷. در شکل زیر حق تقدم با کدام است؟



ب. زرد- آبی- قرمز

الف. زرد- قرمز- آبی

د. آبی- قرمز- زرد

ج. آبی- زرد- قرمز

پاسخ صحیح: ج



۲۸. گواهینامه را بنا به درخواست چه کسی باید ارائه نمود؟

الف. پلیس ترافیک

ب. پس از وقوع حادثه به فرد دیگر تصادف

ج. بازرس اتومبیل

د. مامور ترافیک

پاسخ صحیح: الف

۲۹. در جاده اتومبیل شما دچار نقص گردید برای هشدار دیگران تابلوی احتیاط را در چه فاصله ای از اتومبیل خود قرار می دهید؟

الف. ۵ متری

ب. ۲۵ متری

ج. ۷۰ متری

د. ۱۰۰ متری

پاسخ صحیح: ج

۳۰. نحوه بارگیری تریلرها به نحوی باید باشد که: ؟

الف. بارها به صورت متوازن توزیع و خوب بسته شود

ب. بارها عمدتاً در نزدیکی چرخها بارگیری شود

ج. بار عمدتاً در بخش عقب قرار می گیرد

د. بارها در بخش جلوی تریلر قرار گیرد

پاسخ صحیح: الف



آزمون آیین نامه راهنمایی و رانندگی ایرانیان-تست درایو

سوالات آزمون آیین نامه مقدماتی شماره: ۷

[www.test-drive.ir](http://www.test-drive.ir)

۱. آیا اجازه دادن به کودکان برای نشستن در پشت صندلی های عقب اتومبیل های استیشن صحیح است؟

الف. بله اگر بتوانید آنها را ببینید

ب. بله اگر زیر ۱۱ سال باشد

ج. خیر در هیچ شرایطی

د. خیر مگر صندلی های دیگر پر باشد

پاسخ صحیح: ج

۲. هوا طوفانی است و شما پشت سر موتور قرار دارید و قصد سبقت دارید چکار می کنید؟

الف. بلافاصله سبقت می گیرید

ب. کاملاً فاصله می گیرید

ج. به موازات موتور سوار حرکت می کنید

د. به موتور سوار نزدیک می شوید

پاسخ صحیح: ب

۳. در حال رانندگی لاستیک اتومبیل می ترکد چکار می کنید؟

الف. جهت توقف اتومبیل از دنده معکوس استفاده می کنید

ب. با دست علامت توقف دهید و از دنده معکوس استفاده کنید

ج. به آرامی کنار کشیده و در حاشیه توقف نموده فرمان را برای کنترل وسیله نقلیه به شدت و محکم می گیرید

د. با شدت هر چه تمام تر ترمز کنید

پاسخ صحیح: ج

۴. در راه دچار حادثه شده اید تابلوی احتیاط را در چه فاصله ای قرار می دهید؟

الف. ۱۰ متری

ب. ۲۰ متری

ج. ۵۰ متری

د. ۷۰ متری

پاسخ صحیح: د

۵. چه موقع از چراغ هشدار دهنده خطر استفاده می کنید؟

الف. زمانی که در تاریکی بدون چراغ بزرگ حرکت می کنید

ب. زمانی که برای خرید بر روی خطوط زرد دوبل توقف کرده اید

ج. زمانی که به صورت موقت و یا اضطراری توقف کرده و ترافیک را متوقف نمودید

د. زمانی که به آرامی رانندگی می کنید و به دنبال آدرسی می گردید

پاسخ صحیح: ج

۶. موتور سواران نسبت به رانندگان دیگر آسیب پذیرترند برای اینکه.....؟

الف. با سرعت بیشتری پیچها را طی می کنند      ب. تغییرات سطح راه بر روی آنها تاثیرات بیشتری دارد

ج. نسبت به اتومبیل شتاب بیشتری می گیرد      د. سرعت آنها از اتومبیلها سریعتر است

پاسخ صحیح: ب

۷. مفهوم رنگ سبز در علائم رانندگی چیست؟

الف. منع کننده یا ایست      ب. هشدارهای عمومی

ج. راهنما برای مناطق تفریحی      د. حرکات مجاز

پاسخ صحیح: د

۸. مفهوم شکل پنج ضلعی در علائم چیست؟

الف. علائم هشدار برای مدرسه و دبیرستان      ب. عائم برای تابلوهای دستوری

ج. علائم دستوری بازدارنده      د. برای تابلوهای ایست

پاسخ صحیح: الف

۹. در کدام موقعیت زیر باید اتومبیل را متوقف کنید؟

الف. در حریم تقاطع      ب. در گذرگاه

ج. در تقاطعهای که دارای خط دوبل منقطع باشد

د. زمانی که تصادف منجر به جرح و یا فوت شده باشد یا پشت چراغ قرمز یا زمانی که پلیس فرمان داده باشد

پاسخ صحیح: د

۱۰. برای کدام مورد زیر چراغهای هشداردهنده باید روشن باشد؟

الف. زمانیکه لازم است در پیاده رو پارک کنید

ب. زمانیکه به صورت دوبل پارک کنید

ج. زمانیکه نیاز به جلب توجه سایر رانندگان دارید

د. زمانیکه در بزرگراه سرعت خود را برای خطری که در جلوی شما قرار دارد کم می کنید

پاسخ صحیح: د

۱۱. بعد از ورود به میدان قصد ادامه مسیر مستقیم دارید چکار می کنید؟

الف. به هیچ وجه علامت نمی دهید

ب. زمانیکه به میدان نزدیک می شوید راهنمای راست بزنید

ج. با توجه به چراغ راهنما و حق تقدم حرکت کرده و از میدان خارج شوید

د. زمانیکه به میدان نزدیک می شوید راهنمای چپ بزنید

پاسخ صحیح: ج

۱۲. یک چراغ قرمز راهنمایی به معنی ...؟

الف. باید پشت خط ایست توقف کرده و منتظر باشید

ب. شما باید بایستید مگر بخواهید گردش به چپ کنید

ج. چنانچه می توانید بی خطر ترمز کنید بایستید

د. با احتیاط عبور کنید

پاسخ صحیح: الف

۱۳. دلیل استفاده از دنده سنگین در شرایط بد جوی چیست؟

الف. در موقع ترمز از سرعت کمتری برخوردار باشید

ب. جهت ممانعت از لغزش چرخها

ج. بدلیل اینکه دور زیاد موتور باعث لغزش چرخها نشود

د. در صورت لغزش استفاده از دنده پایین تر امکان پذیر باشد

پاسخ صحیح: ب

۱۴. رانندگان وسایل نقلیه امدادی در چه مواردی مجاز به استفاده از سوت خطر آژیر و چراغ گردان می باشند؟

الف. در همه مواقع

ب. به دلخواه راننده

ج. برای انجام ماموریت‌های مهم و فوری

د. در هنگام مواجهه با خطر

پاسخ صحیح: ج

۱۵. فاصله اتومبیلها در جاده خشک با سرعت ۷۵ کیلومتر در ساعت چند اتومبیل می باشد؟

الف. ۲

ب. ۳

ج. ۴

د. ۵

پاسخ صحیح: د

۱۶. نام تابلو مقابل چیست؟



الف. جاده دوطرفه

ب. عبور دو طرف ممنوع

ج. عبور از مقابل ممنوع

د. حق تقدم عبور با شما

پاسخ صحیح: الف

۱۷. نام تابلو مقابل چیست؟



الف. سبقت ممنوع

ب. تراکم ترافیک

ج. خیابان ۳ بانده

د. موارد الف و ب

پاسخ صحیح: ب

۱۸. نام تابلو مقابل چیست؟



الف. عبور اطفال


ب. عبور عابر پیاده

ج. فقط عبور پیاده

د. گذرگاه عابر پیاده

پاسخ صحیح: د

۱۹. نام تابلو مقابل چیست؟



الف. راه اصلی

ب. آزادراه

ج. خیابان اصلی

د. عبور وسایل نقلیه با محموله خطرناک

پاسخ صحیح: ج

۲۰. نام تابلو مقابل چیست؟



الف. حداکثر سرعت ۳۰ کیلومتر


ب. حداقل سرعت ۳۰ کیلومتر

ج. به تابلو سرعت ۳۰ کیلومتر نزدیک میشوید

د. سرعت توصیه شده

پاسخ صحیح: ب

۲۱. نام تابلو مقابل چیست؟



الف. راه یکطرفه

ب. خیابان یکطرفه

ج. تابلوی جهت نما

د. فقط عبور مستقیم مجاز

پاسخ صحیح: د

۲۲. کدام تابلو بمعنی دور زدن ممنوع میباشد؟



الف.



ب.



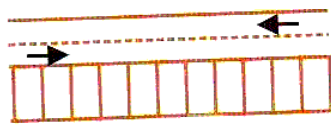
ج.



د.

پاسخ صحیح: ج

۲۳. مفهوم شکل زیر چیست؟



الف. پارک افقی      ب. پارک مورب

ج. پارک عمودی      پارک توقف دوبله

پاسخ صحیح: ج

۲۴. مفهوم شکل زیر چیست؟



الف. اتومبیل‌های که در سمت جلو و عقب مامور قرار دارند بمنزله ایست است

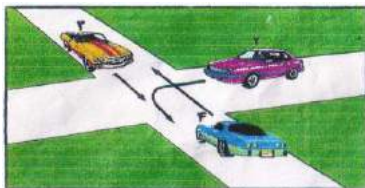
ب. اتومبیل‌هایی که در سمت جلو و عقب مامور قرار دارند فقط به راست گردش کنید

ج. اتومبیل‌هایی که در سمت جلو و عقب مامور قرار دارند فقط به چپ گردش کنید

د. مقابل پلیس بایستید

پاسخ صحیح: الف

۲۵. در شکل زیر حق تقدم با کدام است؟



الف. زرد-آبی-بنفش      ب. زرد آبی با هم-بنفش

ج. آبی-زرد-بنفش      د. زرد-بنفش-آبی

پاسخ صحیح: د

۲۶. هر باری که روی باربند سقف اتومبیل حمل می شود باید ...؟

الف. زمانی که کاملاً نیاز باشد حمل شود      ب. محکم بسته شود

ج. تا حد امکان سبک باشد      ج. با یک پوشش پلاستیکی پوشیده شود

پاسخ صحیح: ب

۲۷. برای ترمز کردن کدام قسمت پا را بر روی پدال قرار می دهیم؟

الف. پاشنه پا      ب. کف پا      ج. سینه پا      د. همه موارد

پاسخ صحیح: ج

۲۸. کدام معابر جزو جاده های برون شهری به حساب می آید؟

الف. آزادراه      ب. بزرگراه      ج. جاده ها      د. همه موارد

پاسخ صحیح: د

۲۹. در خیابان شلوغ جهت دور زدن بی خطرترین شیوه کدام است؟

الف. از فردی بخواهید ترافیک را نگه دارد تا شما دور بزنید

ب. خیابان فرعی خلوتی را جهت دور زدن پیدا کنید

ج. به داخل خیابان فرعی رفته و به صورت دنده عقب وتارد خیابان شوید

د. در همان خیابان شلوغ اقدام به دور زدن نمایید

پاسخ صحیح: ب

۳۰. در کدام محل سبقت ممنوع است؟

الف. تقاطعها، پلها، تونلها، سربالایی، پیچ تند و محلهایی که با نصب و خط کشی ممنوع است

ب. خیابانهای دوطرفه تقاطعها و پلها

ج. در بزرگراهها و خیابانهای دوطرفه

د. در خیابانهای یک طرفه

پاسخ صحیح: الف





آزمون آیین نامه راهنمایی و رانندگی ایرانیان - تست درایو

سوالات آزمون آیین نامه مقدماتی شماره: ۸

[www.test-drive.ir](http://www.test-drive.ir)

۱. در یک تقاطع هیچگونه علائم یا تابلو وجود ندارد. دو اتومبیل نزدیک می شود. کدامیک حق عبور دارد؟

الف. اتومبیلی که سریعتر حرکت می کند

ب. اتومبیلی که در خیابان پهن تر قرار دارد

ج. هیچکدام هر دو باید توقف کنند بعد با رعایت حق تقدم عبور کنند

د. اتومبیلی که از سمت راست وارد می شود

پاسخ صحیح: ج

۲. چه موقع می توانید به صورت دنده عقب از یک خیابان فرعی به اصلی وارد شوید؟

الف. تنها اگر هر دو خیابان خلوت باشد

ب. در همه مواقع

ج. تنها اگر خیابان اصلی دارای ترافیک نباشد

د. هیچ موقع

پاسخ صحیح: د

۳. مهمترین عامل تصادف رانندگی چیست؟

الف. شرایط آب و هوایی

ب. اشتباهات رانندگی

ج. شرایط جاده

د. مسائل مکانیکی

پاسخ صحیح: ب

۴. پایین بودن کدام مورد میتواند منجر به حادثه شود؟

الف. سطح روغن ترمز      ب. سطح ضدیخ      ج. سطح آب باطری      د. سطح آب خنک کننده

رادیاتور

پاسخ صحیح: الف

۵. دلیل استفاده از دنده سنگین در شرایط رانندگی در باران و برف چیست؟

الف. در موقع ترمز از سرعت کمتری برخوردار باشید

ب. جهت ممانعت از لغزش چرخها

ج. در صورت لغزش استفاده از دنده پایینتر امکانپذیر باش

د. بدلیل اینکه دورزیاد موتور باعث لغزش چرخها نشود

پاسخ صحیح: ب

۶. در پشت سر یک دوچرخه سوار در حال رانندگی هستید قصد دارید به سمت راست گردش کنید چکار میکنید؟

الف. از دوچرخه سبقت گرفته و قبل از تقاطع از او جلو میزنیم

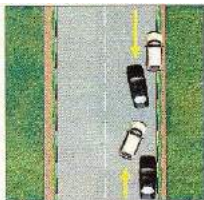
ب. همجوار و موازی با دوچرخه سوار برانید

ج. در پشت سر وی به حرکت ادامه میدهید تا اینکه دوچرخه سوار از محل تقاطع رد شود

د. در محل تقاطع از وی جلو بزنید

پاسخ صحیح: ج

۷. در شکل زیر حق تقدم با کدام است؟



ب. سفید

الف. مشکی

د. بخاطر خط ممتد هیچکدام

ج. هر دو با هم

پاسخ صحیح: الف

۸. موثرترین عضو بدن انسان در حین رانندگی کدام است؟

د. قلب

ج. دستها

ب. چشمها

الف. پاها

پاسخ صحیح: ب

۹. وضعیت شما در رانندگی به چه عواملی بستگی دارد؟

|  |                            |
|--|----------------------------|
| الف. پای بندی به مقررات                | ب. دانش رانندگی و مهارت    |
| ج. تفکر، موقیت، دانش قبلی، ادب و نزاکت | د. رفتارهای مثبت و ترافیکی |
| پاسخ صحیح: ج                           |                            |

۱۰. حداقل فاصله طولی ایمن در جاده های شن و ماسه با سرعت ۶۰ کیلومتر ..... طول ماشین است؟

|              |      |      |      |
|--------------|------|------|------|
| الف. ۲       | ب. ۴ | ج. ۶ | د. ۸ |
| پاسخ صحیح: د |      |      |      |

۱۱. نباید مدت زیادی پای خود را روی کلاچ نگه دارید برای اینکه موجب می شود؟

|   |                                      |
|---|--------------------------------------|
| الف. کنترل شما بر روی وسیله نقلیه کاهش یابد | ب. موجب کم شدن عمر گیربکس می شود     |
| ج. مصرف بنزین بیشتر خواهد شد                | د. اصطکاک لاستیکها با جاده کم می شود |
| پاسخ صحیح: الف                              |                                      |

۱۲. مفهوم رنگ سیاه و سفید در علائم عبور و مرور به چه معنی است؟

|  |                              |
|--|------------------------------|
| الف. علائم دستوری و راهنمای مسیر در سایر راهها | ب. مناطق اداری و آموزشی      |
| ج. راهنمای خدمات                               | د. راهنمای مسیر در بزرگراهها |
| پاسخ صحیح: الف                                 |                              |

۱۳. مفهوم شکل دایره در علائم عبور و مرور به چه معنا می باشد؟

|                                |                              |
|--------------------------------|------------------------------|
| الف. شروع و پایان حق تقدم مسیر | ب. معمولاً برای علائم راهنما |
| ج. علامت دستوری و بازدارنده    | د. صرفاً تابلوهای ایست       |
| پاسخ صحیح: ج                   |                              |

۱۴. نام تابلو مقابل چیست؟



الف. ایست

ب. توقف ممنوع

ج. عبور ممنوع

د. ورود ممنوع

پاسخ صحیح: الف

۱۵. نام تابلو مقابل چیست؟



الف. روگذر

ب. زیرگذر

ج. گذرگاه پیاده

د. شروع محل پیاده روی

پاسخ صحیح: ب

۱۶. نام تابلو مقابل چیست؟



الف. توقف ممنوع

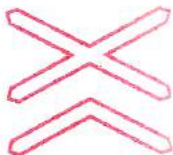
ب. ایستادن ممنوع

ج. توقف در روزهای فرد ممنوع

د. توقف در روزهای زوج ممنوع

پاسخ صحیح: د

۱۷. نام تابلو مقابل چیست؟



الف. تقاطع با راه آهن

ب. تقاطع با راه آهن دوخطه

ج. تقاطع راه آهن با راهبند

د. تقاطع جاده با راه آهن

پاسخ صحیح: ب

۱۸. نام تابلو مقابل چیست؟



الف. عبور کامیون ممنوع


ب. عبور کامیون آزاد

ج. مسیر توصیه شده برای وسایل سنگین

د. عبور تریلی ممنوع

پاسخ صحیح: ج


۱۹. نام تابلو مقابل چیست؟

|   |                     |                    |
|---|---------------------|--------------------|
|  | الف. فقط عبور پیاده | ب. گذرگاه پیاده    |
|   | ج. عبور اطفال       | ج. عبور عابر پیاده |
|   | پاسخ صحیح: الف      |                    |


۲۰. کدام تابلو به معنای ریزش سنگ است؟

|   |   |  |   |
|---|---|--|---|
|  |  |  |  |
| د.  | ج.  | ب.   | الف.  |
| پاسخ صحیح: د  |   |  |   |

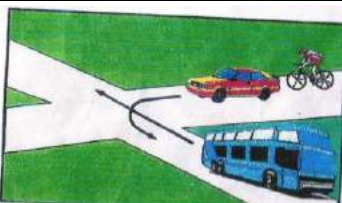
۲۱. مفهوم شکل زیر چیست؟

|   |                 |                 |
|---|-----------------|-----------------|
|  | الف. گردش به چپ | ب. گردش به راست |
|   | ج. توقف         | د. آهسته        |
|   | پاسخ صحیح: ب    |                 |

۲۲. مفهوم شکل زیر چیست؟

|   |   |
|---|---|
|  | الف. قبل از توقف به کودکان اشاره میکنید که عبور کنند                  |
|   | ب. تنها اگر کودکان در حال عبور از خط کشی عابر پیاده هستند توقف میکنید |
|   | ج. توقف کرده و به کودکان اجازه عبور میدهید                            |
|   | د. تنها زمانی که عملاً کودکان در حال عبور از جاده هستند توقف میکنید   |
| پاسخ صحیح: ج  |   |

۲۳. در شکل زیر حق تقدم با کدام است؟

|   |                          |                        |
|---|--------------------------|------------------------|
|  | الف. اتوبوس دوچرخه سواری | ب. سواری اتوبوس دوچرخه |
|   | ج. سواری دوچرخه اتوبوس   | د. اتوبوس سواری دوچرخه |
|   | پاسخ صحیح: ج             |                        |

۲۴. در ابتدای بارندگی بدلیل احتمال افزایش سر خوردن چه مواردی را باید رعایت کرد؟

الف. خودداری از ترمز شدید

ب. رعایت فاصله با اتومبیل جلویی

ج. حرکت با سرعت مناسب و مطمئنه

د. تمام موارد

پاسخ صحیح: د

۲۵. در تقاطعها در چه فاصله ای توقف ممنوع است؟

الف. ۱۰ متری

ب. ۱۵ متری

ج. ۲۰ متری

د. ۲۵ متری

پاسخ صحیح: ب

۲۶. موتورسواران نسبت به رانندگان اتومبیل آسیب پذیرترند برای اینکه؟

الف. تغییرات سطح راه بر روی آنها تاثیر بیشتری دارد

ب. نداشتن حفاظ مناسب

ج. موارد الف و ب صحیح است

د. با سرعت بیشتری پیچها را طی

میکند

پاسخ صحیح: ج

۲۷. کاربرد روش ۲ ثانیه در کجا بکار می رود؟

الف. تخمین فاصله با اتومبیل جلویی

ب. تخمین حداقل فاصله طولی ایمن

ج. حق تقدم ها

د. موارد ب و ج

پاسخ صحیح: الف

۲۸. میخهای زرد رنگ در وسط جاده به چه معنی است؟

الف. دست انداز

ب. خط ممتد

ج. خط مقطع

د. خط زیگزاک

پاسخ صحیح: ب





آزمون آیین نامه راهنمایی و رانندگی ایرانیان-تست درایو

سوالات آزمون آیین نامه مقدماتی شماره: ۹

[www.test-drive.ir](http://www.test-drive.ir)

۱. در محل تقاطع قصد دارید به سمت چپ گردش کنید ولی تصور میکنید که راهنمای شما به وضوح دیده نمیشود چکار میکنید؟

الف. با وجود روشن کردن راهنما با دست علامت میدهید

ب. پیاده شده و کنترل میکنید که حتما راهنما توسط سایرین دیده میشود

ج. در باند سمت چپ همچنان باقی میمانید      د. اتومبیل را کاملاً به سمت راست هدایت میکنید

پاسخ صحیح: الف

۲. چگونه میتوان در سربالایی سبقت گرفت؟

الف. با استفاده از راهنما      ب. نور بالا و پایین      ج. بوق زدن      د. این کار ممنوع میباشد

پاسخ صحیح: د

۳. حداقل فاصله طولی ایمن در جاده های برف با سرعت ۴۵ کیلومتر .... طول ماشین است؟

الف. ۳

ب. ۶

ج. ۹

د. ۱۲

پاسخ صحیح: ج

۴. در کدام مورد باد لاستیک به اندازه است؟

الف. ۱

ب. ۲

د. موارد الف و ج

ج. ۳



پاسخ صحیح: ب

۵. مفهوم رنگ آبی در علائم عبور و مرور به چه معنی است؟

الف. علائم دستوری و راهنمای مسیر در سایر راهها      ب. مناطق اداری و آموزشی

ج. راهنمای مسیر در آزادراهها      د. راهنمای مسیر در بزرگراهها

پاسخ صحیح: ج



۶. مفهوم شکل لوزی در علائم عبور و مرور به چه معنا نباشد؟

الف. شروع و پایان حق تقدم مسیر

ب. معمولاً برای علائم راهنما

ج. علامت دستوری و بازدارنده

د. صرفاً تابلوهای ایست

پاسخ صحیح: الف

۷. نام تابلو مقابل چیست؟

الف. عبور با زنجیر چرخ ممنوع

ب. عبور فقط با زنجیر چرخ

ج. تعمیرگاه

د. منطقه کوهستانی



پاسخ صحیح: ب


۸. کدام تابلو به معنی پارکینگ است؟

الف.

ب.

ج.

د.



پاسخ صحیح: د

۹. مفهوم شکل زیر چیست؟

الف. گردش به چپ

ب. گردش به راست

ج. توقف

د. آهسته



پاسخ صحیح: الف

۱۰. مفهوم شکل زیر چیست؟



الف. حداقل فاصله دو اتومبیل ۷۰ متر میباشد

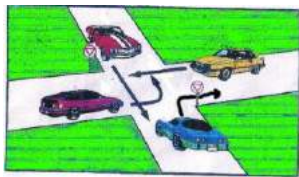
ب. حداکثر فاصله دو اتومبیل ۷۰ متر میباشد

ج. رعایت فاصله کمتر از ۷۰ متر ممنوع

د. رعایت فاصله بیشتر از ۷۰ متر ممنوع

پاسخ صحیح: ج

۱۱. در شکل زیر حق تقدم با کدام است؟



الف. زرد-قرمز-بنفش-آبی

ب. بنفش-زرد-آبی-قرمز

ج. زرد-بنفش-قرمز-آبی

د. آبی-زرد-بنفش-قرمز

پاسخ صحیح: ج

۱۲. برای کدام مورد زیر باید از چراغ هشداردهنده (فلاشر) استفاده کرد؟

الف. زمانی که در منطقه پارک ممنوع توقف کرده اید. ب. زمانی که اتومبیل شما دچار نقص فنی شده است

ج. زمانی که میخواهید به ترافیک پشت سر خود در مورد خطر اطلاع دهد

د. موارد ب و ج

پاسخ صحیح: د

۱۳. چراغ سبز را در جلوی خود مشاهده می کنید چراغ بعدی که روشن میشود چیست؟

الف. زرد و سبز با هم

ب. زرد

ج. قرمز

د. قرمز و زرد

پاسخ صحیح: ب

۱۴. چرا رانندگی در شب مشکل تر است؟

الف. وجود میدان دید طبیعی کمتر

ب. عدم تشخیص فاصله و سرعت وسایل نقلیه

ج. کم شدن تشخیص عابر پیاده

د. همه موارد

پاسخ صحیح: د

۱۵.تنظیم صندلی برای چیست؟

- الف. تسلط به فرمان- پدالهای گاز، ترمز و کلاچ و دنده  
ب. میدان دید طبیعی  
ج. گزینه الف و ب  
د. هیچکدام

پاسخ صحیح:ج

۱۶. منظور از خط زیگزاگ در حاشیه ی خیابان چیست؟

- الف. مخصوص توقف اتومبیل  
ب. توقف کوتاه آزاد است  
ج. ایستادن و عبور کردن از روی آن ممنوع  
د. گزینه الف و ب

پاسخ صحیح:ج

۱۷. هنگامیکه پلیس راهنمایی دست خود را از موازات نشانه پایین و بالا برد به معنی اینست؟

- الف. رانندگان با سرعت عبور کنند  
ب. رانندگان بایستند  
ج. رانندگان وسیله نقلیه در حال حرکت از سرعت خود بکاهند  
د. بعد عبور در پشت آن بایستند

پاسخ صحیح:ج

۱۸. کدامیک از موارد نقص فنی محسوب نمی شود؟

- الف. دود کردن موتور  
ب.نداشتن چراغهای جلو و عقب  
ج. کم بودن باد لاستیک  
د. نداشتن برف پاک کن در رانندگی

پاسخ صحیح:ج

۱۹. در چه فاصله ای از ورودی یا خروجی مراکز آتش نشانی،پلیس و بیمارستان ها توقف ممنوع است؟

- الف. ۵متری  
ب. ۲۰متری  
ج. ۱۵ متری  
د. ۷۰ متری

پاسخ صحیح:ج

۲۰. هوای گرم بر کدام قسمت از خودرو و اثر می گذارد؟

الف. سیستم فنر بندی- ترمز

ب. ترمز دستی

ج. باد لاستیک و دمای موتور

د. چرخهای جلو- کلاچ

پاسخ صحیح: ج

۲۱. چه زمانی می توانید از تلفن همراه در رانندگی استفاده کنید؟

الف. فرمان را با یک دست بگیرید و اتومبیل را هدایت کنید

ب. استفاده از تلفن همراه حین رانندگی ممنوع است

ج. فرمان را با یک دست بگیرید و اتومبیل را هدایت کنید

د. نیاز به انجام یک تلفن اضطراری باشد

پاسخ صحیح: ب

۲۲. شما با سرعت ۴۵ کیلومتر در ساعت در یک جاده مرطوب در حال رانندگی هستید، فاصله

شما با اتومبیل جلویی چند طول اتومبیل باید باشد؟

الف. ۴ طول اتومبیل

ب. ۲ طول اتومبیل

ج. ۶ طول اتومبیل

د. ۵ طول اتومبیل

پاسخ صحیح: ج

۲۳. شما در هنگام رانندگی در شهر مجاز هستید حداکثر سرعتی معادل:

الف. ۶۰ کیلومتر در خیابانهای شریانی اصلی ۵۰ کیلومتر در خیابانهای شریانی فرعی ۲۰ کیلومتر معابر محلی

ب. ۶۰ کیلومتر در خیابانهای شریانی اصلی ۵۰ کیلومتر در خیابانهای شریانی فرعی ۳۰ کیلومتر معابر محلی

ج. ۵۰ کیلومتر در خیابانهای شریانی اصلی ۵۰ کیلومتر در خیابانهای شریانی فرعی ۳۰ کیلومتر معابر محلی

د. ۶۰ کیلومتر در خیابانهای شریانی اصلی ۴۰ کیلومتر در خیابانهای شریانی فرعی ۲۰ کیلومتر معابر محلی

پاسخ صحیح: ب

۲۴. کاربرد روش دو ثانیه برای چیست؟

الف. محاسبه زمان      ب. تخمین مسافت با وسیله جلوئی      ج. تست موتور      د. مورد الف و ب

پاسخ صحیح: ب

۲۵. حداکثر سرعت در جادههای اصلی:

الف. روز ۶۰ کیلومتر - شب ۸۵ کیلومتر      ب. روز ۹۵ کیلومتر - شب ۸۵ کیلومتر

ج. روز ۸۰ کیلومتر - شب ۹۰ کیلومتر      د. روز ۸۵ کیلومتر - شب ۹۵ کیلومتر

پاسخ صحیح: ب

۲۶. مهمترین عامل تصادفات رانندگی با اتومبیل جلوئی چیست؟

الف. شرایط جاده      ب. شرایط آب و هوایی

ج. عدم توجه کافی به راه - نزدیک شدن بیش از حد به اتومبیل جلوئی      د. مسائل مکانیکی

پاسخ صحیح: ج

۲۷. تابلوهای راهنمایی که معمولاً فرمانی را صادر می کنند به چه شکل است؟

الف. مثلث با حاشیه قرمز      ب. دایره با حاشیه قرمز

ج. مستطیل با حاشیه قرمز      د. مستطیل فلش دار با حاشیه قرمز

پاسخ صحیح: ب

۲۸. در کدام محل است که نباید پارک کنید؟

الف. در خیابان های یک طرفه      ب. در خیابانهای فرعی

ج. در خیابانهای اصلی      د. در ۱۵ متری تقاطع ها و در ایستگاه اتوبوس

پاسخ صحیح: د

۲۹. چه مواقعی باید بیش از حد مراقب موتور سیکلت سوارها و دوچرخه سوارها باشید؟

الف. در جاده های دو طرفه

ب. در خط کشی عابر پیاده

ج. در خیابانهای یک طرفه

د. در محل تقاطع

پاسخ صحیح: د

۳۰. در راههای دارای جدول برای پارک در سرازیری می بایست؟

الف. فرمان را به سمت چپ بچرخانید

ب. ترمز دستی را کشیده فرمان را به سمت چپ بچرخانید

ج. فرمان را به سمت راست بچرخانید

د. اتومبیل را در دنده گذاشته و مانعی جلوی لاستیک عقب قرار دهیم

پاسخ صحیح: ج



آزمون آیین نامه راهنمایی و رانندگی ایرانیان - تست درایو

سوالات آزمون آیین نامه مقدماتی شماره: ۱۰

[www.test-drive.ir](http://www.test-drive.ir)

۱. در شرایط غیر عادی مانند بارندگی و یخبندان کنترل و هدایت و توقف اتومبیل به کدام دلیل مشکل است؟

الف. کم بودن میدان دید      ب. به لحاظ سرمای هوا و خارج شدن لاستیکها از حالت طبیعی

ج. به لحاظ کاهش ضریب اصطکاک چرخها با جاده      د. ب و ج هر دو صحیح

پاسخ صحیح: ج

۲. در چه فاصله ای از پیچها و تقاطعها دور زدن ممنوع می باشد؟

الف. ۲۰۰ متری      ب. ۱۰۰ متری      ج. ۱۵۰ متری      د. ۷۰ متری

پاسخ صحیح: ج

۳. شما به دنبال یک وسیله نقلیه دیگر بر روی یک جاده خیس رانندگی می کنید، فاصله زمانی بین شما و باید با اتومبیل جلوئی چقدر شد؟

الف. ۴ ثانیه      ب. ۲ ثانیه      ج. ۳ ثانیه      د. ۵ ثانیه

پاسخ صحیح: الف

۴. چرا برای سبقت از یک وسیله طویل باید فاصله بیشتری را با آن حفظ کرد؟

الف. بتوانیم جلوی کامیون را ببینیم      ب. راحت بتوانیم بیا سرعت حرکت نیم

ج. برای اینکه در نقطه کولر قرار نگرفته و راننده کامیون بتواند مارا ببیند      د. الف و ج

پاسخ صحیح: د

۵. دسترسی در آزادراهها چگونه می باشد؟

الف. از طریق تقاطع هم سطح      ب. از طریق اولین خروجی

ج. از طریق پلهای هوایی و زیرگذرگاهها      د. تا شهرک یا تقاطع جاده دیگر راهی ندارد

پاسخ صحیح: ج

۶. چرا رانندگی در شب نسبت به روز مشکلتر می باشد؟

الف. عدم تشخیص فاصله و سرعت وسیله نقلیه

ب. محدود بودن میدان دید راننده

ج. عدم تشخیص به موقع عابر پیاده

د. همه موارد

پاسخ صحیح: د

۷. تابلوهای باز دارنده را تابلوهای ..... نیز می گویند که بیشتر به شکل ..... با نوار حاشیه ..... رنگ هستند؟

الف. هشدار دهنده - دایره - قرمز

ب. انتظامی - دایره - قرمز

ج. انتظامی - مثلث - قرمز

د. هشداردهنده - مثلث - آبی

پاسخ صحیح: ب

۸. علائم راهنمایی به ترتیب اولویت .....؟

الف. تابلوها - چراغ راهنما - فرمان پلیس - خط کشی

ب. فرمان پلیس - تابلوها - چراغ راهنما - خط کشی

ج. چراغ راهنما - خط کشی - تابلوها - فرمان پلیس

د. فرمان پلیس - چراغ راهنما - تابلوها - خط کشی

پاسخ صحیح: د

۹. تابلوهای هشداردهنده یا ..... بیشتر به شکل ..... با نوارهای حاشیه ..... رنگ و زمینه ..... رنگ می باشد؟

الف. اخباری - دایره - قرمز - آبی

ب. اختطاری - مربع - قرمز - سفید

ج. اختطاری - مثلث - قرمز - سفید

د. انتظامی - پنج ضلعی - قرمز - سفید

پاسخ صحیح: ج



۱۰. به هنگام رانندگی در طول روز در شرایط مه آلود چه کاری باید انجام دهید؟

الف. از نور پایین استفاده کنید

ب. از نور بالا استفاده کنید

ج. چراغ راهنما را روشن کنید

د. چراغ را روشن کنید

پاسخ صحیح: الف

۱۱. با تنظیم صندلی کدامیک از شرایط زیر مهیا می گردد؟

الف. سهولت در تعویض دنده

ب. تسلط کامل به فرمان

ج. تسلط کامل به گاز، کلاچ و ترمز

د. هر سه مورد

پاسخ صحیح: د

۱۲. در صورت کشیدن یدک و یا باری که از ماشین بیرون زده باشد با چه چیزی باید دیگر رانندگان را متوجه کرد؟

الف. چراغ قرمز رنگ یدک

ب. پرچم قرمز انتهای یدک

ج. پرچم سفید به ابعاد ۵۰ سانتی متر

د. پرچم زرد و چراغ خطر

پاسخ صحیح: ج

۱۳. وسائل نقلیه امدادی در چه موارد مجاز به استفاده از علائم (آژیر - سوت خطر) می باشد؟

الف. هنگام انجام ماموریت فوری و مهم

ب. همه مواقع

ج. هنگام خطر

د. مورد ب و ج

پاسخ صحیح: الف

۱۴. اتومبیل شما در بزرگراه دچار نتص فنی شده است، تابلوی مثلثی را در چند متری قرار می دهید؟

الف. ۵۰ متری

ب. ۱۰۰ متری

ج. ۷۰ متری

د. ۱۵۰ متری

پاسخ صحیح: د

۱۵. اتومبیل شما از ادراه دچار نقص فنی شده است، چه کاری انجام می دهید؟

الف. تابلو مثلثی را در ۱۵۰ متری قرار می دهیم

ب. در خط توقف اضطراری توقف می کنید

ج. چراغهای خطر را روشن می کنید و در باند خودتان متوقف می شوید

د. تابلو مثلثی را در ۵۰۰ متری قرار می دهیم

پاسخ صحیح: ب

۱۶. انواع خط کشی ها عبارتند از خط کشی ..... و خط کشی .....

الف. مقطع و ممتد      ب. مورب و مقطع      ج. طولی و عرضی      د. زیگزاک و ممتد

پاسخ صحیح: ج

۱۷. درر جادههای فرعی حداکثر سرعت مجاز در روز ..... کیلو متر و در شب ..... کیلومتر میباشد؟

الف. ۸۵ - ۹۵      ب. ۷۵ - ۸۵      ج. ۸۰ - ۹۰      د. ۷۰ - ۸۰

پاسخ صحیح: ب

۱۸. در کدامیک از محلهای زیر سبقت گرفتن ممنوع می باشد؟

الف. تقاطعها و پلها- خیابانهای دو طرفه

ب. در خیابانهای یک طرفه

ج. در بزرگراهها- خیابانهای دو طرفه

د. پلها- تقاطعها- تونلها- سربالائی ها - پیچهای تند- محلهائی که با نصب علائم و خط کشی ممنوع است.

پاسخ صحیح: د

۱۹. چه مواقعی راننده نسبت به اتومبیل کنترل کمتری دارد؟

الف. در پیچها      ب. سربالائی      ج. حرکت با دنده خلاص      د. همه موارد

پاسخ صحیح: ج

۲۰. هنگام مواجهه با زخمیه‌های صحنه تصادف چه کاری نباید انجام داد؟

الف. دلجوئی کردن      ب. گرم نگه داشتن آنها      ج. تنها گذاشتن آنها      د. دادن خوراکی به افراد زخمی

پاسخ صحیح: د

۲۱. در تقاطعها یا چهارراههای هم عرض حق عبور با کدام وسیله نقلیه می باشد؟

الف. به صورت مستقیم در حرکت می باشد      ب. در حال گردش به راست می باشد  
ج. وسیله نقلیه ای که سمت راست آن خالی باشد      د. الف و ب

پاسخ صحیح: ج

۲۲. تابلو به شکل مثلث متساوی الاضلاع نشسته بر روی یک راس برای ..... می باشد؟

الف. ایست      ب. علامت دستوری      ج. رعایت حق تقدم      د. بازدارنده

پاسخ صحیح: ج

۲۳. تابلو به شکل مثلث متساوی الاضلاع نشسته روی قاعده به چه منظور می باشد؟

الف. ایست      ب. بازدارنده      ج. هشداردهنده برای خطر      د. رعایت حق تقدم

پاسخ صحیح: ج

۲۴. چه موقع نباید از چراغ هشدار (فلاشر) استفاده نمائید؟

الف. زمانی که دچار نقص فنی شده اید      ب. هنگام بکسل کردن اتومبیل  
ج. به صورت دوبله پارک می کنید      د. مورد ب و ج

پاسخ صحیح: د

۲۵. به هنگام رانندگی در شب فاصله اتومبیل شما با اتومبیل جلوئی بیش از ۱۵۰ متر باشد.../؟

الف. از نور بالا استفاده می کنیم      ب. از نور پایین استفاده می کنیم  
ج. چراغها را خاموش می کنیم      د. از هر نوری خواستیم استفاده می کنیم

پاسخ صحیح: الف

۲۶. کدام گزینه نا صحیح می باشد؟

|                                    |                                   |
|------------------------------------|-----------------------------------|
| الف. تابلوهای هشداردهنده یا اختاری | ب. تابلو بازدارنده یا اختاری      |
| ج. تابلوهای بازدارنده یا انتظامی   | د. تابلوهای آگاهی دهنده یا اخباری |
| پاسخ صحیح: ب                       |                                   |

۲۷. خط ممتد-دوبله-مقطع-هاشور-زیگراک، انواع خطوط ... هستند؟

|              |         |         |               |
|--------------|---------|---------|---------------|
| الف. ترکیبی  | ب. عرضی | ج. طولی | د. مورد ب و ج |
| پاسخ صحیح: ج |         |         |               |

۲۸. برای گردش به چپ در بزرگراه از چه فاصله ای باید راهنما زده شود؟

|              |             |             |             |
|--------------|-------------|-------------|-------------|
| الف. ۵۰ متری | ب. ۱۰۰ متری | ج. ۱۵۰ متری | د. ۵۰۰ متری |
| پاسخ صحیح: د |             |             |             |

۲۹. از چه فاصله ای باید در خیابانهای درون شهری راهنما زده شود؟

|              |             |             |             |
|--------------|-------------|-------------|-------------|
| الف. ۵۰ متری | ب. ۱۰۰ متری | ج. ۱۵۰ متری | د. ۲۰۰ متری |
| پاسخ صحیح: ب |             |             |             |

۳۰. هنگام ورود به میادین حق تقدم با وسیله ای است که...؟

|                               |                                |
|-------------------------------|--------------------------------|
| الف. در حال ورود به میدان است | ب. در سمت راست وسیله نقلیه است |
| ج. درون میدان در حال حرکت است | د. در حال عبور مستقیم است      |
| پاسخ صحیح: ج                  |                                |



آزمون آیین نامه راهنمایی و رانندگی ایرانیان-تست درایو

سوالات آزمون آیین نامه مقدماتی شماره: ۱۱

[www.test-drive.ir](http://www.test-drive.ir)

۱. در چه فاصله ای قبل و بعد از پیچها و تقاطع راه آهن سبقت گرفتن ممنوع است؟

الف. ۵۰ متر      ب. ۷۵ متر      ج. ۱۰۰ متر      د. ۱۵۰ متر

پاسخ صحیح: الف

۲. در چه فاصله ای قبل و بعد از تونل و پل ها سبقت گرفتن ممنوع است؟

الف. ۷۰ متر      ب. ۱۰۰ متر      ج. ۱۵۰ متر      د. ۲۰۰ متر

پاسخ صحیح: ب

۳. عبور کردن از روی کدام خطوط زیر ممنوع نمی باشد؟

الف. خط زیگزاگ      ب. خط مقطع      ج. خط طولی ممتد      د. موارد الف و ج

پاسخ صحیح: ب

۴. کدام یک از موارد زیر بر فرمان پلیس مقدم است؟

الف. علائم      ب. تابلوها      ج. خط کشی ها      د. هیچکدام

پاسخ صحیح: د

۵. رنگ سیاه و سفید در علائم عبور و مرور چه معنا و مفهومی دارد؟

الف. علامت دستوری و راهنمای مسیر در سایر راهها      ب. راهنمای مسیر در آزادراهها

ج. هشدار برای خطرات ناشی از تعمیر و نگهداری      د. اداری و آموزشی و خدماتی

پاسخ صحیح: الف

۶. سبقت گرفتن در چه مواردی ممنوع می باشد؟

الف. خط طولی ممتد      ب. در خط طولی مقطع      ج. در خروجی بزرگراهها      د. هیچکدام

پاسخ صحیح: ب

۷. در حین رانندگی برای سبقت گرفتن در روز به وسیله ... و در شب به وسیله ... می توان به رانندگان مقابل اطلاع دهید؟

الف. بوق چراغ      ب. حرکت دست-بوق      ج. حرکت دست-چراغ      د. چراغ-بوق  
پاسخ صحیح: الف

۸. کنترل باد لاستیک چرخها چه زمانی باید چک شود؟

الف. بعد از طی مسافت طولانی      ب. زمانی که لاستیک سرد است  
ج. بعد از یک رانندگی با سرعت بالا      د. زمانی که لاستیک ها گرم هستند  
پاسخ صحیح: ب

۹. فشار هوای داخلی لاستیک ها باید هر .... یک بار بازدید گردد؟

الف. ده روز      ب. هفت روز      ج. پنج روز      د. سی روز  
پاسخ صحیح: ب

۱۰. در صورت خرابی چراغ راهنما اتومبیل شما، اگر بخواهید گردش به راست انجام دهید دست خود را به چه صورتی نگه می دارید؟

الف. افقی      ب. از بالا به پایین حرکت می دهید      ج. عمودی      د. موارد الف و ب  
پاسخ صحیح: ج

۱۱. منظور از خط شطرنجی به رنگ زرد و سیاه ... ؟

الف. رانندگان می توانند از روی آن عبور کنند      ب. رانندگان باید قبل آن توقف نمایند  
ج. با مشاهده آن سرعت را کاهش داده و با احتیاط عبور کنند      د. برای عابرین پیاده می باشد  
پاسخ صحیح: ب

۱۲. اصلی ترین علت منحرف شدن خودرو به یک طرف در زمان گرفتن ترمز چیست؟

الف. پایین بودن سطح روغن ترمز      ب. بالا بودن ترمز دستی  
ج. تنظیم نبودن دقیق ترمزها      د. سائیدگی بیش از حد تایرهای خودرو  
پاسخ صحیح: ج

۱۳. سبقت از سمت راست وسیله نقلیه که در حال گردش به چپ می باشد...؟

الف. ممنوع است      ب. با احتیاط می توان عبور کرد

ج. آزاد است      د. با فرمان پلیس می توان عبور کرد

پاسخ صحیح: ج

۱۴. در چه شرایطی می توانید از خط عبور سمت چپ در آزادراهها استفاده نمایید؟

الف. برای کنار رفتن از سر راه کامیونها      ب. برای سبقت گرفتن از سایر وسایل نقلیه

ج. برای رانندگی در سرعت بیش از ۹۰ کیلومتر      د. هنگامیکه با سرعت کم در حال رانندگی هستید

پاسخ صحیح: ب

۱۵. در کدامیک از موارد زیر حرکت با دنده عقب ممنوع می باشد؟

الف. در آزادراه      ب. در بزرگراه      ج. در معابر اصلی      د. هر سه مورد

پاسخ صحیح: د

۱۶. گواهینامه رانندگی یک سند رسمی است که تنها به ..... نشان داده می شود؟

الف. بازرس اتومبیل      ب. پلیس ترافیک      ج. مامور کنترل      د. همه موارد

پاسخ صحیح: ب

۱۷. اتومبیل شما در راه دچار حادثه شده تابلوی احتیاط را در چه فاصله ای قرار می دهید؟

الف. ۲۰ متری      ب. ۵۰ متری      ج. ۷۰ متری      د. ۱۰۰ متری

پاسخ صحیح: ج

۱۸. آب رادیاتور چه زمانی باید بازدید شود؟

الف. زمانی که گرم است      ب. بعد از یک رانندگی طولانی

ج. زمانی که سرد است      د. الف و ب

پاسخ صحیح: ج

۱۹. تنها چه موقعی می توانید از تلفن همراه استفاده کنید؟

الف. نیاز به یک تماس اضطراری باشد  
ب. فرمان را با یک دست بگیرید و اتومبیل را هدایت کنید

ج. در یک محل و مکان امن توقف کرده باشید  
د. وسیله نقلیه شما دارای دنده اتوماتیک باشد

پاسخ صحیح: ج

۲۰. کاربرد روش دو ثانیه برای چه کاری می باشد؟

الف. محاسبه زمان  
ب. تست موتور  
ج. تخمین مسافت با وسیله نقلیه جلویی  
د. تخمین سرعت

پاسخ صحیح: ج

۲۱. روش یک طول اتومبیل چیست؟

الف. به ازای هر سی کیلومتر سرعت فاصله ای به اندازه یک طول اتومبیل نیاز است

ب. به ازای هر ۴۵ کیلو متر سرعت فاصله ای به اندازه یک طول اتومبیل نیاز است

ج. به ازای هر ۶۰ کیلومتر سرعت فاصله ای به اندازه یک طول اتومبیل نیاز است

د. به ازای هر ۱۵ کیلومتر سرعت فاصله ای به اندازه یک طول اتومبیل نیاز است

پاسخ صحیح: د

۲۲. نقطه کور ماشین های طویل کدام یک از موارد زیر است؟

الف. جلو  
ب. راست  
ج. عقب  
د. همه موارد

پاسخ صحیح: د

۲۳. تابلوهای مثلثی شکل به چه منظور می باشد؟

الف. بازدارنده  
ب. هشدار دهنده  
ج. اخباری  
د. آگاهی دهنده

پاسخ صحیح: ب



۲۴. کم بودن باد لاستیک چه تاثیری دارد؟

الف. افزایش مصرف سوخت      ب. عمر لاستیک کم خواهد شد

ج. موارد الف و ب      د. هیچکدام

پاسخ صحیح: ج

۲۵. خط ایست جزء کدام یک از خط کشی های زیر می باشد؟

الف. طولی      ب. زیگزاگ      ج. عرضی      د. ترکیبی

پاسخ صحیح: ج

۲۶. کدامیک از موارد زیر در رابطه با یدک کشی صحیح می باشد؟

الف. وسیله ترابری آسیب دیده باید دارای سیستم فرمان و ترمز سالم باشد

ب. باید دارای قدرت کافی برای کشیدن باشد

ج. باید به طناب سیمی محکم بسته باشد

د. همه موارد

پاسخ صحیح: د

۲۷. شکل مستطیل قائم برای تابلوهای ... به کار می رود؟

الف. هشدار دهنده برای خطر      ب. دستوری و آگاهی از خطرات

ج. برای خطرات ناشی از تعمیر و نگهداری      د. برای تابلوهای دستوری و خدمات

پاسخ صحیح: د

۲۸. کدام گزینه نا صحیح است؟

الف. در تقاطع سبقت گرفتن ممنوع است

ب. در پیچ های تند و سربالائی ها دور زدن ممنوع است

ج. سبقت گرفتن در داخل تونل ها بلا مانع است

د. سبقت از وسیله ای که خود در حال سبقت گرفتن است ممنوع است

پاسخ صحیح: ج

۲۹. کدام یک از رنگ های زیر جزء مفاهیم عبور و مرور می باشد؟

الف. آبی      ب. سبز      ج. سیاه و سفید      د. همه موارد

پاسخ صحیح:د

۳۰. عوامل افزایش دهنده مصرف سوخت خودرو کدام یک از عوامل زیر می باشد؟

الف. تنظیم نبودن موتور      ب. استفاده از کولر

ج. پایین بودن پنجره های خودرو      د. همه موارد

پاسخ صحیح:د



آزمون آیین نامه راهنمایی و رانندگی ایرانیان-تست درایو

سوالات آزمون آیین نامه مقدماتی شماره: ۱۲

[www.test-drive.ir](http://www.test-drive.ir)

۱. میخ های قرمز رنگ در کجا استفاده می شود؟

الف. بین محل خالی آزادراه و باند اصلی

ب. در مسیر ورودی و خروجی و باندهای کاهش و افزایش سرعت

ج. بین هر دو باند

د. بین شانه خاکی و باند اصلی

پاسخ صحیح: ب

۲. برای گردش به راست یا چپ در معابر درون شهری از چند متری راهنما زده می شود؟

الف. ۲۰۰ متری

ب. ۱۵۰ متری

ج. ۱۰۰ متری

د. ۵۰۰ متری

پاسخ صحیح: ج

۳. تابلو رعایت حق تقدم جزء کدام یک از موارد زیر است؟

الف. آگاهی دهنده

ب. اخطاری

ج. هشدار دهنده

د. انتظامی

پاسخ صحیح: د

۴. تابلو نظارت با دوربین پلیس جزء کدام یک از علائم زیر می باشد؟

الف. بازدارنده

ب. هشدار دهنده

ج. محلی

د. اخباری

پاسخ صحیح: ج

۵. در راههای مسطح که دو طرف راه منتهی به کوه و پرتگاه می باشد حق تقدم عبور با کدامیک از وسایل نقلیه زیر می باشد؟

الف. در سمت راست باشد

ب. در سمت چپ باشد

ج. در سمت پرتگاه باشد

د. همه موارد

پاسخ صحیح: ج

۶. در تقاطعی که خط عابر پیاده ندارد حق تقدم با کدام است؟

- الف. در حال گردش به راست می باشد  
ب. عابر پیاده  
ج. در حال حرکت مستقیم می باشد  
د. دنده عقب می آید
- پاسخ صحیح: ب

۷. به دنبال یک کامیون در حال حرکت هستید، کامیون در حال گردش به راست و وارد شدن به یک جاده باریک می باشد، چه اقدامی می کنید؟

- الف. از کامیون سبقت می گیرید  
ب. به طرف راست رفته و با گردش کامیون به راه خود ادامه می دهید  
ج. آماده می شوید پشت سر او بایستید  
د. قبل از اینکه کامیون وارد جاده باریک شود با سرعت از او سبقت می گیرید
- پاسخ صحیح: ج

۸. کدام یک از موارد زیر ناصحیح می باشد؟

- الف. از استعمال دخانیات در هنگام کار با باتری خودداری نمایید  
ب. فشار هوای داخلی لاستیک یک بار در هفته بازدید گردد  
ج. از جیب لباس کار می شود به عنوان جعبه ابزار استفاده کرد  
د. هر روز باید سطح روغن ترمز را بازدید کرد
- پاسخ صحیح: ج

۹. راهی که ارتباط بین خیابانهای محلی و خیابانهای شریانی اصلی را برقرار می کند چیست؟

- الف. خیابان شریانی اثلی  
ب. خیابان شریانی فرعی  
ج. معابر محلی  
د. کوچه ها
- پاسخ صحیح: ب

۱۰. اولین کاری که باید در یک صحنه تصادف انجام گیرد کدام یک از موارد زیر می باشد؟

|                            |   |
|----------------------------|---|
| الف. حفظ صحنه تصادف        | ب. آگاه ساختن مراجع ذیصلاح                |
| ج. مراقبت نمودن از مجروحین | د. جلوگیری از وقوع تصادف دیگر در همان محل |
| پاسخ صحیح:د                |   |

۱۱. حداکثر سرعت در بزرگراههای درون شهری چند کیلومتر میباشد؟

|                  |                |               |               |
|------------------|----------------|---------------|---------------|
| الف. ۱۲۰ کیلومتر | ب. ۱۰۰ کیلومتر | ج. ۷۰ کیلومتر | د. ۶۰ کیلومتر |
| پاسخ صحیح:ب      |                |               |               |

۱۲. حداکثر سرعت وانت بارها در آزادراههای برون شهری چند کیلومتر می باشد؟

|                  |                |                |               |
|------------------|----------------|----------------|---------------|
| الف. ۱۱۰ کیلومتر | ب. ۱۰۰ کیلومتر | ج. ۱۲۰ کیلومتر | د. ۷۰ کیلومتر |
| پاسخ صحیح:ج      |                |                |               |

۱۳. تابلوی عبور به راست مجاز به شکلی می باشد ؟

|                 |              |             |              |
|-----------------|--------------|-------------|--------------|
| الف. دایره-قرمز | ب. دایره-آبی | ج. مثلث-آبی | د. مثلث-قرمز |
| پاسخ صحیح:ب     |              |             |              |

۱۴. رنگ نارنجی در علائم عبور و مرور چه معنایی دارد؟

|                   |            |                   |            |
|-------------------|------------|-------------------|------------|
| الف. علامت دستوری | ب. آزادراه | ج. اداری و آموزشی | د. بزرگراه |
| پاسخ صحیح:ج       |            |                   |            |

۱۵. رنگ قهوه ای در علائم عبور و مرور به چه معنا می باشد؟

|                                    |                               |
|------------------------------------|-------------------------------|
| الف. مناطق تفریحی فرهنگی و گردشگری | ب. علامت دستوری               |
| ج. اماکن مذهبی                     | د. هشدار برای عملیات ساختمانی |
| پاسخ صحیح:الف                      |                               |

۱۶. هنگامی که پلیس راهنمایی مستقر در تقاطع دست راست خود را به موازات شانه باز نماید چه معنایی دارد؟

الف. رانندگان وسایل نقلیه در هر چهار طرف تقاطع بایستند

ب. رانندگان در حال حرکت از سرعت خود بکاهند

ج. رانندگان مقابل باید توقف نمایند

د. رانندگان در حال عبور از پشت وی توقف نمایند

پاسخ صحیح: د

۱۷. کدام مورد هنگام رانندگی ممنوع می باشد؟

الف. خوردن و آشامیدن

ب. استفاده از تلفن همراه

ج. استعمال دخانیات

د. همه موارد

پاسخ صحیح: د

۱۸. کدام گزینه نشان دهنده تابلوی عبور وسایل نقلیه موتوری ممنوع می باشد؟



الف.



ب.



ج.



د.

پاسخ صحیح: الف

۱۹. نحوه بارگیری تریلرها به نحوی باید باشید که:

- الف. بار عمدتا در بخش عقب قرار گیرد  
ب. بار در بخش جلوی تریلر قرار گیرد  
ج. بار به صورت متوازن و خوب بسته شود  
د. بار عمدتا در نزدیکی چرخ ها بارگیری شود

پاسخ صحیح: ج

۲۰. چه موقع می توانید از چراغ هشداردهنده خطر (فلاشر یا چهارچراغ) استفاده نمایید؟

- الف. زمانی که برای خرید بر روی خطوط زرد دوبل توقف کرده اید  
ب. زمانی که در تاریکی بدون چراغ بزرگ حرکت می کنید  
ج. زمانی که به آرامی رانندگی کرده و به دنبال آدرس میگردید  
د. زمانی که به صورت موقت و یا اضطراری توقف کرده و ترافیک را متوقف نموده ای

پاسخ صحیح: د

۲۱. در هوای بسیار گرم سطح جاده نرم می باشد - کدام مورد زیر از این مسئله تاثیرپذیر است؟

- الف. هدایت و گردش اتومبیل و ترمز  
ب. تعویض دنده  
ج. سیستم فتربندی  
د. میزان باد لاستیک ها

پاسخ صحیح: الف

۲۲. در هوای مه آلود در حال رانندگی هستید پشت سر بیش از حد به شما نزدیک می شود چه اقدامی انجام می دهید؟

- الف. با احتیاط به حرکت خود ادامه دهید  
ب. چراغهای هشداردهنده خطر را روشن کنید  
ج. بلافاصله توقف کنید  
د. سرعت گرفته و از او دور شوید

پاسخ صحیح: الف

۲۳. در شرایط بد جوی با میدان دید محدود چگونه می توانید اطمینان کنید که سایر رانندگان قادر به رویت شما هستند؟

- الف. چراغ های نور پایین را روشن کنید      ب. با فاصله کمی از اتومبیل جلویی حرکت کنید
- ج. چراغ های مه شکن عقب را روشن کنید      د. کاملاً نزدیک به کنار جاده حرکت کنید

پاسخ صحیح: الف

۲۴. پایین بودن کدام یک از موارد زیر می تواند منجر به حادثه شود؟

- الف. سطح روغن ترمز      ب. سطح ضدیخ      ج. سطح آب باتری      د. سطح آب خنک کننده رادیاتور

پاسخ صحیح: الف

۲۵. در چه مواقعی مجاز به حرکت با دنده عقب هستید؟

- الف. رانندگی با دنده عقب در همه موارد مجاز است
- ب. با احتیاط کامل و احتراز از هر گونه حادثه و انسداد راه میتوان در مواقع ضروری با دنده عقب حرکت کرد
- ج. در راههای یکطرفه میتوان با دنده عقب حرکت کرد
- د. چنانچه قصد ورود از گاراژ خصوصی یا خیابان فرعی به اصلی دارید

پاسخ صحیح: ب

۲۶. فاصله مناسب از جدول هنگام پارک چقدر است؟

- الف. یک متر از جلو-نیم متر از عقب- ۴۵ سانت از جدول
- ب. نیم متر از جلو- یک متر از عقب- ۴۰ سانت از جدول
- ج. یک متر از جلو- یک متر از عقب- ۴۵ سانت از جدول
- د. یک متر از جل- نیم متر از عقب- ۴۰ سانت از جدول

پاسخ صحیح: ج



۲۷. اتومبیلی جلوی شما از یک فرعی بیرون می آید چکار باید انجام دهید؟

- الف. با شتاب از کنار او عبور کنید  
ب. چراغ داده و پشت سر او قرار بگیرید  
ج. با سرعت از کنارش گذشته و بوق بزنید  
د. از سرعت خود کاسته و آماده توقف شوید

پاسخ صحیح: د

۲۸. قانون اولیه رانندگی حرکت از سمت ... مگر برای .... است.

- الف. چپ-توقف  
ب. چپ-گردش  
ج. راست-توقف  
د. راست-سبقت و گردش به چپ

پاسخ صحیح: د

۲۹. تابلوی جاده باریک میشود کدام گزینه است؟



پاسخ صحیح: ج

۳۰. تابلوی روبرو به چه معناست؟



- الف. تقاطع جاده و راه آهن با راه بند نصب در ۳۰۰ متری  
ب. تقاطع جاده و راه آهن نصب در ۳۰۰ متری  
ج. تقاطع جاده و راه آهن بدون راه بند نصب در ۳۰۰ متری  
پاسخ صحیح: الف



## آزمون آیین نامه راهنمایی و رانندگی ایرانیان-تست درایو

سوالات آزمون آیین نامه مقدماتی شماره: ۱۳

[www.test-drive.ir](http://www.test-drive.ir)

۱. رانندگی در شب مشکل تر از روز می باشد زیرا ....

الف. عدم تشخیص به موقع موانع و عابرین پیاده

ب. محدود شدن میدان دید طبیعی

ج. عدم استفاده از آینه های جانبی

د. تمام موارد بالا

پاسخ صحیح:د

۲. نداشتن برف پاک کن در موقع بارندگی ....

الف. در صورتی که سرعت باران کم باشد و جاده را ببینید مشکلی ندارد

ب. برای مسافت کوتاه می توان رانندگی کرد

ج. نقص فنی محسوب نمی گردد

د. نقص فنی محسوب می گردد

پاسخ صحیح:د

۳. باد لاستیک چرخها را در چه زمانی باید تنظیم کرد؟

الف. در زمان گرم بودن لاستیک

ب. در زمان سرد بودن لاستیک

ج. زمانی که مسافت طولانی را طی کردیم

د. در زمان سرد بودن هوا لاستیکها را نمی توان تنظیم باد نمود

پاسخ صحیح:ب

۴. کدامیک از تابلو های زیر مفهوم پیچهای پی در پی را می دهد؟



الف. شکل شماره ۲

ب. شکل شماره ۳

ج. شکل شماره ۱

د. شکل شماره ۴

پاسخ صحیح: ج

۵. تابلو زیر به چه معناست؟



الف. بن بست

ب. انتهای بزرگراه

ج. آزادراه

د. پایان آزادراه

پاسخ صحیح: د

۶. مفهوم تابلو زیر چیست؟



الف. خط عبور برای گریز

ب. راه اصلی بن بست است

ج. خروجی از سمت چپ

د. بن بست

پاسخ صحیح: الف

۷. مفهوم تابلو زیر چیست؟



الف. حداقل سرعت در خطهای عبور

ب. ابتدای حداکثر در بزرگراه

ج. حداکثر سرعت در خطهای عبور

ج. هیچکدام

پاسخ صحیح: ج

۸. حواس پرتی در زمان رانندگی عامل مهمی در .... است؟

الف. توجه به ترافیک شهری

ب. توجه به پیچ جاده

ج. فرامین پلیس

د. تصمیم گیری به موقع

پاسخ صحیح: د

۹. در جاده ماسه و شنی با سرعت ۶۰ کیلومتر در ساعت در حال رانندگی می باشید چند اتومبیل فاصله با اتومبیل جلویی باید حفظ گردد؟

الف. ۱۰      ب. ۸      ج. ۶      د. ۴

پاسخ صحیح: ب

۱۰. مهمترین عامل مشکلات زیست محیطی ... و ناشی از ... می باشد.

الف. گرمای هوا- ناشی از کارخانجات

ب. صدای ناهنجار- ناشی از خودروها

ج. آلودگی هوا- ناشی از کارخانه و دود بخاری های گرمایشی

د. آلودگی هوا- ناشی از خودروها

پاسخ صحیح: د

۱۱. کاربرد خطوط شطرنجی به رنگ زرد و سیاه در تقطع چیست؟

الف. توقف و عبور روی آنها ممنوع است

ب. نوعی خطر را هشدار می دهد و باید سرعت را کاهش داد

ج. قبل خطوط شطرنجی توقف و مسیر حرکت خودروهای دیگر را باز نگه دارید

د. سرعت خود را کاهش داده و با احتیاط عبور نمایید

پاسخ صحیح: ج

۱۲. مهمترین اعضای بدن در هنگام رانندگی کدام یک است؟

الف. قلب

ب. دست و پا

ج. گوش

د. چشم

پاسخ صحیح: د

۱۳. تابلوی زیر جزو تابلوهای .... و به معنی .... می باشد.



الف. جزو تابلوهای اخباری و به معنی سبقت از کامیون ممنوع می باشد.

ب. جزو تابلوهای اختاری و به معنی سبقت برای کامیون ممنوع می باشد.

ج. جزو تابلوهای انتظامی و به معنی سبقت برای کامیون ممنوع می باشد.

د. جزو تابلوهای انتظامی و به معنی سبقت برای کامیون مجاز می باشد.

پاسخ صحیح: ج

۱۴. در تابلو علائم عبور و مرور رنگ قرمز به معنی .... و تابلو مستطیل قائم معمولاً برای .... و .... استفاده می شود.

الف. رنگ قرمز برای راهنمای خدمات و تابلو مستطیل قائم برای علائم راهنما استفاده می شود

ب. رنگ قرمز برای مناطق اداری و آموزشی و تابلو مستطیل قائم برای علائم دستوری استفاده می شود

ج. رنگ قرمز منع کننده یا ایست و تابلو مستطیل قائم برای علائم دستوری و خدمات استفاده می شود

پاسخ صحیح: ج

۱۵. مفهوم تابلو زیر چیست؟



الف. سرعت بیش از ۳۰ کیلومتر

ب. پایان حداقل سرعت ۳۰ کیلومتر در ساعت

ج. حداقل سرعت ۳۰ کیلومتر در ساعت

د. هیچکدام

پاسخ صحیح: ب


۱۶. برای تنظیم صندلی کدامیک از شرایط ذیل باید مهیا گردد؟

الف. میدان دید طبیعی شما تامین گردد  
ب. تسلط کامل به فرمان گاز، کلاچ و ترمز پیدا نمود

ج. احساس راحتی و تسلط به اتومبیل را داشته باشید  
د. تمام موارد

پاسخ صحیح: د

۱۷. تابلو مقابل به چه معناست؟



ب. فقط عبور به راست مجاز است

الف. راه یک طرفه

د. فقط عبور مستقیم مجاز است

ج. خیابان یک طرفه

پاسخ صحیح: ج

۱۸. در کدامیک از موارد زیر نباید دنده عقب گرفت؟

ب. دنده عقب به داخل یک خیابان فرعی

الف. برای مسافت های طولانی

د. دنده عقب در مناطق مسکونی و شهری

ج. برای مسافتهایی که نمی شود پیاده طی کرد

پاسخ صحیح: الف

۱۹. چرا سبقت گرفتن از کامیون طویل (کشنده و یدک) خطرناکتر از سبقت گرفتن از یک اتومبیل معمولی است؟

الف. کامیونها ممکن است کنار کشیده و توقف کنند

ب. ترمزهای کامیونها به خوبی اتومبیلهای دیگر نیست

ج. کامیونها با سرعت کمتری نسبت به وسایل دیگر از تپه ها بالا میروند

د. کامیونها نسبت دیگر وسایل نقلیه کشیده تر هستند و سبقت گرفتن از آنها مسافت و زمان بیشتری را صرف میکند

پاسخ صحیح: د

۲۰. کدام تابلو به معنای ممنوع بودن عبور وسایل نقلیه موتوری است؟



د.



ج.



ب.



الف.

پاسخ صحیح: ب

۲۱. کلاچ گرفتن باعث کدامیک از موارد زیر می شود؟

- الف. کنترل راننده به حرکت و جهت اتومبیل کم می شود  
ب. کنترل راننده به حرکت و جهت اتومبیل بیشتر می شود  
ج. پیچیدن به طرفین و چرخاندن فرمان سخت تر می شود  
پاسخ صحیح: الف

۲۲. در مواقع طوفانی: در کدامیک از موارد زیر باید بیش از حد مراقب باشید؟

- الف. به هنگام عبور از کنار دوچرخه سواران و موتور سیکلت سواران  
ب. به هنگام سبقت  
ج. به هنگام استفاده از ترمزها  
د. به هنگام گردش  
پاسخ صحیح: الف

۲۳. برای جاده خیس ترمز می کنید وسیله شما شروع به لغزش می کند اولین کاری که باید انجام دهید چیست؟

- الف. به سرعت ترمز دستی را بکشید  
ب. ترمز را کاملاً آزاد کنید  
ج. با شدت بیشتری بر ترمز فشار آورید  
د. پای خود را بر روی کلاچ بگذارید  
پاسخ صحیح: ب

۲۴. تابلوی زیر چه خطری را هشدار میدهد؟




- الف. پارک  
ب. عبور اطفال  
ج. پلیس مدرسه  
د. عابر در حال عبور  
پاسخ صحیح: ب

۲۵. در حین رانندگی در صورت برخورد به موارد اضطراری کدامیک از اقدامات زیر را می بایست انجام داد؟

- الف. بلافاصله ترمز کرده و ماشین را به سمت کنار هدایت میکنیم
- ب. به اصاب خود مسلط شده و با هر دو دست فرمان را میگیریم تا اتومبیل را به سمت کنار جاده هدایت کنیم
- ج. ترمز ناگهانی نگرفته و با نگه داشتن هر دو دست بر فرمان و ایمن گردش کرده و از جاده خارج می شویم
- د. بلافاصله راهنما زده و با کم کردن سرعت اتومبیل را به سمت راست هدایت می کنیم
- پاسخ صحیح:ج

۲۶. مفهوم تابلو زیر را بگویید:

|  |                    |                           |
|--|--------------------|---------------------------|
|  | ب. عکسبرداری ممنوع | الف. نظارت با دوربین پلیس |
|  | د. سینما           | ج. کنترل تردد             |
|  | پاسخ صحیح:الف      |                           |

۲۷. هنگام دنده عقب گرفتن اتومبیل به علتی قادر به دیدن پشت سر خود نیستید چکار باید بکنید؟

- الف. شیشه را پایین آورده پشت سر را نگاه کنید
- ب. در را باز کرده و پشت سر را نگاه کنید
- ج. از افرادی بخواهید که شمارا کمک کنند و به شما فرمان بدهند
- د. به آینه بغل نگاه کنید
- پاسخ صحیح:ج



## ۲۸. حق تقدم عبور عبارتند از:

الف. رعایت حقوق رانندگان دیگر

ب. اولویت عبور از چراغهای راهنما

ج. ترتیب عبور و مرور در ۴ راه ها

د. اولویت حق عبور وسیله نقلیه ای که زودتر از وسایل نقلیه دیگر یا پیاده ها و بالعکس

پاسخ صحیح:د

۲۹. در تصویر زیر به دنبال کامیون به تقاطع میرسید. کامیون با دادن علامت قصد گردش به راست را

دارد. ولی به سمت چپ متمایل می شود چکار باید انجام داد.

الف. کاملاً فاصله را در پشت سر او حفظ کرده و فضا را برای گردش او آزاد می گذاریم

ب. جهت سبقت به او نزدیک می شوید

ج. تصور می کنید که علامت اشتباه است و قصد گردش به چپ را دارد

د. وقتی کامیون سرعت را کم نمود از او سبقت می گیریم



پاسخ صحیح:الف

## ۳۰. معنی تابلو روبرو چیست؟

الف. پیچ به راست

ب. گردش به راست

ج. گردش به راست ممنوع



پاسخ صحیح:الف



آزمون آیین نامه راهنمایی و رانندگی ایرانیان-تست درایو

سوالات آزمون آیین نامه مقدماتی شماره: ۱۴

[www.test-drive.ir](http://www.test-drive.ir)

۱۳. رنگ تابلوهای راهنمای مسیر در بزرگراهها چیست؟

الف. سبز      ب. سبز و مشکی      ج. زرد      د. قرمز

پاسخ صحیح: الف

۲. چه عاملی می تواند خطر ناشی از آسیب دیدگی گردن در موقع تصادف را کاهش دهد

الف. وجود پشته مناسب پشت سر و تنظیم شده      ب. کمربند

ج. صندلی مجهز به بالشتک هوا      د. ترمزهای ضد قفل

پاسخ صحیح: الف

۳. حساس و تنظیم نبودن ترمز پائی جز، جرائم رانندگی می باشد؟

الف. نقص جزئی می باشد      ب. بلامانع است

ج. نقص فنی نمی باشد      د. نقص فنی محسوب می شود

پاسخ صحیح: د

۴. در علائم عبور و مرور تابلو مثلث متساوی الاضلاع (نشسته روی قائده) به معنی؟

الف. علامت دستوری و بازدارنده      ب. علامت هشداردهنده برای خطر

ج. صرفا برای تابلو ایست      د. تابلو ایست و خدمات

پاسخ صحیح: ب

۵. این تابلو به چه معناست؟



الف. عبور دوچرخه سوار      ب. عبور دوچرخه ممنوع

ج. دوچرخه سوار مجاز به عبور نیست      د. دوچرخه سوار باید از دوچرخه پیاده شود

پاسخ صحیح: الف

۶. در خیابان شلوغ و پر ترافیک با سرعت مجاز در حال حرکت هستید. راننده اتومبیل پشت سر سعی می کند سبقت بگیرد، چه کاری باید انجام دهید؟

الف. به اتومبیل جلوئی نزدیک می شوید تا راننده ی جلوئی نتواند سبقت بگیرد

ب. با دست به راننده پشت سر علامت می دهید زمتنی که خطری نیست سبقت بگیرد

ج. بر سرعت خود اضافه میکنید تا اینکه راننده پشت سر فاصله بگیرد

د. مسیر صحیح و مستقیم خود را ادامه دهید تا راننده مذکور سبقت بگیرد

پاسخ صحیح:د

۷. بر روی یک راه لغزنده قسمت عقب اتومبیل شما به سمت راست می لغزد چکار باید انجام دهید؟

الف. از کلاج و ترمز به طور همزمان استفاده کنید

ب. ترمز کنید و فرمان را بچرخانید

ج. با دقت و مراقبت فرمان را به سمت چپ بچرخانید

د. با دقت و مراقبت فرمان را به سمت راست بچرخانید

پاسخ صحیح:د

۸. به هنگام رانندگی در شرایط یخبندان فرمان به راحتی می چرخد و چرخها به طرفین می پیچد علت آ» چیست؟

الف. چرخها اصطکاک مطلوبی با راه ندارند

ب. چرخها با راه اصطکاک بهتری دارند

ج. چرخها خیلی نرم هستند

د. چرخها خیلی سفت هستند

پاسخ صحیح:الف

۹. در شرایط یخبندان چگونه می توانید از لغزش چرخهای اتومبیل جلوگیری کنید؟

الف. اگر چرخها شروع به لغزندگی کرد از ترمز دستی استفاده کنید

ب. با سرعت کمتر و با دنده سنگین حرکت کنید

ج. در تمامی مواقع از دنده یک استفاده کنید

د. به دفعات بیشتر و به آرامی ترمز کنید

پاسخ صحیح: ب

۱۰. در شرایط جاده خیس و یخبندان در حال رانندگی هستید کدام مورد باید هنگام نزدیک شدن به پیچ تند رعایت شود؟

الف. هنگام رسیدن به پیچ با سرعت بیشتری برانید

ب. قبل رسیدن به پیچ از سرعت خود بکاهید و تا حد امکان با دنده سنگین حرکت کنید

ج. به آرامی ترمز دستی را بکشید

د. در تمامی مدت کلاچ را پایین نگه دارید

پاسخ صحیح: ب

۱۱. قصد وارد شدن به خیابان فرعی را دارید افراد پیاده شروع به عبور از یک سوی خیابان به سوی دیگر کرده اند چکار باید انجام دهید؟

الف. توقف کرده و به آنان اجازه عبور دهید

ب. با دست اشاره کنید تا عبور کنند

ج. بوق زده و عبور کنید

د. به حرکت ادامه داده و با فاصله ی زیادی از مقابل آنها عبور کنید

پاسخ صحیح: الف

۱۲. کدامیک از تابلوهای زیر به معنای جریان همگرا است؟



د.



ج.



ب.



الف.

پاسخ صحیح: الف

۱۳. هنگامیکه از نزدیکی مدرسه ای عبور میکنید احتمال عبور کودکان وجود دارد چه اقدامی انجام میدهید؟

الف. با روشن کردن چراغ به آنها هشدار میدهید

ب. همیشه سرعتی مناسب داشته باشید پیش بینی خطرات جانبی را بمائید

ج. قبل ورود کودکان به سواره رو با سرعت از منطقه عبور می کنید

د. با بوق زدن مداوم آنان را از عبور خود آگاه سازید

پاسخ صحیح: ب


۱۴. علامت زیر که در آزادراهها نصب میگردد به چه معناست؟

الف. فاصله شما تا پل نشان می دهد

ب. فاصله تا تلفن بعدی را نشان می دهد

ج. فاصله شما را تا خروجی بعدی نشان میدهد

د. نشان دهنده محل بازرسی پلیس



پاسخ صحیح: ج

۱۵. در یک منطقه مسکونی به یک سرعت گیر نزدیک میشوید شما باید ...

الف. با همان سرعت به حرکت خود ادامه دهید

ب. از قسمت چپ جاده عبور کنید

ب. به سرعت خود بیافزایید

د. سریعاً سرعت خود را کاهش دهید

پاسخ صحیح: د

۱۶. حساس و میزان نبودن ترمز پایی ..... جزء جرائم رانندگی می باشد

الف. یک نقص جزئی است      ب. بلامانع است

ج. نقص فنی نمی باشد      د. نقص فنی محسوب می گردد

پاسخ صحیح: د

۱۷. در شکل زیر حق تقدم با کدام وسیله است؟

الف. قرمز

ب. سفید

ج. مشکی

د. همه با هم



پاسخ صحیح: ج

۱۸. رنگ تابلو در بزرگراهها و آزادراهها به ترتیب ...

الف. سبز و آبی

ب. قرمز و آبی

ج. سبز و قرمز

د. قرمز و نارنجی

پاسخ صحیح: الف

۱۹. روشن بودن چراغ زرد به چه معناست؟

الف. آماده ادامه مسیر باشید

ب. در پشت خط بایستید

ج. اگر افراد پیاده ای در حال عبور نباشند ادامه مسیر دهید

د. اگر راه باز باشد ادامه مسیر دهید

پاسخ صحیح: ب

۲۰. بهترین نوع دور زدن در خیابان های کم عرض ...

الف. دور یک فرمان

ب. حرکت با دنده عقب

ج. دور دو فرمان

د. هیچکدام

پاسخ صحیح: ج

۲۱. مفهوم تابلوهای زیر چیست؟



الف. تقاطع جاده و راه آهن بدون راه بند، نصب در ۳۰۰ متری

ب. تعیین فاصله ۳۰۰ متری با راه بند

ج. تقاطع جاده و راه آهن با راه بند، نصب در ۳۰۰ متری

د. ۱۰۰ متر مانده به راه آهن

پاسخ صحیح: ج

۲۲. پس از سبقت چه زمانی می بایست به خط اولیه بازگشت؟

الف. وقتی به اتومبیل مقابل نزدیک می شوید

ب. هنگامی که از اتومبیلی که از آن سبقت گرفتید گذشته باشید

ج. پس از زدن راهنما و اطمینان از عبور اتومبیل کناری

د. زمانی که چراغ های بزرگ اتومبیلی را که از آن سبقت گرفته اید در آینه داخل اتومبیل مشاهده کنید

پاسخ صحیح: د

۲۳. مفهوم تابلوی زیر چیست؟



ب. توقف در ایستگاه اتوبوس ممنوع

الف. به ایستگاه نزدیک می شوید

د. ایستگاه اتوبوس

ج. ایستگاه

پاسخ صحیح: د

۲۴. در صورتی که فاصله شما تا اتومبیل جلوئی در شب ۵۰ متر باشد باید از .... .... ....

ب. نور پایین استفاده کرد

الف. نور بالا استفاده کرد

د. از نور بالا و پایین استفاده کرد

ج. چراغ ها را خاموش کرد

پاسخ صحیح: ب

## ۲۵. کدام گزینه ناصحیح است؟

الف. سبقت گرفتن در تونل ها بلامانع است | ب. در تقاطع ها سبقت گرفتن ممنوع است

ج. در سر پیچ های تند و سربالایی ها دور زدن ممنوع است

د. سبقت از وسیله ای که خود در حال سبقت گرفتن است ممنوع است

پاسخ صحیح: الف

## ۲۶. راننده اتومبیلی که به گذرگاه هم سطح راه آهن می رسد چه کار باید انجام دهد

الف. با سرعت عبور کند      ب. با دقت و مراقبت عبور کند

ج. قبل از مانع توقف کند      د. چراغ های خطر را روشن کند

پاسخ صحیح: ج

## ۲۷. کدام گزینه ناصحیح است؟

الف. حداقل سرعت در آزادراهها ۷۰ کیلومتر در ساعت و حداکثر ۱۲۰ کیلومتر برای سواری و وانت

ب. حداکثر سرعت در جاده های اصلی ۹۵ کیلومتر در ساعت در روز

ج. حداکثر سرعت در جاده های اصلی ۸۵ کیلومتر در ساعت در شب

د. حداکثر سرعت در جاده های فرعی ۷۵ کیلومتر در ساعت در روز

پاسخ صحیح: د

## ۲۸. مفهوم تابلوی زیر چیست؟



الف. رعایت حق تقدم      ب. خطر کولاک و مه

ج. خطر      د. علامت تعجب

پاسخ صحیح: ج

## ۲۹. مفهوم تابلوی زیر چیست؟



الف. زیرگذر یا روگذر      ب. راهروی مخصوص عابرین

ج. پل هوایی و تونل زیر گذر پیاده      د. مسیر مخصوص عابرین پیاده

پاسخ صحیح: الف



۳۰. مفهوم تابلوی زیر چیست؟



الف. تقاطع با راه آهن دو خط      ب. تقاطع دو خط آهن با یکدیگر

ج. تقاطع مانع با راه آهن      د. تقاطع با راه آهن

پاسخ صحیح: الف



## آزمون آیین نامه راهنمایی و رانندگی ایرانیان - تست درایو

سوالات آزمون آیین نامه مقدماتی شماره: ۱۵

[www.test-drive.ir](http://www.test-drive.ir)

### ۱. تاثیرات موارد مخدر چیست؟

الف. اعتنا نکردن به قوانین رانندگی و فرامین پلیس

ب. افزایش اعتماد به نفس کاذب - کاهش هوشیاری

ج. بر هم زدن نظم رانندگی

د. عدم کنترل راننده در شرایط ضروری

پاسخ صحیح: ب

### ۲. برای استفاده از ترمز در حین رانندگی بهتر است ....

الف. تمام کف پا روی پدال ترمز قرار دهید

ب. پاشنه پا روی کف اتومبیل گذاشته و با پنجه پدال ترمز را فشار دهید

ج. با کف پا ترمز را به آهستگی فشار داده و همزمان کلاچ را بگیرید

د. پاها همواره برای ترمز گرفتن باشد

پاسخ صحیح: ب

### ۳. شما موقعی می توانید شروع به حرکت کنید که :

الف. بعد از حرکت اقدام به بستن کمربند نمایید

ب. از بسته شدن کمربند ایمنی خود و سایر سرنشینان اطمینان حاصل نمایید

ج. از بسته شدن کمربند ایمنی خود اطمینان حاصل کنید

د. از بسته شدن کمربند ایمنی سرنشینان اطمینان حاصل نمایید

پاسخ صحیح: ب

۴. در صورت ایجاد نقص فنی تابلو احتیاط را در فاصله ..... متری در جاده و یا اگر بزرگراه می باشید در فاصله .... متری قرار دهید.

الف. جاده ۸۰ بزرگراه ۱۵۰

ب. جاده ۷۰ بزرگراه ۱۳۰

ج. جاده ۱۵۰ بزرگراه ۷۰

د. جاده ۷۰ بزرگراه ۱۵۰

پاسخ صحیح:د

۵. در هنگام شب رانندگی می کنید و نور بالای چراغ اتومبیلهایی که از روبرو می آیند چشم های شما را خیره می کند چکار باید انجام دهید؟

الف. به طور مستقیم به نور چراغ اتومبیل روبرو نگاه کنید و از نگاه کردن به سمت راست خودداری کنید

ب. به طور مستقیم به نور چراغ روبرو نگاه نکنید و سمت راست راه را نگاه کنید و از گوشه چشم به اتومبیل روبرو توجه کنید

ج. نور بالای اتومبیل را روشن کنید و به وسیله نقلیه مقابل توجه نکنید.

پاسخ صحیح:ب

۶. هنگامیکه قصد دارید از یک وسیله نقلیه طویل که آهسته حرکت می کند در یک جاده شلوغ سبقت بگیرید چکار باید انجام دهید؟

الف. با فاصله کمی پشت وسیله حرکن کنید تا بتوانید بلافاصله سبقت بگیرید

ب. چراغ های بزرگ را برای وسیله نقلیه ای که از روبرو می آیند روشن کنید تا اجازه دهند که عبور کنید

ج. در پشت وسیله منتظر بمانید تا راننده به شما اشاره کند که عبور کنید

د. با فاصله کافی پشت وسیله نقلیه حرکت کنید تا بتوانید قسمت جلویی وسیله مذکور را ببینید تا زمان

مناسب و ایمن برای سبقت فراهم شود

پاسخ صحیح:د

۷. پوشیدن کفش مناسب به هنگام رانندگی بسیار اهمیت دارد. علت این امر چیست؟

الف. به منظور حفظ کنترل صحیح برروی پدالها

ب. به منظور راحتی پیاده روی در مواقع نقص اتومبیل

ج. به منظور ممانعت از ساییدگی سطح لاستیک پدالها

د. به منظور تعویض سریع دنده

پاسخ صحیح:الف

۸. برای روشن کردن اتومبیل اولین کاری که باید انجام شود چیست؟

الف. گرفتن کلاچ با پای چپ      ب. تنظیم آینه ها و خلاص کردن دنده و روشن کردن

ج. ترمز گرفتن      د. خلاص کردن دنده تنظیم صندلی بستن کمربند روشن کردن

پاسخ صحیح:الف

۹. زمانی که رانندگان چراغهای بزرگ را روشن و خاموش می کنند برای شما به چه معناست؟

الف. به شما حق تقدم می دهند

ب. شما را از وجود خود مطلع می کنند

ج. به شما اطلاع می دهند که وسیله شما دارای نقص و اشکال است

د. به شما اطلاع می دهند که گشت پلیس در جاده حضور دارد

پاسخ صحیح:ب

۱۰. در وضعیت راه خشک و هوای خوب فاصله بین شما و اتومبیل جلویی .... می باشد

الف. یک ثانیه      ب. دو ثانیه      ج. سه ثانیه      د. چهار ثانیه

پاسخ صحیح:ب

۱۱. قصد دارید تا منزل رانندگی کنید عینک خود را جهت رانندگی لازم دارید پیدا نمی کنید چه اقدامی می بایست انجام دهید؟

الف. به هنگام شب رانندگی کنید تا اینکه نور معابر به شما کمک نماید

ب. از مسیرهای خلوت به آرامی برانید

ج. باید به طریقی به منزل بروید که به رانندگی نیاز نباشد

د. از عینک یکی از دوستان استفاده کرده تا منزل رانندگی کنید

پاسخ صحیح: ج

۱۲. تابلوهای به شکل دایره با نوار حاشیه قرمز از کدام دسته تابلوها هستند؟

الف. بازدارنده یا انتظامی      ب. هشداردهنده یا خطاری      ج. آگاهی دهنده یا اخباری

پاسخ صحیح: الف

۱۳. در راه بدون جدول کناری و پارک در سربالایی ....

الف. باید فرمان به چپ (خلاف عقربه ساعت) چرخانده شود

ب. باید فرمان به راست (موافق جهت عقربه ساعت) چرخانده شود

ج. فرمان مستقیم نگه داشته شود      د. الف و ج صحیح است

پاسخ صحیح: ب

۱۴. در حریم تابلوی ایستادن ممنوع ....

الف. فقط برای پیاده و سوار کردن مسافر، توقف بلامانع است      ب. برای یک لحظه هم توقف نمی کنید

ج. به هیچ وجه پارک نمی شود کرد ولی می شود توقف کرد      د. بستگی به موقعیت دارد

پاسخ صحیح: ب

۱۵. چه عاملی می تواند میزان خطر ناشی از آسیب دیدگی گردن را در موقع تصادف کمتر کند؟

الف. وجود پشت سری      ب. کمربند      ج. صندلی مجهز به بالشتک هوا      د. ترمز ضدقفل

پاسخ صحیح: الف

۱۶. در چه فاصله ای از تقاطع ها دور زدن ممنوع بوده و حداکثر سرعت در جاده های اصلی در شب چقدر است؟

د. ۹۰-۱۲۰

ج. ۸۵-۱۵۰

ب. ۹۵-۱۵۰

الف. ۸۵-۱۵۰

پاسخ صحیح: الف

۱۷. تابلوی زیر به چه معناست؟



ب. عبور با عرض بیش از دو متر ممنوع

الف. عبور با ارتفاع بیش از دو متر ممنوع

د. عبور با ارتفاع بیش از دو متر مجاز

ج. عبور با عرض بیش از دو متر مجاز

پاسخ صحیح: ب

۱۸. کدامیک از تابلوهای زیر به معنی (محدوده توقف ممنوع در طول شبانه روز) می باشد



د. هیچکدام

ج.



ب.



الف.

پاسخ صحیح: الف

۱۹. راننده قبل حرکت اتومبیل موظف است ...

الف. از داشتن بنزین مطمئن شود

ب. از بسته بودن کمر بند ایمنی خود و دیگر سرنشینان مطمئن گردد

ج. آب و روغن ماشین را کنترل نماید

د. ترمزهای خود را کنترل نماید

پاسخ صحیح: ب

۲۰. قوانین و راهنمای در جاده به چه طریقی به راننده اطلاع داده می شود؟

د. گزینه الف و ب

ج. رنگ خطوط

ب. علائم

الف. تابلو

پاسخ صحیح: د

۲۱. کدام گزینه صحیح است؟

الف. سبقت گرفتن در تونلها با رعایت نکات ایمنی بلامانع است

ب. سبقت گرفتن برای اتوبوسها در معابر شهری ممنوع نیست

ج. در سر پیچهای تند و سر بالایی ها دور زدن ممنوع است

د. سبقت از وسیله ای که خود در حال سبقت گرفتن است ممنوع نیست

پاسخ صحیح: ج

۲۲. حداکثر سرعت مجاز انواع سواری ها و اتوبوسها در آزادراهها به ترتیب کدام گزینه است؟

ب. سواری ۱۱۰ - اتوبوس ۱۲۰

الف. سواری ۱۲۰ - اتوبوس ۱۱۰

د. اتوبوس ۱۲۰ - سواری ۹۵

ج. اتوبوس ۸۵ - سواری ۱۱۰

پاسخ صحیح: الف

۲۳. وجود تابلویی به شکل زیر در جاده به چه معناست؟



الف. تنها باید با سرعت مشخص شده در تابلو رانندگی کنید

ب. سرعت مذکور حداقل سرعتی است که توصیه می شود

ج. نباید از سرعت نشان داده شده در تابلو تجاوز کنید

د. سرعت مذکور برای شرایط مختلف جاده و آب و هواست

پاسخ صحیح: ج

۲۴. مفهوم تابلو زیر چیست؟



ب. خطر سقوط در دریا

الف. خطر پل متحرک

د. خطر سقوط در آب

ج. خطر سقوط

پاسخ صحیح: د

۲۵. برای جلوگیری از لغزندگی اتومبیل در شرایط یخبندان چه تمهیداتی لازم است؟

الف. اگر چرخها شروع به لغزندگی کرد از ترمز دستی استفاده کنید

ب. در تمامی مواقع از دنده یک استفاده کنید

ج. با سرعت کمتر و با دنده سنگین حرکت کنید

د. به دفعات بیشتر و به آرامی ترمز کنید

پاسخ صحیح: ج

۲۶. چه چیز موجب بهم ریختن تمرکز شما در رانندگی خواهد شد؟

الف. نگاه کردن به اطراف اتومبیل

ب. نگاه کردن به آینه اتومبیل

ج. استفاده از شیشه شور اتومبیل

د. نگاه کردن به نقشه گوش کردن به موزیک با صدای بلند و استفاده از تلفن همراه

پاسخ صحیح: د

۲۷. سبقت گرفتن در پیچهای تند و سر بالایی ها چه مورد قانونی را شامل می شود؟

الف. ممنوع است

ب. ضروری است

ج. با احتیاط کامل میتوان سبقت گرفت

د. بلامانع است

پاسخ صحیح: الف

۲۸. در حال رانندگی در جاده خیس به دنبال اتومبیلی دیگر فاصله زمانی ایمن از اتومبیل جلویی چقدر باید باشد؟

الف. ۸ ثانیه

ب. ۶ ثانیه

ج. ۴ ثانیه

د. ۲ ثانیه

پاسخ صحیح: ج



۲۹. وقتی در حین رانندگی حواس شما متوجه چیزهای دیگر باشد اینکار:

الف. تصمیم سریع و عکس العمل به موقع را از شما خواهد گرفت

ب. قادر به تصمیم گیری نخواهید بود

ج. عکس العملی از خودتان نشان نخواهید داد

د. ممکن است مسیر خود را اشتباه بروید

پاسخ صحیح: الف

۳۰. آمادگی در رانندگی شامل چه مواردی است؟

الف. خطایی دیگران را پیش بینی کردن

ب. مشاهده پیش بینی، تمرکز، آگاهی، عدم حواس پرتی

ج. مهارت در رانندگی

د. آگاهی داشتن از وضعیت رانندگی دیگران

پاسخ صحیح: ب



آزمون آیین نامه راهنمایی و رانندگی ایرانیان-تست درایو

سوالات آزمون آیین نامه مقدماتی شماره: ۱۶

[www.test-drive.ir](http://www.test-drive.ir)

۱. قفل‌های خاص کودکان که در وسیله نقلیه نصب می شود برای چه منظوری است؟

الف. جهت قفل کردن پنجره های درب عقب

ب. برای اینکه کودکان بطور نا خواسته درب عقب اتومبیل را باز نکنند

ج. جهت ممانعت از حرکت صندلی های عقب

د. جهت قفل کردن سگک کمربند ایمنی

پاسخ صحیح: ب

۲. حق تقدم عبور در تصویر مقابل با کدام است؟



ب. اتومبیل سفید شماره ۲

د. اتومبیل سفید شماره ۱

پاسخ صحیح: ج

الف. همه حق تقدم عبور یکسان دارند

ج. اتومبیل سیاه رنگ

۳. در چهارراهی با میدان دید کم در حال حرکت هستید چکار باید انجام دهید؟

الف. بدون توجه به طرفین به حرکت ادامه دهید

ب. در حالیکه طرف راست را نگاه می کنید کاملاً آهسته حرکت کنید

ج. در حالیکه طرفین را نگاه می کنید به آهستگی حرکت کنید

د. آماده باشید که به سرعت حرکت کنید

پاسخ صحیح: ج

۴. وسیله نقلیه ای که در مسیر مجاز در حال حرکت است حق تقدم عبور دارد بر ....

الف. وسیله نقلیه در حال جلو رفتن(عقب، جلو کردن)

ب. وسیله نقلیه در حال دور زدن

ج. وسیله نقلیه در حال توقف یا در حال شروع حرکت

د. هر سه موارد صحیح است

پاسخ صحیح:د

۵. در صورتیکه فاصله شما تا اتومبیل جلویی در شب ۵۰ متر باشد باید از ...

الف. نور بالا استفاده کرد

ب. نور پایین استفاده کرد

ج. چراغها را خاموش کرد

د. از نور بالا و پایین استفاده کرد

پاسخ صحیح:ب

۶. راننده اتومبیل که به گذرگاه هم سطح راه آهن میرسد چه کار باید بکند؟

الف. با سرعت عبور کند

ب. با دقت و مراقبت عبور کند

ج. قبل از مانع عبور کرد

د. چراغهای خطر را روشن کرد

پاسخ صحیح:ج

۷. کدام گزینه ناصحیح است؟

الف. حداقل سرعت در آزادراه ۷۰ کیلومتر و حداکثر ۱۲۰ کیلومتر در ساعت برای سواری و وانت

ب. حداکثر سرعت در جاده های اصلی ۹۵ کیلومتر در روز

ج. حداکثر سرعت در جاده های اصلی ۸۵ کیلومتر در شب

د. حداکثر سرعت در جاده های فرعی ۷۵ کیلومتر در روز

پاسخ صحیح:د

۸. کدامیک از گزینه های زیر درست می باشد؟

الف. رنگ نارنجی در علائک عبور و مرور به معنی راهنما برای مناطق تفریحی و فرهنگی می باشد

ب. تابلوی ایست از تابلوهای اختیاری می باشد

ج. مابین شما و اتومبیل جلویی باید یک فاصله زمانی ۲ ثانیه ای وجود داشته باشد

د. در سراسیمی در صورت پایین نگه داشتن کلاج و خلاص بودن دنده سرعت اتومبیل افزایش نمی یابد

پاسخ صحیح:ج

۹. خطوط زیگزاگ به رنگ زرد در حاشیه راههای متصل به پیاده رو به چه معناست؟

الف. ایستادن روی آنها آزاد است

ب. عبور کردن و ایستادن روی آنها در شرایط اضطراری آزاد است

ج. توقف اتومبیل روی آنها بلامانع است

د. عبور کردن و ایستادن روی آنها ممنوع است

پاسخ صحیح:د

۱۰. در خیابان یک طرفه باید در کدام سمت اتومبیل را پارک کرد؟

الف. در خیابان یک طرفه نمی توان پارک کرد

ب. چپ

ج. در هر دو طرف پارک شود مانعی ندارد

د. راست

پاسخ صحیح:د

۱۱. تابلوی دستوری و خدماتی در علائم عبور و مرور به چه شکل نشان داده می شود؟

الف. مستطیل قائم

ب. مستطیل افقی

ج. مستطیل پرچمی

د. لوزی

پاسخ صحیح:الف

۱۲. در علائم عبور و مرور راهنما برای مناطق تفریحی و فرهنگی و گردشگری به چه رنگی

مشخص شده است؟

الف. نارنجی

ب. زرد

ج. قهوه ای

د. سبز

پاسخ صحیح:ج

۱۳. تابلو به معنای فقط گردش به راست مجاز می باشد به چه شکل نمایش داده میشود؟

الف. دایره شکل با زمینه قرمز      ب. مثلث شکل با زمینه قرمز

ج. دایره شکل با زمینه آبی      د. دایره شکل با زمینه سفید

پاسخ صحیح: ج

۱۴. حداکثر میزان سرعت در خیابانهای شریانی اصلی چند کیلومتر در ساعت است؟

الف. ۵۰      ب. ۶۰      ج. ۳۰      د. ۷۰

پاسخ صحیح: ب

۱۵. هر باری که بر روی باربند سقف اتومبیل حمل می شوید باید؟

الف. تا حد امکان سبک باشد      ب. محکم بسته شود

ج. با یک پوشش پلاستیکی پوشیده شود      د. زمانیکه نیاز باشد حمل شود

پاسخ صحیح: ب

۱۶. کدامیک از خطوطه زیر در طول راه کشیده می شود؟

الف. خطوط توقف      ب. خطوط ایست      ج. خطوط زیگزال      د. موارد الف و ب

پاسخ صحیح: ج

۱۷. برای علامت دادن به منظوره گردش به راست در صورتیکه راهنمای شما خراب باشد دست

خود را به کدام حالت باید جهت اطلاع سایر رانندگان حرکت دهید؟

الف. دست چپ خود را از آرنج به طرفه بالا خم کنید و به طور عمودی نگه دارید

ب. دسته چپ خود را به صورت افقی قرار دهید

ج. دست چپ خود را از بالا به پایین حرکت دهید

د. دست خود را بیرون برده و بالا پایین میبرید

پاسخ صحیح: الف

۱۸. رانندگان وسیله نقلیه با دیدن چراغ چشمک زدن زرد در تقاطع و گذرگاه پیاده چه عملی را باید انجام دهند؟

الف. باید توقف نموده و پس از اطمینان از نبودن خطر تصادف عبور نمایند

ب. با احتیاط و سرعت کم عبور نمایند

ج. توقف کامل نمایند در صورت نبودن خط ایست در فاصله ۵ متری چراغ راهنمایی و رانندگی بایستند

د. موارد الف و ج

پاسخ صحیح: ب

۱۹. تابلو به شکل مثلث به معنای تقاطع از کدام نوع تابلوها است؟

الف. هشدار دهنده یا اخطاری

ب. بازدارنده یا انتظامی

ج. آگاهی دهنده یا اخباری

د. محلی

پاسخ صحیح: الف

۲۰. شما چه زمانی چراغ هشداردهنده خطر را روشن می نمایید؟

الف. زمانی که در آب و هوای بد رانندگی می کنید

ب. زمانی که یک اتومبیل دارای نقص فنی را بکسل می کنید

ج. زمانی که در محل نا مناسب پارک کرده اید

د. زمانی که شما نمی توانید از توقف اجباری اجتناب کنید

پاسخ صحیح: د

۲۱. در آزادراهی لاستیک اتومبیل شما پنچر میشود چه کار می کنید؟

الف. در همان محل توقف می کنید

ب. به آرامی در خط عبور توقف کرده و چرخ را هر چه سریعتر عوض می کنید

ج. در خط توقف اضطراری توقف اضطراری توقف می کنید

د. چراغهای خطر را روشن می کنید و در باند خودتان متوقف می شوید

پاسخ صحیح: ج

۲۲. قانون و مقررات اولیه در هنگام حرکت کردن منتها الیه سمت ..... می باشد مگر برای ....  
گرفتن.

|                |                                       |
|----------------|---------------------------------------|
| الف. چپ - سبقت | ب. راست - سبقت                        |
| ج. چپ - سبقت   | د. راست - علامت دادن به راننده پشت سر |
| پاسخ صحیح: ب   |                                       |

۲۳. فاصله زمانی ۲ ثانیه بین شما و وسیله نقلیه جلویی چه وقتی مناسب است؟

|                                    |                           |
|------------------------------------|---------------------------|
| الف. هوا ابری و بارانی در حال بارش | ب. هوا برفی و در حال بارش |
| ج. هوا آفتابی و راه خشک            | د. زمین لیز و لغزنده باشد |
| پاسخ صحیح: ج                       |                           |

۲۴. تابلو روبرو به چه معناست؟

|              |                |
|--------------|----------------|
| الف. پارکینگ | ب. مترو        |
| ج. پارک سوار | د. محدوده پارک |
| پاسخ صحیح: ج |                |



۲۵. مفهوم تابلو روبرو چیست؟

|                               |                      |
|-------------------------------|----------------------|
| الف. کاهش خطوط عبور           | ب. افزایش خطوط عبور  |
| ج. بسته بودن یکی از خطوط عبور | د. خط عبور برای گریز |
| پاسخ صحیح: الف                |                      |



۲۶. اگر باد لاستیک زیاد باشد چه خطرهایی به دنبال دارد؟

|                          |               |
|--------------------------|---------------|
| الف. کشیده شدن به یک سمت | ب. کوبش       |
| ج. خطر ترکیدن            | د. تمام موارد |
| پاسخ صحیح: د             |               |

۲۷. در ۳ راه تا چه فاصله ای توقف ممنوع می باشد؟

الف. ۲۰ متری      ب. ۱۰ متری      ج. ۱۵ متری      د. ۵ متری

پاسخ صحیح: ج

۲۸. حق تقدم در شکل روبرو به ترتیب با کدام اتومبیل است؟

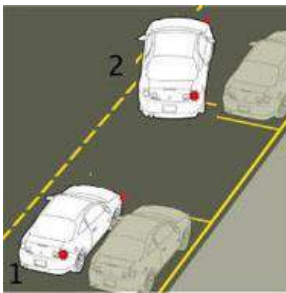


الف. آبی زرد قرمز      ب. آبی قرمز زرد

ج. قرمز آبی زرد      د. زرد قرمز آبی

پاسخ صحیح: الف

۲۹. حق تقدم در شکل روبرو برای کدام اتومبیل می باشد؟



الف. ۱      ب. ۲

ج. کسی که زودتر شروع به پارک نموده

د. اتومبیل ۳ (که ۵ دقیقه دیگر می رسد)

پاسخ صحیح: ب

۳۰. کدامیک از علائم زیر بر فرمان پلیس مقدم میباشد؟

الف. چراغ راهنما      ب. تابلوهای بازدارنده

ج. خط کشی زوج      د. هیچ کدام

پاسخ صحیح: د





آزمون آیین نامه راهنمایی و رانندگی ایرانیان-تست درایو

سوالات آزمون آیین نامه مقدماتی شماره: ۱۷

[www.test-drive.ir](http://www.test-drive.ir)

۱. تابلوی پنج ضلعی با راس فوقانی به چه منظور است؟

الف. ایست

ب. حاشیه و جهت نما به راست

ج. مدرسه

د. رعایت حق تقدم

پاسخ صحیح: ج

۲. در هنگام پارک خودرو کنار خیابان به چه نکاتی باید توجه کرد؟

الف. به اندازه و وزن خودرو

ب. به عرض خیابان

ج. مانع استفاده سایر استفاده کنندگان نباشید

د. هیچکدام

پاسخ صحیح: ج

۳. آلودگی دیداری به چه معناست؟

الف. هوای مه آلود

ب. تاثیر عینی نامطلوب ناشی از تردد وسایل نقلیه

ج. تاثیرات مخرب گازهای خروجی از وسایل نقلیه

د. تاثیر بر میزان دید راننده

پاسخ صحیح: ب

۴. سطح روغن در چه بازه زمانی باید بازدید گردد؟

الف. هر ماه

ب. هر روز

ج. هر هفته

د. ۲ روز یک بار

پاسخ صحیح: ج

۵. رفتارهای نابهنجار ترافیکی همچون تخلفات، تصادفات، حرکات مارپیچ، سبقت های غیر مجاز باعث چه مشکلی میگردند؟

الف. پرخاشگری اجتماعی و ترافیکی

ب. مشکلات روحی و روانی

ج. مشکلات ترافیک و شخصیتی

د. ایجاد آلودگی صوتی و آلودگی هوا

پاسخ صحیح: الف

۶. عوامل موثر برای اجرای قوانین و ایجاد روش های صحیح رانندگی چه مواردی می باشد؟

الف. اجتناب از زمان های اوج ترافیک برای استفاده از خودرو

ب. استفاده از وسایل حمل و نقل عمومی

ج. رعایت حق تقدم و رعایت سرعت مجاز

د. تمام موارد

پاسخ صحیح: ج

۷. کدام گزینه سهم بیشتری در آلودگی هوا را تشکیل می‌دهد؟

الف. کارخانجات

ب. وسایل موتوری

ج. لوازم گرمایشی و سرمایشی

د. موتور سیکلت ها

پاسخ صحیح:ب

۸. مهمترین دلیل برای عدم استفاده از جیب به عنوان جعبه ابزار کدام گزینه می باشد؟

الف. گم شدن ابزار که این امر باعث می شود در موقع نیاز ابزار مورد نیاز موجود نباشد

ب. کثیف شدن و یا پاره شدن لباس به وسیله پیچ گوشتی و ابزار

ج. امکان فرو رفتن ابزار به بدن در صورت افتادن بر روی زمین

د. هیچکدام

پاسخ صحیح:ج

۹. برای پاک کردن رنگ های مزاحم و قیر از روی بدنه ماشین از چه وسیله ای باید استفاده کرد؟

الف. با شست و شوی خودرو از بین می رود

توسط سمباده نرم پاک می شود

ج. توسط بنزین پاک می شود

د. توسط حلال مناسب که به رنگ صدمه نزند

پاسخ صحیح:د

۱۰. اولین کاری که در یک صحنه تصادف باید انجام داد کدام گزینه است؟

الف. جلوگیری از وقوع حادثه دیگر

ب. حفظ صحنه تصادف

ج. خروج مصدومان از اتومبیل

د. فلاشرهای خودرو را روشن نمود

پاسخ صحیح: الف

۱۱. فشار باد لاستیک در چه بازه زمانی باید تنظیم گردد؟

الف. هر روز

ب. هفته ای یک بار

ج. هر ماه

د. هر ۳ ماه

پاسخ صحیح: ب

۱۲. راه محلی چگونه راهی می باشد؟

الف. خیابان های شریانی فرعی به اصلی را متصل می کند

ب. کوچه ها را به خیابان های شریانی اصلی متصل می کند

ج. کوچه ها را به خیابان های فرعی متصل می کند

د. خیابان های محلی را به خیابان های اصلی متصل می کند.

پاسخ صحیح: ج

۱۳. خط کشی (چهارخانه های زرد و مشکی) نشان دهنده چیست . کجا کشیده میشود؟

الف. از کنار آن یابد رد شد و در کنار میدان ها ترسیم می گردد

ب. قبل از خطوط توقف نموده در تقاطع ها ترسیم می گردد

ج. سرعت را کم نموده با احتیاط از روی آن رد شوند و در بزرگراهها ترسیم میگردد

د. با رسیدن به این خطوط باید سریع رد شد و در چهار راهها ترسیم می گردد

پاسخ صحیح: ب

۱۴. محدود نمودن سرعت در راهها چگونه مشخص می شود؟

الف. علائم

ب. تابلوها

ج. خط کشی ها

د. فلش ها

پاسخ صحیح: ب

۱۵. خط ممتد و مقطع ترکیبی به چه معناست؟

الف. رانندگان به هیچ وجه نباید از روی آن رد شوند

ب. ایستادن روی آن ممنوع است

ج. برای تفکیک گذرگاه استفاده میشود و سبقت روی آن اشکال ندارد

د. رانندگان در سمت ممتد اجازه عبور از روی آن را ندارند اما در قسمت مقطع می توانند عبور نمایند

پاسخ صحیح: د

۱۶. هنگام ورود به میدان حق تقدم عبور با کدام وسیله است؟

الف. اتومبیل در حال دنده عقب

ب. اتومبیل در حال ورود به میدان

ج. اتومبیل در حال حرکت در میدان

د. گزینه ب و ج

پاسخ صحیح: ج

۱۷. حق تقدم عبور به ترتیب کدام یک می باشد؟



الف. زرد قرمز آبی

ب. زرد آبی قرمز

ج. قرمز زرد آبی

د. آبی زرد قرمز

پاسخ صحیح: ب

۱۸. رنگ تابلوها در بزرگراه ..... و آزادراه ..... می باشد.

الف. قرمز آبی

ب. سبز آبی

ج. مشکی سفید

د. آبی سبز

پاسخ صحیح: ب

۱۹. چرا در سطح جاده های خیس برفی و لغزنده باید از دنده سنگین استفاده کرد؟

الف. جهت ترمز سریع

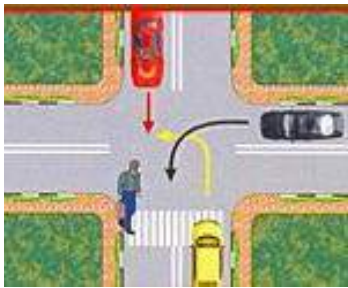
ب. جهت حرکت سریع

ج. جهت ممانعت از لغزش چرخ ها

د. ممانعت از چپ و راست رفتن چرخ ها

پاسخ صحیح: ج

۲۰. حق تقدم در شکل روبرو ..... می باشد.



الف. قرمز

ب. زرد

ج. مشکی

د. عابر

پاسخ صحیح: د

۲۱. در خیابان پرترافیک وسایل نقلیه پشت سر هم در حال حرکت می باشند چگونه می توان از بروز حادثه جلوگیری نمود؟

الف. فاصله خود را با اتومبیل جلویی افزایش دهید

ب. پای خود را روی ترمز قرار دهید

ج. چراغ های خطر را روشن کنید

د. در شانه خاکی توقف نموده

پاسخ صحیح: الف

۲۲. برای کمک رسانی به فرد آسیب دیده چه کاری باید انجام داد؟

الف. بالا و پایین رفتن سینه بیمار نگاه کنید

ب. به خروج هوا طی بازدم گوش کنید

ج. جریان هوا را با برخورد به صورت خود احساس نمایید

د. تمام موارد

پاسخ صحیح: د

۲۳. مفهوم تابلو مقابل چیست؟



الف. سربالایی خطرناک

ب. خطر سقوط در آب

ج. شیب سربالایی

د. پل متحرک

پاسخ صحیح: د

۲۴. مفهوم تابلو روبرو چیست؟



الف. تقاطع

ب. تقاطع فرعی و اصلی

ج. ورود به راه اصلی از چپ

د. ورود به راه اصلی از راست

پاسخ صحیح: ج

۲۵. در آزادراهها میخهای زرد چشم گربه ای در چه محلی دیده می شود؟

الف. در باند کاهش و افزایش سرعت

ب. بین شانه خاکی و باند اصلی

ج. بین هر دو باند مجاز

د. غالبا در مسیر رفت و برگشت جاده ها و در سمت چپ مسیر (یا بین محل خالی وسط آزادراه و باند اصلی)

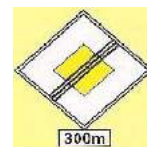
پاسخ صحیح: د



۲۶. کدامیک از علائم زیر شما را انجام عملی باز می دارد؟



الف.



ب.



ج.

پاسخ صحیح: ج

۲۷. در شرایط غیرعادی به مانند باران و یخبندان و سرما کنترل و هدایت و توقف اتومبیل به کدام دلیل مشکل است؟

الف. به لحاظ کاهش ضریب اصطکاک چرخ ها با جاده

ب. به لحاظ سرمای هوا و خارج شدن لاستیک ها از حالت طبیعی

ج. کمبود میدان دید

د. الف و ب هر دو صحیح است

پاسخ صحیح: الف

۲۸. خطوط زیر در کجا رسم میشود و به چه معناست؟

الف. در طول خیابانها و برای عابر پیاده در طول راه کشیده می شود

ب. در خیابانهای اصلی و به معنای عبور عابرین پیاده است

ج. در محل های معینی از راه برای عابرین پیاده در عرض راه کشیده میشود

د. هیچکدام

پاسخ صحیح: ج

۲۹. چه موقع باید از چراغ هشدار (فلاشر) استفاده نمایید؟

الف. هنگام بکسل کردن اتومبیل جهت اطلاع اتومبیل های پشت سر

ب. زمانی که دچار نقص فنی میشوید و یا زمانی که خطری را که پیش رو دارید به اتومبیل های عقب اطلاع میدهید

ج. بصورت دوبله پارک میکنید

د. در صورت توقف ناگهانی و یا اجباری

پاسخ صحیح: ب

۳۰. مراحل اساسی که در هنگام تصادف و آسیب جدی شدید لازم است اتخاذ شود عبارتند از:

الف. حفظ صحنه تصادف

ب. آگاه ساختن مراجع ذیصلاح

ج. مراقبت از مجروحین

د. هر سه مورد فوق

پاسخ صحیح: د



آزمون آیین نامه راهنمایی و رانندگی ایرانیان-تست درایو

سوالات آزمون آیین نامه مقدماتی شماره: ۱۸

[www.test-drive.ir](http://www.test-drive.ir)

۱. رنگ سیاه و سفید در علائم راهنمایی به چه معناست؟

الف. راهنمای اماکن مذهبی و اخباری

ب. اخباری و گردشگری

ج. دستوری و راهنمای مسیر سایر راهها

د. هیچکدام

پاسخ صحیح: ج

۲. ساییدگی نامتوازن یا بیش از حد لاستیک ناشی از کدام موارد زیر است؟

الف. تنظیم نبودن فرمان عدم تنظیم چرخها و ترمز

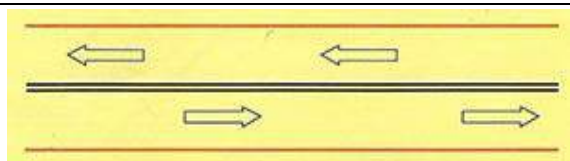
ب. میزان نبودن باد چرخها

ج. سرعت بیش از حد

د. تاب داشتن گاردان

پاسخ صحیح: الف

۳. خط طولی ممتد دوبله زیر به چه معناست؟



الف. عبور از یک طرف از روی خط آزاد است

ب. عبور از دو طرف ممنوع است

ج. تاکید بیشتر جهت جلوگیری از عبور از روی خطوط

د. هیچکدام

پاسخ صحیح: ج

۴. در یک تقاطع در حال رانندگی هستید با چراغ قرمز چشمک زن مواجه میشوید چه کار میکنید؟

الف. به رفتن ادامه میدهید

ب. ایست کرده و با رعایت حق تقدم عبور میکنید

ج. با احتیاط و سرعت کم میروید

د. توقف میکنید و منتظر چراغ سبز میشوید

پاسخ صحیح: ب

۵. خطوطی که در مدخل تقاطع یا در محل معینی از راهها برای عابر پیاده به آن خطوطه ... میگویند.

الف. طولی

ب. عرضی

ج. ممتد

د. مقطع

پاسخ صحیح: ب

۶. پس از روشن کردن اتومبیل کدام کار را انجام میدهید؟

الف. گرفتن کلاچ با پای چپ

ب. ابتدا کمر بند ایمنی خود را میبندید

ج. اولین کار گرفتن ترمز پایی

د. ترمز دستی را آزاد میکنید

پاسخ صحیح: ب

۷. در صحنه تصادفی جهت کمک توقف کرده اید کدام مورد را انجام می‌دهید؟

الف. افراد زخمی را گرم و در محل راحتی قرار می‌دهید

ب. افراد زخمی را وادار به راه رفتن می‌کنید

ج. محل را فوراً ترک می‌کنید

د. به افراد زخمی نوشیدمی می‌دهید

پاسخ صحیح: الف

۸. با سرعت مجاز در حال رانندگی هستید اتومبیلی به سرعت از پشت به شما نزدیک می‌شود و با دادن چراغ از شما راه می‌خواهد چکار باید انجام دهید؟

الف. بر شتاب خود بیافزایید تا اینکه با اتومبیل مذکور فاصله ایمنی را حفظ کنید

ب. اجازه دهید اتومبیل مذکور سبقت گیرد

ج. آهسته ترمز کنید

د. سرعت را حفظ کنید و مانع سبقت وسیله مذکور شوید

پاسخ صحیح: ب

۹. مفهوم شکل روبرو چیست؟

الف. معمولاً برای علائم راهنما

ب. ایست

ج. علائم دستوری

د. هشداردهنده برای خطر



پاسخ صحیح: ب

۱۰. مفهوم تابلو روبرو چیست؟



الف. فقط عبور پیاده


ب. فقط عبور دوچرخه

ج. عبور پیاده و دوچرخه ممنوع

د. فقط عبور دوچرخه و پیاده

پاسخ صحیح: د

۱۱. خطوط روبرو نشان دهنده چیست؟



الف. ایستگاه اتوبوس یا تاکسی

ب. وجود موانع در راهها

ج. خطوط پارک

د. خطوط عبور عابرین پیاده

پاسخ صحیح: ب

۱۲. چرا باید قبل از اقدام به سبقت از یک کامیون طویل فاصله را با آن کاملاً حفظ کنیم؟

الف. زیرا بتوانید از موقعیت جلوی کامیون کاملاً اطلاع داشته باشید و در نقطه کور قرار نگیرید

ب. زیرا برای سبقت گرفتن در پیچ ها شتاب کافی داشته باشید

ج. در صورت توقف کامیون دنده عقب بگیرید

د. برای اینکه در نقطه کور قرار بگیرید

پاسخ صحیح: الف

۱۳. در خیابانهای شلوغ و پرترافیک با سرعت مجاز در حال رانندگی هستید راننده اتومبیل پشت سر سعی میکند سبقت بگیرد چکار باید انجام دهید؟

الف. بر سرعت خود اضافه میکنید تا اینکه راننده پشت سر فاصله بگیرد

ب. با دست به راننده پشت سر علامت میدهید تا زمان خطری نیست سبقت بگیرد

ج. مسیر صحیح و مستقیم خود را ادامه میدهید تا راننده مذکور سبقت بگیرد

د. به اتومبیل جلویی نزدیک میشوید تا راننده پشت سر نتواند سبقت بگیرد

پاسخ صحیح: ج

تست درایو [www.test-drive.ir](http://www.test-drive.ir)

۱۴. قصد دارید اتومبیل خود را در کنار خیابان پارک کنید. در چه مواقعی میتوانید موتور آن را روشن بگذارید؟

الف. هیچ وقت نمی توانید

ب. اگر مسافری داخل اتومبیل باشد

ج. اگر باطری در حل تمام شدن باشد

د. در صورتی که کمتر از ۱۵ دقیقه پارک کنید

پاسخ صحیح: الف

۱۵. چرا به هنگام وزش باد در حال سبقت گرفتن از موتور سوار باید فاصله بیشتری را رعایت نمود؟

الف. ممکن است موتورسوار در اثر وزش باد موتور را خاموش کند

ب. ممکن است موتورسوار بطور ناگهانی متوقف شود

ج. ممکن است موتور سوار بیش از حد معمول سرعت داشته باشد

د. ممکن است موتورسوار در اثر وزش باد منحرف شود

پاسخ صحیح: د

۱۶. حداقل میزان سرعت مجاز در آزادراهها چقدر است؟

الف. ۶۰

ب. ۷۰

ج. ۱۲۰

د. ۱۰۰

پاسخ صحیح: ب

۱۷. روش یک طول اتومبیل به چه معناست؟

الف. به ازای هر ۱۵ کیلومتر سرعت در ساعت فاصله ای به اندازه یک طول اتومبیل (حدود ۶ متر) نیاز است.

ب. به ازای هر ۳۰ کیلومتر سرعت در ساعت فاصله ای به اندازه ۲ طول اتومبیل (حدود ۶ متر) نیاز است.

ج. به ازای هر ۴۵ کیلومتر سرعت در ساعت فاصله ای به اندازه ۳ طول اتومبیل (حدود ۶ متر) نیاز است.

د. به ازای هر ۶۰ کیلومتر سرعت در ساعت فاصله ای به اندازه ۴ طول اتومبیل (حدود ۶ متر) نیاز است.

پاسخ صحیح: الف

۱۸. تابلوی (خروج از آزادراه ۳۰۰ متر) کدام تابلو است؟




د.



ج.



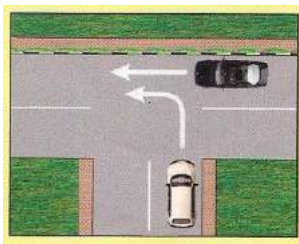
ب.



الف.

پاسخ صحیح: ب

۱۹. در شکل زیر حق تقدم عبور با کدام وسیله میباشد؟



الف. مشکی

ب. سفید

ج. هر دو همزمان

د. هیچکدام

پاسخ صحیح: الف



۲۰. نور پایین اتومبیل باید اشیا را از چند متری مشخص نماید؟

الف. ۱۵۰

ب. ۳۰

ج. ۳۵

د. ۱۳۵

پاسخ صحیح: ج

۲۱. در صورت ترکیدن لاستیک جلوی اتومبیل باید ...

الف. به شدت ترمز کرد

ب. فرمان را رها کرد

ج. فرمان را محکم گرفته و به آرامی توقف کرد

د. الف و ب صحیح است

پاسخ صحیح: ج

۲۲. یکی از موارد افزایش احتمال خطر هنگام رانندگی در شب را بگویید؟

الف. استفاده از چراغها

ب. استفاده از سایبان

ج. کم بودن میدان دید راننده

د. خواب آلودگی راننده

پاسخ صحیح: ج

۲۳. زمانی که به یک سرعت گیر در خیابان می رسید باید ...

الف. از سمت راست عبور کنید

ب. با همان سرعت عبور کنید

ج. سرعت خود را افزایش دهید

د. سریعاً از سرعت خود بکاهید

پاسخ صحیح: د

۲۴. در جاده دچار حادثه ای شده اید در چه فاصله ای باید تابلوی احتیاط را قرار دهید؟

الف. ۷۰ متری

ب. ۶۰ متری

ج. ۵۰ متری

د. ۴۰ متری

پاسخ صحیح: الف

۲۵. به هنگام رانندگی در طول روز و در شرایط هوای مه آلود چکار باید انجام داد؟

الف. از نور پایین استفاده کرد

ب. از چراغهای بغل استفاده نمود

ج. از نور بالا استفاده کرد

د. چراغهای راهنما را روشن کرد

پاسخ صحیح: الف

۲۶. مفهوم خطوط شکل زیر چیست؟

الف. شکل صحیح تقاطع بزرگراهها و پیچها

ب. طریقه صحیح ورودی و خروجی جاده ها

ج. نمایشگر تغییر مسیر دایره ای و خطوط کاهش و افزایش سرعت

د. نمایشگر قرار گرفتن مسیرهای ورودی و خروجی و خط کاهش سرعت و افزایش سرعت

پاسخ صحیح: د

۲۷. کدام گزینه صحیح نمیباشد؟

الف. تابلوهای بازدارنده یا اخطاری

ب. تابلوهای هشداردهنده یا اخطاری

ج. تابلوهای آگاهی دهنده یا اخباری

د. تابلوهای بازدارنده یا انتظامی

پاسخ صحیح:الف

۲۸. در راههای مسطح که انتهای مسیر منتهی به کوه و پرتگاه میباشد ...

الف. حق تقدم عبور با وسیله ای است که در طرف پرتگاه قرار دارد

ب. باید با احتیاط و رعایت حق تقدم عبور کرد

ج. حق تقدم عبور با وسیله ای است که طرف کوه است

د. حق تقدم با وسیله ای نقلیه سبکتر است

پاسخ صحیح:الف

۲۹. چه موقع امکان سبقت در داخل تونل وجود دارد؟

الف. پهنای تونل عریض باشد      ب. راه یکطرفه باشد

ج. نور کافی داشته باشیم

د. این کار ممنوع است

پاسخ صحیح:د

۳۰. جای خالی زیر را کامل نمایید - برای روشن کردن اتومبیل ابتدا .....

الف. ابتدا کمر بند ایمنی خود را میبندیم

ب. گرفتن کلاج با پای چپ

ج. سویچ اتومبیل را جهت استارت میزنیم

د. ترمز دستی را خلاص میکنیم

پاسخ صحیح:ب



## آزمون آیین نامه راهنمایی و رانندگی ایرانیان - تست درایو

سوالات آزمون آیین نامه مقدماتی شماره: ۱۹

[www.test-drive.ir](http://www.test-drive.ir)

۱. هنگام پارک کردن در سربالایی که دارای جدول کناری میباشد فرمان را به کدام سمت بچرخانیم؟

الف. فرمان را به چپ (در جهت مخالف عقربه های ساعت)

ب. فرمان را به راست

ج. فرمان را به سمت مقابل صاف میکنیم

د. فرقی ندارد

پاسخ صحیح: الف

۲. اگر به هنگام رانندگی متوجه بوی بنزین شدید چه اقدامی میکنید؟

الف. با سرعت کم برانید

ب. نگران نباشید زیرا بو ناشی از سوخت بنزین است

ج. توقف کرده و مسئله را بررسی میکنید

د. شیشه اتومبیل را پایین میدهید

پاسخ صحیح: ج

۳. کدام یک از گزینه های زیر نقص فنی محسوب می شود؟

الف. نداشتن چراغ های جلو و عقب

ب. کم بودن باد لاستیک ها

ج. دود کردن

د. نداشتن زنجیر چرخ در یخبندان

پاسخ صحیح: ب

۴. بعد از چراغ سبز اولین چراغی که روشن میشود کدام است؟

الف. قرمز

ب. زرد و قرمز با هم

ج. سبز و زرد با هم

د. زرد

پاسخ صحیح: د

۵. در کدام موقعیت زیر وزش باد شدید می تواند در مسیر شما تاثیر بگذارد؟

الف. در شهرها

ب. در تونل ها

ج. زمانیکه از مقابل اتومبیل های در حال توقف عبور میکنید

د. بعد از سبقت گرفتن از یک وسیله نقلیه بزرگ، در مسیرهای باز بدون درخت و موانع طبیعی، در بخشی از شهرها که دارای ساختمان نبوده و در معرض باد قرار دارند.

پاسخ صحیح: د

۶. در آزادراه تنها در چه مواقعی میتوانید در شانه جاده توقف کنید؟

الف. در شرایط اورژانس و اضطراری

ب. اگر قصد سوار کردن افراد کنار جاده را دارید

ج. اگر بطور تصادفی از هروجی مورد نظر رد شده باشید و قصد برگشت داشته باشید

د. اگر احساس کردید نیاز به استراحت دارید.

پاسخ صحیح: الف

۷. چه کسانی قانوناً مجاز به هدایت ترافیک هستند؟

الف. نیروی کمکی

ب. هر کسی که راننده وسیله نقلیه بزرگ را در دنده عقب کمک و راهنمایی میکند

ج. پلیس راهنمایی و رانندگی، پلیس مدرسه که مسئول کودکان در عبور از خیابان است، کارگران تعمیرات

د. با تشخیص خودمان

پاسخ صحیح: ج

۸. پس از روشن کردن موتور برای حرکت ابتدا چه عملی را باید انجام دهیم؟

الف. آزمایش ترمز

ب. صندلی را تنظیم نماییم

ج. بستن کمربند

د. با پای چپ کلاج بگیرید

پاسخ صحیح: ج

۹. رانندگی در بخش وسط راههایی که به وسیله خط کشی یا علائم دیگر به ۳ بخش تقسیم شده به جز چه مواردی ممنوع است؟

الف. برای سبقت گرفتن یا گردش به چپ

ب. برای دور زدن و گردش به چپ

ج. برای سبقت گرفتن یا گردش به راست

د. برای گردش به راست

پاسخ صحیح: الف

۱۰. چه مواقعی باید بیش از حد مراقب موتورسیکلت سوارها و دوچرخه سوارها باشید؟

الف. در جاده های دو طرفه

ب. در خیابان های یک طرفه

ج. در خط کشی عابرین پیاده

د. در محل تقاطع ها

پاسخ صحیح:د

۱۱. به دنبال یک کامیون بر روی یک جاده خیس حرکت میکنید پاشیدن آب باران دید را مختل میکند چکار باید بکنیم؟

الف. سرعت گرفته و سبقت میگیریم

ب. از کامیون فاصله میگیرید تا جایی که بهتر بتوانید ببینید

ج. نزدیک به کامیون حرکت میکنیم

د. در حاشیه حرکت میکنید تا از پاشیدن آب در امان باشید

پاسخ صحیح:ب

۱۲. مستطیل افقی معمولاً برای تابلوهای .... و ..... برای خطرات ناشی از ..... و ..... میباشد

الف. تابلوهای دستوری و خدمات برای خطرات ناشی از تعمیر و نگهداری میباشد

ب. تابلوهای راهنما و هشدار برای خطرات ناشی از تعمیر و نگهداری میباشد

ج. تابلوهای دستوری و بازدارنده برای خطرات ناشی از تعمیر و نگهداری میباشد

د. تابلوهای رعایت حق تقدم برای خطرات ناشی از تعمیر و نگهداری میباشد

پاسخ صحیح:ب

۱۳. کنترل باد لاستیک چرخ ها چه زمانی باید انجام شود؟

الف. زمانی که لاستیک ها سرد هستند

ب. بعد از طی مسافتی طولانی

ج. بعد از یک رانندگی با سرعت بالا

د. زمانی که لاستیک ها داغ شده اند

پاسخ صحیح:الف

۱۴. به هنگام رانندگی در شرایط غیرعادی (باران، برف و...) بهترین کار این است که تا حد امکان از دنده سنگین استفاده کنید دلیل آن را بیان کنید

الف. جهت ممانعت از لغزش چرخ ها

ب. در موقع ترمز از سرعت کمتری برخوردار باشید

ج. به دلیل اینکه دور زیاد موتور باعث لغزش چرخ ها نشود

د. در صورت لغزش استفاده از دنده پایین تر امکان پذیر باشد

پاسخ صحیح:الف

۱۵. سائیدگی نامتوازن یا بیش از حد لاستیک ناشی از کدام مورد زیر است؟

الف. میزان نبودن فرمان؛ عدم تنظیم چرخ ها و ترمزها

ب. میزان نبودن باد چرخ ها

ج. سرعت بیش از حد

د. تاب داشتن گاردان

پاسخ صحیح:الف



۱۶. اگر چراغ ترمز شما کار نکند چه موقع مجاز به رانندگی هستید؟

الف. در طول روز

ب. زمانی که به آزمایش رانندگی می روید

ج. هیچوقت

د. در شرایط اضطراری

پاسخ صحیح: ج

۱۷. زمانی که ترمز می کنید وسیله نقلیه شما به یک طرف می کشد عمده ترین اشکال چیست؟

الف. سطح روغن ترمز پایین است

ب. ترمز دستی بالاست

ج. ترمزها به خوبی تنظیم نیست

د. لاستیک ها بیش از حد ساییده شده است

پاسخ صحیح: ج

۱۸. قانون اولیه و پایه در مورد رانندگی در آزادراهها چیست؟

الف. همیشه از راست برانید مگر آنکه قصد سبقت داشته باشید

ب. سعی کنید با سرعت بیش از ۹۰ کیلومتر در ساعت رانندگی کنید

ج. از سمتی سبقت بگیرید که خلوت باشد

د. از باندی استفاده کنید که کمترین ترافیک را داراست

پاسخ صحیح: الف

۱۹. فاصله شما و اتومبیل جلویی در راه خشک چند ثانیه میباشد؟

الف. ۵ ثانیه    ب. ۳ ثانیه    ج. ۴ ثانیه    د. ۲ ثانیه

پاسخ صحیح: د

۲۰. اتومبیل شما در بزرگراه دارای نقص فنی شده تابلوی مثلی را در چند متری قرار می‌دهید؟

الف. ۱۵۰ متری

ب. ۵۰ متری

ج. ۷۰ متری

د. ۱۰۰ متری

پاسخ صحیح: الف

۲۱. در صورتی که در حادثه رانندگی قفسه سینه بیمار حرکت می‌کند اما جریان هوا شنیده و یا احساس نشود نشان دهنده چه چیزیست؟

الف. انسداد ریه نیاز به رسیدگی فقط توسط دکتر متخصص

ب. انسداد راه هوایی و بایست راه هوایی را باز کرد

ج. ایست قلبی و نیاز به تماس با اورژانس

د. همه موارد

پاسخ صحیح: ب

۲۲. برای خروج از پارک ..... ....

الف. کنترل آینه ها، دادن علامت با چراغ راهنما، کنترل وضعیت عبور و مرور و سپس خروج از پارک با رعایت حق تقدم

ب. با رعایت حق تقدم عبور خارج می‌شویم

ج. راهنما زده و با رعایت حق تقدم عبور خارج می‌شویم

د. راهنما زده و با دست علامت می‌دهیم سپس خارج می‌شویم

پاسخ صحیح: الف

۲۳. در کدام محل نباید پارک کرد؟

الف. در ۱۵ متری تقاطع ها

ب. ایستگاه اتوبوس

ج. محل های غیرمجاز (مقابل پل)

د. تمام موارد

پاسخ صحیح: د

۲۴. معنی تابلو مثلث متساوی الاضلاع (نشسته روی یک راس) چیست؟

الف. صرفا برای رعایت حق تقدم

ب. صرفا برای تابلو ایست

ج. برای علائم راهنما

د. علامت دستوری و بازدارنده

پاسخ صحیح: الف

۲۵. حق تقدم در تصویر روبرو با کدام وسیله به ترتیب می باشد؟



الف. ۱۳۲

ب. ۲۱۳

ج. ۱۲۳

د. ۲۳۱

پاسخ صحیح: ج

۲۶. وقتی پلیس مستقر در چهارراه دست راست خود را به صورت قائم نگه میدارد منظور چیست؟



الف. رانندگان در هر چهار طرف تقاطع باید پشت خط ایست متوقف شوید

ب. بدون توقف عبور کنید

ج. رانندگان در حال حرکت از سرعت خود بکاهند

د. رانندگان وسایل نقلیه در حال عبور از پشت وی توقف نمایند

پاسخ صحیح: الف

۲۷. حق تقدم عبور در تصویر مقابل با کدام است؟



الف. اتومبیل سفید شماره ۱ ب. اتومبیل سفید شماره ۲

ج. اتومبیل سیاه رنگ

د. همه حق تقدم عبور یکسان دارند

پاسخ صحیح: ج

۲۸. چنانچه راه خشک و هوا خوب باشد فاصله بین دو اتومبیل چقدر باید باشد؟

الف. ۱ متر ب. شمارش ۱ تا ۲ ج. فاصله ۲ ثانیه د. با استفاده از ساعت اندازه میگیریم

پاسخ صحیح: ج

۲۹. در جاده خشک با سرعت ۶۰ کیلومتر در حال رانندگی هستید فاصله شما با اتومبیل جلویی چقدر باید باشد؟

الف. ۲ طول اتومبیل ب. ۳ طول اتومبیل

ج. ۴ طول اتومبیل د. ۵ طول اتومبیل

پاسخ صحیح: ج

۳۰. در چند متری قبل و بعد از تونل با داشتن دید کافی میتوان سبقت گرفت؟

الف. ۴۰ متر ب. ۱۰۰ متر ج. ۵۰ متر د. ۱۵۰ متر

پاسخ صحیح: ب



آزمون آیین نامه راهنمایی و رانندگی ایرانیان - تست درایو

سوالات آزمون آیین نامه مقدماتی شماره: ۲۰

[www.test-drive.ir](http://www.test-drive.ir)

۱. زمانی قصد گردش به چپ یا راست دارید از چه فاصله ای باید راهنما بزنید؟

الف. ۵۰ متری      ب. ۲۵ متری      ج. ۱۰۰ متری      د. ۱۵۰ متری

پاسخ صحیح: ج

۲. در صورتی که میزان سرعت توسط تابلو در راههای برون شهری مشخص نشده باشد حداکثر سرعت در مناطق غیر مسکونی چقدر است؟

الف. ۷۰ کیلومتر      ب. ۱۲۵ کیلومتر      ج. ۱۲۰ کیلومتر      د. ۹۵ کیلومتر

پاسخ صحیح: د

۳. فاصله مناسب در پارک دوبل با اتومبیل جلویی چقدر است؟

الف. ۵۰ سانتیمتر      ب. ۴۵ سانتیمتر      ج. ۱ متر      د. ۱,۵ متر

پاسخ صحیح: ج

۴. در صورت مواجه شدن با اتومبیل مقابل در شب از فاصله چند متری از نور پایین استفاده میکنید؟

الف. ۱۵۰ متر یا کمتر      ب. ۱۱۰ یا کمتر      ج. ۱۰۰ یا کمتر      د. ۷۰ یا کمتر

پاسخ صحیح: الف

۵. مابین شما و اتومبیل جلویی فاصله دو ثانیه مناسب خواهد بود در صورتی که ...

الف. هوا خوب و راه خشک خوب باشد      ب. هوا مه آلود باشد

ج. هوا مرطوب و جاده خیس باشد      د. هوا بارانی و جاده خیس باشد

پاسخ صحیح: الف

۶. در صحنه تصادف چه کسی اولویت دارد؟

الف. سالمندان      ب. اطفال      ج. مصدومی که نیاز به کمک اورژانسی دارد      د. راننده  
پاسخ صحیح: ج

۷. در تقاطع هم عرض اگر ۲ وسیله ای که روبرو هم در حرکتند با هم وارد خیابان میشوند حق تقدم با کدام وسیله است؟

الف. وسیله ای که سمت چپ گردش میکند      ب. به راست گردش میکند  
ج. حق تقدم وجود ندارد      د. هیچکدام  
پاسخ صحیح: ب

۸. رانندگی با دنده عقب در کدام معابر ممنوع است؟

الف. شریان اصلی      ب. آزادراهها و ورودی و خروجی آنها  
ب. بزرگراهها و ورودی خروجی آنها      د. گزینه ب و ج  
پاسخ صحیح: د

۹. کدام یک از بیمه های زیر حداقل بیمه مورد نیاز در هنگام رانندگی می باشد؟

الف. بیمه بدنه      ب. بیمه کامل اتومبیل      ج. بیمه آتش سوزی      د. بیمه شخص ثالث  
پاسخ صحیح: د

۱۰. در صورت زرد شدن چراغ راهنمایی در وسط تقاطع ...

الف. متوقف می شوید  
ب. برای تخلیه تقاطع به راه خود ادامه میدهید  
ج. بدون رعایت حق تقدم میتوانید حرکت کنید  
د. بلافاصله ترمز کرده و دنده عقب گرفته پشت خط عابر متوقف شوید  
پاسخ صحیح: ب

۱۱. در حریم تابلوهای ایستادن ممنوع ....

الف. فقط برای پیاده و سوار کردن مسافر بلامانع است

ب. برای یک لحظه هم نمیتوان توقف کرد

ج. نمیتوان پارک کرد ولی میتوان توقف کرد

د. بستگی به موقعیت دارد

پاسخ صحیح: ب

۱۲. در تقاطع بدون چراغ باید ...

الف. با حداکثر سرعت عبور کرد

ب. با سرعت قانونی عبور کرد

ج. با سرعت کم و احتیاجی به رعایت حق تقدم نیست

د. با سرعت کم و احتیاط و رعایت حق تقدم

پاسخ صحیح: د

۱۳. حداکثر سرعت در راه های برون شهری غیر مسکونی در شب چند کیلومتر است؟

الف. ۸۵

ب. ۹۵

ج. ۷۰

د. ۱۲۰

پاسخ صحیح: الف

۱۴. رانندگانی که گواهینامه پایه ۳ دارند میتوانند با ....

الف. وسایل نقلیه تا ظرفیت ۹ نفر و یا ظرفیت بار ۳,۵ تن رانندگی کنند

ب. وسایل نقلیه تا ظرفیت ۱۶ تا ۲۶ نفر رانندگی کنند

ج. وسایل نقلیه تا ظرفیت ۵ نفر رانندگی کنند

د. رانندگی با اتوبوس

پاسخ صحیح: الف

۱۵. حداکثر سرعت در معابر شریانی درجه ۱ چند کیلومتر است؟

- الف. آزادراه حداکثر ۱۲۰ و بزرگراه ۱۰۰  
ب. آزادراه حداکثر ۷۰ و بزرگ راه ۱۰۰  
ج. آزادراه حداکثر ۱۰۰ و بزرگ راه ۱۰۰  
د. آزادراه حداکثر ۹۵ و بزرگ راه ۸۵

پاسخ صحیح:الف

۱۶. در چه شرایطی میتوان از دنده عقب استفاده کرد؟

- الف. با احتیاط کامل و احراز هر گونه حادثه و انسداد راه میتوان در مواقع ضروری  
ب. رانندگی با دنده عقب در همه موارد مجاز است  
ج. در راههای یکطرفه میتوان با دنده عقب حرکت کرد  
د. چنانچه قصد ورود از گاراژ را دارید یا ورود به خیابان فرعی به اصلی

پاسخ صحیح:الف

۱۷. اگر در راهی دچار حادثه شوید تابلوی احتیاط را در چه فاصله ای قرار میدهید؟

- الف. ۵ متری  
ب. ۲۵ متری  
ج. ۷۰ متری  
د. ۱۰۰ متری

پاسخ صحیح:ج

۱۸. مفهوم رنگ آبی در علائم راهنمایی و رانندگی چیست؟

- الف. منع کننده و بازدارنده  
ب. راهنمای خدمات و مسیر و علائم اخباری در آزادراه  
ج. راهنما برای مناطق اداری  
د. علائم دستوری و راهنمای مسیر

پاسخ صحیح:ب

۱۹. حداقل عمق آج لاستیک چقدر باید باشد؟

- الف. ۱,۶ میلیمتر  
ب. ۶,۱ میلیمتر  
ج. ۱۶ میلیمتر  
د. هیچکدام

پاسخ صحیح:الف



۲۰. در حین رانندگی چه موقع میتوانید از تلفن همراه استفاده کنید؟

- الف. نیاز به انجام تلفن ضروری باشد  
ب. وسیله نقلیه دارای دنده اتوماتیک باشد  
ج. هیچ وقت  
د. مهارت کافی داشته و فرمان را با یک دست بگیرید
- پاسخ صحیح: الف

۲۱. فاصله مناسب اتومبیل با اتومبیل جلویی در پارک دوبل چقدر است؟

- الف. ۱ متر  
ب. ۱٫۵ متر  
ج. ۴۵ سانت  
د. ۵۰ سانت
- پاسخ صحیح: الف

۲۲. فاصله مناسب در حین پارک دوبل با جدول چقدر است؟

- الف. ۵۰ سانتی متر  
ب. ۳۰ سانتی متر  
ج. ۴۵ سانتی متر  
د. ۱ متر
- پاسخ صحیح: الف

۲۳. آمادگی شامل کدامیک از موارد زیر می باشد؟

- الف. مشاهده، پیش بینی، تمرکز، آگاهی، عدم حواس پرتی  
ب. هدایت و کنترل وسیله نقلیه  
ج. تصمیم سریع و عکس العمل به موقع  
د. تسلط به مسیر

پاسخ صحیح: الف

۲۴. حداقل فاصله ایمن در جاده برفی به ازای هر ۱۵ کیلومتر سرعت در ساعت، فاصله ای برابر با چند اتومبیل است؟

- الف. طول ۳ اتومبیل  
ب. طول ۴ اتومبیل  
ج. طول ۲ اتومبیل  
د. طول ۱ اتومبیل

پاسخ صحیح: الف

۲۵. برای سبقت گرفتن از موتور سیکلت ود. چرخه کدام گزینه باید در نظر گرفته شود؟

الف. فضای کمتری برای وسیله نقلیه در نظر گرفته شود

ب. با سرعت بیشتری سبقت میگیریم

ج. فضای بیشتری برای وسیله نقلیه در نظر بگیریم

د. با بوق زدن راه را باز کنیم

پاسخ صحیح: ج

۲۶. در تقاطعی که قصد گردش به چپ دارید ولی میدان دید شما به علت وجود اتومبیل های در حال پارک محدود است چکار باید انجام داد؟

الف. بوق زده و در صورتی که هیچگونه عکی العملی ندیدید اقدام به گردش میکنید

ب. توقف کرده و سپس اقدام به گردش میکنید و جهت کنترل مسیر جاده اصلی را نگاه کنید

ج. توقف کرده سپس به آرامی به جلو حرکت میکنید تا اینکه دید بهتری از موقعیت داشته باشید

د. به سرعت خارج شده ولی آمادگی توقف را داشته باشید

پاسخ صحیح: ج

۲۷. در یک تقاطع با چراغ چشمک زن قرمز مواجه میشوید چه کار می کنید؟

الف. بدون توقف به حرکت ادامه میدهید  
ب. ایست کرده و با رعایت حق تقدم عبور میکنید

ج. توقف میکنید و منتظر میشوید چراغ سبز شود

د. به حرکت ادامه میدهید

پاسخ صحیح: ب

۲۸. مفهوم تابلو روبرو چیست؟

الف. طول ممنوعیت با محدودیت پارکینگ

ب. تقاطع فرعی با اصلی در قوس

ج. طول ممنوعیت با محدودیت پارک

د. طول محدوده خطر



پاسخ صحیح: د

۲۹. مفهوم تابلو روبرو چیست؟



ب. حاشیه نمای چپ

الف. حاشیه نمای راست

د. جاده باریک می شود

ج. حاشیه نمای دو طرفه

پاسخ صحیح: ج

۳۰. مفهوم تابلو روبرو چیست؟



ب. جاده لغزنده است

الف. تقاطع

د. تقاطع فرعی با اصلی در قوس

ج. فاصله از محل نصب تابلو تا شروع خطر

پاسخ صحیح: د



آزمون آیین نامه راهنمایی و رانندگی ایرانیان-تست درایو

سوالات آزمون آیین نامه مقدماتی شماره: ۲۱

[www.test-drive.ir](http://www.test-drive.ir)

۱. ماده ۱۵۵ آیین نامه مربوط به ممنوعیت چیست؟

الف. دنده عقب در یزرگ راهها

ب. پارک دوبل

ج. پارک در میدان

د. سبقت

پاسخ صحیح: الف

۲. رانندگی با وسیله نقلیه ای که برگ معاینه فنی معتبر نداشته باشد؟

الف. بلامانع است

ب. فقط داخل شهر مجاز است

ج. ممنوع است

د. فقط خارج از شهر

پاسخ صحیح: ج

۳. معاینه فنی به وسیله چه کسی صورت میپذیرد؟

الف. تعمیرکار مجاز

ب. مهندسان یا کاردان های فنی دارای گواهی انجام کار

ج. نمایندگان خودرو

د. مهندس مکانیک

پاسخ صحیح: ب

۴. چراغ کوچک با نور سفید در عقب برای تشخیص شماره پلاک نور این چراغ باید برای تشخیص شماره پلاک برای چه فاصله ای باید کافی باشد؟

الف. ۲۵ متری

ب. ۳۰ متری

ج. ۵۰ متری

د. ۷۰ متری

پاسخ صحیح: الف

۵. نور چراغ کوچک جلو و خطر عقب باید از چند متری دیده شود؟

الف. ۱۰۰ متری

ب. ۲۰۰ متری

ج. ۳۰۰ متری

د. ۱۵۰ متری

پاسخ صحیح: د

۶. نور پایین خودرو باید طوری تنظیم شود که اشیا و اشخاص از چند متری قابل تشخیص باشند؟

الف. ۵۰ متری      ب. ۲۵ متری      ج. ۳۵ متری      د. ۷۰ متری

پاسخ صحیح: ج

۷. کدام گزینه غلط است؟

الف. ریختن هر گونه ضایعات و اشیا و آب دهان به وسیله راننده و سرنشینان ممنوع است

ب. انجام هرگونه حرکات نمایشی پرشی تک چرخ دور درجا در معابر شهری ممنوع است

ج. رانندگی همراه با صدای ناهنجار و ممتد بوق یا صدای اگزوز یا اصطکاک چرخ ها در معابر شهری ممنوع است

د. هیچ کدام

پاسخ صحیح: د

۸. حمل مسافر با وسیله نقلیه دارای پلاک شخصی ...

الف. ممنوع است      ب. جایز نیست

ج. ممنوع است مگر در شرایط اضطراری با اجازه پلیس راه یا راهنمایی رانندگی      د. بلامانع است

پاسخ صحیح: ج

۹. کدام گزینه غلط است؟

الف. توقف وسیله نقلیه در پیاده رو در صورت داشتن راننده بلامانع است

ب. حمل مسافر با وسایل باربری ممنوع است

ج. عبور وسایل نقلیه از پیاده رو ممنوع است

د. سوار شدن یا سوار کردن افراد روی گلگیر یا رکاب وسیله نقلیه ممنوع است

پاسخ صحیح: الف

۱۰. استفاده از لاستیک های فرسوده و غیر استاندارد در وسایل نقلیه؟

الف. نایمن است      ب. جایز نیست      ج. ممنوع است      د. بلامانع است

پاسخ صحیح: ج

۱۱. کلیدی ترین ابزار در کنترل خودرو چیست؟

الف. غربیلک فرمان      ب. پدال گاز      ج. پدال ترمز      د. کلاچ

پاسخ صحیح: الف

۱۲. در هنگام رانندگی چنانچه متوجه بوی بنزین شدید از ماشین شدیم کدامیک از موارد زیر را باید رعایت کنیم؟

الف. با باوی بنزین شدید مشکلی پیش نمی آید      ب. با احتیاط رانندگی می کنیم  
ج. توقف نموده تا بوی بنزین از بین برود      د. توقف نموده و مسئله را کاملاً بررسی  
مینماییم

پاسخ صحیح: د

۱۳. زمانی که راننده پشت سر در یک خیابان شلوغ و پرترافیک از شما میخواهد سبقت بگیرد و شما با سرعت مجاز در حال رانندگی هستید کدام اقدام صحیح تر است؟

الف. بلافاصله ترمز کرده و راه را برای سبقت آزاد میکنیم  
ب. مسیر صحیح و مستقیم خود را ادامه می دهیم تا به راننده پشت سر فرصت دهید در شرایطی بی خطر سبقت بگیرد.  
ج. بر سرعت خود افزوده و از خودرو فاصله میگیریم  
د. از خود واکنش نشان داده و اجازه سبقت نمیدهیم

پاسخ صحیح: ب

۱۴. در زمانی که احساس بیماری یا خستگی میکنید ...

الف. با احتیاط رانندگی می کنیم      ب. با آب خود را خنک کرده و به مسیر ادامه می دهیم  
ج. نباید رانندگی کنیم      د. دارو مصرف میکنیم و رانندگی میکنیم

پاسخ صحیح: ج

۱۵. زمانی که تجربه کافی ندارید و به تازگی گواهینامه گرفته اید نسبت تصادف شما به سایر رانندگان چقدر می باشد؟

الف. خیلی زیاد

ب. تجربه نیاز نیست

ج. قبولی امتحان شهر کافی می باشد

د. فرقی نمی کند

پاسخ صحیح: الف

۱۶. کدام گزینه از موارد زیر در هنگام عبور احشاماز جاده صحیح میباشد؟

الف. باید فاصله مناسب را حفظ کنیم

ب. از بوق زدن خودداری کنیم

ج. از سرعت خود کاسته و آماده توقف میشویم

د. تمام موارد

پاسخ صحیح: د

۱۷. مشاهده، پیش بینی، تمرکز آگاهی عدم حواس پرتی مربوط به کدام یک از موارد زیر است؟

الف. آمادگی در رانندگی

ب. مهارت در رانندگی

ج. آگاهی از خطر

د. رعایت حق تقدم

پاسخ صحیح: الف

۱۸. در شرایط یخبندان فاصله توقف چه مقدار ممکن است افزایش یابد؟

الف. ۱ برابر

ب. ۲ برابر

ج. ۳ برابر

د. ۴ برابر

پاسخ صحیح: ب

۱۹. چرا در سطح خیس جاده های خیس برفی لغزنده باید از دنده سنگین استفاده شود؟

الف. جهت ترمز سریع

ب. جهت حرکت صحیح

ج. جهت ممانعت از لغزش چرخ ها

د. جهت ممانعت از چپ و راست رفتن خودرو

پاسخ صحیح: ج

۲۰. کدام فاصله بین دو اتومبیل راه خشک و هوا خوب باشد مناسب است؟

- الف. ۱ متر کافیست  
ب. با استفاده از ساعت اندازه میگیریم  
ج. شمارش یک تا دو  
د. فاصله دو ثانیه ای
- پاسخ صحیح:د

۲۱. کدامیک از موارد زیر قدرت واکنش و هماهنگی و تشخیص سرعت را مختل می کند؟

- الف. مصرف مشروبات الکلی و مواد مخدر  
ب. مصرف خوراکی در هنگام رانندگی  
ج. صحبت کردن با راننده  
د. همه موارد
- پاسخ صحیح:الف

۲۲. کدام یک از موارد زیر کنترل شما را بر روی وسیله نقلیه کاهش می دهد؟

- الف. ترمز کردن  
ب. استفاده بیش از حد از دنده  
ج. استفاده از دنده های سبک  
د. مدت زیادی پای خود را روی کلاچ قرار دادن
- پاسخ صحیح:د

۲۳. زمانی که در یک جاده دو طرفه در حال حرکت هستید و اتومبیلی بدون رعایت فاصله جلوی شما قرار میگیرد چه اقدامی باید انجام داد؟

- الف. فاصله گرفته و فاصله ایمن را رعایت می کنیم  
ب. ترمز می کنیم  
ج. با زدن چراغ و بوق راننده را جهت یاد گرفتن فاصله با اطلاع می کنیم  
د. احتیاجی به رعایت فاصله در جاده دوطرفه نیست
- پاسخ صحیح:الف

۲۴. کدام اقدام در زمان مواجه شدن با حیوانات لازم است؟

- الف. از بوق استفاده می کنیم  
ب. آرام حرکت کرده و آماده توقف می شویم  
ج. سریع از آنها سبقت میگیریم  
د. هیچ کدام
- پاسخ صحیح:ب



۲۵. قفل کودک در وسیله نقلیه به چه منظوری قرار داده شده است؟

الف. جهت نگه داشتن کودک در صندلی

ب. جهت جلوگیری از سرقت خودرو

ج. برای اینکه کودکان بطور ناخواسته درب عقب را باز نکنند

د. جهت اطمینان کامل از قفل شدن درب جلو

پاسخ صحیح: ج

۲۶. بی توجهی به علائم و مقررات رانندگی نشانه ....

الف. عدم سواد کافی

ب. عدم توانایی در رانندگی است

ج. عدم تجربه رانندگی

د. عدم بینایی چشم

پاسخ صحیح: ب

۲۷. در شرایط آب و هوایی غیرعادی و محدودیت دید چگونه اطمینان میکنید که سایر رانندگان قادر به رویت شما هستند؟

الف. با روشن کردن چراغ های سقف

ب. با روشن کردن چراغهای نورپایین

ج. با گرفتن ترمزهای ناگهانی

د. با علامت دادن دست

پاسخ صحیح: ب

۲۸. در هنگام رانندگی فاصله زمانی شما و اتومبیل جلوئی در یک جاده خیس چقدر باید باشد؟

الف. بین یک و دو ثانیه

ب. یک ثانیه

ج. دو ثانیه

د. چهار ثانیه

پاسخ صحیح: د

۲۹. قرار گرفتن در باند سمت راست مربوط به کدامیک از گزینه های زیر است؟

الف. زمانی که در یک خیابان یک طرفه قصد گردش به راست را داشته باشیم

ب. زمانی که در یک خیابان یک طرفه قصد گردش به چپ را داشته باشیم

ج. زمانی که در یک خیابان دو طرفه قصد گردش به چپ را داشته باشیم

د. زمانی که قصد سبقت داریم

پاسخ صحیح: الف

۳۰. شما با سرعت ۶۰ کیلومتر در ساعت در یک جاده خشک در حال رانندگی هستید فاصله شما

با اتومبیل جلویی چقدر باید باشد؟

ب. به اندازه ۳ طول اتومبیل

الف. به اندازه ۲ طول اتومبیل

د. به اندازه ۱ طول اتومبیل

ج. به اندازه ۴ طول اتومبیل

پاسخ صحیح: ج



آزمون آیین نامه راهنمایی و رانندگی ایرانیان - تست درایو

سوالات آزمون آیین نامه مقدماتی شماره: ۲۲

[www.test-drive.ir](http://www.test-drive.ir)

۱. کدامیک از موارد زیر لازمه شروع رانندگی است؟

- الف. کشیده شدن ترمز دستی  
ب. کم باد نبودن لاستیک ها  
ب. از بسته شدن کمر بند خود و سایر سرنشینان مطمئن شویم  
د. پوشیدن کفش مناسب
- پاسخ صحیح: ب

۲. کدام گزینه جزو مواردی است که موجب بهم خوردن تمرکز شما میشود؟

- الف. نگاه کردن به نقشه ها  
ج. استفاده از تلفن همراه  
ب. گوش کردن به موزیک با صدای بلند  
د. همه موارد
- پاسخ صحیح: د

۳. در هنگام رسیدن به گذرگاه هم سطح راه آهن چه اقدامی لازم است؟

- الف. چراغ فلاشر را روشن کنیم  
ب. عبور سریع  
ج. با دقت عبور کنیم  
د. توقف قبل از مانع
- پاسخ صحیح: د

۴. هنگام نزدیک شدن به پیچ تند در شرایط جاده خیس و یخبندان کدامیک از موارد زیر باید رعایت شود؟

- الف. تا حد امکان با دنده سنگین حرکت کنید  
ب. قبل از رسیدن به پیچ از سرعت خود بکاهید  
ج. از حرکت سریع فرمان به طرفین خودداری کنید  
د. هر سه مورد
- پاسخ صحیح: د

۵. پایین بودن کدامیک از موارد زیر می تواند منجر به حادثه شود؟

الف. آب باتری      ب. ضدیخ      ج. روغن ترمز      د. گرمای موتور

پاسخ صحیح:ج

۶. در تقاطع برای گردش به راست ...

الف. از منتهی الیه سمت راست گردش می کنید

ب. از منتهی الیه سمت چپ گردش می کنید

ج. جهت گردش به سمت راست در تقاطع ها نیازی به منتهی الیه سمت راست ندارد

د. از باند وسط گردش می کنید

پاسخ صحیح:الف

۷. با شنیدن صدای آژیر وسایل نقلیه امدادی چه می کنید؟

الف. با سرعت حرکت می کنیم

ب. سریع تر حرکت می کنیم و با بوق زدن به اتومبیل های جلویی راه را برای وسایل نقلیه امدادی باز می کنیم

ج. اتومبیل خود را به منتهی الیه سمت راست هدایت می کنیم و در صورت لزوم تا گذشتن وسایل نقلیه امدادی توقف می کنیم

د. بلافاصله علامت داده همان جا متوقف می شوید

پاسخ صحیح:ج

۸. مطابق قانون کدامیک از گزینه های زیر در برابر دیگر سرنشینان مسئولیت دارد؟

الف. راننده      ب. مسافر روی صندلی جلو

ج. با تجربه ترین شخص      د. شخصی که دارای گواهینامه رانندگی است

پاسخ صحیح:الف

۹. حرکت با سرعت کم که موجب کندی عبور و مرور می گردد ...

|                               |                                    |
|-------------------------------|------------------------------------|
| الف. خلاف مقررات است          | ب. دقیقاً برابر مقررات است         |
| ج. در بعضی مواقع ایرادی ندارد | د. در خیابان های فرعی ایرادی ندارد |
| پاسخ صحیح: الف                |                                    |

۱۰. راهی که ارتباط بین خیابان های جمع و پخش کننده و بزرگ راهها را برقرار می کند چه نام دارد؟

|                                     |                           |
|-------------------------------------|---------------------------|
| الف. خیابان های شریانی فرعی درجه یک | ب. معابر محلی             |
| ج. خیابان های شریانی فرعی           | د. خیابان های شریانی اصلی |
| پاسخ صحیح: د                        |                           |

۱۱. کدامیک از موارد زیر مربوط به استفاده از باند سمت چپ در آزادراه می باشد؟

|   |
|---|
| الف. برای سبقت از سایر وسایل نقلیه                    |
| ب. برای گرفتن شتاب گرفتن وسیله نقلیه                  |
| ج. برای رانندگی در سرعت های بیش از ۹۰ کیلومتر در ساعت |
| د. برای انجام کارهای تعمیراتی                         |
| پاسخ صحیح: الف  |

۱۲. کم بودن باد لاستیک بر کدام مورد ذیل تاثیر می گذارد؟

|                            |                          |
|----------------------------|--------------------------|
| الف. طولانی شدن عمر لاستیک | ب. دیر ساییده شدن لاستیک |
| ج. تعویض دنده              | د. ترمز کردن             |
| پاسخ صحیح: د               |                          |

۱۳. اگر چراغ های جلوی وسیله نقلیه معیوب باشد ...

الف. در روز حرکت می کنید و در شب آن را متوقف می نمایید

ب. رانندگی با چنین وسیله ای ایراد ندارد

ج. نقص فنی محسوب می شود و اجازه حرکت ندارید

د. نقص فنی محسوب نمی شود

پاسخ صحیح: ج

۱۴. چرا کامیون های بزرگ در زمان گردش به راست به سمت چپ متمایل می شوند؟

الف. چون کشنده و یدک از هم جدا هستند

ب. برای اینکه وسیله نقلیه ای از سمت راست نتواند عبور کند

ج. برای ممانعت از نزدیک شدن چراغ های عقب به جدول و رفتن روی آن

د. هیچکدام

پاسخ صحیح: ج

۱۵. فاصله قبل و بعد از تونل ها برای سبقت گرفتن چند متر است؟

الف. ۴۰ متر

ب. ۱۰۰ متر

ج. ۵۰ متر

د. ۱۵۰ متر

پاسخ صحیح: ب

۱۶. کدامیک از موارد زیر علت تصادف با اتومبیل جلویی است؟

الف. استفاده از نور پایین

ب. عدم توجه کافی به راه و نزدیک شدن بیش از حد به اتومبیل جلویی

ج. نور زرد چراغ های مه شکن

د. چراغ های راهنما

پاسخ صحیح: ب

۱۷. کدامیک از اشکالات زیر خطر تصادف پشت سر را افزایش می دهد؟

الف. نداشتن معاینه فنی

ب. خراب بودن چراغ خطر دنده عقب

ج. خرابی چراغ قرمز

د. خراب بودن ترمز

پاسخ صحیح:ج

۱۸. از روی خط مقطع وسط خیابان ...

الف. فقط می توان دور زد

ب. فقط می توان سبقت گرفت

ج. میتوان دور زد ولی نمی توان سبقت گرفت

د. برای دور زدن و سبقت گرفتن می توان استفاده کرد

پاسخ صحیح:د

۱۹. به هنگام خروج از پارک چه اعمالی باید انجام داد؟

الف. از آینه ها استفاده کرده و برای کنترل نهایی سر را به قسمت چپ برگردانده و عقب را نگاه کنید

ب. چنانچه لازم است سایر رانندگان آهسته برانند به آنها علامت دهید

ج. اگر اتومبیل دیگری در مقابل اتومبیل شما پارک نشده به عقب برگردید

د. با استفاده از دست می توان علامت داد

پاسخ صحیح:الف

۲۰. سبقت گرفتن در کدامیک از موارد زیر ممنوع است؟

الف. در مواقعی که میدان دید به هر علتی کافی نباشد

ب. در سر بالایی هایی که دید راننده کم است

ج. در جاده های صاف و هموار

پاسخ صحیح:ب

۲۱. در زمانی که قصد گردش به چپ و یا راست را دارید از چه فاصله ای باید راهنما بزنید؟

الف. از فاصله ۵۰ متری

ب. از فاصله ۷۵ متری

ج. از فاصله ۲۵ متری

د. از فاصله ۱۰۰ متری

پاسخ صحیح: د

۲۲. زمانی که به دنبال یک کامیون در حال گردش به راست و وارد شدن به یک جاده باریک است چه اقدامی باید انجام داد؟

الف. از او سبقت بگیرید

ب. آماده میشوید پشت او بایستید

ج. باید سرعت گرفت و از کامیون سبقت گرفت

د. به طرف راست رفته و با گردش کامیون به راه خود ادامه می دهیم

پاسخ صحیح: ب

۲۳. اگر تریلر پشت اتومبیل به طرفین متمایل شد چه کار باید کرد؟

الف. به شدت ترمز می کنیم

ب. کلاچ را تا پایین نگه داشته و فرمان را کنترل میکنیم

ج. سرعت و شتاب اتومبیل را کم می کنیم

د. سرعت را افزایش می دهیم

پاسخ صحیح: ج



۲۴. حق تقدم با کدام خودرو می باشد؟

د. مشکی

ج. هر دو با هم

ب. سفید ۲

الف. سفید ۱

پاسخ صحیح: د



۲۵. در تقاطع حق تقدم با کدام خودرو می باشد؟

ب. مشکی

الف. قرمز

د. باهم

ج. سفید

پاسخ صحیح: ب



۲۶. حق تقدم در تقاطع روبرو را مشخص نمایید؟

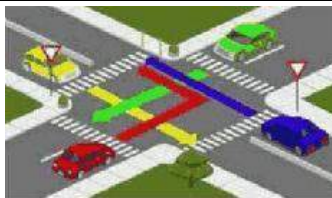
ب. قرمز-سبز-آبی-زرد

الف. آبی-زرد-قرمز-سبز

د. سبز-قرمز-آبی و زرد با هم

ج. زرد-سبز-آیس قرمز

پاسخ صحیح: د



۲۷. برای پارک کردن در کنار خیابان حق تقدم با وسیله ای است که:

ب. با حرکت به جلو مشغول پارک باشد

الف. چراغ خطر عقب اتومبیلش روشن باشد

د. هیچکدام

ج. با دنده عقب در حال پارک کردن باشد

پاسخ صحیح: ب

۲۸. موثرترین و راحت ترین روش جا به جایی کالا و افراد با کمترین میزان مصرف انرژی کمترین ترافیک و هزینه جابه جایی و کمترین اثرات سوء زیست محیطی چیست؟

الف. حمل و نقل با موتور

ب. حمل و نقل با سواری

ج. حمل و نقل پایدار

د. حمل و نقل ناپایدار

پاسخ صحیح: ج

۲۹. مهمترین آلودگی حمل و نقل چیست؟

الف. آلودگی صوتی

ب. آلودگی هوا

ج. آلودگی دیداری

د. آلودگی

موانع

پاسخ صحیح: ب

۳۰. مهمترین عامل آلودگی هوا در حمل و نقل چیست؟

الف. دی اکسید کربن

ب. مونواکسید کربن

ج. ذرات معلق در هوا

د. هیدروکربن ها

پاسخ صحیح: ب