

نمونه سوالات

آیین نامه رانندگی




بسته شماره: ۱




ارائه شده توسط وب سایت تست درایو

WWW.TEST-DRIVE.IR

۱- وظیفه کدام قطعه، جلوگیری از ورود بخارهای بنزین به هوا است؟

- (۱) کاتالیست (۲) مافلر (۳)  کنیستر (۴) سنسور اکسیژن

۲- در خیابان‌ها و جاده‌هایی که نور کافی وجود دارد،

- (۱) باید تنها از چراغ‌های جانبی جلو و عقب استفاده نمود. 

(۲) باید از نور بالا استفاده نمود.

(۳) تمام چراغ‌ها را باید خاموش نمود.

(۴) باید تنها از نور پایین استفاده نمود.

۳- تکیه نمودن و آویزان شدن اشخاص به وسایل نقلیه

(۱) مجاز است. (۲) با رعایت احتیاز مجاز است.


(۳)  ممنوع است. (۴) در صورت بی خطر بودن مجاز است.

۴- شست‌وشوی وسایل نقلیه در راه‌ها،

(۱) ممنوع است.

(۲) مجاز است.


(۳) باعث سدّ راه و ایجاد خطر و انحراف وسایل نقلیه از مسیر حرکت می‌شود.

(۴) موارد ۱ و ۳. 

۵- در چه شرایطی می‌توان شاسی خودرو را عوض کرد؟

(۱) در هیچ شرایطی نمی‌توان عوض نمود.

(۲) تعویض آن دل به خواه و بدون اشکال است.

(۳)  تنها با مجوز راهنمایی و رانندگی می‌توان به این کار اقدام نمود.

(۴) مجوز کارخانه سازنده برای این کار کافی است.

6- برای امن کردن محل حادثه با چه اقدامی می‌توان صحنه را عاری از خطر نمود؟

(۱) خاموش کردن وسیله نقلیه حادثه‌دیده

(۲) مراقب سلامت خود باشید.

(۳) مصدوم را تا حد ممکن از محل دور نمایید.

(۴) موارد ۱ و ۲ ✓

7- ترمز سرویس (ترمز پایی) مطابق با الزامات استانداردهای خودرویی باید بر عمل کند.

(۱) فقط بر چرخ های محرک

(۲) فقط بر چرخ های جلو

(۳) بر تمامی چرخ ها عمل کند ✓

(۴) فقط بر چرخ های عقب

8- چه هنگام می‌توان از ترمز دستی استفاده نمود؟

(۱) هنگام توقف خودرو و یا در سرعت‌های بسیار پایین ✓

(۲) در هر شرایطی

(۳) تنها در سرعت‌های بالا

(۴) در هنگام توقف کامل وسیله نقلیه

9- رانندگی با وسیله نقلیه‌ای که برگ معاینه فنی معتبر نداشته باشد، چگونه است؟

(۱) ممنوع است. ✓ (۲) با هماهنگی شهرداری مجاز است.

(۳) فقط در معابر برون‌شهری مجاز است. (۴) در خیابان‌های محلی مجاز است.

10- کدام یک از موارد زیر جزء سیستم اگزوز خودرو می‌باشد؟

(۱) کاتالیست ✓ (۲) فیلتر هوا (۳) نشانگر سوخت (۴) فن

11- کدام گزینه درباره ضدیخ صحیح می باشد؟

- (۱) بهتر است کل مخزن رادیاتور به جای آب از ضد یخ پُر شود.
- (۲) مایع ضدیخ از یخ زدگی آب در سرما جلوگیری می کند. ✓
- (۳) استفاده از ضدیخ در تابستان می تواند منجر به جوش آوردن موتور شود.
- (۴) ضدیخ در جلوگیری از زنگ زدگی رادیاتور و قطعات سیستم خنک کاری مؤثر نمی باشد.

12- معیوب بودن سیستم تعلیق یک خودرو موجب می شود

- (۱) افزایش آلایندگی گازهای خروجی از موتور شود.
- (۲) آب رادیاتور جوش بیاورد.
- (۳) فرمان پذیری و سیستم هدایت خودرو دچار اختلال شود. ✓
- (۴) روغن موتور به مرور زمان کاهش یابد.

13- در برخورد با یک مصدوم بیهوش، مهم ترین اقدام کدام است؟

- (۱) با کشیدن پتو بدن او را گرم نگه دارید.
- (۲) باز کردن راه هوایی تنفس ✓
- (۳) دادن مایعات و نوشیدنی گرم
- (۴) مصدوم را با تکان دادن بدنش به هوش آورید.

14- بی احترامی به سایر کاربران ترافیک، دشنام و ناسزا گفتن به سایرین در حین رانندگی

نشان دهنده چیست؟

- (۱) جرأت و شجاعت
- (۲) شخصیت متزلزل و منفی فرد ✓
- (۳) شلوغی ترافیک
- (۴) عجله و شتاب

15- کدام یک از موارد زیر جزء رفتارهای رانندگان پرخطر و پرخاشگر نمی باشد؟

- (۱) بوق زدن های بیهوده و مکرر
- (۲) استفاده از نور بالا برای اذیت کردن راننده مقابل
- (۳) رعایت حقوق شهروندی و حریم دیگران در هنگام رانندگی ✓
- (۴) توهین به سایر رانندگان و انجام رفتارهای ناپسند و زشت

16- در کدام یک از موارد زیر بایستی از رانندگی خودداری نمود؟

- (۱) عصبانیت شدید در شرایط جسمی نامناسب ✓
- (۲) هنگام بارندگی شدید
- (۳) نداشتن جعبه کمک های اولیه در داخل خودرو
- (۴) سوختن چراغ داخل خودرو

17- کدام یک از موارد زیر در خصوص حرکت با دنده عقب صحیح است؟

- (۱) در حرکت با دنده عقب بایستی از سمت چپ پشت سر را نگاه نمود.
- (۲) در حرکت با دنده عقب باید از فردی که در کنار شما در خودرو است، بخواهید به عقب نگاه کند.
- (۳) در حرکت با دنده عقب باید میدان دید عقب را کنترل نموده و به آرامی و با نگاه کردن به فضای پشت حرکت کرد. ✓
- (۴) در حرکت با دنده عقب نیازی به نگاه کردن به پشت سر نبوده و صرفاً از طریق آینه ها می توان این کار را انجام داد.

18- کم بودن باد تایرهای خودرو باعث چه می شود؟

- (۱) از دست دادن فرمان پذیری خودرو ✓
- (۲) فرسایش تایر خودرو
- (۳) کاهش مصرف سوخت
- (۴) افزایش سرعت خودرو

19- حرکت کردن از روی خطوط هاشور در حاشیه راه‌ها که معمولاً کناره اتوبان‌ها، آزادراه‌ها، بزرگ‌راه‌ها و تونل‌ها کشیده می‌شوند،

(۱) مجاز است.

(۲) در شیب‌ها مجاز است.

(۳) در صورت ترافیک سنگین مجاز است.

(۴) ممنوع است. ✓

20- در راه‌هایی که مسیر حرکت وسایل نقلیه به علت وجود موانع ثابت اهم از وسایل نقلیه پارک‌شده، مصالح ساختمانی، اشیاء عملیات عمرانی، حفاری و خرابی راه بسته و یا برای عبور از مسیر مجاز کافی نباشد، حق تقدم عبور با وسیله‌ای است که

(۱) به سمت راست گردش می‌کند.

(۲) مسیر عبور آن‌ها باز یا سهم عبور بیشتری را دارا می‌باشد. ✓

(۳) به طور مستقیم و در سمت و مسیر مجاز حرکت می‌کند.

(۴) مسیر عبور آن‌ها بسته یا سهم کمتری را دارا می‌باشد.

21- سبقت از طرف راست وسیله نقلیه‌ای که در حال گردش به چپ می‌باشد،

(۱) فقط در معابر شریانی درجه دو ممنوع است.

(۲) ممنوع است.

(۳) در هنگام روز مجاز است.

(۴) مجاز است. ✓

22- رانندگان کلیه وسایل نقلیه موظف‌اند از کدام خط عبور راه حرکت نمایند؟

(۱) خط وسط (۲) سمت راست ✓ (۳) سمت چپ (۴) خط زیگ‌زاگ

23- کدامیک از موارد زیر توسط راننده مجاز است؟

- (۱) ریختن زباله از داخل خودرو به بیرون
- (۲) پرتاب آب دهان به بیرون
- (۳) حرکات نمایشی و دور زدن در جا
- (۴) بستن دو عدد چراغ ویژه مه با نور زرد در دو طرف قسمت جلوی خودرو ✓

24- حداکثر میزان سرعت مجاز در بزرگراه‌های بیرون شهری برای سواری چند کیلومتر در ساعت است؟

- (۱) ۱۰۰ کیلومتر در ساعت
- (۲) ۱۱۰ کیلومتر در ساعت ✓
- (۳) ۹۰ کیلومتر در ساعت
- (۴) ۸۵ کیلومتر در ساعت

25- کدامیک از موارد زیر صحیح است؟

- (۱) باز کردن درهای وسیله نقلیه پیش از توقف کامل مجاز نیست. ✓
- (۲) عبور وسایل نقلیه از پیاده‌روها مجاز است.
- (۳) اجازه رانندگی به شخص فاقد گواهینامه مجاز است.
- (۴) توقف در ۱۰ متری ورودی بیمارستان‌ها مجاز است.

26- دور زدن تا چه فاصله‌ای از پیچ‌ها که میدان دید کافی ندارد، ممنوع است؟

- (۱) ۲۵۰ متری
- (۲) ۲۰۰ متری
- (۳) ۳۰۰ متری
- (۴) ۱۵۰ متری ✓

27- استفاده از لاستیک‌های فرسوده و غیراستاندارد در وسایل نقلیه چگونه است؟

(۱) مجاز است.

(۲) ممنوع است. ✓

(۳) در صورت ضرورت بلامانع می‌باشد که در تابستان بلامانع می‌باشد.

28- برای گردش به چپ در راه‌های برون‌شهر که منحصر به دو خط عبور رفت و برگشت بوده و مانع فیزیکی وسط جاده نداشته باشد، رانندگان موظف‌اند وسیله نقلیه را

(۱) در وسط راه متوقف و با علامت‌دادن به سایرین گردش نمایند.

(۲) راهنمای سمت چپ را روشن و گردش نمایند.

(۳) در شانه راه و یا منتهی‌الیه سمت راست راه متوقف و سپس با رعایت حق تقدم گردش نمایند. ✓

۴ - در وسط راه با زدن راهنما به سمت چپ گردش نمایند.

29- به مجموعه رفتارهای منفی در رانندگی چه می‌گویند؟

(۱) رانندگی مطمئنه

(۲) رانندگی ایمن

(۳) رانندگی خطرناک و با رانندگی تهاجمی ✓

(۴) فرهنگ رانندگی

30- وظیفه کنیستر در خودرو چیست؟

(۱) از آرماتور روغن موتور بارگیری می‌کند.

(۲) از تبخیر آب را رادیاتور جلوگیری می‌کند.

(۳) عمر باتری را طولانی می‌کند

(۴) از ورود بخارهای بنزین به فضای آزاد جلوگیری می‌کند. ✓

31- میزان کارایی روغن‌های معمولی موتور چند کیلومتر می‌باشد؟

- (۱) در حدود ۸ تا ۱۰ هزار کیلومتر ✓
(۲) - در حدود ۲ هزار کیلومتر
(۳) در حدود ۸۰ تا ۱۰۰ هزار کیلومتر
(۴) هزار کیلومتر

32- در ارزیابی مصدومین، کدامیک از مصدومین را باید در اولویت انجام کمک‌های اولیه قرار داد؟

- (۱) مصدومیتی که آسیب‌های آن‌ها کمتر است.
(۲) کودکان در اولویت انجام کمک‌های اولیه هستند.
(۳) مصدومینی که از سن بالاتری نسبت به سایر مصدومین برخوردارند.
(۴) مصدومینی که آسیب‌های آن‌ها بسیار شدید است، نظیر سوختگی‌ها یا زخم‌های وسیع ✓

33- اگر خودرویی با نور بالا از روبه‌رو به شما نزدیک شود، چه باید بکنید؟

- (۱) باید سرعت را افزایش داده و سریع از کنار آن عبور کرد.
(۲) باید، با تبدیل نور پایین به نور بالا و بوق ممتد، او را متوجه نمود که از نور پایین استفاده کند.
(۳) باید سرعت را کاهش داده و به سمت چپ جاده نگاه کرد.
(۴) سرعت را کاهش داده و به سمت راست جاده نگاه کرده و با کنار چشم حرکت خودروی مقابل را تحت نظر داشت. ✓

34- کدامیک از موارد زیر جزء رفتار ناهنجار اجتماعی و ناپسند نمی‌باشد؟

- (۱) نصب بوق‌های گوش‌خراش
(۲) نصب سیستم‌های صوتی پر قدرت
(۳) رانندگی با سرعت مجاز ✓
(۴) استفاده از لامپ‌های غیرمجاز

35- از زمانی که راننده تشخیص می‌دهد. نیاز به توقف دارد، تا لحظه به کار گرفتن ترمزها چه نام دارد؟

- (۱) مسافت توقف (۲) مسافت ترمز (۳) زمان واکنش ✓ (۴) زمان ترمز

36- توقف و یا ایستادن در کدام یک از محل‌های زیر مجاز است؟

- (۱) کارگاه پیاده
(۲) پیاده رو
(۳) کنار وسایل نقلیه‌ای که خود متوقف می‌باشد.
(۴) محدوده پارک آزاد ✓

37- در کدام یک از موارد زیر بوق زدن مجاز است؟

- (۱) صدا زدن افراد
(۲) سبقت مجاز در روز ✓
(۳) اعلام حضور و بازکردن در منزل
(۴) خدا حافظی

38- در برخورد راه اصلی با راه فرعی، تقدم عبور با وسیله‌ای است که

- (۱) از راه فرعی عبور می‌کند.
(۲) از راه اصلی عبور می‌کند. ✓
(۳) به سمت راست گردش می‌کند.
(۴) در طرف راست وسیله نقلیه دیگر قرار دارد.

39- علائم هشدار دهنده برای خطر به چه شکلی ترسیم می گردند؟

- (۱) مثبت گوشه (۲) لوزی شکل (۳) مثلث ☒ (۴) دایره ای

40- در راه های شیب دار کوهستانی که در آن ها عبور در وسیله نقلیه کنار هم مشکل می باشد، حق تقدم عبور با کدام است؟

- (۱) وسیله نقلیه ای که در سرازیری در حال حرکت است.
(۲) حق تقدم با وسایل نقلیه سبک می باشد.
(۳) حق تقدم با وسایل نقلیه سنگین است.
(۴) وسیله نقلیه ای که در سربالایی در حال حرکت است. ☒

41- علائم اختصاری برای گرفتن سبقت در شب کدام مورد است؟

- (۱) تعویض نور چراغ بالا و پایین ☒ (۲) بوق کوتاه و چراغ راهنما
(۳) اشاره با دست (۴) افزایش سرعت و تبدیل متناوب نور چراغ

42- حداکثر سرعت در بزرگراه های واقع در شهرها و مناطق مسکونی چند کیلومتر در ساعت است؟

- (۱) ۱۲۰ (۲) ۱۰۰ ☒ (۳) ۱۱۰ (۴) ۱۳۵

43- در معابر اصلی حداکثر سرعت چند کیلومتر در ساعت می باشد؟

- (۱) ۴۰ (۲) ۵۰ (۳) ۴۵ (۴) ۶۰ ☒

44- در هنگام رو به رو شدن با وسیله نقلیه‌ای که از جهت مخالف حرکت می‌کند، برای افزایش ایمنی تردد از چه فاصله‌ای باید چراغ نور پایین استفاده نمود؟

- (۱) ۵۰ متری (۲) ۱۵۰ متری ✓ (۳) ۱۰۰ متری (۴) ۷۵ متری

45- کدام مورد زیر از مصادیق رانندگی پرخطر و پرخطرانه است؟

- (۱) رانندگی بین خطوط (۲) توقف پشت خط ایست
(۳) رعایت فاصله طولی (۴) مانور و تغییر مسیر به طور مکرر ✓

46- از جمله احتیاط‌های لازم در هنگام وقوع تصادفات انجام کدام یک از موارد زیر اشتباه است؟

- (۱) هشدار توسط افراد به دیگر رانندگان تا سرعت خودرو را کاهش دهند.
(۲) روشن نگه داشتن خودرو حتی در صورتی که خودرو قابلیت حرکت ندارد. ✓
(۳) استفاده از تابلو اعلام خطر
(۴) تذکر جهت روشن نکردن سیگار در صورت آسیب باک سوخت خودرو

47- یکی از عوامل اصلی حوادث جاده‌ای مرگ و میر در گروه سنی زیر ۴۰ سال در کشور ایران چه چیزی می‌باشد؟

- (۱) رعایت سرعت مطمئنه
(۲) رعایت اصول ایمنی
(۳) بی‌توجهی به فرهنگ رانندگی و عدم رعایت قوانین و مقررات ✓
(۴) رعایت قوانین و مقررات

48- کدام گزینه درباره ضدیخ صحیح می باشد؟

- (۱) بهتر است کل مخزن رادیاتور به جای آب از ضدیخ پر شود.
- (۲) مایع ضدیخ از یخ زدگی آب در سرما جلوگیری نمی کند.
- (۳) ضدیخ در جلوگیری از زنگ زدگی رادیاتور و قطعات سیستم خنک کاری کاربرد دارد.
- (۴) عدم استفاده از ضدیخ در تابستان می تواند منجر به جوش آوردن زودتر شود. ✓

49- در هنگام افزایش دمای موتور برای خنک شدن سریع موتور چه اقدامی انجام باید بدهیم؟

- (۱) آب بر روی بلوک موتور می ریزیم.
- (۲) با احتیاط مقداری آب بر روی رادیاتور می ریزیم. ✓
- (۳) به طور متناوب ولی با احتیاط آب را بر روی موتور می ریزیم.
- (۴) با احتیاط فقط آب تصفیه شده بر روی بلوک موتور می ریزیم.

50- سطح روغن موتور را با چه وسیله ای می توان کنترل نمود؟

- (۱) سیم روغن (گیج روغن) ✓
- (۲) در مخزن روغن
- (۳) فیلتر روغن
- (۴) پمپ روغن

51- کدام یک از موارد زیر در خصوص ایمن کردن صحنه حادثه می باشد؟

- (۱) پارک خودرو در فاصله مناسب - کشیدن چند نفس عمیق و آرام
- (۲) پارک خودرو در نزدیکی صحنه تصادف - بررسی وضعیت مصدومین - دور کردن مصدوم از صحنه حادثه
- (۳) مطمئن شدن از اینکه خطری شما را تهدید نمی کند - پارک خودرو در فاصله مناسب - استفاده از تابلوی اعلام خطر ✓
- (۴) استفاده از تابلوی اعلام خطر - گرفتن شرح حال از مصدومین - کشیدن چند نفس آرام و عمیق

52- جمله «دیر رسیدن بهتر از هرگز نرسیدن است»، چه مفهومی را می‌رساند؟

- (۱) پرهیز از عجله و شتاب در رانندگی ✓
(۲) رعایت کردن قوانین مربوط به پارک
(۳) عدم توجه به قوانین و مقررات
(۴) با سرعت بالا حرکت کردن

53- کدام مورد نمونه‌ای از رفتار پرخطر هنگام رانندگی است؟

- (۱) حرکت بین خطوط
(۲) استفاده از تلفن همراه ✓
(۳) توجه به جلو
(۴) رعایت فاصله طولی

54- در کدام یک از موارد زیر باید نور بالا را به نور پایین تبدیل نماییم؟

- (۱) زمانی که فاصله شما با خودرویی که در جلوی شما حرکت می‌کند، از ۱۵۰ متر بیشتر است.
(۲) نیازی به تغییر نور بالا به نور پایین به جز در جاده‌های پر رفت و آمد نیست.
(۳) زمانی که فاصله شما با خودرویی که در جلوی شما حرکت می‌کند، ۲۰۰ متر باشد.
(۴) زمانی که فاصله شما با خودرویی که از مقابل به شما نزدیک می‌شود، ۱۵۰ متر یا کمتر باشد. ✓

55- در کدام یک از سطوح زیر مسافت توقف افزایش می‌یابد؟

- (۱) آسفالت با شرایط مطلوب ولی خشک
(۲) در جاده‌های سنگلاخ
(۳) آسفالت با شرایط نامطلوب و آغشته به قیر ✓
(۴) آسفالت زبر

56- کدام یک از موارد زیر در حین رانندگی مجاز است؟

- (۱) توجه کامل به جلو ✓
- (۲) استفاده از تلفن همراه
- (۳) عدم تمرکز
- (۴) استعمال دخانیات

57- چه هنگام می‌توان از ترمز دستی استفاده نمود؟

- (۱) هنگام توقف خودرو و یا در سرعت‌های بسیار پایین ✓
- (۲) در هر شرایطی
- (۳) تنها در سرعت‌های بالا
- (۴) هنگام حرکت در سرازیری‌ها یا سربالایی‌ها

58- هرگاه دارنده گواهینامه رانندگی یک از شرایط پزشکی مربوطه برای رانندگی را از دست بدهد، بایستی

- (۱) با همان وضعیت به رانندگی ادامه دهد.
- (۲) ظرف مدت یک ماه به راهنمایی و رانندگی مراجعه نماید. ✓
- (۳) به آن توجهی ننماید.
- (۴) به درمانگاه مراجعه نماید

59- در گذرگاه پیاده که فاقد چراغ راهنمایی و رانندگی است، حق تقدم عبور با کدام است؟

- (۱) وسیله نقلیه در حال حرکت
- (۲) وسیله نقلیه در حال گردش
- (۳) پیادگان ✓
- (۴) به وسیله نقلیه‌ای که متوقف شده است.

60- یکی از علت‌های تقطی قوانین و مقررات و بی‌احترامی به سایر رانندگان و انجام اقدامات حادثه‌ساز توسط راننده کدام است؟

- (۱) داشتن خودروی ایمن
- (۲) وقت‌شناس نبودن و عدم برنامه‌ریزی مناسب برای رسیدن به مقصد ✓
- (۳) از مهارت و تجربه کافی در رانندگی برخوردار است
- (۴) راننده در زمان خلوتی معابر می‌تواند قوانین و مقررات را نقض و اقدامات حادثه‌ساز انجام دهد.

61- کدام مورد از مصادیق حقوق شهروندی در حین رانندگی می‌باشد؟

- (۱) حرکت با سرعت غیرمجاز
- (۲) حرکت مارپیچ در رانندگی
- (۳) حرکت غیر ایمن
- (۴) حرکت بین خطوط ترافیک ✓

62- یکی از راه‌های کاهش مصرف سوخت کدام است؟

- (۱) حرکت با سرعت زیاد
- (۲) تنظیم باد تایرها ✓
- (۳) عدم تنظیم موتور
- (۴) باز کردن ترموستات خودرو در تابستان

63- برای راه‌اندازی خودرو راننده در چه مرحله‌ای بایستی کمربند ایمنی را ببندد؟

- (۱) در حین حرکت
- (۲) قبل از روشن کردن موتور خودرو
- (۳) پس از روشن کردن موتور خودرو ✓
- (۴) نیازی به بستن کمربند ایمنی نمی‌باشد.

64- کدام قطعه از ورود گرد و غبار به داخل موتور جلوگیری می‌کند؟

- (۱) انژکتور
- (۲) صافی بنزین
- (۳) صافی هوا ✓
- (۴) پروانه

65- یکی از مزیت‌های ترمزهای ضد قفل (ABS)، عبارت است از

- (۱) در هنگام ترمزگیری از قفل شدن درهای خودرو جلوگیری می‌کند.
- (۲) در هنگام ترمزگیری مسافت توقف خودرو را افزایش می‌دهد.
- (۳) در هنگام ترمزگیری موجب سُرخوردن وسیله نقلیه می‌شود.
- (۴) در هنگام ترمزگیری امکان فرمان‌دادن و هدایت بهتر خودرو را می‌دهد. ✓

66- تا چند متری ورودی و خروجی مراکز فوریت‌های پزشکی ایستادن وسایل نقلیه ممنوع است؟

- (۱) ۱۵۰ متری
- (۲) ۲۰ متری
- (۳) ۱۵ متری ✓
- (۴) محدودیتی ندارد.

67- در هنگام پارک در سربالایی و در راه بدون جدول، فرمان وسیله نقلیه باید به کدام سمت چرخانده شود؟

- (۱) به سمت چپ
- (۲) تفاوتی ندارد.
- (۳) سمت راست ✓
- (۴) مخالف عقربه ساعت

68- وظیفه کدام قطعه، جلوگیری از ورود بخارهای بنزین به هوا است؟

- (۱) کاتالیست
- (۲) مافلر
- (۳) کنیستر ✓
- (۴) سنسور اکسیژن

69- در خیابان‌ها و جاده‌هایی که نور کافی وجود دارد،

(۱) باید تنها از چراغ‌های جانبی جلو و عقب استفاده نمود. ✓

(۲) باید از نوربالا استفاده نمود.

(۳) تمام چراغ‌ها را باید خاموش نمود.

(۴) باید تنها از نور پایین استفاده نمود.

70- کدام گزینه در مورد گردش به چپ در راه‌های یک‌طرفه درست است؟

(۱) گردش به چپ در خیابان یک‌طرفه ممنوع است.

(۲) رانندگان موظف‌اند وسیله نقلیه را به منتهی‌الیه طرف راست خیابان هدایت و سپس به چپ گردش کنند.

(۳) رانندگان موظف‌اند وسیله نقلیه را به منتهی‌الیه طرف چپ خیابان هدایت و سپس به چپ گردش کنند. ✓

(۴) باید منتظر بمانند تا خیابان خلوت شود.

71- تکیه نمودن و آویزان شدن اشخاص به وسایل نقلیه

(۱) مجاز است.

(۲) با رعایت احتیاز مجاز است.

(۳) ممنوع است. ✓

(۴) در صورت بی‌خطر بودن مجاز است.

72- ضدیخ چه عملی در رادیاتور انجام می‌دهد؟

- (۱) جلوگیری از یخ‌زدگی آب رادیاتور (۲) به تأخیراندازی نقطه جوش آب
(۳) جلوگیری از زنگ‌زدگی رادیاتور و قطعات (۴) همه موارد ✓

73- ترمز سرویس (پایی) بر کدام چرخ‌ها عمل می‌کند؟

- (۱) عقب (۲) جلو (۳) تمامی چرخ‌ها ✓ (۴) هیچ‌کدام

74- کدام ابزار در خودرو صحت یا عدم سلامت بخش‌های مهمی همچون جلوبندی و وضعیت فرمان‌پذیری را آشکار می‌کند؟

- (۱) چرخ‌ها (۲) غربیلک فرمان ✓ (۳) دسته دنده (۴) هیچ‌کدام

75- کلیدی‌ترین ابزار در کنترل خودرو چیست؟

- (۱) پدال گاز (۲) پدال ترمز (۳) غربیلک فرمان ✓ (۴) پدال کلاچ

76- در شرایط جوش آوردن موتور چه کاری باید انجام داد؟

- (۱) موتور را خاموش کرده و روی موتور آب
(۲) موتور را نباید خاموش کرد و درب رادیاتور را باز نمی‌کنیم و با احتیاط مقداری آب روی رادیاتور می‌ریزیم. ✓
(۳) موتور را خاموش کرده و درب رادیاتور را باز می‌کنیم و مقداری آب داخل رادیاتور می‌ریزیم.
(۴) تا تعمیرگاه به راه خود ادامه می‌دهیم.

77- جهت رانندگی خوب باید از چه فاصله‌ای پلاک اتومبیل‌ها را بخوانید؟

- (۱) از فاصله ۱۵ متری
- (۲) از فاصله ۱۰ متری
- (۳) از فاصله ۲۸ متری
- (۴) از فاصله ۲۰ متری ✓

78- در شرایط یخبندان چگونه می‌توانید از لغزش چرخ‌های اتومبیل جلوگیری کنید؟

- (۱) به دفعات بیشتر و به آرامی ترمز کنید.
- (۲) با سرعت کمتر و با دنده یک حرکت کنید.
- (۳) در تمامی مواقع با دنده سنگین حرکت کنید. ✓
- (۴) اگر چرخ‌ها شروع به لغزندگی کرد از ترمز دستی استفاده کنید.

79- علایم آگاه‌سازی برای سبقت در هنگام شب چیست؟

- ۱- استفاده از بوق بلند بطور متناوب
- ۲- فقط تبدیل و تعویض نور چراغ بالا و پایین
- ۳- استفاده از بوق کوتاه
- ۴- تبدیل و تعویض نور چراغ بالا و پایین به همراه چراغ راهنما ✓

80- حداکثر سرعت در بزرگ‌راه‌های درون شهری چند کیلومتر در ساعت است؟

- ۱- ۹۵
- ۲- ۱۰۰ ✓
- ۳- ۱۱۰
- ۴- ۱۲۵

81- کدامیک از موارد زیر در خصوص رانندگی در شرایط ریزش برف و باران صحیح نمی باشد؟

- ۱- باید چراغهای نور پایین را روشن نمود
- ۲- استفاده از برف پاک در صورت شدت یافتن ریزش باران
- ۳- استفاده از سیستم تهویه خودرو
- ۴- عدم استفاده از چراغها در شب ✓

82- براساس قوانین مصوب، رانندگانی که از راه فرعی وارد راه اصلی می شوند باید.....

- ۱- پیش از ورود، توقف و با رعایت حق تقدم وارد راه اصلی شود ✓
- ۲- سریعاً وارد راه اصلی گردند
- ۳- سریعاً به سمت چپ گردش نماید
- ۴- هیچ کدام

83- هرگاه وسیله نقلیه موتوری در راه ها از کار بیفتد و به دلیل نور کافی از به چراغ نباشد راننده باید مثلث شبرنگ را در چه فاصله ای از طرف عقب و جلو وسیله نقلیه به نحوی که قابل دیدن باشد قرار دهد؟

- ۱- ۷۰ متری ✓
- ۲- ۱۰۰ متری
- ۳- ۱۵۰ متری
- ۴- ۲۰۰ متری

84- قبل از شروع حرکت باید کدامیک از چراغهای خودرو مورد بررسی قرار گیرد؟

- ۱- چراغ جلو - چراغ خطر - چراغهای راهنما- چراغ دنده عقب ✓
- ۲- چراغ عقب- چراغ راهنما- چراغ abs
- ۳- چراغ عقب و چراغ راهنما در صورت کثیف بودن

۴- هیچ کدام

85- در هنگام رانندگی و مشاهده چراغ چشمک زن قرمز چه اقدامی باید انجام داد؟

- ۱- ایست و عبور ✓
- ۲- عبور با احتیاط
- ۳- عبور از تقاطع با سرعت زیاد و احتیاط لازم
- ۴- عبور از تقاطع با سرعت کم و احتیاط لازم

86- کمک های اولیه چیست؟

به اقدامات اولیه ای گویند که بلافاصله پس از بروز سانحه و قبل از رسیدن به مرکز درمانی صورت می گیرد. ✓

87- در جاده های برون شهری، حداقل سرعت چند کیلومتر در ساعت می باشد؟

- ۱- ۷۰ کیلومتر در ساعت ✓
- ۲- ۵۰ کیلومتر در ساعت
- ۳- ۶۰ کیلومتر در ساعت
- ۴- ۶۵ کیلومتر در ساعت

88- کدام موارد زیر باید قبل از شروع حرکت مورد بازبینی قرار بگیرد؟

- ۱- شیشه ها - گاز
- ۲- برف پاکن - بوق - کلاچ - گاز
- ۳- بوق - آینه ها - کلاچ
- ۴- شیشه ها- آئینه ها - ترمز- تایرها - میزان آب رادیاتور ✓

89- سبقت گرفتن در راهها در کدام مورد مجاز نیست؟

- ۱- از ۱۰۰ متری مانده به پیچ ها

۲- از ۱۵۰ متری ورودی تونل ها

۳- اتوبوس و کامیون ها در معابر شهری ✓

۴- از ۱۰۰ متری پس از پیچ ها

90- استفاده از بوق در کدامیک از موارد زیر مجاز است؟

۱- اطلاع و آگاه سازی سایر کاربران راه و جلوگیری از بروز سانحه ✓

۲- اطلاع و آگاه سازی برای ادای احترام به سایر کاربران راه

۳- برای کاهش شدت تصادفات

۴- برای کاهش شدت تصادفات و آگاهی سایر کاربران راه

91- در راههای یک طرفه، حرکت بر خلاف مسیر تعیین شده است.

۱- برای گردش به چپ آزاد است

۲- با دادن علامت و زدن چراغ راهنما مانعی ندارد

۳- ممنوع است ✓

۴- هیچ کدام

92- رانندگان هنگام روبه رو شدن با وسایل نقلیه ای که در جهت مخالف حرکت می کنند

حداقل از چند متری از چراغ عبور (نور پایین) استفاده می نمایند؟

۱- ۱۵۰ متری ✓

۲- ۱۰۰ متری

۳- ۵۰ متری

۴- ۲۵۰ متری

93- در چند متری پیچ ها، سبقت گرفتن ممنوع است؟

۱- ۳۰ متری

۲- ۵۰ متری ✓

۳- ۴۰ متری

۴- سبقت گرفتن در پیچ ها محدودیت ندارد

94- استفاده از تلفن همراه در حین رانندگی.....

- ۱- ممنوع است ✓
- ۲- مجاز است
- ۳- فقط در معابر شهری مجاز است
- ۴- در صورت حواس پرتی ممنوع است

95- براساس آیین نامه راهنمایی و رانندگی، منظور از وسیله نقلیه در زمان کوتاه کدام است؟

- ۱- ایستادن ✓
- ۲- ایست وسیله نقلیه
- ۳- ایستادن ممنوع
- ۴- ایست وسیله نقلیه در زمان مناسب

96- در شبها و در راههای بیرون شهر حداکثر سرعت چند کیلومتر در ساعت است؟

- ۱- ۸۵ ✓
- ۲- ۹۵
- ۳- ۶۵
- ۴- ۷۵

97- اگر خودرویی با نور بالا از روبرو به شما نزدیک شود چه کاری انجام می دهید؟

- ۱- باید با تبدیل نور پایین به نور بالا و بوق ممتد او را متوجه می کنیم
- ۲- باید سرعت را افزایش داده و سریع از کنار آن عبور کنیم
- ۳- سرعت را کاهش داده و به سمت راست جاده نگاه کنیم کنار چشم حرکت خودرو مقابل را تحت نظر داشته باشیم. ✓
- ۴- هیچ کدام

98- پر باد بودن تایر خودرو می تواند باعث بروز کدامیک از موارد زیر شود؟

- ۱- فرمان پذیری خودرو را کاهش داده و باعث ایجاد خطر می گردد. ✓
- ۲- باعث افزایش مصرف سوخت در سرعت های زیر ۵۰ کیلومتر در ساعت می شود.
- ۳- باعث فرسایش تایر در سرعت های بالای ۵۰ کیلومتر خواهد بود
- ۴- همه موارد

99- در آزادراه های برون شهری و مناطق غیر مسکونی، حداقل سرعت چند کیلومتر در ساعت

است؟

- ۱- ۶۰
- ۲- ۵۰
- ۳- ۷۰ ✓
- ۴- ۶۵

100- در کدامیک از سطوح زیر مسافت توقف افزایش می یابد؟

- ۱- آسفالت با شرایط نامطلوب و آغشته به قیر ✓
- ۲- آسفالت با شرایط مطلوب ولی خشک
- ۳- در جاده های سنگلاخ
- ۴- آسفالت زبر

101- کدام یک از موارد ذیل برای ایمن کردن صحنه تصادف صحیح نمی باشد؟

- ۱- قبل از هراقدامی مطمئن شوید خطری شما را تهدید نمی کند
- ۲- به هیچ وجه خود را در خطر جدی قرار ندهید
- ۳- برای نجات مصدومین باید ریسک نمود وبا شتاب به کمک آنها شتافت ✓

102- چرا شکسته و کثیف بودن شیشه های خودرو می تواند خطرناک باشد؟

- ۱- چون باعث کاهش دید می شود ✓
- ۲- چون باعث کاهش انعکاس نور می شود
- ۳- چون باعث افزایش انعکاس نور می شود
- ۴- شکسته بودن و کثیف بودن شیشه ها خطر آفرین نمی باشد.



آزمون آیین نامه راهنمایی و رانندگی ایرانیان-تست درایو

سوالات آزمون آیین نامه شماره: ۱

www.test-drive.ir

<p>۱. در پشت تقاطع جاده و راه آهن راننده چه هنگام مجاز به عبور است؟</p> <p>الف. هنگامی که قطار عبور می کند</p> <p>ب. زمانی که چراغ محل همچین روشن بماند</p> <p>ج. موارد یک و دو صحیح است</p> <p>د. هنگامیکه چراغ محل تقاطع خاموش شود</p> <p>پاسخ صحیح: د</p>	<p>۳. در چه فاصله ای از ورودی یا خروجی مراکز آتش نشانی، پلیس و بیمارستانها توقف وسایل نقلیه ممنوع است؟</p> <p>الف. ۵ متری</p> <p>ب. ۱۵ متری</p> <p>ج. ۳۰ متری</p> <p>د. محدودیت ندارد</p> <p>پاسخ صحیح: ب</p>
<p>۲. حداکثر میزان سرعت در جاده های فرعی برای انواع وسایل نقلیه در روز ... کیلومتر و در شب ... کیلومتر در ساعت می باشد.</p> <p>الف. ۶۵-۷۵</p> <p>ب. ۸۵-۹۵</p> <p>ج. ۷۵-۸۵</p> <p>د. ۵۵-۶۵</p> <p>پاسخ صحیح: ج</p>	<p>۴. صحیح ترین روش ترمز کردن در خودروهای فاقد ترمز ABS چیست؟</p> <p>الف. پدال ترمز را بشدت فشار داده و سپس فشار وارده را کمتر نموده</p> <p>ب. ابتدا پدال را به آرامی فشار داده و بتدریج فشار را افزایش داد</p> <p>ج. بطور پی در پی پدال ترمز را فشار داده و رها نمود</p> <p>د. همزمان با فشار دادن پدال ترمز ترمز دستی را نیز کشید</p> <p>پاسخ صحیح: ب</p>

<p>۸. چرا باید در هنگام رانندگی توجه به جلو و اطراف داشته باشیم؟</p> <p>الف. در انتخاب مسیر دچار اشتباه نشویم</p> <p>ب. متوجه حرکات سایر رانندگان باشیم</p> <p>ج. خطرات احتمالی را پیش بینی کرده و زمان بیشتری برای واکنش داشته باشیم</p> <p>د. قادر باشیم علائم را ببینیم</p> <p>پاسخ صحیح: ج</p>	<p>۵. کدامیک از موارد زیر علت اصلی تصادف با اتومبیل جلویی است؟</p> <p>الف. عدم توجه به راه و نزدیک شدن بیش از حد به اتومبیل جلویی</p> <p>ب. سرعت غیرمجاز</p> <p>ج. عبور عابر پیاده در مناطق شهری و شلوغ</p> <p>د. وجود ترافیک سنگین در راهها</p> <p>پاسخ صحیح: الف</p>
<p>۹. اگر به هنگام رانندگی در آزادراه تایر خودرو پنچر شود چه باید کرد؟</p> <p>الف. باید در همان محل توقف کرد</p> <p>ب. باید در خط اضطراری توقف کرد</p> <p>ج. می توان بین خطوط عبوری آزادراه توقف کرد</p> <p>د. موارد الف و ج صحیح است</p> <p>پاسخ صحیح: ب</p>	<p>۶. اگر بعد از آزمایش چشم متوجه شدید که نیاز به عینک دارید چه موقع باید از آن استفاده کنید؟</p> <p>الف. فقط در موقع آلودگی هوا</p> <p>ب. در زمانی که احساس می کنید لازم است</p> <p>ج. در تمام اوقات رانندگی</p> <p>د. فقط در نور کم و شبها</p> <p>پاسخ صحیح: ج</p>
<p>۱۰. در محل توقف کنار خیابان حق تقدم عبور با وسیله نقلیه ای است که ...</p> <p>الف. اتومبیلی که مستقیم حرکت می کند</p> <p>ب. اتومبیلی ضمن حرکت با دنده عقب مشغول پارک کردن است</p> <p>ج. هر دو مورد</p> <p>د. هیچکدام</p> <p>پاسخ صحیح: ب</p>	<p>۷. اگر اتومبیل شما در محل گذرگاه قطار خاموش شود و نتوانید آن را روشن کنید و همزمان نیز بوق هشدار قطار به صدا درآید چه کاری باید انجام دهید؟</p> <p>الف. از اتومبیل خارج شده و از تقاطع دور می شوید</p> <p>ب. بر روی خط آهن جهت هشدار به سوزن بان شروع به دویدن می کنید</p> <p>ج. سعی می کنید موتور اتومبیل را روشن کنید</p> <p>د. اتومبیل را حرکت داده و از محل تقاطع دور کنید</p> <p>پاسخ صحیح: الف</p>

<p>۱۴. حداقل از چه فاصله در بزرگراه باید راهنما زد؟</p> <p>الف. ۵۰</p> <p>ب. ۷۰</p> <p>ج. ۱۰۰</p> <p>د. ۱۵۰</p> <p>پاسخ صحیح: ج</p>	<p>۱۱. کدام مورد از انواع آلودگی سهم زیادی از آلودگی شهری را تشکیل می‌دهد؟</p> <p>الف. آلودگی صوتی</p> <p>ب. آلودگی هوا ناشی از وسایل موتوری</p> <p>ج. آلودگی محیط زیستی</p> <p>د. موارد الف و ب صحیح می‌باشد</p> <p>پاسخ صحیح: ب</p>
<p>۱۵. به هنگام گردش به راست کدامیک از موارد زیر را باید رعایت کرد؟</p> <p>الف. علامت دادن با چراغ راهنمای سمت راست از فاصله ۱۰۰ متری</p> <p>ب. توجه به جریان ترافیک و عابرین</p> <p>ج. توجه به دوچرخه سوارها و موتورسوارها میان خودرو و جدول</p> <p>د. تمام موارد</p> <p>پاسخ صحیح: د</p>	<p>۱۲. متداول ترین نوع پارک در شهرها کدام مورد می‌باشد؟</p> <p>الف. پارک دوبل</p> <p>ب. پارک بغل</p> <p>ج. پارک پل</p> <p>د. هیچکدام</p> <p>پاسخ صحیح: الف</p>
<p>۱۶. در چه مواقعی نمی‌توانید از چراغ هشدار دهنده خطر استفاده کنید؟</p> <p>الف. زمانی که خودرو بکسل شده</p> <p>ب. زمانی که بصورت دوبله پارک شده</p> <p>ج. موارد الف و ب صحیح است</p> <p>د. هیچکدام</p> <p>پاسخ صحیح: ج</p>	<p>۱۳. هنگام پارک کردن در سرازیری که دارای جدول می‌باشد فرمان را باید به کدام سمت چرخاند؟</p> <p>الف. مستقیم</p> <p>ب. چپ</p> <p>ج. راست</p> <p>د. هیچکدام</p> <p>پاسخ صحیح: ج</p>

<p>۲۰. در مواقع طوفانی و وزش باد شدید کدامیک از موارد زیر باید بیش از حد مراقب باشید؟</p> <p>الف. به هنگام عبور از کنار دوچرخه و موتورسواران</p> <p>ب. به هنگام استفاده از ترمزها</p> <p>ج. به هنگام سبقت گرفتن از خودروهای طویل</p> <p>د. به هنگام عبور از پیچ‌ها و سربالایی‌ها</p> <p>پاسخ صحیح: الف</p>	<p>۱۷. به هنگام سبقت گرفتن از کدام یک از موارد زیر باید فضای بیشتری را برای وسیله نقلیه در نظر گرفت؟</p> <p>الف. موتورسیکلت</p> <p>ب. دوچرخه</p> <p>ج. تراکتور</p> <p>د. موارد الف و ب</p> <p>پاسخ صحیح: د</p>
<p>۲۱. حرکت با دنده خلاص در سرپایینی چه خطراتی را در پی خواهد داشت؟</p> <p>الف. موجب سرعت گرفتن خودرو شده و دنده سخت جلو می‌رود</p> <p>ب. ترمز گرفتن و هدایت خودرو مشکل می‌شود</p> <p>ج. سیستم کلاچ آسیب می‌بیند</p> <p>د. موارد الف و ب</p> <p>پاسخ صحیح: د</p>	<p>۱۸. هنگام ورود به میادین حق تقدم با وسیله نقلیه‌ای است که ...</p> <p>الف. در حال ورود به میدان است</p> <p>ب. در سمت راست وسیله نقلیه قرار دارد</p> <p>ج. درون میدان در حال حرکت است</p> <p>د. در حال عبور مستقیم است</p> <p>پاسخ صحیح: ج</p>
<p>۲۲. سبقت گرفتن در سر پیچ‌های تند و سربالایی‌ها به چه علت ممنوع می‌باشد؟</p> <p>الف. نامحدود بودن میدان دید راننده</p> <p>ب. کم بودن میدان دید راننده</p> <p>ج. اختلال در ترافیک</p> <p>د. عدم کشش خودرو</p> <p>پاسخ صحیح: ب</p>	<p>۱۹. غالب میخ‌های زرد رنگ (چشم گربه) در چه محل‌هایی نصب می‌شود؟</p> <p>الف. در مسیرهای ورودی و خروجی آزادراه‌ها</p> <p>ب. در باند کاهش سرعت</p> <p>ج. در باند افزایش سرعت</p> <p>د. در مسیر رفت و برگشت جاده‌ها و در سمت چپ مسیر</p> <p>پاسخ صحیح: د</p>

۲۳. مفهوم این شکل چیست؟



الف. توقف مطلقا ممنوع


ب. توقف ممنوع

ج. ایستادن ممنوع

د. توقف در روزهای زوج هفته ممنوع

پاسخ صحیح: د

۲۴. مفهوم این شکل چیست؟



الف. جریان همگرا

ب. تقاطع فرعی با اصلی در قوس

ج. پایان جدا کننده

د. هدایت مسیر با جدا کننده

پاسخ صحیح: ب

۲۵. مفهوم این شکل چیست؟



الف. سبقت ممنوع

ب. بوق زدن ممنوع

ج. خیابان یک طرفه

د. حق تقدم با وسیله نقلیه مقابل است

پاسخ صحیح: د

۲۶. مفهوم این شکل چیست؟



الف. پیچهای پی در پی

ب. پیچ به راست

ج. موارد الف و ب صحیح است

د. هیچکدام

پاسخ صحیح: الف

۲۷. کدام تابلو زیر بمعنی عبور اطفال است؟



الف.



ب.




ج.



د.

پاسخ صحیح: ب

۲۸. معنی خط مقابل چیست؟



الف. خط توقف دوبله منقطع

ب. خط شطرنجی

ج. خط ممتد ایست

د. خط عابر پیاده

پاسخ صحیح: ب

۲۹. کدامیک از اشکال زیر بمعنای "رانندگان وسایط نقلیه در حال عبور از پشت وی توقف نمایند" می باشد؟



الف.



ب.



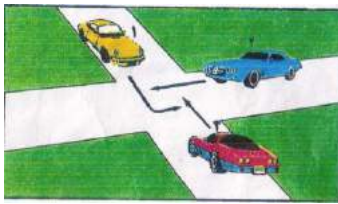
ج.



د.

پاسخ صحیح: ج

۳۰. در شکل بالا حق تقدم با کدام می باشد؟



الف. 1-2-3

ب. 3-1-2

ج. 3-2-1

د. 2-1-3

پاسخ صحیح: ج



آزمون آیین نامه راهنمایی و رانندگی ایرانیان-تست درایو

سوالات آزمون آیین نامه شماره: ۲

www.test-drive.ir

<p>۱. با مشاهده چراغ چشمک زن زرد در تقاطع چه عملی را انجام می‌دهیم؟</p> <p>الف. ایست کامل کرده و با رعایت حق تقدم حرکت میکنیم</p> <p>ب. از سرعت خود کاسته و با احتیاط عبور میکنیم</p> <p>ج. به حرکت خود ادامه می‌دهیم</p> <p>د. هیچکدام</p> <p>پاسخ صحیح: ب</p>	<p>۳. در هنگام رانندگی و برخورد با موارد اضطراری انجام کدام موارد ضروری می‌باشد؟</p> <p>الف. نگهداشتن هر دو دست بر روی فرمان</p> <p>ب. نحوه گردش صحیح و ایمن</p> <p>ج. موارد الف و ب صحیح است</p> <p>د. ترمز گرفتن ناگهانی</p> <p>پاسخ صحیح: ج</p>
<p>۲. معاینه و آزمایش فنی وسایل نقلیه شامل چه مواردی می‌شود؟</p> <p>الف. تشخیص اصالت</p> <p>ب. سلامت زیست محیطی</p> <p>ج. سلامت فنی، تجهیزات و ایمنی</p> <p>د. همه موارد</p> <p>پاسخ صحیح: د</p>	<p>۴. برای تغییر مسیر و تعویض خط حرکت چگونه باید عمل نمود؟</p> <p>الف. فقط با استفاده از چراغ راهنما تغییر مسیر می‌دهیم</p> <p>ب. با دادن علامت وسایل نقلیه دیگر را از قصد خود آگاه نموده و با رعایت حق تقدم عبور و احتیاط کامل تغییر مسیر می‌دهیم</p> <p>ج. با استفاده از آینه تغییر مسیر می‌دهیم</p> <p>د. تغییر مسیر ممنوع می‌باشد</p> <p>پاسخ صحیح: ب</p>

<p>۸. قانون اولیه در رانندگی حرکت از منتهی الیه سمت ... است مگر برای ...؟</p> <p>الف. راست-سبقت ب. چپ-سبقت ج. راست-توقف د. چپ-توقف</p> <p>پاسخ صحیح: الف</p>	<p>۵. موقعی که اتومبیل خود را پارک می‌کنید نباید ...؟</p> <p>الف. چرخها را به سمت جدول قرار دهید ب. در دنده بگذارید ج. ترمز دستی را بکشید د. مانع سایر استفاده کنندگان از راه شوید</p> <p>پاسخ صحیح: د</p>
<p>۹. در یک منطقه شهری و مسکونی در حال حرکت هستید و به یک سرعت گیر نزدیک می‌شوید شما باید ...؟</p> <p>الف. از قسمت چپ راه عبور کنید ب. سریعاً سرعت را کاهش دهید ج. بر سرعت خود بیافزایید د. با همان سرعت قبلی به حرکت خود ادامه دهید</p> <p>پاسخ صحیح: ب</p>	<p>۶. به هنگام حرکت پشت یک خودرو بر روی جاده خیس فاصله زمانی با آن چقدر باید باشد؟</p> <p>الف. یک ثانیه ب. دو ثانیه ج. هشت ثانیه د. چهار ثانیه</p> <p>پاسخ صحیح: د</p>
<p>۱۰. کدامیک از کارهای زیر را نباید در پمپ بنزین انجام داد؟</p> <p>الف. استعمال دخانیات ب. صحبت کردن ج. خوردن د. آشامیدن</p> <p>پاسخ صحیح: الف</p>	<p>۷. چرا در جاده پرتراфик باید از خودرو جلویی فاصله بیشتری گرفت؟</p> <p>الف. برای جلوگیری از خستگی چشمها ب. چون اینکار باعث روان شدن جریان ترافیک میگردد ج. برای کاهش خطر حادثه و تصادف زنجیره‌ای د. هیچکدام</p> <p>پاسخ صحیح: ج</p>

<p>۱۴. کدام گزینه در مورد یدک کشی نادرست است؟</p> <p>الف. وسیله ترابری آسیب دیده باید دارای سیستم فرمان و ترمز سالم باشد</p> <p>ب. عمل یدک کشی در ساعت مجاز انجام شود</p> <p>ج. وسایل ترابری مسافربری که دارای مسافر است نمی‌تواند وسیله‌ای را یدک بکشد</p> <p>د. هر وسیله ترابری میتواند همزمان دو وسیله دیگر را یدک بکشد</p> <p>پاسخ صحیح: د</p>	<p>۱۱. به هنگام عبور احشام از جاده کدام مورد را باید انجام بدهید؟</p> <p>الف. آرام و بی‌صدا عبور کنید</p> <p>ب. بوق نزنید و عبور کنید</p> <p>ج. به آرامی به حرکت خود ادامه دهید</p> <p>د. هیچکدام</p> <p>پاسخ صحیح: د</p>
<p>۱۵. اصلی‌ترین علت منحرف شدن خودرو به یک طرف در زمان ترمز گرفتن چیست؟</p> <p>الف. پایین بودن سطح روغن ترمز</p> <p>ب. بالا بودن ترمز دستی</p> <p>ج. تنظیم نبودن دقیق ترمزها</p> <p>د. ساییدگی بیش از حد تایرهای خودرو</p> <p>پاسخ صحیح: ج</p>	<p>۱۲. اولین فردی که به محل تصادف می‌رسد کدام مورد را نباید انجام دهد؟</p> <p>الف. موتور اتومبیل حادثه دیده را خاموش کند</p> <p>ب. به سایرین که در حال عبورند هشدار دهد</p> <p>ج. افراد زخمی را از داخل اتومبیل بیرون بکشد</p> <p>د. به مصدومین حادثه خوراکی و نوشیدنی دهد</p> <p>پاسخ صحیح: د</p>
<p>۱۶. در چه فاصله‌ای قبل و بعد از پیچها و تقاطع راه آهن سبقت گرفتن ممنوع است؟</p> <p>الف. ۵۰ متری</p> <p>ب. ۱۰۰ متری</p> <p>ج. ۱۵۰ متری</p> <p>د. ۷۵ متری</p> <p>پاسخ صحیح: الف</p>	<p>۱۳. در سه راهها حق تقدم عبور با وسیله نقلیه‌ای است که ...؟</p> <p>الف. بصورت مستقیم و درسمت و مسیرمجاز حرکت میکند</p> <p>ب. در طرف راست وسیله نقلیه دیگر قرار دارد</p> <p>ج. بسمت راست گردش کند</p> <p>د. موارد ب و ج صحیح است</p> <p>پاسخ صحیح: الف</p>

۱۷. آیا نشان دادن کودکان در صندلی ردیف اول خودرو مناسب است؟

- الف. بله با اینکار لذت بیشتری از دیدن مناظر اطراف می‌برد
ب. در صورت رعایت احتیاط اشکالی ندارد
ج. خیر اینکار باعث حادثه و مجروح شدن می‌شود
د. اگر به همراه یک فرد مسن‌تر بنشیند اشکالی ندارد

پاسخ صحیح: ج

۲۰. اگر بهنگام رانندگی در آزادراهها تایر خودرو پنچر شود چه باید کرد؟

- الف. باید در همان محل توقف کرد
ب. باید در خط توقف اضطراری توقف کرد
ج. میتوان در بین خطوط عبوری آزادراه توقف کرد
د. موارد الف و ج صحیح است

پاسخ صحیح: ب

۱۸. کدام مورد باعث بهم خوردن تمرکز شما در حال رانندگی می‌شود؟

- الف. نگاه کردن به نقشه‌ها
ب. گوش کردن موسیقی با صدای بلند
ج. استفاده از تلفن همراه
د. تمام موارد

پاسخ صحیح: د

۲۱. در جاده های پر ترافیکی، اتومبیلها و وسایل نقلیه دیگر پشت سر هم بطور فشرده در حرکت هستند چگونه از بروز حادثه جلوگیری کنید؟



- الف. پای خود را روی ترمز قرار می‌دهید
ب. فاصله خود را با اتومبیل جلویی افزایش می‌دهید
ج. چراغهای خطر را روشن میکنید
د. در شانه خاکی توقف میکنید

پاسخ صحیح: ب

۱۹. حداکثر میزان سرعت مجاز انواع سواری و وانت بارها در آزادراههای برون شهری ... می‌باشد؟

- الف. ۱۱۰ کیلومتر بر ساعت
ب. ۱۰۰ کیلومتر بر ساعت
ج. ۱۱۵ کیلومتر بر ساعت
د. ۱۲۰ کیلومتر بر ساعت

پاسخ صحیح: د

۲۲. نام تابلو مقابل چیست؟



الف. ورود ممنوع

ب. توقف ممنوع

ج. محدودیت سرعت

د. منطقه توقف ممنوع

پاسخ صحیح: ب

۲۳. نام تابلو مقابل چیست؟



الف. جهت هشدار

ب. جهت آگاهی (اطلاع)

ج. جهت حکم (بازدارنده)

د. جهت نمایش مسیر

پاسخ صحیح: الف

۲۴. نام تابلو مقابل چیست؟



الف. خیابان یکطرفه

ب. فقط عبور مستقیم مجاز

ج. راه یکطرفه

د. کاهش خطوط عبور

پاسخ صحیح: ج

۲۵. نام تابلو مقابل چیست؟



الف. پایان سبقت ممنوع

ب. سبقت ممنوع

ج. پایان تمام محدودیتها

د. هیچکدام

پاسخ صحیح: الف

۲۶. نام تابلو مقابل چیست؟



الف. عبور وسیله نقلیه با تریلی ممنوع

ب. عبور وسیله نقلیه با محموله خطرناک ممنوع

ج. مسیر کامیون حامل کالای خطرناک

د. عبور کامیون ممنوع

پاسخ صحیح: ب

۲۷. کدام تابلو بمعنی "ورود از دو طرف

ممنوع" است؟



الف.



ب.




ج.




د.

پاسخ صحیح: د

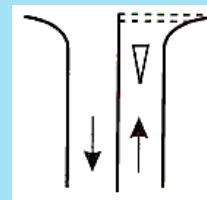
۲۸. خط توقف دوبله منقطع کدام است؟



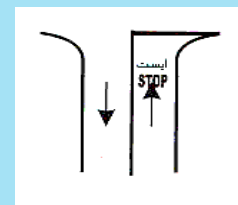
الف.



ب.



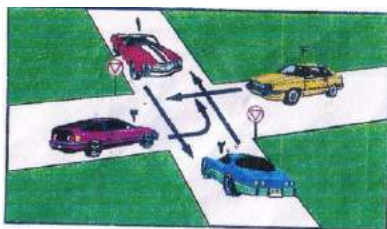
ج.



د.

پاسخ صحیح: ج

۳۰. در شکل زیر حق تقدم با کدام است؟



الف. 3-4-2-1

ب. 2-1-4-3

ج. 1, 2-3-4

د. 1-2-3-4

پاسخ صحیح: ج

۲۹. کدامیک از اشکال زیر قصد متوقف کردن

را به راننده نشان می دهد؟



ب.



الف.



د.



ج.

پاسخ صحیح: ب



آزمون آیین نامه راهنمایی و رانندگی ایرانیان-تست درایو

سوالات آزمون آیین نامه شماره: ۳

www.test-drive.ir

<p>۱. هنگام رانندگی در شرایط یخبندان از انجام دادن کدام عمل باید اجتناب نمود؟</p> <p>الف. استفاده مدام از ترمز دستی ب. سریعاً و پشت سر هم ترمز گرفتن ج. استفاده مدام از دنده یک د. از تمام موارد</p> <p>پاسخ صحیح: د</p>	<p>۲. هنگام رانندگی در شرایط یخبندان از انجام دادن کدام عمل باید اجتناب نمود؟</p> <p>الف. استفاده مدام از ترمز دستی ب. سریعاً و پشت سر هم ترمز گرفتن ج. استفاده مدام از دنده یک د. از تمام موارد</p> <p>پاسخ صحیح: د</p>
<p>۳. حداکثر سرعت در خیابانهای شریانی اصلی و در خیابانهای شریانی فرعی کیلومتر بر ساعت است؟</p> <p>الف. ۸۰-۱۰۰ ب. ۱۰۰-۸۰ ج. ۶۰-۵۰ د. ۵۰-۶۰</p> <p>پاسخ صحیح: د</p>	<p>۴. حق تقدم عبور در تقاطع ها و میدانها چگونه مشخص میشود؟</p> <p>الف. با استفاده علائم و فرمانهای پلیس ب. فقط با فرمان پلیس ج. مطابق با نظر رانندگان د. فقط با استفاده از علائم</p> <p>پاسخ صحیح: الف</p>
<p>۵. تابلو تقدم عبور معمولاً در چه جاهایی نصب میشود؟</p> <p>الف. پلهای باریک ب. محل انجام تعمیرات جاده ج. تقاطعها د. همه موارد</p> <p>پاسخ صحیح: د</p>	<p>۶. حق تقدم عبور در تقاطع ها و میدانها چگونه مشخص میشود؟</p> <p>الف. با استفاده علائم و فرمانهای پلیس ب. فقط با فرمان پلیس ج. مطابق با نظر رانندگان د. فقط با استفاده از علائم</p> <p>پاسخ صحیح: الف</p>

<p>۸. راننده کامیونی به تقاطع رسیده و به سمت راست راهنما می زند اما ابتدا به سمت چپ متمایل می شود چه توجیحی برای اینکار وجود دارد؟</p> <p>الف. راننده اشتباه راهنما زده است</p> <p>ب. برای اینکه چرخهای عقب به جدول سمت راست برخورد نکند</p> <p>ج. راننده کنترل خود را بر کامیون از دست داده است</p> <p>د. راننده از گردش به راست پشیمان شده است</p> <p>پاسخ صحیح: ب</p>	<p>۵. در صورت استشمام بوی بنزین در حین رانندگی چه باید کرد؟</p> <p>الف. عدم نگرانی</p> <p>ب. کاستن از سرعت</p> <p>ج. رها کردن خودرو</p> <p>د. توقف کردن و بررسی مسئله</p> <p>پاسخ صحیح: د</p>
<p>۹. کدام گزینه صحیح است؟</p> <p>الف. رانندگی در مه مانند رانندگی با چشم بسته است</p> <p>ب. رانندگی در مه مانند رانندگی با دید عادی است</p> <p>ج. رانندگی در مه مانند رانندگی در شب است</p> <p>د. رانندگی در مه مانند رانندگی در هوای بارانی است</p> <p>پاسخ صحیح: الف</p>	<p>۶. به هنگام گردش به راست کدامیک از موارد زیر باید رعایت گردد؟</p> <p>الف. علامت دادن با چراغ راهنمای راست از فاصله ۱۰۰ متری</p> <p>ب. توجه به جریان ترافیک و عابران</p> <p>ج. توجه به دوچرخه سوارها و موتورسوارها</p> <p>د. همه موارد</p> <p>پاسخ صحیح: د</p>
<p>۱۰. عبور از روی کدام خطوط زیر ممنوع نمی باشد؟</p> <p>الف. خط زیگزاک</p> <p>ب. خط مقطع</p> <p>ج. خط طولی ممتد</p> <p>د. الف و ج</p> <p>پاسخ صحیح: ب</p>	<p>۷. وسیله نقلیه انتظامی و امدادی در حال ماموریت مجاز به انجام چه مواردی می باشند؟</p> <p>الف. تجاوز از سرعت مجاز و سبقت از راست وسیله نقلیه دیگر</p> <p>ب. ورود ممنوع</p> <p>ج. حرکت بر خلاف جهت عبور در میدان</p> <p>د. حرکت در مسیر مخالف آزاد راه</p> <p>پاسخ صحیح: الف</p>

<p>۱۳. در چهارراهی با میدان دید کم در حال حرکت هستید چه کاری باید انجام دهید؟</p> <p>الف. در حالیکه طرفین را نگاه میکنید با رعایت احتیاط به آهستگی حرکت کنید</p> <p>ب. در حالیکه طرفین راست را نگاه می کنید کاملاً آهسته حرکت کنید</p> <p>ج. با سرعت کم حرکت کنید تا موجب تصادف نگردد</p> <p>د. ضمن توجه به طرفین با همین سرعت به حرکت خود ادامه دهید زیرا حق تقدم با شماست</p> <p>پاسخ صحیح: الف</p>	<p>۱۱. روش یک طول اتومبیل در تعیین فاصله با خودرو جلویی در راههای خشک چگونه است؟</p> <p>الف. یک طول خودرو به ازای هر ۱۵ کیلومتر سرعت در ساعت</p> <p>ب. دو طول خودرو به ازای هر ۱۵ کیلومتر سرعت در ساعت</p> <p>ج. یک طول خودرو به ازای هر ۳۰ کیلومتر سرعت در ساعت</p> <p>د. دو طول خودرو به ازای هر ۳۰ کیلومتر سرعت در ساعت</p> <p>پاسخ صحیح: الف</p>
<p>۱۴. در کدامیک از محلهای زیر توقف اتومبیل ایجاد خطر کرده و مانع عبور سایرین خواهد شد؟</p> <p>الف. مقابل درب ورودی ساختمانها</p> <p>ب. حریم ایستگاه اتوبوس</p> <p>ج. حریم تقاطعها و گذرگاه عابر پیاده</p> <p>د. تمام موارد</p> <p>پاسخ صحیح: د</p>	<p>۱۲. اگر بر سرچهارراهی چراغ سبز باشد اما داخل تقاطع به دلیل ترافیک بسته باشد؟</p> <p>الف. چون چراغ سبز است می توان عبور کرد</p> <p>ب. باید صبر کرد تا راه باز شود و نباید تقاطع را مسدود کرد</p> <p>ج. میتوان با بوق زدن خودروهای جلویی را وادار به حرکت نمود</p> <p>د. میتوان با چراغ خودروهای جلویی را وادار به حرکت کرد</p> <p>پاسخ صحیح: ب</p>

<p>۱۸. در هنگام حرکت و لغزش همزمان عقب خودرو از کدام موارد باید اجتناب کرد؟</p> <p>الف. گاز دادن</p> <p>ب. استفاده از ترمز و کلاچ</p> <p>ج. موارد الف و ب</p> <p>د. علامت دادن به سایرین</p> <p>پاسخ صحیح: ج</p>	<p>۱۵. مفهوم چراغ راهنمایی سبز چیست؟</p> <p>الف. ایست کامل و سپس عبور</p> <p>ب. عبور یا گردش آزاد است مگر آنکه گردش نمودن توسط علائم دیگر ممنوع شده باشد</p> <p>ج. رعایت حق تقدم وسایلی که مستقیم حرکت می کنند و یا عابرین پیاده الزامی است</p> <p>د. موارد ب و ج صحیح می باشد</p> <p>پاسخ صحیح: د</p>
<p>۱۹. کدامیک از موارد زیر بر فرمان پلیس مقدم است؟</p> <p>الف. علائم</p> <p>ب. تابلوها</p> <p>ج. خط کشی ها</p> <p>د. هیچکدام</p> <p>پاسخ صحیح: د</p>	<p>۱۶. رانندگی در بخش وسط راههایی که به وسیله خط کشی یا علائم دیگر به سه بخش تقسیم شده ممنوع است مگر برای؟</p> <p>الف. سبقت گرفتن یا گردش به چپ با رعایت علائم و مقررات</p> <p>ب. استراحت کردن با رعایت احتیاط</p> <p>ج. سرعتهای بالا</p> <p>د. سرعتهای پایین</p> <p>پاسخ صحیح: الف</p>
<p>۲۰. در هنگام رانندگی در شرایط یخبندان و جاده خیس هنگام نزدیک شدن به پیچ چه مواردی را باید رعایت کرد؟</p> <p>الف. قبل از رسیدن به پیچ از رعت خود بکاهید</p> <p>ب. تا حد امکان با دنده سنگین حرکت کنید</p> <p>ج. از حرکت سریع فرمان و انحراف به طرفین خودداری کنید</p> <p>د. تمام موارد</p> <p>پاسخ صحیح: د</p>	<p>۱۷. هنگام پارک کردن در سرازیری که دارای جدول می باشد فرمان را باید به کدام سمت چرخاند؟</p> <p>الف. راست</p> <p>ب. چپ</p> <p>ج. مستقیم</p> <p>د. فرقی ندارد</p> <p>پاسخ صحیح: الف</p>

۲۱. نام تابلو مقابل چیست؟



- الف. ورود به راه اصلی از چپ
- ب. ورود به راه اصلی از راست
- ج. تقاطع فرعی به اصلی
- د. تقاطع

پاسخ صحیح: ب

۲۴. نام تابلو مقابل چیست؟



- الف. شروع جدا کننده
- ب. جریان همگرا
- ج. پایان جدا کننده
- د. هدایت مسیر با جدا کننده

پاسخ صحیح: ج

۲۲. نام تابلو مقابل چیست؟



- الف. پایان خیابان دو طرفه
- ب. وسایل نقلیه مقابل حق تقدم دارند
- ج. مسیر ویژه اتوبوس شروع می شود
- د. شما نسبت به وسیله نقلیه ای که به طرف شما می آید حق تقدم دارید

پاسخ صحیح: د

۲۵. نام تابلو مقابل چیست؟



- الف. حاشیه نمای راست ۳۰۰ متر
- ب. حاشیه نمای چپ ۳۰۰ متر
- ج. خروجی از آزادراه ۳۰۰ متر
- د. حاشیه و جهت نما (گروهی)

پاسخ صحیح: ج

۲۳. نام تابلو مقابل چیست؟



- الف. عبور وسایل نقلیه موتوری ممنوع
- ب. سبقت ممنوع
- ج. راه آزاد است
- د. فقط موتور سیکلت و اتومبیل سواری می توانند وارد شود

پاسخ صحیح: الف

۲۶. نام تابلو مقابل چیست؟



- الف. فقط عبور دوچرخه
- ب. عبور دوچرخه سوار
- ج. عبور دوچرخه ممنوع
- د. محل عبور دوچرخه

پاسخ صحیح: الف

۲۷. کدامیک از علائم روبه رو شما را از انجام عملی باز می دارد؟



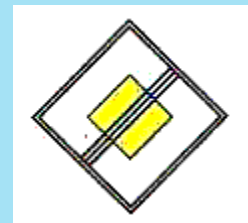
الف.



ب.



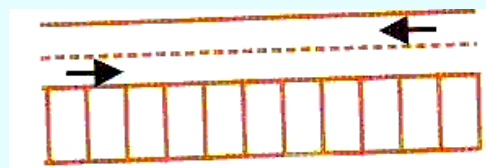
ج.



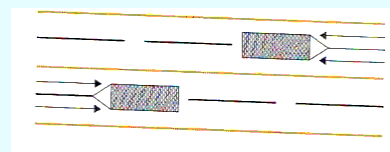
د.

پاسخ صحیح: الف

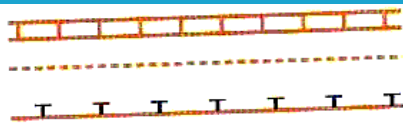
۲۸. کدامیک از خطوط زیر نشانگر پارک مورب است؟



الف.

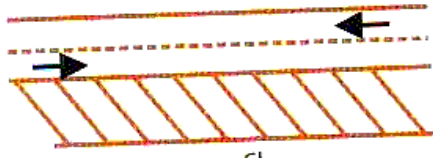


ب.



ج.

د.



پاسخ صحیح: د

۲۹. کدامیک از اشکال زیر به معنی "رانندگان باید در چهار طرف تقاطع پشت خط ایست توقف نمایند" میباشد؟



ب.



الف.



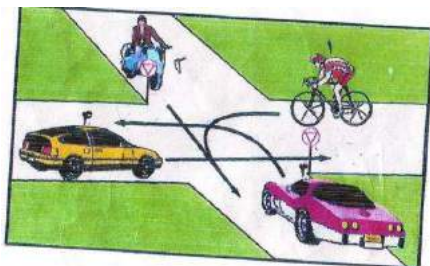
د.



ج.

پاسخ صحیح: الف

۳۰. در شکل زیر حق تقدم با کدام است؟



الف. ۳-۲-۱-۴

ب. ۲-۱-۴-۳

ج. ۱-۲-۳-۴

د. ۱-۳-۲-۴

پاسخ صحیح: الف

وب سایت آزمون آیین نامه راهنمایی و

رانندگی ایرانیان - تست درایو

www.test-drive.ir



آزمون آیین نامه راهنمایی و رانندگی ایرانیان-تست درایو

سوالات آزمون آیین نامه شماره: ۴

www.test-drive.ir


<p>۱. در مبحث علائم عبور و مرور کدام رنگ مفهوم مناطق تفریحی، فرهنگی و گردشگری را بیان می کند؟</p> <p>الف. قرمز</p> <p>ب. آبی</p> <p>ج. قهوه ای</p> <p>د. زرد</p> <p>پاسخ صحیح: ج</p>	<p>۳. اولین مرحله در روشن کردن صحیح خودرو چیست؟</p> <p>الف. دنده</p> <p>ب. کلاچ</p> <p>ج. گاز</p> <p>د. موارد الف و ب</p> <p>پاسخ صحیح: ب</p>
<p>۲. مفهوم تابلوهای مثلثی شکل راهنمایی چیست؟</p> <p>الف. خطر</p> <p>ب. احتیاط</p> <p>ج. ممنوعیت</p> <p>د. هیچکدام</p> <p>پاسخ صحیح: ب</p>	<p>۴. ورود و عبور عابرین پیاده در آزادراه ها ...؟</p> <p>الف. آزاد است</p> <p>ب. ممنوع است</p> <p>ج. تفاوتی ندارد</p> <p>د. با احتیاط مجاز است</p> <p>پاسخ صحیح: ب</p>

<p>۸. چه عاملی می‌تواند میزان خطر ناشی از آسیب دیدگی گردن را در موقع تصادف کم کند؟</p> <p>الف. بستن کمربند</p> <p>ب. وجود پشته مناسب و تنظیم شده در پشت سر</p> <p>ب. ترمزهای ضد قفل</p> <p>د. موارد الف و ب صحیح است</p> <p>پاسخ صحیح: ب</p>	<p>۵. علت سر خوردن خودرو در شرایط یخبندان کدام عامل است؟</p> <p>الف. ترمز شدید</p> <p>ب. گرفتن کلاچ</p> <p>ج. سرعت زیاد</p> <p>د. اصطکاک کم لاستیک با سطح جاده</p> <p>پاسخ صحیح: د</p>
<p>۹. آیا عقب راندن وسیله نقلیه در آزادراهها و بزرگراهها و ورودی و خروجی ...؟</p> <p>الف. مجاز است</p> <p>ب. ممنوع است</p> <p>ج. با احتیاط میتوان عقب رفت</p> <p>د. هیچکدام</p> <p>پاسخ صحیح: ب</p>	<p>۶. برای گردش به چپ از خیابان دوطرفه به یکطرفه از چه فاصله‌ای باید راهنما بزنیم؟</p> <p>الف. ۵۰ متری</p> <p>ب. ۷۰ متری</p> <p>ج. ۱۰۰ متری</p> <p>د. ۱۵۰ متری</p> <p>پاسخ صحیح: ج</p>
<p>۱۰. منظور از خطوط زیگزاک در حاشیه راه چیست؟</p> <p>الف. ایستادن روی آن ممنوع است</p> <p>ب. پارک کردن آزاد است</p> <p>ج. پارک کردن برای مدت کوتاهی مجاز است</p> <p>د. با سرعت ۲۰ کیلومتر برانید</p> <p>پاسخ صحیح: الف</p>	<p>۷. در صورت لغزش قسمت عقب خودرو به هنگام حرکت کدام عمل صحیح است؟</p> <p>الف. چرخاندن فرمان برخلاف جهتی که خودرو می‌لغزد</p> <p>ب. فرمان را با دو دست محکم نگه دارید</p> <p>ج. ترمز شدید</p> <p>د. چرخاندن فرمان در جهتی که خودرو می‌لغزد</p> <p>پاسخ صحیح: د</p>

<p>۱۴. سبقت گرفتن در سر پیچ های تند و سربالایی ها به چه علت ممنوع است؟</p> <p>الف. کم بودن میدان دید راننده ب. ترافیک سنگین ج. تنظیم نبودن فرمان د. همه موارد</p> <p>پاسخ صحیح: الف</p>	<p>۱۱. در مبحث رنگها و علائم عبور و مرور راهنمایی مسیر در بزرگراهها با کدام رنگ نشان داده میشود؟</p> <p>الف. سبز ب. قرمز ج. آبی د. زرد</p> <p>پاسخ صحیح: الف</p>
<p>۱۵. سبقت گرفتن از سمت راست وسیله نقلیه ای که در حال گردش به چپ می باشد ...؟</p> <p>الف. ممنوع است ب. با احتیاط میتوان عبور کرد ج. آزاد است د. با فرمان پلیس میتوان عبور کرد</p> <p>پاسخ صحیح: ج</p>	<p>۱۲. سبقت گرفتن در چه مواردی ممنوع نمی باشد؟</p> <p>الف. در خطوط طولی ممتد ب. در خطوط طولی مقطع ج. در خروجی بزرگراهها د. هیچکدام</p> <p>پاسخ صحیح: ب</p>
<p>۱۶. مفهوم رنگ قرمز در علائم عبور و مرور چیست؟</p> <p>الف. احتیاط ب. عبور ج. هشدار د. منع کننده یا ایست</p> <p>پاسخ صحیح: د</p>	<p>۱۳. حداقل فاصله طولی ایمن در راههای پوشیده از برف به نسبت راههای خشک چه اندازه است؟</p> <p>الف. دوبرابر ب. سه برابر ج. چهار برابر د. شش برابر</p> <p>پاسخ صحیح: ب</p>

<p>۲۰. در میدان حق تقدم با وسیله نقلیه ای است که ...؟</p> <p>الف. از سمت راست حرکت می کند</p> <p>ب. در داخل میدان در حال عبور میباشد</p> <p>ج. مستقیم حرکت میکند</p> <p>د. هیچکدام</p> <p>پاسخ صحیح: ب</p>	<p>۱۷. کدامیک از موارد زیر جز نقص فنی خودرو محسوب نمیشود؟</p> <p>الف. کم بودن باد تایرها</p> <p>ب. نداشتن چراغ خطر</p> <p>ج. شکسته بودن شیشه</p> <p>د. هیچکدام</p> <p>پاسخ صحیح: الف</p>
<p>۲۱. نام تابلو مقابل چیست؟</p>  <p>الف. خیابان اصلی</p> <p>ب. راه اصلی</p> <p>ج. آزادراه</p> <p>د. جاده اصلی</p> <p>پاسخ صحیح: ج</p>	<p>۱۸. حق تقدم در تقاطع ها و میادین چگونه مشخص میشود؟</p> <p>الف. با استفاده از علائم</p> <p>ب. با فرمان پلیس</p> <p>ج. با نظر رانندگان</p> <p>د. الف و ب</p> <p>پاسخ صحیح: د</p>
<p>۲۲. نام تابلو مقابل چیست؟</p>  <p>الف. عبور بار با وزن ۳ و نیم تن ممنوع</p> <p>ب. عبور بار با ارتفاع بیش از ۳ و نیم متر ممنوع</p> <p>ج. رعایت حد فاصله</p> <p>د. عبور با عرض بیش از ۳ و نیم متر ممنوع</p> <p>پاسخ صحیح: ب</p>	<p>۱۹. در هنگام پارک دوبل معمولاً فاصله خودرو از جدول چند سانتیمتر میباشد؟</p> <p>الف. ۲۵ سانتیمتر</p> <p>ب. ۳۰ سانتیمتر</p> <p>ج. ۴۰ سانتیمتر</p> <p>د. ۴۵ سانتیمتر</p> <p>پاسخ صحیح: د</p>

۲۳. نام تابلو مقابل چیست؟



الف. توقف ممنوع

ب. ایستادن ممنوع

ج. منطقه ایستادن ممنوع

د. عبور ممنوع

پاسخ صحیح: ب

۲۴. نام تابلو مقابل چیست؟



الف. شروع جداکننده

ب. جریان همگرا

ج. پایان جداکننده

د. هدایت مسیر با جدا کننده

پاسخ صحیح: ب

۲۷. تابلو راهنمایی که فرمان صادر میکنند

معمولا به چه شکلی میباشند؟



الف.



ب.



ج.



د.

پاسخ صحیح: د

۲۵. نام تابلو مقابل چیست؟



الف. محل عبور اطفال

ب. مدرسه

ج. منطقه عبور عابران

د. گذرگاه پیاده

پاسخ صحیح: ب

۲۶. نام تابلو مقابل چیست؟



الف. فقط عبور دوچرخه

ب. عبور دوچرخه سوار

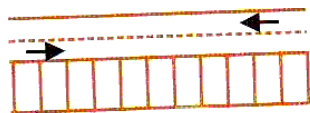
ج. عبور دوچرخه ممنوع

د. محل عبور دوچرخه


پاسخ صحیح: ج

۲۸. کدامیک از خطوط زیر نشانگر پارک افقی

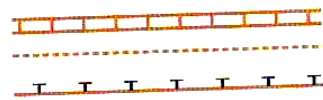
است؟




الف.



ب.



ج.



د.

پاسخ صحیح: ج

۲۹. کدامیک از اشکال زیر بمعنی "سرعت خود را کاهش دهید" است؟



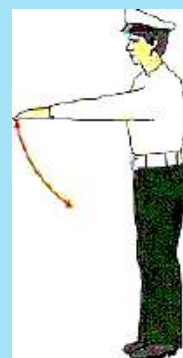
الف.



ب.




ج.



د.

پاسخ صحیح: د

۳۰. در شکل زیر حق تقدم با کدام است؟



الف. سواری-اتوبوس-دوچرخه

ب. اتوبوس-دوچرخه-سواری

ج. دوچرخه-سواری-اتوبوس

د. سواری-دوچرخه-اتوبوس

پاسخ صحیح: ج



آزمون آیین نامه راهنمایی و رانندگی ایرانیان-تست درایو

سوالات آزمون آیین نامه شماره: ۵

www.test-drive.ir

۱. در کدامیک از محلهای زیر توقف اتومبیل ایجاد خطر کرده و مانع عبور سایرین خواهد شد؟

- الف. مقابل درب ورودی ساختمانها
- ب. در حریم ایستگاه اتوبوس
- ج. در حریم تقاطع ها و گذرگاه عابرین پیاده
- د. تمام موارد

پاسخ صحیح: د

۳. کدام مورد زیر هنگام رانندگی در شب احتمال خطر را افزایش می دهد؟

- الف. محدودیت میدان دید راننده و خیره شدن به آن
- ب. استفاده از چراغها
- ج. استفاده از سایبان
- د. استفاده از بوق

پاسخ صحیح: الف

۲. تنها موقعی می توانید از تلفن همراه استفاده کنید که ؟

- الف. در یک محل و مکان امن توقف کرده باشید
- ب. وسیله نقلیه شما دارای دنده اتوماتیک باشید
- ج. نیاز به انجام یک تلفن اضطراری باشید
- د. فرمان را با یک دست بگیرید اتومبیل را هدایت کنید

پاسخ صحیح: الف

۴. در شرایط یخبندان مسافت توقف ممکن است چند برابر افزایش یابد؟

- الف. ۵ برابر
- ب. ۲ برابر
- ج. ۱۰ برابر
- د. ۳ برابر

پاسخ صحیح: ج

<p>۸. مابین شما و اتومبیل جلویی فاصله دو ثانیه ای مناسب خواهد بود چنانچه؟</p> <p>الف. هوا مرطوب و جاده خیس باشد</p> <p>ب. هوا بارانی باشد</p> <p>ج. هوا مه آلود باشد</p> <p>د. وضعیت راه خشک و هوا خوب باشد</p> <p>پاسخ صحیح: د</p>	<p>۵. اگر مجبور شوید در مه رانندگی کنید کدام عامل زیر را باید بازدید نمود؟</p> <p>الف. اطمینان از سالم بودن بخاری</p> <p>ب. اطمینان از اینکه در اتومبیل تابلو احتیاط دارید</p> <p>ج. کنترل و بازدید باطری</p> <p>د. بازدید چراغها و اطمینان از تمیز بودن شیشه ها</p> <p>پاسخ صحیح: د</p>
<p>۹. با سرعت مجاز در رانندگی هستید اتومبیل پشت سر شما در حال سبقت است آیا می توانید مانع سبقت او شوید؟</p> <p>الف. نه مگر اینکه انجام این کار خطر باشد</p> <p>ب. بله برای اینکه راننده مذکور کار خطرناکی انجام می دهد</p> <p>ج. نه به هیچ وجه</p> <p>د. بله برای اینکه راننده مذکور قانون شکنی می کند</p> <p>پاسخ صحیح: ج</p>	<p>۶. کم بودن باد لاستیک بر کدام مورد زیر اثر می گذارد؟</p> <p>الف. تعویض دنده</p> <p>ب. ترمز کردن و هدایت کار فرمان</p> <p>ج. نیروی موتور</p> <p>د. گرم شدن موتور</p> <p>پاسخ صحیح: ب</p>
<p>۱۰. آیا رانندگان وسایل نقلیه امدادی در هنگام ماموریت مجاز به عبور از محل ممنوع می باشند؟</p> <p>الف. در صورتی که موجب تصادف نشوند</p> <p>ب. بستگی به شرایط دارد</p> <p>ج. در هر شرایطی مجاز هستند</p> <p>د. به علت خطرات موجود نمی توانند عبور ممنوع بروند</p> <p>پاسخ صحیح: د</p>	<p>۷. اگر در هنگام رانندگی متوجه بوی شدید بنزین شدید چه اقدامی انجام می دهید؟</p> <p>الف. نگران نباشید زیرا بو ناشی از سوخت بنزین است</p> <p>ب. با سرعت کم حرکت کنید</p> <p>ج. توقف کرده و مسئله را بررسی می کنید</p> <p>د. هر لحظه باید انتظار داشت که بوی بنزین از بین برود</p> <p>پاسخ صحیح: ج</p>

<p>۱۴. جمله "دیر رسیدن بهتر از هرگز نرسیدن است" چه مفهومی دارد؟</p> <p>الف. پرهیز از عجله و شتاب در رانندگی</p> <p>ب. عدم توجه به قوانین و مقررات</p> <p>ج. رعایت کردن مقررات مربوط به پارک</p> <p>د. با سرعت بالا حرکت کردن</p> <p>پاسخ صحیح: گزینه الف</p>	<p>۱۱. به دنبال یک کامیون بر روی جاده خیس حرکت می کنید پاشیدن آب باران دید را مختل میکند چه کار باید انجام دهید؟</p> <p>الف. از کامیون فاصله می گیرید تا جایی که بهتر بتوانید ببینید</p> <p>ب. نزدیک به کامیون حرکت کنید</p> <p>ج. در حاشیه حرکت کنید تا از پاشیدن آب در امان باشید</p> <p>د. سرعت گرفته و سبقت می گیرید</p> <p>پاسخ صحیح: الف</p>
<p>۱۵. راننده اتومبیلی که به چهارراه می رسد چکار باید انجام دهد؟</p> <p>الف. با همان سرعت به مسیر ادامه دهد</p> <p>ب. باید آهسته رانده و جهت توقف آماده شود</p> <p>ج. بوق بزند</p> <p>د. به آرامی حرکت کرده و عبور کند</p> <p>پاسخ صحیح: ب</p>	<p>۱۲. پوشیدن کفش های مناسب به هنگام رانندگی بسیار اهمیت دارد علت این امر چیست؟</p> <p>الف. به منظور ممانعت از ساییدگی لاستیک پدالها</p> <p>ب. به منظور تعویض سریع دنده</p> <p>ج. به منظور حفظ کنترل صحیح بر روی پدالها</p> <p>د. به منظور راحتی پیاده روی در مواقع نقص فنی</p> <p>پاسخ صحیح: ج</p>
<p>۱۶. حداکثر سرعت در جاده های اصلی (برون شهری)؟</p> <p>الف. در روز ۸۰ کیلو متر در شب ۹۰ کیلومتر</p> <p>ب. در روز ۱۱۰ کیلومتر در شب ۹۰ کیلومتر</p> <p>ج. در روز ۹۵ کیلومتر در شب ۸۵ کیلومتر</p> <p>د. در روز ۹۰ کیلومتر در شب ۸۵ کیلومتر</p> <p>پاسخ صحیح: ج</p>	<p>۱۳. کدامیک از پاسخ های زیر در خصوص نقص در سیستم جلوبندی و یا شکستگی آن صحیح است؟</p> <p>الف. تیرهای عقب خودرو ساییده می شود</p> <p>ب. مصرف سوخت افزایش می یابد</p> <p>ج. هدایت و کنترل خودرو از دست راننده خارج میگردد</p> <p>د. رادیاتور خودرو جوش می آورد</p> <p>پاسخ صحیح: گزینه ج</p>

<p>۲۰. کدام مورد است که به هنگام سبقت گرفتن از آنها باید فضای بیشتری در نظر گرفت؟</p> <p>الف. وانت و تراکتور ب. موتورسیکلت و دوچرخه ج. ماشین های مجاور و وسایل نقلیه سنگین د. ماشین های حامل مسافر و ماشین های حامل بار</p> <p>پاسخ صحیح: ب</p>	<p>۱۷. شما قصد دارید رانندگی کنید ولی احساس بیماری می کنید چکار باید انجام دهید؟</p> <p>الف. قبل از رانندگی داروی مناسبی بخورید ب. در صورت امکان طول سفر را کوتاه کنید ج. شب زود بخوابید د. رانندگی نکنید</p> <p>پاسخ صحیح: د</p>
<p>۲۱. نام تابلو مقابل چیست؟</p>  <p>الف. تقاطع راه آهن ب. تقاطع راه آهن بدون راه بند ج. تقاطع مسیر قطار شهری د. تقاطع راه آهن با قطار شهری</p> <p>پاسخ صحیح: ج</p>	<p>۱۸. در جاده ای در حال حرکت هستید احساس خستگی می کنید چکار می کنید؟</p> <p>الف. به رانندگی ادامه می دهید ولی آهسته برانید ب. سفر را هر چه سریعتر به انتها برسانید ج. در شانه خاکی جاده توقف نمایید د. در اولین خروجی از جاده خارج شده استراحت کنید یا یک لیوان چایی بنوشید</p> <p>پاسخ صحیح: د</p>
<p>۲۲. نام تابلو مقابل چیست؟</p>  <p>الف. رعایت حق تقدم ب. به تابلو رعایت حق تقدم نزدیک می شویم ج. عبور آزاد د. عبور با رعایت حق تقدم</p> <p>پاسخ صحیح: ب</p>	<p>۱۹. راننده اتومبیلی که به گذرگاه راه آهن میرسد چکار باید انجام دهد؟</p> <p>الف. قبل از مانع توقف کند ب. با سرعت عبور کند ج. با دقت و مراقبت عبور کند د. چراغ های خطر را روشن کند</p> <p>پاسخ صحیح: د</p>

۲۷. کدام تابلو بمعنی ممنوع بودن عبور وسایل نقلیه موتوری می باشد؟



الف.



ب.



ج.



د.

پاسخ صحیح: ب

۲۳. نام تابلو مقابل چیست؟



الف. عبور تراکتور ممنوع

ب. عبور وسایل نقلیه موتوری ممنوع

ج. عبور خودرو کشاورزی ممنوع

د. منطقه کشاورزی

پاسخ صحیح: ج

۲۴. نام تابلو مقابل چیست؟



الف. شروع جدا کننده

ب. جریان همگرا

ج. پایان جدا کننده

د. هدایت مسیر با جدا کننده

پاسخ صحیح: د

۲۵. نام تابلو مقابل چیست؟



الف. محل عبور اطفال

ب. مدرسه

ج. منطقه عبور عابران

د. گذرگاه پیاده

پاسخ صحیح: ب

۲۶. نام تابلو مقابل چیست؟



الف. فقط عبور دوچرخه


ب. عبور دوچرخه سوار

ج. عبور دوچرخه ممنوع

د. محل عبور دوچرخه

پاسخ صحیح: ب

۲۸. خط زیر نشانگر چیست؟



الف. پارک کردن بصورت افقی


ب. عبور کردن و ایستادن روی آن آزاد است

ج. عبور کردن و ایستادن روی آن ممنوع

د. خط مخصوص عبور پیاده

پاسخ صحیح: ج

۲۹. مفهوم شکل زیر چیست؟



الف. پشت خط توقف بایستید

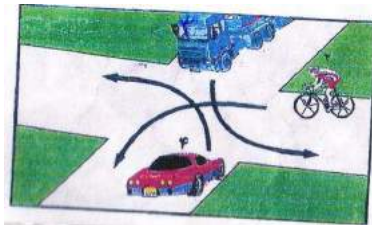
ب. فقط به راست گردش کنید

ج. فقط به چپ گردش کنید

د. مقابل پلیس بایستید

پاسخ صحیح: الف

۳۰. در شکل زیر حق تقدم با کدام است؟



الف. سواری - کامیون - دوچرخه

ب. کامیون - دوچرخه - سواری

ج. دوچرخه - سواری کامیون

د. سواری - دوچرخه - کامیون

پاسخ صحیح: ب



آزمون آیین نامه راهنمایی و رانندگی ایرانیان-تست درایو

سوالات آزمون آیین نامه شماره: ۶

www.test-drive.ir

<p>۱. بر روی جاده خیس ترمزی می کنید وسیله شما شروع به لغزش می کند اولین کاری که انجام می دهید چیست؟</p> <p>الف. ترمز را کاملاً آزاد می کنید</p> <p>ب. به سرعت ترمز دستی را بکشید</p> <p>ج. پای خود را با شدت بیشتری بر ترمز فشار دهید</p> <p>د. پای خود را بر روی کلاچ بگذارید</p> <p>پاسخ صحیح: الف</p>	<p>۴. در چه مواردی می توانید به رانندگان و عابرین با چرخ علامت دهید؟</p> <p>الف. جهت اعلام اینکه به آنها راه داده اید</p> <p>ب. جهت اعلام اینکه دنده عقب می روید</p> <p>ج. جهت اعلام اینکه حق تقدم با شماست</p> <p>د. جهت اعلام حضور با آنها</p> <p>پاسخ صحیح: د</p>
<p>۲. ساییدگی نا متوازن یا بیش از حد لاستیک ناشی از کدام موارد زیر است؟</p> <p>الف. میزان نبودن باد چرخها</p> <p>ب. سرعت بیش از حد</p> <p>ج. تنظیم نبودن فرمان عدم تنظیم چرخها و ترمزها</p> <p>د. تاب داشتن گاردان</p> <p>پاسخ صحیح: ج</p>	<p>۵. کدامیک از موارد زیر عامل تصادف با اتومبیل جلویی است؟</p> <p>الف. عدم توجه کافی به راه و نزدیک شدن بیش از حد به اتومبیل جلویی</p> <p>ب. تغییر نور چراغها</p> <p>ج. عبور عابر پیاده در مناطق شهری و شلوغ</p> <p>د. تراکم وسایل نقلیه</p> <p>پاسخ صحیح: الف</p>
<p>۳. کنترل باد لاستیک چرخها چه زمانی باید انجام شود؟</p> <p>الف. بعد از طی مسافت طولانی</p> <p>ب. زمانی که لاستیک ها سرد هستند</p> <p>ج. بعد از یک رانندگی با سرعت بالا</p> <p>د. زمانی که لاستیک ها داغ هستند</p> <p>پاسخ صحیح: ب</p>	<p>۶. اتومبیلی ناگهانی از یک فرعی بیرون می آید چکار میکنید؟</p> <p>الف. چراغ داده و پشت سر او قرار می گیرید</p> <p>ب. با سرعت از کنارش گذشته و بوق می زنید</p> <p>ج. از سرعت خود کاسته و آماده توقف می شوید</p> <p>د. با شتاب از کنار او عبور می کنید</p> <p>پاسخ صحیح: ج</p>

<p>۱۰. شما در اتومبیل خود دو کودک دارید چه کسی مسئولیت دارد که کودکان کمربند ایمنی را بسته باشند؟</p> <p>الف. کودکان</p> <p>ب. والدین بچه ها</p> <p>ج. راننده</p> <p>د. مسافری که صندلی جلو نشسته</p> <p>پاسخ صحیح: ج</p>	<p>۷. جهت رانندگی خوب از چه فاصله ای پلاک اتومبیلها را بخوانید؟</p> <p>الف. ۱۰ متری</p> <p>ب. ۱۵ متری</p> <p>ج. ۲۰ متری</p> <p>د. ۲۵ متری</p> <p>پاسخ صحیح: ج</p>
<p>۱۱. در چهار راهی با دید کم در حال حرکت هستید چکار می کنید؟</p> <p>الف. در حالیکه طرفین را نگاه می کنید به آهستگی حرکت کنید</p> <p>ب. در حالیکه طرف راست را نگاه می کنید کاملاً آهسته حرکت کنید</p> <p>ج. آماده باشید که به سرعت حرکت کنید</p> <p>د. بدون توجه به طرفین به حرکت ادامه دهید</p> <p>پاسخ صحیح: الف</p>	<p>۸. وظیفه رانندگان در برخورد با وسیله نقلیه امدادی که دستگاههای خبری و صوتی را به کار انداخته پیست؟</p> <p>الف. در کنار وسیله نقلیه حرکت کنند</p> <p>ب. باید به منتهی الیه سمت راست هدایت و عندالزوم تا گذاشتن وسیله نقلیه امدادی توقف کنند</p> <p>ج. به مسیر خود ادامه دهند</p> <p>د. به سمت پچ متمایل شوند</p> <p>پاسخ صحیح: ب</p>
<p>۱۲. چه عاملی موجب بهم خوردن ترمز در رانندگی می شود؟</p> <p>الف. استفاده از شیشه شور اتومبیل</p> <p>ب. نگاه کردن به آینه اتومبیل</p> <p>ج. نگاه کردن به طرف اتومبیل</p> <p>د. نگاه کردن به نقشه و گوش کردن به موزیک و استفاده از موبایل</p> <p>پاسخ صحیح: د</p>	<p>۹. چه عاملی میزان خطر ناشی از آسیب دیدگی گردن را در مواقع تصادف کم می کند؟</p> <p>الف. صندلی مجهز به بالشتک هوا</p> <p>ب. ترمزهای ضد قفل</p> <p>ج. فرمان مقابل انعطاف</p> <p>د. وجود پشتی مناسب پشت سر و تنظیم شده</p> <p>پاسخ صحیح: د</p>

<p>۱۵. در مواقعی که اتومبیل خود را پارک می کنید نبایستی....؟</p> <p>الف. در جاده اصلی پارک کنید ب. در دنده بگذارید ج. ترمز دستی را بکشید د. مانع سایر استفاده کنندگان از راه شوید</p> <p>پاسخ صحیح: د</p>	<p>۱۳. هنگامیکه از نزدیکی مدرسه ای عبور می کنید احتمال عبور کودکان وجود دارد چه اقدامی انجام می دهید؟</p> <p>الف. با بوق زدن مداوم آنان را آگاه می سازید ب. همیشه سرعت مناسبی داشته باشید و پیش بینی خطرات جانبی را بنمایید ج. با روشن کردن چراغ به آنها هشدار می دهید د. قبل ورود کودکان به سواره رو با سرعت عبور می کنید</p> <p>پاسخ صحیح: ب</p>
<p>۱۶. در آزادراهها میخهای زرد رنگ در چه محلی دیده می شود؟</p> <p>الف. بین شانه خاکی و باند اصلی ب. بین هر دو باند مجاور ج. در باند کاهش و افزایش سرعت د. بین محل خالی وسط آزادراه و باند اصلی</p> <p>پاسخ صحیح: د</p>	<p>۱۴. مصرف مشروبات الکلی چه تاثیری در رانندگی دارد؟</p> <p>الف. قدرت واکنش را کم کرده هماهنگی را کاهش داده و تشخیص سرعت را مختل می کند ب. قدرت واکنش را زیاده تر کرده هماهنگی را کاهش داده و تشخیص سرعت را مختل می کند ج. اعتماد به نفس را کم کرده قدرت واکنش را زیاده تر می کند د. اعتماد به نفس را کم کرده تشخیص قدرت را زیاده تر می کند</p> <p>پاسخ صحیح: الف</p>



۲۰. نام تابلو مقابل چیست؟


- الف. عبور گاری ممنوع
- ب. عبور وسایل نقلیه موتوری ممنوع
- ج. عبور کلیه وسایل نقلیه ممنوع
- د. تمام موارد

پاسخ صحیح: ج

۱۷. فاصله اتومبیل ها در جاده یخبندان با سرعت ۳۰ کیلومتر در ساعت چند اتومبیل می باشد؟

- الف. ۶
- ب. ۱۲
- ج. ۱۸
- د. ۲۴

پاسخ صحیح: ب



۲۱. نام تابلو مقابل چیست؟

- الف. جاده دو طرفه
- ب. فقط عبور مستقیم مجاز است
- ج. عبور از هر دو سمت مجاز است
- د. حق تقدم عبور با وسیله نقلیه مقابل است

پاسخ صحیح: د



۱۸. نام تابلو مقابل چیست؟

- الف. ایست ممنوع
- ب. توقف ممنوع
- ج. توقف در روزهای فرد هفته ممنوع
- د. پایان منطقه توقف ممنوع

پاسخ صحیح: ب



۲۲. نام تابلو مقابل چیست؟

- الف. تقاطع
- ب. تقاطع فرعی به اصلی
- ج. تقاطع Y شکل
- د. ورود به راه اصلی

پاسخ صحیح: الف



۱۹. نام تابلو مقابل چیست؟

- الف. رعایت حق تقدم
- ب. به تابلو رعایت حق تقدم نزدیک می شوید
- ج. خطر
- د. عبور با رعایت حق تقدم

پاسخ صحیح: الف

۲۳. نام تابلو مقابل چیست؟



الف. راه لغزنده

ب. خطر سقوط در آب

ج. شانه خطرناک

د. سر بالایی خطرناک

پاسخ صحیح: ج

۲۶. مفهوم شکل زیر چیست؟



الف. پشت خط توقف بایستید

ب. فقط به راست گردش کنید

ج. فقط به چپ گردش کنید

د. قصد متوقف کردن دارد

پاسخ صحیح: د

۲۴. کدام تابلو به معنی جریان همگرا می باشد؟



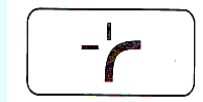
الف.



ب.



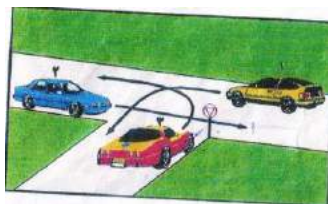
ج.



د.

پاسخ صحیح: ج

۲۷. در شکل زیر حق تقدم با کدام است؟



الف. زرد - قرمز - آبی


ب. زرد - آبی - قرمز

ج. آبی - زرد - قرمز

د. آبی - قرمز - زرد

پاسخ صحیح: ج

۲۵. این فلش نشانگر چیست؟



الف. جهت نما برای راهنمایی رانندگان

ب. حق تقدم عبور

ج. خط توقف

د. توقف دوبله منقطع

پاسخ صحیح: الف

۲۸. گواهینامه را بنا به درخواست چه کسی

باید ارائه نمود؟

الف. پلیس ترافیک

ب. پس از وقوع حادثه به فرد دیگر تصادف

ج. بازرس اتومبیل

د. مامور ترافیک

پاسخ صحیح: الف

۲۹. در جاده اتومبیل شما دچار نقص گردید
برای هشدار دیگران تابلوی احتیاط را در چه
فاصله ای از اتومبیل خود قرار می دهید؟

الف. ۵ متری

ب. ۲۵ متری

ج. ۷۰ متری

د. ۱۰۰ متری

پاسخ صحیح: ج

۳۰. نحوه بارگیری تریلر ها به نحوی باید باشد
که:

الف. بارها به صورت متوازن توزیع و خوب بسته
شود

ب. بارها عمدتا در نزدیکی چرخها بارگیری شود

ج. بار عمدتا در بخش عقب قرار می گیرد

د. بار ها در بخش جلوی تریلر قرار گیرد

پاسخ صحیح: الف



آزمون آیین نامه راهنمایی و رانندگی ایرانیان-تست درایو

سوالات آزمون آیین نامه شماره: ۷


www.test-drive.ir

<p>۱. آیا اجازه دادن به کودکان برای نشستن در پشت صندلی های عقب اتومبیل های استیشن صحیح است؟</p> <p>الف. بله اگر بتوانید آنها را ببینید</p> <p>ب. بله اگر زیر ۱۱ سال باشد</p> <p>ج. خیر در هیچ شرایطی</p> <p>د. خیر مگر صندلی های دیگر پر باشد</p> <p>پاسخ صحیح: ج</p>	<p>۳. در حال رانندگی لاستیک اتومبیل می ترکد چکار می کنید؟</p> <p>الف. جهت توقف اتومبیل از دنده معکوس استفاده می کنید</p> <p>ب. با دست علامت توقف دهید و از دنده معکوس استفاده کنید</p> <p>ج. به آرامی کنار کشیده و در حاشیه توقف نموده فرمان را برای کنترل وسیله نقلیه به شدت و محکم می گیرید</p> <p>د. با شدت هر چه تمام تر ترمز کنید</p> <p>پاسخ صحیح: ج</p>
<p>۲. هوا طوفانی است و شما پشت سر موتوری قرار دارید و قصد سبقت دارید چکار می کنید؟</p> <p>الف. بلافاصله سبقت می گیرید</p> <p>ب. کاملاً فاصله می گیرید</p> <p>ج. به موازات موتور سوار حرکت می کنید</p> <p>د. به موتورسوار نزدیک می شوید</p> <p>پاسخ صحیح: ب</p>	<p>۴. در راه دچار حادثه شده اید تابلوی احتیاط را در چه فاصله ای قرار می دهید؟</p> <p>الف. ۱۰ متری</p> <p>ب. ۲۰ متری</p> <p>ج. ۵۰ متری</p> <p>د. ۷۰ متری</p> <p>پاسخ صحیح: د</p>

<p>۸. مفهوم شکل پنج ضلعی در علائم چیست؟</p> <p>الف. علائم هشدار برای مدرسه و دبیرستان</p> <p>ب. علائم برای تابلوهای دستوری</p> <p>ج. علائم دستوری بازدارنده</p> <p>د. برای تابلوهای ایست</p> <p>پاسخ صحیح: الف</p>	<p>۵. چه موقع از چراغ هشدار دهنده خطر استفاده می کنید؟</p> <p>الف. زمانیکه در تاریکی بدون چراغ بزرگ حرکت می کنید</p> <p>ب. زمانیکه برای خرید بر روی خطوط زرد دوبل توقف کرده اید</p> <p>ج. زمانیکه به صورت موقت و یا اضطراری توقف کرده و ترافیک را متوقف نمودید</p> <p>د. زمانیکه به آرامی رانندگی می کنید و به دنبال آدرسی می گردید</p> <p>پاسخ صحیح: ج</p>
<p>۹. در کدام موقعیت زیر باید اتومبیل را متوقف کنید؟</p> <p>الف. در حریم تقاطع</p> <p>ب. در گذرگاه</p> <p>ج. در تقاطعهای که دارای خط دوبل منقطع باشد</p> <p>د. زمانیکه تصادف منجر به جرح و یا فوت شده باشد یا پشت چراغ قرمز یا زمانیکه پلیس فرمان داده باشد</p> <p>پاسخ صحیح: د</p>	<p>۶. موتور سواران نسبت به رانندگان دیگر آسیب پذیرترند برای اینکه.....؟</p> <p>الف. با سرعت بیشتری پیچها را طی می کنند</p> <p>ب. تغییرات سطح راه بر روی آنها تاثیرات بیشتری دارد</p> <p>ج. نسبت به اتومبیل شتاب بیشتری می گیرد</p> <p>د. سرعت آنها از اتومبیلها سریعتر است</p> <p>پاسخ صحیح: ب</p>
<p>۱۰. برای کدام مورد زیر چراغهای هشداردهنده باید روشن باشد؟</p> <p>الف. زمانیکه لازم است در پیاده رو پارک کنید</p> <p>ب. زمانیکه به صورت دوبل پارک کنید</p> <p>ج. زمانیکه نیاز به جلب توجه سایر رانندگان دارید</p> <p>د. زمانیکه در بزرگراه سرعت خود را برای خطری که در جلوی شما قرار دارد کم می کنید</p> <p>پاسخ صحیح: د</p>	<p>۷. مفهوم رنگ سبز در علائم رانندگی چیست؟</p> <p>الف. منع کننده یا ایست</p> <p>ب. هشدارهای عمومی</p> <p>ج. راهنما برای مناطق تفریحی</p> <p>د. حرکات مجاز</p> <p>پاسخ صحیح: د</p>

<p>۱۴. رانندگان وسایل نقلیه امدادی در چه مواردی مجاز به استفاده از سوت خطر آژیر و چراغ گردان می باشند؟</p> <p>الف. در همه مواقع</p> <p>ب. به دلخواه راننده</p> <p>ج. برای انجام ماموریت‌های مهم و فوری</p> <p>د. در هنگام مواجهه با خطر</p> <p>پاسخ صحیح: ج</p>	<p>۱۱. بعد از ورود به میدان قصد ادامه مسیر مستقیم دارید چکار می کنید؟</p> <p>الف. به هیچ وجه علامت نمی دهید</p> <p>ب. زمانی که به میدان نزدیک می شوید راهنمای راست بزنید</p> <p>ج. با توجه به چراغ راهنما و حق تقدم حرکت کرده و از میدان خارج شوید</p> <p>د. زمانی که به میدان نزدیک می شوید راهنمای چپ بزنید</p> <p>پاسخ صحیح: ج</p>
<p>۱۵. فاصله اتومبیلها در جاده خشک با سرعت ۷۵ کیلومتر در ساعت چند اتومبیل می باشد؟</p> <p>الف. ۲</p> <p>ب. ۳</p> <p>ج. ۴</p> <p>د. ۵</p> <p>پاسخ صحیح: د</p>	<p>۱۲. یک چراغ قرمز راهنمایی به معنی ...؟</p> <p>الف. باید پشت خط ایست توقف کرده و منتظر باشید</p> <p>ب. شما باید بایستید مگر بخواهید گردش به چپ کنید</p> <p>ج. چنانچه می توانید بی خطر ترمز کنید بایستید</p> <p>د. با احتیاط عبور کنید</p> <p>پاسخ صحیح: الف</p>
<p>۱۶. نام تابلو مقابل چیست؟</p> <p>الف. جاده دوطرفه</p> <p>ب. عبور دو طرف ممنوع</p> <p>ج. عبور از مقابل ممنوع</p> <p>د. حق تقدم عبور با شما</p> <p>پاسخ صحیح: الف</p>	<p>۱۳. دلیل استفاده از دنده سنگین در شرایط بد جوی چیست؟</p> <p>الف. در موقع ترمز از سرعت کمتری برخوردار باشید</p> <p>ب. جهت ممانعت از لغزش چرخها</p> <p>ج. بدلیل اینکه دور زیاد موتور باعث لغزش چرخها نشود</p> <p>د. در صورت لغزش استفاده از دنده پایین تر امکان پذیر باشد</p> <p>پاسخ صحیح: ب</p>





۲۱. نام تابلو مقابل چیست؟

- الف. راه یکطرفه
- ب. خیابان یکطرفه
- ج. تابلوی جهت نما
- د. فقط عبور مستقیم مجاز

پاسخ صحیح: د



۱۷. نام تابلو مقابل چیست؟

- الف. سبقت ممنوع
- ب. تراکم ترافیک
- ج. خیابان ۳ باند
- د. موارد الف و ب

پاسخ صحیح: ب

۲۲. کدام تابلو بمعنی دور زدن ممنوع میباشد؟



الف.



ب.



ج.



د.

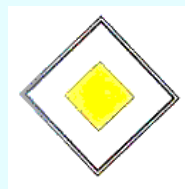
پاسخ صحیح: ج



۱۸. نام تابلو مقابل چیست؟

- الف. عبور اطفال
- ب. عبور عابر پیاده
- ج. فقط عبور پیاده
- د. گذرگاه عابر پیاده

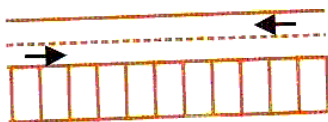
پاسخ صحیح: د



۱۹. نام تابلو مقابل چیست؟

- الف. راه اصلی
- ب. آزادراه
- ج. خیابان اصلی
- د. عبور وسایل نقلیه با محموله خطرناک

پاسخ صحیح: ج



۲۳. مفهوم شکل زیر چیست؟

- الف. پارک افقی
- ب. پارک مورب
- ج. پارک عمودی
- د. پارک توقف دوبله

پاسخ صحیح: ج



۲۰. نام تابلو مقابل چیست؟

- الف. حداکثر سرعت ۳۰ کیلومتر
- ب. حداقل سرعت ۳۰ کیلومتر
- ج. به تابلو سرعت ۳۰ کیلومتر نزدیک میشوید
- د. سرعت توصیه شده

پاسخ صحیح: ب

۲۴. مفهوم شکل زیر چیست؟



- الف. اتومبیل‌های که در سمت جلو و عقب مامور قرار دارند بمنزله ایست است
- ب. اتومبیل‌هایی که در سمت جلو و عقب مامور قرار دارند فقط به راست گردش کنید
- ج. اتومبیل‌هایی که در سمت جلو و عقب مامور قرار دارند فقط به چپ گردش کنید
- د. مقابل پلیس بایستید

پاسخ صحیح: الف

۲۶. هر باری که روی باربند سقف اتومبیل حمل می شود باید ...؟

- الف. زمانی که کاملاً نیاز باشد حمل شود
- ب. محکم بسته شود
- ج. تا حد امکان سبک باشد
- ج. با یک پوشش پلاستیکی پوشیده شود

پاسخ صحیح: ب

۲۵. در شکل زیر حق تقدم با کدام است؟



- الف. زرد-آبی-بنفش
- ب. زرد آبی با هم-بنفش
- ج. آبی- زرد-بنفش
- د. زرد-بنفش-آبی

پاسخ صحیح: د

۲۷. برای ترمز کردن کدام قسمت پا را بر روی پدال قرار می دهیم؟

- الف. پاشنه پا
- ب. کف پا
- ج. سینه پا
- د. همه موارد

پاسخ صحیح: ج

<p>۳۰. در کدام محل سبقت ممنوع است؟</p> <p>الف. تقاطعها، پلها، تونلها، سربالایی، پیچ تند و محلهایی که با نصب و خط کشی ممنوع است</p> <p>ب. خیابانهای دوطرفه تقاطعها و پلها</p> <p>ج. در بزرگراهها و خیابانهای دوطرفه</p> <p>د. در خیابانهای یک طرفه</p> <p>پاسخ صحیح: الف</p>	<p>۲۸. کدام معابر جزو جاده های برون شهری به حساب می آید؟</p> <p>الف. آزادراه</p> <p>ب. بزرگراه</p> <p>ج. جاده ها</p> <p>د. همه موارد</p> <p>پاسخ صحیح: د</p>
	<p>۲۹. در خیابان شلوغ جهت دور زدن بی خطرترین شیوه کدام است؟</p> <p>الف. از فردی بخواهید ترافیک را نگه دارد تا شما دور بزنید</p> <p>ب. خیابان فرعی خلوتی را جهت دور زدن پیدا کنید</p> <p>ج. به داخل خیابان فرعی رفته و به صورت دنده عقب وارد خیابان شوید</p> <p>د. در همان خیابان شلوغ اقدام به دور زدن نمایید</p> <p>پاسخ صحیح: ب</p>



آزمون آیین نامه راهنمایی و رانندگی ایرانیان-تست درایو

سوالات آزمون آیین نامه شماره: ۸

www.test-drive.ir

۳. مهمترین عامل تصادف رانندگی چیست؟

- الف. شرایط آب و هوایی
- ب. اشتباهات رانندگی
- ج. شرایط جاده
- د. مسائل مکانیکی

پاسخ صحیح: ب

۱. در یک تقاطع هیچگونه علائم یا تابلو وجود ندارد. دو اتومبیل نزدیک می شود. کدامیک حق عبور دارد؟

- الف. اتومبیلی که سریعتر حرکت می کند
- ب. اتومبیلی که در خیابان پهن تر قرار دارد
- ج. هیچکدام هر دو باید توقف کنند بعد با رعایت حق تقدم عبور کنند
- د. اتومبیلی که از سمت راست وارد می شود

پاسخ صحیح: ج

۴. پایین بودن کدام مورد میتواند منجر به حادثه شود؟

- الف. سطح روغن ترمز
- ب. سطح ضدیخ
- ج. سطح آب باطری
- د. سطح آب خنک کننده رادیاتور

پاسخ صحیح: الف

۲. چه موقع می توانید به صورت دنده عقب از یک خیابان فرعی به اصلی وارد شوید؟

- الف. تنها اگر هر دو خیابان خلوت باشد
- ب. در همه مواقع
- ج. تنها اگر خیابان اصلی دارای ترافیک نباشد
- د. هیچ موقع

پاسخ صحیح: د

<p>۸. موثرترین عضو بدن انسان در حین رانندگی کدام است؟</p> <p>الف. پاها ب. چشمها ج. دستها د. قلب</p> <p>پاسخ صحیح: ب</p>	<p>۵. دلیل استفاده از دنده سنگین در شرایط رانندگی در باران و برف چیست؟</p> <p>الف. در موقع ترمز از سرعت کمتری برخوردار باشید ب. جهت ممانعت از لغزش چرخها ج. در صورت لغزش استفاده از دنده پایینتر امکانپذیر باش د. بدلیل اینکه دورزیاد موتور باعث لغزش چرخها نشود</p> <p>پاسخ صحیح: ب</p>
<p>۹. وضعیت شما در رانندگی به چه عواملی بستگی دارد؟</p> <p>الف. پای بندی به مقررات ب. دانش رانندگی و مهارت ج. تفکر، موقیت، دانش قبلی، ادب و نزاکت د. رفتارهای مثبت و ترافیکی</p> <p>پاسخ صحیح: ج</p>	<p>۶. در پشت سر یک دوچرخه سوار در حال رانندگی هستید قصد دارید به سمت راست گردش کنید چکار میکنید؟</p> <p>الف. از دوچرخه سبقت گرفته و قبل از تقاطع از او جلو میزنیم ب. همجوار و موازی با دوچرخه سوار برانید ج. در پشت سر وی به حرکت ادامه میدهید تا اینکه دوچرخه سوار از محل تقاطع رد شود د. در محل تقاطع از وی جلو بزنید</p> <p>پاسخ صحیح: ج</p>
<p>۱۰. حداقل فاصله طولی ایمن در جاده های شن و ماسه با سرعت ۶۰ کیلومتر طول ماشین است؟</p> <p>الف. ۲ ب. ۴ ج. ۶ د. ۸</p> <p>پاسخ صحیح: د</p>	<p>۷. در شکل زیر حق تقدم با کدام است؟</p> <p>الف. مشکی ب. سفید ج. هر دو با هم د. بخاطر خط ممتد هیچکدام</p>  <p>پاسخ صحیح: الف</p>



۱۴. نام تابلو مقابل چیست؟

- الف. ایست
- ب. توقف ممنوع
- ج. عبور ممنوع
- د. ورود ممنوع

پاسخ صحیح: الف

۱۱. نباید مدت زیادی پای خود را روی کلاج

نگه دارید برای اینکه موجب می شود؟

- الف. کنترل شما بر روی وسیله نقلیه کاهش یابد
- ب. موجب کم شدن عمر گیربکس می شود
- ج. مصرف بنزین بیشتر خواهد شد
- د. اصطکاک لاستیکها با جاده کم می شود

پاسخ صحیح: الف



۱۵. نام تابلو مقابل چیست؟

- الف. روگذر
- ب. زیرگذر
- ج. گذرگاه پیاده
- د. شروع محل پیاده روی

پاسخ صحیح: ب

۱۲. مفهوم رنگ سیاه و سفید در علائم عبور و

مرور به چه معنی است؟

- الف. علائم دستوری و راهنمای مسیر در سایر راهها
- ب. مناطق اداری و آموزشی
- ج. راهنمای خدمات
- د. راهنمای مسیر در بزرگراهها

پاسخ صحیح: الف



۱۶. نام تابلو مقابل چیست؟

- الف. توقف ممنوع
- ب. ایستادن ممنوع
- ج. توقف در روزهای فرد ممنوع
- د. توقف در روزهای زوج ممنوع

پاسخ صحیح: د

۱۳. مفهوم شکل دایره در علائم عبور و مرور

به چه معنا می باشد؟

- الف. شروع و پایان حق تقدم مسیر
- ب. معمولا برای علائم راهنما
- ج. علامت دستوری و بازدارنده
- د. صرفا تابلوهای ایست

پاسخ صحیح: ج

۱۷. نام تابلو مقابل چیست؟



- الف. تقاطع با راه آهن
- ب. تقاطع با راه آهن دو خطه
- ج. تقاطع راه آهن با راهبند
- د. تقاطع جاده با راه آهن

پاسخ صحیح: ب

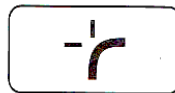
۱۸. نام تابلو مقابل چیست؟



- الف. عبور کامیون ممنوع
- ب. عبور کامیون آزاد
- ج. مسیر توصیه شده برای وسایل سنگین
- د. عبور تریلی ممنوع

پاسخ صحیح: ج

۲۰. کدام تابلو به معنای ریزش سنگ است؟



الف.



ب.



ج.



د.

پاسخ صحیح: د

۱۹. نام تابلو مقابل چیست؟



- الف. فقط عبور پیاده
- ب. گذرگاه پیاده
- ج. عبور اطفال
- د. عبور عابر پیاده

پاسخ صحیح: الف

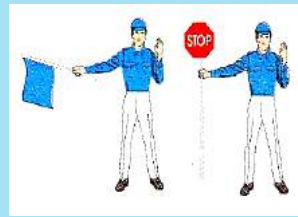
۲۱. مفهوم شکل زیر چیست؟



- الف. گردش به چپ
- ب. گردش به راست
- ج. توقف
- د. آهسته

پاسخ صحیح: ب

۲۲. مفهوم شکل زیر چیست؟



الف. قبل از توقف به کودکان اشاره میکنید که عبور کنند

ب. تنها اگر کودکان در حال عبور از خط کشی عابر پیاده هستند توقف میکنید

ج. توقف کرده و به کودکان اجازه عبور میدهید

د. تنها زمانی که عملاً کودکان در حال عبور از جاده هستند توقف میکنید

پاسخ صحیح: ج

۲۴. در ابتدای بارندگی بدلیل احتمال افزایش

سر خوردن چه مواردی را باید رعایت کرد؟

الف. خودداری از ترمز شدید

ب. رعایت فاصله با اتومبیل جلویی

ج. حرکت با سرعت مناسب و مطمئن

د. تمام موارد

پاسخ صحیح: د

۲۵. در تقاطعها در چه فاصله ای توقف ممنوع

است؟

الف. ۱۰ متری

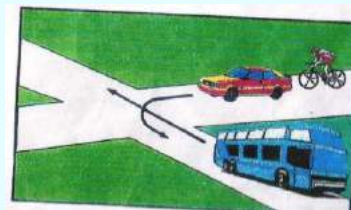
ب. ۱۵ متری

ج. ۲۰ متری

د. ۲۵ متری

پاسخ صحیح: ب

۲۳. در شکل زیر حق تقدم با کدام است؟



الف. اتوبوس دوچرخه سواری

ب. سواری اتوبوس دوچرخه

ج. سواری دوچرخه اتوبوس

د. اتوبوس سواری دوچرخه

پاسخ صحیح: ج

۲۶. موتورسواران نسبت به رانندگان اتومبیل

آسیب پذیرترند برای اینکه؟

الف. تغییرات سطح راه بر روی آنها تاثیر بیشتری دارد

ب. نداشتن حفاظ مناسب

ج. موارد الف و ب صحیح است

د. با سرعت بیشتری پیچها را طی میکند

پاسخ صحیح: ج

<p>۳۰. در تقاطعها هم عرض حق تقدم نسبت به چه وسیله نقلیه ای میباشد؟</p> <p>الف. اتومبیلی که سریعتر حرکت میکند</p> <p>ب. اتومبیلی که در خیابان پهن قرار دارد</p> <p>ج. اتومبیلی که در حال گردش به راست است</p> <p>د. اتومبیلی که در سمت راست قرار دارد</p> <p>پاسخ صحیح: د</p>	<p>۲۷. کاربرد روش ۲ ثانیه در کجا بکار می رود؟</p> <p>الف. تخمین فاصله با اتومبیل جلویی</p> <p>ب. تخمین حداقل فاصله طولی ایمن</p> <p>ج. حق تقدم ها</p> <p>د. موارد ب و ج</p> <p>پاسخ صحیح: الف</p>
	<p>۲۸. میخهای زرد رنگ در وسط جاده به چه معنی است؟</p> <p>الف. دست انداز</p> <p>ب. خط ممتد</p> <p>ج. خط مقطع</p> <p>د. خط زیگزاک</p> <p>پاسخ صحیح: ب</p>
	<p>۲۹. در شکل مقابل چرا اتومبیل شماره ۲ میتواند سبقت بگیرد؟</p>  <p>الف. برای اینکه فاصله اش از وسیله نقلیه جلویی زیاد است</p> <p>ب. برای اینکه سمت چپ آن خط مقطع است</p> <p>ج. برای اینکه سبقت آزاد است</p> <p>د. موارد الف و ب</p> <p>پاسخ صحیح: ب</p>



آزمون آیین نامه راهنمایی و رانندگی ایرانیان-تست درایو

سوالات آزمون آیین نامه شماره: ۹

www.test-drive.ir

۴. در کدام مورد باد لاستیک به اندازه است؟



الف. ۱

ب. ۲

ج. ۳

د. موارد الف و ج

پاسخ صحیح: ب

۱. در محل تقاطع قصد دارید به سمت چپ

گردش کنید ولی تصور می‌کنید که راهنمای

شما به وضوح دیده نمیشود چکار میکنید؟

الف. با وجود روشن کردن راهنما با دست علامت

میدهید

ب. پیاده شده و کنترل میکنید که حتما راهنما

توسط سایرین دیده میشود

ج. در باند سمت چپ همچنان باقی میمانید

د. اتومبیل را کاملاً به سمت راست هدایت میکنید

پاسخ صحیح: الف

۵. مفهوم رنگ آبی در علائم عبور و مرور به چه معنی است؟

الف. علائم دستوری و راهنمای مسیر در سایر راهها

ب. مناطق اداری و آموزشی

ج. راهنمای مسیر در آزادراهها

د. راهنمای مسیر در بزرگراهها

پاسخ صحیح: ج

۲. چگونه میتوان در سربالایی سبقت گرفت؟

الف. با استفاده از راهنما

ب. نور بالا و پایین

ج. بوق زدن

د. این کار ممنوع میباشد

پاسخ صحیح: د

۶. مفهوم شکل لوزی در علائم عبور و مرور به

چه معنا نمی‌باشد؟

الف. شروع و پایان حق تقدم مسیر

ب. معمولاً برای علائم راهنما

ج. علامت دستوری و بازدارنده

د. صرفاً تابلوهای ایست

پاسخ صحیح: الف

۳. حداقل فاصله طولی ایمن در جاده های برف

با سرعت ۴۵ کیلومتر طول ماشین است؟

الف. ۳

ب. ۶

ج. ۹

د. ۱۲

پاسخ صحیح: ج

<p>۷. نام تابلو مقابل چیست؟</p>  <p>الف. عبور با زنجیر چرخ ممنوع ب. عبور فقط با زنجیر چرخ ج. تعمیرگاه د. منطقه کوهستانی</p> <p>پاسخ صحیح: ب</p>	<p>۹. مفهوم شکل زیر چیست؟</p>  <p>الف. گردش به چپ ب. گردش به راست ج. توقف د. آهسته</p> <p>پاسخ صحیح: الف</p>
<p>۸. کدام تابلو به معنی پارکینگ است؟</p>  <p>الف.  ب.  ج.  د.</p> <p>پاسخ صحیح: د</p>	<p>۱۰. مفهوم شکل زیر چیست؟</p>  <p>الف. حداقل فاصله دو اتومبیل ۷۰ متر میباشد ب. حداکثر فاصله دو اتومبیل ۷۰ متر میباشد ج. رعایت فاصله کمتر از ۷۰ متر ممنوع د. رعایت فاصله بیشتر از ۷۰ متر ممنوع</p> <p>پاسخ صحیح: ج</p>

<p>۱۴. چرا رانندگی در شب مشکل تر است؟</p> <p>الف. وجود میدان دید طبیعی کمتر ب. عدم تشخیص فاصله و سرعت وسایل نقلیه ج. کم شدن تشخیص عابر پیاده د. همه موارد</p> <p>پاسخ صحیح: د</p>	<p>۱۱. در شکل زیر حق تقدم با کدام است؟</p>  <p>الف. زرد-قرمز-بنفش-آبی ب. بنفش-زرد-آبی-قرمز ج. زرد-بنفش-قرمز-آبی د. آبی-زرد-بنفش-قرمز</p> <p>پاسخ صحیح: ج</p>
<p>۱۵. تنظیم صندلی برای چیست؟</p> <p>الف. تسلط به فرمان - پدالهای گاز، ترمز و کلاچ و دیده ب. میدان دید طبیعی ج. گزینه الف و ب د. هیچکدام</p> <p>پاسخ صحیح: ج</p>	<p>۱۲. برای کدام مورد زیر باید از چراغ هشداردهنده (فلاشر) استفاده کرد؟</p> <p>الف. زمانیکه در منطقه پارک ممنوع توقف کرده اید. ب. زمانیکه اتومبیل شما دچار نقص فنی شده است ج. زمانیکه میخواهید به ترافیک پشت سر خود در مورد خطر اطلاع دهد د. موارد ب و ج</p> <p>پاسخ صحیح: د</p>
<p>۱۶. منظور از خط زیگزاگ در حاشیه ی خیابان چیست؟</p> <p>الف. مخصوص توقف اتومبیل ب. توقف کوتاه آزاد است ج. ایستادن و عبور کردن از روی آن ممنوع د. گزینه الف و ب</p> <p>پاسخ صحیح: ج</p>	<p>۱۳. چراغ سبز را در جلوی خود مشاهده می کنید چراغ بعدی که روشن میشود چیست؟</p> <p>الف. زرد و سبز با هم ب. زرد ج. قرمز د. قرمز و زرد</p> <p>پاسخ صحیح: ب</p>

<p>۲۰. هوای گرم بر کدام قسمت از خودرو و اثر می گذارد؟</p> <p>الف. سیستم فنر بندی- ترمز</p> <p>ب. ترمز دستی</p> <p>ج. باد لاستیک و دمای موتور</p> <p>د. چرخهای جلو- کلاچ</p> <p>پاسخ صحیح: ج</p>	<p>۱۷. هنگامیکه پلیس راهنمایی دست خود را از موازات نشانه پایین و بالا برد به معنی اینست؟</p> <p>الف. رانندگان با سرعت عبور کنند</p> <p>ب. رانندگان بایستند</p> <p>ج. رانندگان وسیله نقلیه در حال حرکت از سرعت خود بکاهند</p> <p>د. بعد عبور در پشت آن بایستند</p> <p>پاسخ صحیح: ج</p>
<p>۲۱. چه زمانی می توانید از تلفن همراه در رانندگی استفاده کنید؟</p> <p>الف. فرمان را با یک دست بگیرید و اتومبیل را هدایت کنید</p> <p>ب. استفاده از تلفن همراه حین رانندگی ممنوع است</p> <p>ج. فرمان را با یک دست بگیرید و اتومبیل را هدایت کنید</p> <p>د. نیاز به انجام یک تلفن اضطراری باشد</p> <p>پاسخ صحیح: ب</p>	<p>۱۸. کدامیک از موارد نقص فنی محسوب نمی شود؟</p> <p>الف. دود کردن موتور</p> <p>ب. نداشتن چراغهای جلو و عقب</p> <p>ج. کم بودن باد لاستیک</p> <p>د. نداشتن برف پاک کن در رانندگی</p> <p>پاسخ صحیح: ج</p>
<p>۲۲. شما با سرعت ۴۵ کیلومتر در ساعت در یک جاده مرطوب در حال رانندگی هستید، فاصله شما با اتومبیل جلوئی چند طول اتومبیل باید باشد؟</p> <p>الف. ۴ طول اتومبیل</p> <p>ب. ۲ طول اتومبیل</p> <p>ج. ۶ طول اتومبیل</p> <p>د. ۵ طول اتومبیل</p> <p>پاسخ صحیح: ج</p>	<p>۱۹. در چه فاصله ای از ورودی یا خروجی مراکز آتش نشانی، پلیس و بیمارستان ها توقف ممنوع است؟</p> <p>الف. ۵ متری</p> <p>ب. ۲۰ متری</p> <p>ج. ۱۵ متری</p> <p>د. ۷۰ متری</p> <p>پاسخ صحیح: ج</p>

<p>۲۶. مهمترین عامل تصادفات رانندگی با اتومبیل جلوئی چیست؟</p> <p>الف. شرایط جاده</p> <p>ب. شرایط آب و هوایی</p> <p>ج. عدم توجه کافی به راه - نزدیک شدن بیش از حد به اتومبیل جلوئی</p> <p>د. مسائل مکانیکی</p> <p>پاسخ صحیح: ج</p>	<p>۲۳. شما در هنگام رانندگی در شهر مجاز هستید حداکثر سرعتی معادل:</p> <p>الف. ۶۰ کیلومتر در خیابانهای شریانی اصلی ۵۰ کیلومتر در خیابانهای شریانی فرعی ۲۰ کیلومتر معابر محلی</p> <p>ب. ۶۰ کیلومتر در خیابانهای شریانی اصلی ۵۰ کیلومتر در خیابانهای شریانی فرعی ۳۰ کیلومتر معابر محلی</p> <p>ج. ۵۰ کیلومتر در خیابانهای شریانی اصلی ۵۰ کیلومتر در خیابانهای شریانی فرعی ۳۰ کیلومتر معابر محلی</p> <p>د. ۶۰ کیلومتر در خیابانهای شریانی اصلی ۴۰ کیلومتر در خیابانهای شریانی فرعی ۲۰ کیلومتر معابر محلی</p> <p>پاسخ صحیح: ب</p>
<p>۲۷. تابلوهای راهنمایی که معمولاً فرمانی را صادر می کنند به چه شکل است؟</p> <p>الف. مثلث با حاشیه قرمز</p> <p>ب. دایره با حاشیه قرمز</p> <p>ج. مستطیل با حاشیه قرمز</p> <p>د. مستطیل فلش دار با حاشیه قرمز</p> <p>پاسخ صحیح: ب</p>	<p>۲۴. کاربرد روش دو ثانیه برای چیست؟</p> <p>الف. محاسبه زمان</p> <p>ب. تخمین مسافت با وسیله جلوئی</p> <p>ج. تست موتور</p> <p>د. مورد الف و ب</p> <p>پاسخ صحیح: ب</p>
<p>۲۸. در کدام محل است که نباید پارک کنید؟</p> <p>الف. در خیابان های یک طرفه</p> <p>ب. در خیابانهای فرعی</p> <p>ج. در خیابانهای اصلی</p> <p>د. در ۱۵ متری تقاطع ها و در ایستگاه اتوبوس</p> <p>پاسخ صحیح: د</p>	<p>۲۵. حداکثر سرعت در جادههای اصلی:</p> <p>الف. روز ۶۰ کیلومتر - شب ۸۵ کیلومتر</p> <p>ب. روز ۹۵ کیلومتر - شب ۸۵ کیلومتر</p> <p>ج. روز ۸۰ کیلومتر - شب ۹۰ کیلومتر</p> <p>د. روز ۸۵ کیلومتر - شب ۹۵ کیلومتر</p> <p>پاسخ صحیح: ب</p>

۲۹. چه مواقعی باید بیش از حد مراقب موتور سیکلت سوارها و دوچرخه سوارها باشید؟

- الف. در جاده های دو طرفه
- ب. در خط کشی عابر پیاده
- ج. در خیابانهای یک طرفه
- د. در محل تقاطع

پاسخ صحیح: د

۳۰. در راههای دارای جدول برای پارک در سرازیری می بایست؟

- الف. فرمان را به سمت چپ بچرخانید
- ب. ترمز دستی را کشیده فرمان را به سمت چپ بچرخانید
- ج. فرمان را به سمت راست بچرخانید
- د. اتومبیل را در دنده گذاشته و مانعی جلوی لاستیک عقب قرار دهیم

پاسخ صحیح: ج



آزمون آیین نامه راهنمایی و رانندگی ایرانیان-تست درایو

سوالات آزمون آیین نامه شماره: ۱۰

www.test-drive.ir

۱. در شرایط غیر عادی مانند بارندگی و یخبندان کنترل و هدایت و توقف اتومبیل به کدام دلیل مشکل است؟

۳. شما به دنبال یک وسیله نقلیه دیگر بر روی یک جاده خیس رانندگی می کنید، فاصله زمانی بین شما و باید با اتومبیل جلوئی

چقدر شد؟

الف. ۴ ثانیه

ب. ۲ ثانیه

ج. ۳ ثانیه

د. ۵ ثانیه

پاسخ صحیح: الف

الف. کم بودن میدان دید

ب. به لحاظ سرمای هوا و خارج شدن لاستیکها از حالت طبیعی

ج. به لحاظ کاهش ضریب اصطکاک چرخها با جاده

د. ب و ج هر دو صحیح

پاسخ صحیح: ج

۲. در چه فاصله ای از پیچها و تقاطعها دور زدن ممنوع می باشد؟

۴. چرا برای سبقت از یک وسیله طویل باید فاصله بیشتری را با آن حفظ کرد؟

الف. بتوانیم جلوی کامیون را ببینیم

ب. راحت بتوانیم با سرعت حرکت کنیم

ج. برای اینکه در نقطه کولر قرار نگرفته و راننده

کامیون بتواند ما را ببیند

د. الف و ج

پاسخ صحیح: د

الف. ۲۰۰ متری

ب. ۱۰۰ متری

ج. ۱۵۰ متری

د. ۷۰ متری

پاسخ صحیح: ج

<p>۸. علائم راهنمایی به ترتیب اولویت؟</p> <p>الف. تابلوها- چراغ راهنما- فرمان پلیس- خط کشی</p> <p>ب. فرمان پلیس- تابلوها- چراغ راهنما- خط کشی</p> <p>ج. چراغ راهنما- خط کشی- تابلوها- فرمان پلیس</p> <p>د. فرمان پلیس - چراغ راهنما- تابلوها- خط کشی</p> <p>پاسخ صحیح: د</p>	<p>۵. دسترسی در آزادراهها چگونه می باشد؟</p> <p>الف. از طریق تقاطع هم سطح</p> <p>ب. از طریق اولین خروجی</p> <p>ج. از طریق پلهای هوایی و زیرگذرگاهها</p> <p>د. تا شهرک یا تقاطع جاده دیگر راهی ندارد</p> <p>پاسخ صحیح: ج</p>
<p>۹. تابلو های هشداردهنده یا بیشتر به شکل با نوارهای حاشیه رنگ و زمینه رنگ می باشد؟</p> <p>الف. اخباری- دایره- قرمز- آبی</p> <p>ب. اختطاری- مربع- قرمز- سفید</p> <p>ج. اختطاری- مثلث- قرمز- سفید</p> <p>د. انتظامی- پنج ضلعی- قرمز- سفید</p> <p>پاسخ صحیح: ج</p>	<p>۶. چرا رانندگی در شب نسبت به روز مشکلتر می باشد؟</p> <p>الف. عدم تشخیص فاصله و سرعت وسیله نقلیه</p> <p>ب. محدود بودن میدان دید راننده</p> <p>ج. عدم تشخیص به موقع عابر پیاده</p> <p>د. همه موارد</p> <p>پاسخ صحیح: د</p>
<p>۱۰. به هنگام رانندگی در طول روز در شرایط مه آلود چه کاری باید انجام دهید؟</p> <p>الف. از نور پایین استفاده کنید</p> <p>ب. از نور بالا استفاده کنید</p> <p>ج. چراغ راهنما را روشن کنید</p> <p>د. چراغ را روشن کنید</p> <p>پاسخ صحیح: الف</p>	<p>۷. تابلوهای باز دارنده را تابلوهای نیز می گویند که بیشتر به شکل با نوار حاشیه رنگ هستند؟</p> <p>الف. هشدار دهنده- دایره- قرمز</p> <p>ب. انتظامی- دایره- قرمز</p> <p>ج. انتظامی- مثلث- قرمز</p> <p>د. هشداردهنده- مثلث- آبی</p> <p>پاسخ صحیح: ب</p>

<p>۱۴. اتومبیل شما در بزرگراه دچار نقص فنی شده است، تابلوی مثلثی را در چند متری قرار می دهید؟</p> <p>الف. ۵۰ متری</p> <p>ب. ۱۰۰ متری</p> <p>ج. ۷۰ متری</p> <p>د. ۱۵۰ متری</p> <p>پاسخ صحیح: د</p>	<p>۱۱. با تنظیم صندلی کدامیک از شرایط زیر مهیا می گردد؟</p> <p>الف. سهولت در تعویض دنده</p> <p>ب. تسلط کامل به فرمان</p> <p>ج. تسلط کامل به گاز، کلاچ و ترمز</p> <p>د. هر سه مورد</p> <p>پاسخ صحیح: د</p>
<p>۱۵. اتومبیل شما آزادراه دچار نقص فنی شده است، چه کاری انجام می دهید؟</p> <p>الف. تابلو مثلثی را در ۱۵۰ متری قرار می دهیم</p> <p>ب. در خط توقف اضطراری توقف می کنید</p> <p>ج. چراغهای خطر را روشن می کنید و در باند خودتان متوقف می شوید</p> <p>د. تابلو مثلثی را در ۵۰۰ متری قرار می دهیم</p> <p>پاسخ صحیح: ب</p>	<p>۱۲. در صورت کشیدن یدک و یا باری که از ماشین بیرون زده باشد با چه چیزی باید دیگر رانندگان را متوجه کرد؟</p> <p>الف. چراغ قرمز رنگ یدک</p> <p>ب. پرچم قرمز انتهای یدک</p> <p>ج. پرچم سفید به ابعاد ۵۰ سانتی متر</p> <p>د. پرچم زرد و چراغ خطر</p> <p>پاسخ صحیح: ج</p>
<p>۱۶. انواع خط کشی ها عبارتند از خط کشی و خط کشی؟</p> <p>الف. مقطع و ممتد</p> <p>ب. مورب و مقطع</p> <p>ج. طولی و عرضی</p> <p>د. زیگزاک و ممتد</p> <p>پاسخ صحیح: ج</p>	<p>۱۳. وسائل نقلیه امدادی در چه موارد مجاز به استفاده از علائم (آژیر- سوت خطر) می باشد؟</p> <p>الف. هنگام انجام مأموریت فوری و مهم</p> <p>ب. همه مواقع</p> <p>ج. هنگام خطر</p> <p>د. مورد ب و ج</p> <p>پاسخ صحیح: الف</p>

<p>۲۰. هنگام مواجه با زخمیهای صحنه تصادف چه کاری نباید انجام داد؟</p> <p>الف. دلجوئی کردن</p> <p>ب. گرم نگه داشتن آنها</p> <p>ج. تنها گذاشتن آنها</p> <p>د. دادن خوراکی به افراد زخمی</p> <p>پاسخ صحیح: د</p>	<p>۱۷. در جادههای فرعی حداکثر سرعت مجاز در روز کیلو متر و در شب کیلومتر میباشد؟</p> <p>الف. ۹۵ - ۸۵</p> <p>ب. ۸۵ - ۷۵</p> <p>ج. ۹۰ - ۸۰</p> <p>د. ۸۰ - ۷۰</p> <p>پاسخ صحیح: ب</p>
<p>۲۱. در تقاطعها یا چهارراههای هم عرض حق عبور با کدام وسیله نقلیه می باشد؟</p> <p>الف. به صورت مستقیم در حرکت می باشد</p> <p>ب. در حال گردش به راست می باشد</p> <p>ج. وسیله نقلیه ای که سمت راست آن خالی باشد</p> <p>د. الف و ب</p> <p>پاسخ صحیح: ج</p>	<p>۱۸. در کدامیک از محلهای زیر سبقت گرفتن ممنوع می باشد؟</p> <p>الف. تقاطعها و پلها- خیابانهای دو طرفه</p> <p>ب. در خیابانهای یک طرفه</p> <p>ج. در بزرگراهها- خیابانهای دو طرفه</p> <p>د. پلها- تقاطعها- تونلها- سربالائی ها - پیچهای تند- محلهائی که با نصب علائم و خط کشی ممنوع است.</p> <p>پاسخ صحیح: د</p>
<p>۲۲. تابلو به شکل مثلث متساوی الاضلاع نشسته بر روی یک راس برای می باشد؟</p> <p>الف. ایست</p> <p>ب. علامت دستوری</p> <p>ج. رعایت حق تقدم</p> <p>د. بازدارنده</p> <p>پاسخ صحیح: ج</p>	<p>۱۹. چه مواقعی راننده نسبت به اتومبیل کنترل کمتری دارد؟</p> <p>الف. در پیچها</p> <p>ب. سربالائی</p> <p>ج. حرکت با دنده خلاص</p> <p>د. همه موارد</p> <p>پاسخ صحیح: ج</p>

<p>۲۶. کدام گزینه نا صحیح می باشد؟</p> <p>الف. تابلوهای هشداردهنده یا اخطاری</p> <p>ب. تابلو بازدارنده یا اخطاری</p> <p>ج. تابلوهای بازدارنده یا انتظامی</p> <p>د. تابلوهای آگاهی دهنده یا اخباری</p> <p>پاسخ صحیح: ب</p>	<p>۲۳. تابلو به شکل مثلث متساوی الاضلاع نشسته روی قاعده به چه منظور می باشد؟</p> <p>الف. ایست</p> <p>ب. بازدارنده</p> <p>ج. هشداردهنده برای خطر</p> <p>د. رعایت حق تقدم</p> <p>پاسخ صحیح: ج</p>
<p>۲۷. خط ممتد-دوبله-مقطع-هاشور-زیگراک، انواع خطوط ... هستند؟</p> <p>الف. ترکیبی</p> <p>ب. عرضی</p> <p>ج. طولی</p> <p>د. مورد ب و ج</p> <p>پاسخ صحیح: ج</p>	<p>۲۴. چه موقع نباید از چراغ هشدار(فلاشر) استفاده نمائید؟</p> <p>الف. زمانی که دچار نقص فنی شده اید</p> <p>ب. هنگام بکسل کردن اتومبیل</p> <p>ج. به صورت دوبله پارک می کنید</p> <p>د. مورد ب و ج</p> <p>پاسخ صحیح: د</p>
<p>۲۸. برای گردش به چپ در بزرگراه از چه فاصله ای باید راهنما زده شود؟</p> <p>الف. ۵۰ متری</p> <p>ب. ۱۰۰ متری</p> <p>ج. ۱۵۰ متری</p> <p>د. ۵۰۰ متری</p> <p>پاسخ صحیح: د</p>	<p>۲۵. به هنگام رانندگی در شب فاصله اتومبیل شما با اتومبیل جلوئی بیش از ۱۵۰ متر باشد...؟</p> <p>الف. از نور بالا استفاده می کنیم</p> <p>ب. از نور پایین استفاده می کنیم</p> <p>ج. چراغها را خاموش می کنیم</p> <p>د. از هر نوری خواستیم استفاده می کنیم</p> <p>پاسخ صحیح: الف</p>

۲۹. از چه فاصله ای باید در خیابانهای درون

شهری راهنما زده شود؟

الف. ۵۰ متری

ب. ۱۰۰ متری

ج. ۱۵۰ متری

د. ۲۰۰ متری

پاسخ صحیح: ب

۳۰. هنگام ورود به میداين حق تقدم با وسیله

ای است که...؟

الف. در حال ورود به میدان است

ب. در سمت راست وسیله نقلیه است

ج. درون میدان در حال حرکت است

د. در حال عبور مستقیم است

پاسخ صحیح: ج



آزمون آیین نامه راهنمایی و رانندگی ایرانیان-تست درایو

سوالات آزمون آیین نامه شماره: ۱۱

www.test-drive.ir

<p>۱. در چه فاصله ای قبل و بعد از پیچها و تقاطع راه آهن سبقت گرفتن ممنوع است؟</p> <p>الف. ۵۰ متر</p> <p>ب. ۷۵ متر</p> <p>ج. ۱۰۰ متر</p> <p>د. ۱۵۰ متر</p> <p>پاسخ صحیح: الف</p>	<p>۴. کدام یک از موارد زیر بر فرمان پلیس مقدم است؟</p> <p>الف. علائم</p> <p>ب. تابلوها</p> <p>ج. خط کشی ها</p> <p>د. هیچکدام</p> <p>پاسخ صحیح: د</p>
<p>۲. در چه فاصله ای قبل و بعد از تونل و پل ها سبقت گرفتن ممنوع است؟</p> <p>الف. ۷۰ متر</p> <p>ب. ۱۰۰ متر</p> <p>ج. ۱۵۰ متر</p> <p>د. ۲۰۰ متر</p> <p>پاسخ صحیح: ب</p>	<p>۵. رنگ سیاه و سفید در علائم عبور و مرور چه معنا و مفهومی دارد؟</p> <p>الف. علامت دستوری و راهنمای مسیر در سایر راهها</p> <p>ب. راهنمای مسیر در آزادراهها</p> <p>ج. هشدار برای خطرات ناشی از تعمیر و نگهداری</p> <p>د. اداری و آموزشی و خدماتی</p> <p>پاسخ صحیح: الف</p>
<p>۳. عبور کردن از روی کدام خطوط زیر ممنوع نمی باشد؟</p> <p>الف. خط زیگزاگ</p> <p>ب. خط مقطع</p> <p>ج. خط طولی ممتد</p> <p>د. موارد الف و ج</p> <p>پاسخ صحیح: ب</p>	<p>۶. سبقت گرفتن در چه مواردی ممنوع می باشد؟</p> <p>الف. خط طولی ممتد</p> <p>ب. در خط طولی مقطع</p> <p>ج. در خروجی بزرگراهها</p> <p>د. هیچکدام</p> <p>پاسخ صحیح: ب</p>

<p>۱۰. در صورت خرابی چراغ راهنما اتومبیل شما، اگر بخواهید گردش به راست انجام دهید دست خود را به چه صورتی نگه می دارید؟</p> <p>الف. افقی</p> <p>ب. از بالا به پایین حرکت می دهید</p> <p>ج. عمودی</p> <p>د. موارد الف و ب</p> <p>پاسخ صحیح: ج</p>	<p>۷. در حین رانندگی برای سبقت گرفتن در روز به وسیله ... و در شب به وسیله ... می توان به رانندگان مقابل اطلاع دهید؟</p> <p>الف. بوق-چراغ</p> <p>ب. حرکت دست-بوق</p> <p>ج. حرکت دست-چراغ</p> <p>د. چراغ-بوق</p> <p>پاسخ صحیح: الف</p>
<p>۱۱. منظور از خط شطرنجی به رنگ زرد و سیاه ... ؟</p> <p>الف. رانندگان می توانند از روی آن عبور کنند</p> <p>ب. رانندگان باید قبل آن توقف نمایند</p> <p>ج. با مشاهده آن سرعت را کاهش داده و با احتیاط عبور کنند</p> <p>د. برای عابرین پیاده می باشد</p> <p>پاسخ صحیح: ب</p>	<p>۸. کنترل باد لاستیک چرخها چه زمانی باید چک شود؟</p> <p>الف. بعد از طی مسافت طولانی</p> <p>ب. زمانیکه لاستیک سرد است</p> <p>ج. بعد از یک رانندگی با سرعت بالا</p> <p>د. زمانی که لاستیک ها گرم هستند</p> <p>پاسخ صحیح: ب</p>
<p>۱۲. اصلی ترین علت منحرف شدن خودرو به یک طرف در زمان گرفتن ترمز چیست؟</p> <p>الف. پایین بودن سطح روغن ترمز</p> <p>ب. بالا بودن ترمز دستی</p> <p>ج. تنظیم نبودن دقیق ترمزها</p> <p>د. سائیدگی بیش از حد تایرهای خودرو</p> <p>پاسخ صحیح: ج</p>	<p>۹. فشار هوای داخلی لاستیک ها باید هر یک بار بازدید گردد؟</p> <p>الف. ده روز</p> <p>ب. هفت روز</p> <p>ج. پنج روز</p> <p>د. سی روز</p> <p>پاسخ صحیح: ب</p>

<p>۱۶. گواهینامه رانندگی یک سند رسمی است که تنها به نشان داده می شود؟</p> <p>الف. بازرس اتومبیل</p> <p>ب. پلیس ترافیک</p> <p>ج. مامور کنترل</p> <p>د. همه موارد</p> <p>پاسخ صحیح: ب</p>	<p>۱۳. سبقت از سمت راست وسیله نقلیه که در حال گردش به چپ می باشد...؟</p> <p>الف. ممنوع است</p> <p>ب. با احتیاط می توان عبور کرد</p> <p>ج. آزاد است</p> <p>د. با فرمان پلیس می توان عبور کرد</p> <p>پاسخ صحیح: ج</p>
<p>۱۷. اتومبیل شما در راه دچار حادثه شده تابلوی احتیاط را در چه فاصله ای قرار می دهید؟</p> <p>الف. ۲۰ متری</p> <p>ب. ۵۰ متری</p> <p>ج. ۷۰ متری</p> <p>د. ۱۰۰ متری</p> <p>پاسخ صحیح: ج</p>	<p>۱۴. در چه شرایطی می توانید از خط عبور سمت چپ در آزادراهها استفاده نمایید؟</p> <p>الف. برای کنار رفتن از سر راه کامیونها</p> <p>ب. برای سبقت گرفتن از سایر وسایل نقلیه</p> <p>ج. برای رانندگی در سرعت بیش از ۹۰ کیلومتر</p> <p>د. هنگامیکه با سرعت کم در حال رانندگی هستید</p> <p>پاسخ صحیح: ب</p>
<p>۱۸. آب رادیاتور چه زمانی باید بازدید شود؟</p> <p>الف. زمانی که گرم است</p> <p>ب. بعد از یک رانندگی طولانی</p> <p>ج. زمانی که سرد است</p> <p>د. الف و ب</p> <p>پاسخ صحیح: ج</p>	<p>۱۵. در کدامیک از موارد زیر حرکت با دنده عقب ممنوع می باشد؟</p> <p>الف. در آزادراه</p> <p>ب. در بزرگراه</p> <p>ج. در معابر اصلی</p> <p>د. هر سه مورد</p> <p>پاسخ صحیح: د</p>

<p>۲۲. نقطه کور ماشین های طویل کدام یک از موارد زیر است؟</p> <p>الف. جلو</p> <p>ب. راست</p> <p>ج. عقب</p> <p>د. همه موارد</p> <p>پاسخ صحیح: د</p>	<p>۱۹. تنها چه موقعی می توانید از تلفن همراه استفاده کنید؟</p> <p>الف. نیاز به یک تماس اضطراری باشد</p> <p>ب. فرمان را با یک دست بگیرید و اتومبیل را هدایت کنید</p> <p>ج. در یک محل و مکان امن توقف کرده باشید</p> <p>د. وسیله نقلیه شما دارای دنده اتوماتیک باشد</p> <p>پاسخ صحیح: ج</p>
<p>۲۳. تابلوهای مثلثی شکل به چه منظور می باشد؟</p> <p>الف. بازدارنده</p> <p>ب. هشدار دهنده</p> <p>ج. اخباری</p> <p>د. آگاهی دهنده</p> <p>پاسخ صحیح: ب</p>	<p>۲۰. کاربرد روش دوثانیه برای چه کاری می باشد؟</p> <p>الف. محاسبه زمان</p> <p>ب. تست موتور</p> <p>ج. تخمین مسافت با وسیله نقلیه جلویی</p> <p>د. تخمین سرعت</p> <p>پاسخ صحیح: ج</p>
<p>۲۴. کم بودن باد لاستیک چه تاثیری دارد؟</p> <p>الف. افزایش مصرف سوخت</p> <p>ب. عمر لاستیک کم خواهد شد</p> <p>ج. موارد الف و ب</p> <p>د. هیچکدام</p> <p>پاسخ صحیح: ج</p>	<p>۲۱. روش یک طول اتومبیل چیست؟</p> <p>الف. به ازای هر سی کیلومتر سرعت فاصله ای به اندازه یک طول اتومبیل نیاز است</p> <p>ب. به ازای هر ۴۵ کیلو متر سرعت فاصله ای به اندازه یک طول اتومبیل نیاز است</p> <p>ج. به ازای هر ۶۰ کیلومتر سرعت فاصله ای به اندازه یک طول اتومبیل نیاز است</p> <p>د. به ازای هر ۱۵ کیلومتر سرعت فاصله ای به اندازه یک طول اتومبیل نیاز است</p> <p>پاسخ صحیح: د</p>

<p>۲۸. کدام گزینه نا صحیح است؟</p> <p>الف. در تقاطع سبقت گرفتن ممنوع است</p> <p>ب. در پیچ های تند و سربالائی ها دور زدن ممنوع است</p> <p>ج. سبقت گرفتن در داخل تونل ها بلا مانع است</p> <p>د. سبقت از وسیله ای که خود در حال سبقت گرفتن است ممنوع است</p> <p>پاسخ صحیح: ج</p>	<p>۲۵. خط ایست جزء کدام یک از خط کشی های زیر می باشد؟</p> <p>الف. طولی</p> <p>ب. زیگزاگ</p> <p>ج. عرضی</p> <p>د. ترکیبی</p> <p>پاسخ صحیح: ج</p>
<p>۲۹. کدام یک از رنگ های زیر جزء مفاهیم عبور و مرور می باشد؟</p> <p>الف. آبی</p> <p>ب. سبز</p> <p>ج. سیاه و سفید</p> <p>د. همه موارد</p> <p>پاسخ صحیح: د</p>	<p>۲۶. کدامیک از موارد زیر در رابطه با یدک کشی صحیح می باشد؟</p> <p>الف. وسیله ترابری آسیب دیده باید دارای سیستم فرمان و ترمز سالم باشد</p> <p>ب. باید دارای قدرت کافی برای کشیدن باشد</p> <p>ج. باید به طناب سیمی محکم بسته باشد</p> <p>د. همه موارد</p> <p>پاسخ صحیح: د</p>
<p>۳۰. عوامل افزایش دهنده مصرف سوخت خودرو کدام یک از عوامل زیر می باشد؟</p> <p>الف. تنظیم نبودن موتور</p> <p>ب. استفاده از کولر</p> <p>ج. پایین بودن پنجره های خودرو</p> <p>د. همه موارد</p> <p>پاسخ صحیح: د</p>	<p>۲۷. شکل مستطیل قائم برای تابلوهای ... به کار می رود؟</p> <p>الف. هشدار دهنده برای خطر</p> <p>ب. دستوری و آگاهی از خطرات</p> <p>ج. برای خطرات ناشی از تعمیر و نگهداری</p> <p>د. برای تابلوهای دستوری و خدمات</p> <p>پاسخ صحیح: د</p>



آزمون آیین نامه راهنمایی و رانندگی ایرانیان-تست درایو

سوالات آزمون آیین نامه شماره: ۱۲

www.test-drive.ir

<p>۱. میخ های قرمز رنگ در کجا استفاده می شود؟</p> <p>الف. بین محل خالی آزادراه و باند اصلی</p> <p>ب. در مسیر ورودی و خروجی و باندهای کاهش و افزایش سرعت</p> <p>ج. بین هر دو باند</p> <p>د. بین شانه خاکی و باند اصلی</p> <p>پاسخ صحیح: ب</p>	<p>۴. تابلو نظارت با دوربین پلیس جزء کدام یک از علائم زیر می باشد؟</p> <p>الف. بازدارنده</p> <p>ب. هشداردهنده</p> <p>ج. محلی</p> <p>د. اخباری</p> <p>پاسخ صحیح: ج</p>
<p>۲. برای گردش به راست یا چپ در معابر درون شهری از چند متری راهنما زده می شود؟</p> <p>الف. ۲۰۰ متری</p> <p>ب. ۱۵۰ متری</p> <p>ج. ۱۰۰ متری</p> <p>د. ۵۰۰ متری</p> <p>پاسخ صحیح: ج</p>	<p>۵. در راههای مسطح که دو طرف راه منتهی به کوه و پرتگاه می باشد حق تقدم عبور با کدامیک از وسایل نقلیه زیر می باشد؟</p> <p>الف. در سمت راست باشد</p> <p>ب. در سمت چپ باشد</p> <p>ج. در سمت پرتگاه باشد</p> <p>د. همه موارد</p> <p>پاسخ صحیح: ج</p>
<p>۳. تابلو رعایت حق تقدم جزء کدام یک از موارد زیر است؟</p> <p>الف. آگاهی دهنده</p> <p>ب. خطاری</p> <p>ج. هشدار دهنده</p> <p>د. انتظامی</p> <p>پاسخ صحیح: د</p>	<p>۶. در تقاطعی که خط عابر پیاده ندارد حق تقدم با کدام است؟</p> <p>الف. در حال گردش به راست می باشد</p> <p>ب. عابر پیاده</p> <p>ج. در حال حرکت مستقیم می باشد</p> <p>د. دنده عقب می آید</p> <p>پاسخ صحیح: ب</p>

<p>۱۰. اولین کاری که باید در یک صحنه تصادف انجام گیرد کدام یک از موارد زیر می باشد؟</p> <p>الف. حفظ صحنه تصادف ب. آگاه ساختن مراجع ذیصلاح ج. مراقبت نمودن از مجروحین د. جلوگیری از وقوع تصادف دیگر در همان محل</p> <p>پاسخ صحیح: د</p>	<p>۷. به دنبال یک کامیون در حال حرکت هستید، کامیون در حال گردش به راست و وارد شدن به یک جاده باریک می باشد، چه اقدامی می کنید؟</p> <p>الف. از کامیون سبقت می گیرید ب. به طرف راست رفته و با گردش کامیون به راه خود ادامه می دهید ج. آماده می شوید پشت سر او بایستید د. قبل از اینکه کامیون وارد جاده باریک شود با سرعت از او سبقت می گیرید</p> <p>پاسخ صحیح: ج</p>
<p>۱۱. حداکثر سرعت در بزرگراههای درون شهری چند کیلومتر میباشد؟</p> <p>الف. ۱۲۰ کیلومتر ب. ۱۰۰ کیلومتر ج. ۷۰ کیلومتر د. ۶۰ کیلومتر</p> <p>پاسخ صحیح: ب</p>	<p>۸. کدام یک از موارد زیر ناصحیح می باشد؟</p> <p>الف. از استعمال دخانیات در هنگام کار با باتری خودداری نمایید ب. فشار هوای داخلی لاستیک یک بار در هفته بازدید گردد ج. از جیب لباس کار می شود به عنوان جعبه ابزار استفاده کرد د. هر روز باید سطح روغن ترمز را بازدید کرد</p> <p>پاسخ صحیح: ج</p>
<p>۱۲. حداکثر سرعت وانت بارها در آزادراههای برون شهری چند کیلومتر می باشد؟</p> <p>الف. ۱۱۰ کیلومتر ب. ۱۰۰ کیلومتر ج. ۱۲۰ کیلومتر د. ۷۰ کیلومتر</p> <p>پاسخ صحیح: ج</p>	<p>۹. راهی که ارتباط بین خیابانهای محلی و خیابانهای شریانی اصلی را برقرار می کند چیست؟</p> <p>الف. خیابان شریانی اثلی ب. خیابان شریانی فرعی ج. معابر محلی د. کوچه ها</p> <p>پاسخ صحیح: ب</p>

<p>۱۶. هنگامی که پلیس راهنمایی مستقر در تقاطع دست راست خود را به موازات شانه باز نماید چه معنایی دارد؟</p> <p>الف. رانندگان وسایل نقلیه در هر چهار طرف تقاطع بایستند</p> <p>ب. رانندگان در حال حرکت از سرعت خود بکاهند</p> <p>ج. رانندگان مقابل باید توقف نمایند</p> <p>د. رانندگان در حال عبور از پشت وی توقف نمایند</p> <p>پاسخ صحیح: د</p>	<p>۱۳. تابلوی عبور به راست مجاز به شکلی می باشد ؟</p> <p>الف. دایره-قرمز</p> <p>ب. دایره-آبی</p> <p>ج. مثلث-آبی</p> <p>د. مثلث-قرمز</p> <p>پاسخ صحیح: ب</p>
<p>۱۷. کدام مورد هنگام رانندگی ممنوع می باشد؟</p> <p>الف. خوردن و آشامیدن</p> <p>ب. استفاده از تلفن همراه</p> <p>ج. استعمال دخانیات</p> <p>د. همه موارد</p> <p>پاسخ صحیح: د</p>	<p>۱۴. رنگ نارنجی در علائم عبور و مرور چه معنایی دارد؟</p> <p>الف. علامت دستوری</p> <p>ب. آزادراه</p> <p>ج. اداری و آموزشی</p> <p>د. بزرگراه</p> <p>پاسخ صحیح: ج</p>
<p>۱۸. کدام گزینه نشان دهنده تابلوی عبور وسایل نقلیه موتوری ممنوع می باشد؟</p> <p>الف. </p> <p>ب. </p> <p>ج. </p> <p>د. </p> <p>پاسخ صحیح: الف</p>	<p>۱۵. رنگ قهوه ای در علائم عبور و مرور به چه معنا می باشد؟</p> <p>الف. مناطق تفریحی فرهنگی و گردشگری</p> <p>ب. علامت دستوری</p> <p>ج. اماکن مذهبی</p> <p>د. هشدار برای عملیات ساختمانی</p> <p>پاسخ صحیح: الف</p>

<p>۲۲. در هوای مه آلود در حال رانندگی هستید پشت سر بیش از حد به شما نزدیک می شود چه اقدامی انجام می دهید؟</p> <p>الف. با احتیاط به حرکت خود ادامه دهید</p> <p>ب. چراغهای هشداردهنده خطر را روشن کنید</p> <p>ج. بلافاصله توقف کنید</p> <p>د. سرعت گرفته و از او دور شوید</p> <p>پاسخ صحیح: الف</p>	<p>۱۹. نحوه بارگیری تریلرها به نحوی باید باشید که:</p> <p>الف. بار عمدتا در بخش عقب قرار گیرد</p> <p>ب. بار در بخش جلوی تریلر قرار گیرد</p> <p>ج. بار به صورت متوازن و خوب بسته شود</p> <p>د. بار عمدتا در نزدیکی چرخ ها بارگیری شود</p> <p>پاسخ صحیح: ج</p>
<p>۲۳. در شرایط بد جوی با میدان دید محدود چگونه می توانید اطمینان کنید که سایر رانندگان قادر به رویت شما هستند؟</p> <p>الف. چراغ های نور پایین را روشن کنید</p> <p>ب. با فاصله کمی از اتومبیل جلویی حرکت کنید</p> <p>ج. چراغ های مه شکن عقب را روشن کنید</p> <p>د. کاملا نزدیک به کنار جاده حرکت کنید</p> <p>پاسخ صحیح: الف</p>	<p>۲۰. چه موقع می توانید از چراغ هشداردهنده خطر (فلاشر یا چهارچراغ) استفاده نمایید؟</p> <p>الف. زمانی که برای خرید بر روی خطوط زرد دابل توقف کرده اید</p> <p>ب. زمانی که در تاریکی بدون چراغ بزرگ حرکت می کنید</p> <p>ج. زمانی که به آرامی رانندگی کره و به دنبال آدرس میگردید</p> <p>د. زمانی که به صورت موقت و یا اضطراری توقف کرده و ترافیک را متوقف نموده ای</p> <p>پاسخ صحیح: د</p>
<p>۲۴. پایین بودن کدام یک از موارد زیر می تواند منجر به حادثه شود؟</p> <p>الف. سطح روغن ترمز</p> <p>ب. سطح ضدیخ</p> <p>ج. سطح آب باتری</p> <p>د. سطح آب خنک کننده رادیاتور</p> <p>پاسخ صحیح: الف</p>	<p>۲۱. در هوای بسیار گرم سطح جاده نرم می باشد - کدام مورد زیر از این مسئله تاثیرپذیر است؟</p> <p>الف. هدایت و گردش اتومبیل و ترمز</p> <p>ب. تعویض دنده</p> <p>ج. سیستم فنربندی</p> <p>د. میزان باد لاستیک ها</p> <p>پاسخ صحیح: الف</p>

<p>۲۷. اتومبیلی جلوی شما از یک فرعی بیرون می آید چکار باید انجام دهید؟</p> <p>الف. با شتاب از کنار او عبور کنید ب. چراغ داده و پشت سر او قرار بگیرید ج. با سرعت از کنارش گذشته و بوق بزنید د. از سرعت خود کاسته و آماده توقف شوید</p> <p>پاسخ صحیح: د</p>	<p>۲۵. در چه مواقعی مجاز به حرکت با دنده عقب هستید؟</p> <p>الف. رانندگی با دنده عقب در همه موارد مجاز است ب. با احتیاط کامل و احتراز از هر گونه حادثه و انسداد راه میتوان در مواقع ضروری با دنده عقب حرکت کرد ج. در راههای یکطرفه میتوان با دنده عقب حرکت کرد د. چنانچه قصد ورود از گاراژ خصوصی یا خیابان فرعی به اصلی دارید</p> <p>پاسخ صحیح: ب</p>
<p>۲۸. قانون اولیه رانندگی حرکت از سمت ... مگر برای است.</p> <p>الف. چپ-توقف ب. چپ-گردش ج. راست-توقف د. راست-سبقت و گردش به چپ</p> <p>پاسخ صحیح: د</p>	<p>۲۶. فاصله مناسب از جدول هنگام پارک چقدر است؟</p> <p>الف. یک متر از جلو-نیم متر از عقب- ۴۵ سانت از جدول ب. نیم متر از جلو- یک متر از عقب- ۴۰ سانت از جدول ج. یک متر از جلو-یک متر از عقب-۴۵ سانت از جدول د. یک متر از جلو-نیم متر از عقب-۴۰ سانت از جدول</p> <p>پاسخ صحیح: ج</p>

۲۹. تابلوی جاده باریک میشود کدام گزینه

است؟



الف.



ب.



ج.

پاسخ صحیح: ج

۳۰. تابلوی روبرو به چه معناست؟



الف. تقاطع جاده و راه آهن با راه بند نصب در ۳۰۰ متری

ب. تقاطع جاده و راه آهن نصب در ۳۰۰ متری

ج. تقاطع جاده و راه آهن بدون راه بند نصب در ۳۰۰ متری

پاسخ صحیح: الف



آزمون آیین نامه راهنمایی و رانندگی ایرانیان-تست درایو

سوالات آزمون آیین نامه شماره: ۱۳

www.test-drive.ir

۴. کدامیک از تابلو های زیر مفهوم پیچهای



پی در پی را می دهد؟

الف. شکل شماره ۲

ب. شکل شماره ۳

ج. شکل شماره ۱

د. شکل شماره ۴

پاسخ صحیح: ج

۱. رانندگی در شب مشکل تر از روز می باشد

زیرا

الف. عدم تشخیص به موقع موانع و عابرین پیاده

ب. محدود شدن میدان دید طبیعی

ج. عدم استفاده از آینه های جانبی

د. تمام موارد بالا

پاسخ صحیح: د

۵. تابلو زیر به چه معناست؟



الف. بن بست

ب. انتهای بزرگراه

ج. آزادراه

د. پایان آزادراه

پاسخ صحیح: د

۲. نداشتن برف پاک کن در موقع بارندگی

الف. در صورتی که سرعت باران کم باشد و جاده را ببینید مشکلی ندارد

ب. برای مسافت کوتاه می توان رانندگی کرد

ج. نقص فنی محسوب نمی گردد

د. نقص فنی محسوب می گردد

پاسخ صحیح: د

۶. مفهوم تابلو زیر چیست؟



الف. خط عبور برای گریز

ب. راه اصلی بن بست است

ج. خروجی از سمت چپ

د. بن بست

پاسخ صحیح: الف

۳. باد لاستیک چرخها را در چه زمانی باید

تنظیم کرد؟

الف. در زمان گرم بودن لاستیک

ب. در زمان سرد بودن لاستیک

ج. زمانی که مسافت طولانی را طی کردیم

د. در زمان سرد بودن هوا لاستیکها را نمی توان

تنظیم باد نمود

پاسخ صحیح: ب

۷. مفهوم تابلو زیر چیست؟



- الف. حداقل سرعت در خطهای عبور
- ب. ابتدای حداکثر در بزرگراه
- ج. حداکثر سرعت در خطهای عبور
- ج. هیچکدام

پاسخ صحیح: ج

پاسخ صحیح: د

۸. حواس پرتی در زمان رانندگی عامل مهمی در است؟

- الف. توجه به ترافیک شهری
- ب. توجه به پیچ جاده
- ج. فرامین پلیس
- د. تصمیم گیری به موقع

پاسخ صحیح: د

پاسخ صحیح: ج

۹. در جاده ماسه و شنی با سرعت ۶۰ کیلومتر در ساعت در حال رانندگی می باشید چند اتومبیل فاصله با اتومبیل جلویی باید حفظ گردد؟

- الف. ۱۰
- ب. ۸
- ج. ۶
- د. ۴

پاسخ صحیح: ب

۱۰. مهمترین عامل مشکلات زیست محیطی ...

و ناشی از ... می باشد.

- الف. گرمای هوا- ناشی از کارخانجات
- ب. صدای ناهنجار- ناشی از خودروها
- ج. آلودگی هوا- ناشی از کارخانه و دود بخاری های گرمایشی
- د. آلودگی هوا- ناشی از خودروها

پاسخ صحیح: د

۱۱. کاربرد خطوط شطرنجی به رنگ زرد و سیاه در تقاطع چیست؟

- الف. توقف و عبور روی آنها ممنوع است
- ب. نوعی خطر را هشدار می دهد و باید سرعت را کاهش داد
- ج. قبل خطوط شطرنجی توقف و مسیر حرکت خودروهای دیگر را باز نگه دارید
- د. سرعت خود را کاهش داده و با احتیاط عبور نمایید

پاسخ صحیح: ج

۱۲. مهمترین اعضای بدن در هنگام رانندگی کدام یک است؟

- الف. قلب
- ب. دست و پا
- ج. گوش
- د. چشم

پاسخ صحیح: د

۱۳. تابلوی زیر جزو تابلوهای و به معنی می باشد.



الف. جزو تابلوهای اخباری و به معنی سبقت از کامیون ممنوع می باشد.
ب. جزو تابلوهای اختاری و به معنی سبقت برای کامیون ممنوع می باشد.
ج. جزو تابلوهای انتظامی و به معنی سبقت برای کامیون ممنوع می باشد.
د. جزو تابلوهای انتظامی و به معنی سبقت برای کامیون مجاز می باشد.

پاسخ صحیح: ج

۱۵. مفهوم تابلو زیر چیست؟



الف. سرعت بیش از ۳۰ کیلومتر
ب. پایان حداقل سرعت ۳۰ کیلومتر در ساعت
ج. حداقل سرعت ۳۰ کیلومتر در ساعت
د. هیچکدام

پاسخ صحیح: ب

۱۴. در تابلو علائم عبور و مرور رنگ قرمز به معنی و تابلو مستطیل قائم معمولاً برای و استفاده می شود.

الف. رنگ قرمز برای راهنمای خدمات و تابلو مستطیل قائم برای علائم راهنما استفاده می شود
ب. رنگ قرمز برای مناطق اداری و آموزشی و تابلو مستطیل قائم برای علائم دستوری استفاده می شود
ج. رنگ قرمز منع کننده یا ایست و تابلو مستطیل قائم برای علائم دستوری و خدمات استفاده می شود
د. تمام موارد

پاسخ صحیح: ج

۱۶. برای تنظیم صندلی کدامیک از شرایط ذیل باید مهیا گردد؟

الف. میدان دید طبیعی شما تامین گردد
ب. تسلط کامل به فرمان گاز، کلاچ و ترمز پیدا نمود
ج. احساس راحتی و تسلط به اتومبیل را داشته باشید
د. تمام موارد

پاسخ صحیح: د

<p>۲۰. کدام تابلو به معنای ممنوع بودن عبور وسایل نقلیه موتوری است؟</p> <div style="display: flex; justify-content: space-around; align-items: center;"> <div style="text-align: center;">  <p>ب.</p> </div> <div style="text-align: center;">  <p>الف.</p> </div> </div> <div style="display: flex; justify-content: space-around; align-items: center;"> <div style="text-align: center;">  <p>د.</p> </div> <div style="text-align: center;">  <p>ج.</p> </div> </div> <p style="text-align: right; color: red;">پاسخ صحیح: ب</p>	<p>۱۷. تابلو مقابل به چه معناست؟</p> <div style="text-align: center;">  </div> <p>الف. راه یک طرفه ب. فقط عبور به راست مجاز است ج. خیابان یک طرفه د. فقط عبور مستقیم مجاز است</p> <p style="text-align: right; color: red;">پاسخ صحیح: ج</p>
<p>۲۱. کلاج گرفتن باعث کدامیک از موارد زیر می شود؟</p> <p>الف. کنترل راننده به حرکت و جهت اتومبیل کم می شود ب. کنترل راننده به حرکت و جهت اتومبیل بیشتر می شود ج. پیچیدن به طرفین و چرخاندن فرمان سخت تر می شود</p> <p style="text-align: right; color: red;">پاسخ صحیح: الف</p>	<p>۱۸. در کدامیک از موارد زیر نباید دنده عقب گرفت؟</p> <p>الف. برای مسافت های طولانی ب. دنده عقب به داخل یک خیابان فرعی ج. برای مسافتهایی که نمی شود پیاده طی کرد د. دنده عقب در مناطق مسکونی و شهری</p> <p style="text-align: right; color: red;">پاسخ صحیح: الف</p>
<p>۲۱. کلاج گرفتن باعث کدامیک از موارد زیر می شود؟</p> <p>الف. کنترل راننده به حرکت و جهت اتومبیل کم می شود ب. کنترل راننده به حرکت و جهت اتومبیل بیشتر می شود ج. پیچیدن به طرفین و چرخاندن فرمان سخت تر می شود</p> <p style="text-align: right; color: red;">پاسخ صحیح: الف</p>	<p>۱۹. چرا سبقت گرفتن از کامیون طویل (کشنده و یدک) خطرناکتر از سبقت گرفتن از یک اتومبیل معمولی است؟</p> <p>الف. کامیونها ممکن است کنار کشیده و توقف کنند ب. ترمزهای کامیونها به خوبی اتومبیلهای دیگر نیست ج. کامیونها با سرعت کمتری نسبت به وسایل دیگر از تپه ها بالا میروند د. کامیونها نسبت دیگر وسایل نقلیه کشیده تر هستند و سبقت گرفتن از آنها مسافت و زمان بیشتری را صرف میکند</p> <p style="text-align: right; color: red;">پاسخ صحیح: د</p>

۲۲. در مواقع طوفانی: در کدامیک از موارد زیر باید بیش از حد مراقب باشید؟

- الف. به هنگام عبور از کنار دوچرخه سواران و موتور سیکلت سواران
- ب. به هنگام سبقت
- ج. به هنگام استفاده از ترمزها
- د. به هنگام گردش

پاسخ صحیح: الف

۲۳. برای جاده خیس ترمز می کنید وسیله شما شروع به لغزش می کند اولین کاری که باید انجام دهید چیست؟

- الف. به سرعت ترمز دستی را بکشید
- ب. ترمز را کاملاً آزاد کنید
- ج. با شدت بیشتری بر ترمز فشار آورید
- د. پای خود را بر روی کلاچ بگذارید

پاسخ صحیح: ب

۲۴. تابلوی زیر چه خطری را هشدار می‌دهید؟



- الف. پارک
- ب. عبور اطفال
- ج. پلیس مدرسه
- د. عابر در حال عبور

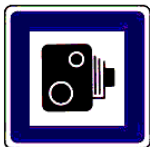
پاسخ صحیح: ب

۲۵. در حین رانندگی در صورت برخورد به موارد اضطراری کدامیک از اقدامات زیر را می بایست انجام داد؟

- الف. بلافاصله ترمز کرده و ماشین را به سمت کنار هدایت میکنیم
- ب. به اعصاب خود مسلط شده و با هر دو دست فرمان را میگیریم تا اتومبیل را به سمت کنار جاده هدایت کنیم
- ج. ترمز ناگهانی نگرفته و با نگه داشتن هر دو دست بر فرمان و ایمن گردش کرده و از جاده خارج می شویم
- د. بلافاصله راهنما زده و با کم کردن سرعت اتومبیل را به سمت راست هدایت می کنیم

پاسخ صحیح: ج

۲۶. مفهوم تابلو زیر را بگویید:



- الف. نظارت با دوربین پلیس
- ب. عکسبرداری ممنوع
- ج. کنترل تردد
- د. سینما

پاسخ صحیح: الف

۲۷. هنگام دنده عقب گرفتن اتومبیل به علتی
 قادر به دیدن پشت سر خود نیستید چکار
 باید بکنید؟

۲۹. در تصویر زیر به دنبال کامیون به تقاطع میرسید. کامیون با دادن علامت قصد گردش به راست را دارد. ولی به سمت چپ متمایل می شود چکار باید انجام داد.



الف. شیشه را پایین آورده پشت سر را نگاه کنید
ب. در را باز کرده و پشت سر را نگاه کنید
ج. از افرادی بخواهید که شما را کمک کنند و به شما فرمان بدهند
د. به آنه نگاه کنید

الف. کاملاً فاصله را در پشت سر او حفظ کرده و
فضا را برای گردش او آزاد می‌گذاریم
ب. جهت سبقت به او نزدیک می‌شوید
ج. تصور می‌کنید که علامت اشتباه است و قصد
گردش به چپ را دارد
د. وقتی کامیون سرعت را کم نمود از او سبقت می
گیریم

پاسخ صحیح: ج

۲۸. حق تقدم عبور عبارتند از:

الف. رعایت حقوق رانندگان دیگر
ب. اولویت عبور از چراغهای راهنما
ج. ترتیب عبور و مرور در ۴ راه ها

د. اولویت حق عبور و وسیله نقلیه ای که زودتر از وسایل نقلیه دیگر یا پیاده ها و بالعکس

پاسخ صحیح: د

ياسخ صحيح: الف

۳۰. معنی تابلو روبرو چیست؟



الف. پیچ به راست
ب. گردش به راست
ج. گردش به راست ممنوع

پاسخ صحیح: الف



آزمون آیین نامه راهنمایی و رانندگی ایرانیان-تست درایو

سوالات آزمون آیین نامه شماره: ۱۴

www.test-drive.ir

<p>۴. در علائم عبور و مرور تابلو مثلث متساوی الاضلاع (نشسته روی قاعده) به معنی؟</p> <p>الف. علامت دستوری و بازدارنده</p> <p>ب. علامت هشداردهنده برای خطر</p> <p>ج. صرفاً برای تابلو ایست</p> <p>د. تابلو ایست و خدمات</p> <p>پاسخ صحیح: ب</p>	<p>۱. رنگ تابلوهای راهنمای مسیر در بزرگراهها چیست؟</p> <p>الف. سبز</p> <p>ب. سبز و مشکی</p> <p>ج. زرد</p> <p>د. قرمز</p> <p>پاسخ صحیح: الف</p>
<p>۵. این تابلو به چه معناست؟</p>  <p>الف. عبور دوچرخه سوار</p> <p>ب. عبور دوچرخه ممنوع</p> <p>ج. دوچرخه سوار مجاز به عبور نیست</p> <p>د. دوچرخه سوار باید از دوچرخه پیاده شود</p> <p>پاسخ صحیح: الف</p>	<p>۲. چه عاملی می تواند خطر ناشی از آسیب دیدگی گردن در موقع تصادف را کاهش دهد</p> <p>الف. وجود پشتی مناسب پشت سر و تنظیم شده</p> <p>ب. کمربند</p> <p>ج. صندلی مجهز به بالشتک هوا</p> <p>د. ترمزهای ضد قفل</p> <p>پاسخ صحیح: الف</p>
<p>۳. حساس و تنظیم نبودن ترمز پائی جز، جرائم رانندگی می باشد؟</p> <p>الف. نقص جزئی می باشد</p> <p>ب. بلامانع است</p> <p>ج. نقص فنی نمی باشد</p> <p>د. نقص فنی محسوب می شود</p> <p>پاسخ صحیح: الف</p>	<p>پاسخ صحیح: د</p>

<p>۸. به هنگام رانندگی در شرایط یخبندان فرمان به راحتی می چرخد و چرخها به طرفین می پیچد علت آن چیست؟</p> <p>الف. چرخها اصطکاک مطلوبی با راه ندارند ب. چرخها با راه اصطکاک بهتری دارند ج. چرخها خیلی نرم هستند د. چرخها خیلی سفت هستند</p> <p>پاسخ صحیح: الف</p>	<p>۶. در خیابان شلوغ و پر ترافیک با سرعت مجاز در حال حرکت هستید. راننده اتومبیل پشت سر سعی می کند سبقت بگیرد، چه کاری باید انجام دهید؟</p> <p>الف. به اتومبیل جلوئی نزدیک می شوید تا راننده ی جلویی نتواند سبقت بگیرد ب. با دست به راننده پشت سر علامت می دهید زمانی که خطری نیست سبقت بگیرد ج. بر سرعت خود اضافه میکنید تا اینکه راننده پشت سر فاصله بگیرد د. مسیر صحیح و مستقیم خود را ادامه دهید تا راننده مذکور سبقت بگیرد</p> <p>پاسخ صحیح: د</p>
<p>۹. در شرایط یخبندان چگونه می توانید از لغزش چرخهای اتومبیل جلوگیری کنید؟</p> <p>الف. اگر چرخها شروع به لغزندگی کرد از ترمز دستی استفاده کنید ب. با سرعت کمتر و با دنده سنگین حرکت کنید ج. در تمامی مواقع از دنده یک استفاده کنید د. به دفعات بیشتر و به آرامی ترمز کنید</p> <p>پاسخ صحیح: ب</p>	<p>۷. بر روی یک راه لغزنده قسمت عقب اتومبیل شما به سمت راست می لغزد چکار باید انجام دهید؟</p> <p>الف. از کلاچ و ترمز به طور همزمان استفاده کنید ب. ترمز کنید و فرمان را بچرخانید ج. با دقت و مراقبت فرمان را به سمت چپ بچرخانید د. با دقت و مراقبت فرمان را به سمت راست بچرخانید</p> <p>پاسخ صحیح: د</p>

<p>۱۲. کدامیک از تابلوهای زیر به معنای جریان همگرا است؟</p> <div style="display: flex; justify-content: space-around; align-items: center;"> <div style="text-align: center;">  <p>الف.</p> </div> <div style="text-align: center;">  <p>ب.</p> </div> </div> <div style="display: flex; justify-content: space-around; align-items: center;"> <div style="text-align: center;">  <p>د.</p> </div> <div style="text-align: center;">  <p>ج.</p> </div> </div> <p style="text-align: center; color: red;">پاسخ صحیح: الف</p>	<p>۱۰. در شرایط جاده خیس و یخبندان در حال رانندگی هستید کدام مورد باید هنگام نزدیک شدن به پیچ تند رعایت شود؟</p> <p>الف. هنگام رسیدن به پیچ با سرعت بیشتری برانید</p> <p>ب. قبل رسیدن به پیچ از سرعت خود بکاهید و تا حد امکان با دنده سنگین حرکت کنید</p> <p>ج. به آرامی ترمز دستی را بکشید</p> <p>د. در تمامی مدت کلاچ را پایین نگه دارید</p> <p style="text-align: right; color: red;">پاسخ صحیح: ب</p>
<p>۱۳. هنگامیکه از نزدیکی مدرسه ای عبور میکنید احتمال عبور کودکان وجود دارد چه اقدامی انجام میدهید؟</p> <p>الف. با روشن کردن چراغ به آنها هشدار میدهید</p> <p>ب. همیشه سرعتی مناسب داشته باشید پیش بینی خطرات جانبی را بمائید</p> <p>ج. قبل ورود کودکان به سواره رو با سرعت از منطقه عبور می کنید</p> <p>د. با بوق زدن مداوم آنان را از عبور خود آگاه سازید</p> <p style="text-align: center; color: red;">پاسخ صحیح: ب</p>	<p>۱۱. قصد وارد شدن به خیابان فرعی را دارید افراد پیاده شروع به عبور از یک سوی خیابان به سوی دیگر کرده اند چکار باید انجام دهید؟</p> <p>الف. توقف کرده و به آنان اجازه عبور دهید</p> <p>ب. با دست اشاره کنید تا عبور کنند</p> <p>ج. بوق زده و عبور کنید</p> <p>د. به حرکت ادامه داده و با فاصله ی زیادی از مقابل آنها عبور کنید</p> <p style="text-align: right; color: red;">پاسخ صحیح: الف</p>

<p>۱۷. در شکل روبرو حق تقدم با کدام وسیله است؟</p>  <p>الف. قرمز ب. سفید ج. مشکی د. همه با هم</p> <p>پاسخ صحیح: ج</p>	<p>۱۴. علامت زیر که در آزادراهها نصب میگردد به چه معناست؟</p>  <p>الف. فاصله شما تا پل نشان می دهد ب. فاصله تا تلفن بعدی را نشان می دهد ج. فاصله شما را تا خروجی بعدی نشان میدهد د. نشان دهنده محل بازرسی پلیس</p> <p>پاسخ صحیح: ج</p>
<p>۱۸. رنگ تابلو در بزرگراهها و آزادراهها به ترتیب ...</p> <p>الف. سبز و آبی ب. قرمز و آبی ج. سبز و قرمز د. قرمز و نارنجی</p> <p>پاسخ صحیح: الف</p>	<p>۱۵. در یک منطقه مسکونی به یک سرعت گیر نزدیک میشوید شما باید ...</p> <p>الف. با همان سرعت به حرکت خود ادامه دهید ب. از قسمت چپ جاده عبور کنید ج. به سرعت خود بیاورید د. سریعاً سرعت خود را کاهش دهید</p> <p>پاسخ صحیح: د</p>
<p>۱۹. روشن بودن چراغ زرد به چه معناست؟</p> <p>الف. آماده ادامه مسیر باشید ب. در پشت خط بایستید ج. اگر افراد پیاده ای در حال عبور نباشند ادامه مسیر دهید د. اگر راه باز باشد ادامه مسیر دهید</p> <p>پاسخ صحیح: ب</p>	<p>۱۶. حساس و میزان نبودن ترمز پایی جزء جرائم رانندگی می باشد</p> <p>الف. یک نقص جزئی است ب. بلامانع است ج. نقص فنی نمی باشد د. نقص فنی محسوب می گردد</p> <p>پاسخ صحیح: د</p>

<p>۲۳. مفهوم تابلوی زیر چیست؟</p>  <p>الف. به ایستگاه نزدیک می شوید ب. توقف در ایستگاه اتوبوس ممنوع ج. ایستگاه د. ایستگاه اتوبوس</p> <p>پاسخ صحیح: د</p>	<p>۲۰. بهترین نوع دور زدن در خیابان های کم عرض ...</p> <p>الف. دور یک فرمان ب. حرکت با دنده عقب ج. دور دو فرمان د. هیچکدام</p> <p>پاسخ صحیح: ج</p>
<p>۲۴. در صورتی که فاصله شما تا اتومبیل جلویی در شب ۵۰ متر باشد باید از</p> <p>الف. نور بالا استفاده کرد ب. نور پایین استفاده کرد ج. چراغ ها را خاموش کرد د. از نور بالا و پایین استفاده کرد</p> <p>پاسخ صحیح: ب</p>	<p>۲۱. مفهوم تابلوهای زیر چیست؟</p>  <p>الف. تقاطع جاده و راه آهن بدون راه بند، نصب در ۳۰۰ متری ب. تعیین فاصله ۳۰۰ متری با راه بند ج. تقاطع جاده و راه آهن با راه بند، نصب در ۳۰۰ متری د. ۱۰۰ متر مانده به راه آهن</p> <p>پاسخ صحیح: ج</p>
<p>۲۵. کدام گزینه ناصحیح است؟</p> <p>الف. سبقت گرفتن در تونل ها بلامانع است ب. در تقاطع ها سبقت گرفتن ممنوع است ج. در سر پیچ های تند و سربالایی ها دور زدن ممنوع است د. سبقت از وسیله ای که خود در حال سبقت گرفتن است ممنوع است</p> <p>پاسخ صحیح: الف</p>	<p>۲۲. پس از سبقت چه زمانی می بایست به خط اولیه بازگشت؟</p> <p>الف. وقتی به اتومبیل مقابل نزدیک می شوید ب. هنگامی که از اتومبیلی که از آن سبقت گرفتید گذشته باشید ج. پس از زدن راهنما و اطمینان از عبور اتومبیل کناری د. زمانی که چراغ های بزرگ اتومبیلی را که از آن سبقت گرفته اید در آینه داخل اتومبیل مشاهده کنید</p> <p>پاسخ صحیح: د</p>



۲۹. مفهوم تابلوی زیر چیست؟

الف. زیرگذر یا روگذر

ب. راهروی مخصوص عابرین

ج. پل هوایی و تونل زیر گذر پیاده

د. مسیر مخصوص عابرین پیاده

پاسخ صحیح: الف

۲۶. راننده اتومبیلی که به گذرگاه هم سطح

راه آهن می رسد چه کار باید انجام دهد

الف. با سرعت عبور کند

ب. با دقت و مراقبت عبور کند

ج. قبل از مانع توقف کند

د. چراغ های خطر را روشن کند

پاسخ صحیح: ج



۳۰. مفهوم تابلوی زیر چیست؟

الف. تقاطع با راه آهن دو خط

ب. تقاطع دو خط آهن با یکدیگر

ج. تقاطع مانع با راه آهن

د. تقاطع با راه آهن

پاسخ صحیح: الف

۲۷. کدام گزینه ناصحیح است؟

الف. حداقل سرعت در آزادراهها ۷۰ کیلومتر در

ساعت و حداکثر ۱۲۰ کیلومتر برای سواری و وانت

ب. حداکثر سرعت در جاده های اصلی ۹۵ کیلومتر

در ساعت در روز

ج. حداکثر سرعت در جاده های اصلی ۸۵ کیلومتر

در ساعت در شب

د. حداکثر سرعت در جاده های فرعی ۷۵ کیلومتر

در ساعت در روز

پاسخ صحیح: د



۲۸. مفهوم تابلوی زیر چیست؟

الف. رعایت حق تقدم

ب. خطر کولاک و مه

ج. خطر

د. علامت تعجب

پاسخ صحیح: ج



آزمون آیین نامه راهنمایی و رانندگی ایرانیان-تست درایو

سوالات آزمون آیین نامه شماره: ۱۵

www.test-drive.ir

۳. شما موقعی می توانید شروع به حرکت کنید که:

- الف. بعد از حرکت اقدام به بستن کمربند نمایید
- ب. از بسته شدن کمربند ایمنی خود و سایر سرنشینان اطمینان حاصل نمایید
- ج. از بسته شدن کمربند ایمنی خود اطمینان حاصل کنید
- د. از بسته شدن کمربند ایمنی سرنشینان اطمینان حاصل نمایید

پاسخ صحیح: ب

۱. تاثیرات مواد مخدر چیست؟

- الف. اعتنا نکردن به قوانین رانندگی و فرامین پلیس
- ب. افزایش اعتماد به نفس کاذب- کاهش هوشیاری
- ج. بر هم زدن نظم رانندگی
- د. عدم کنترل راننده در شرایط ضروری

پاسخ صحیح: ب

۴. در صورت ایجاد نقص فنی تابلو احتیاط را در فاصله متری در جاده و یا اگر بزرگراه می باشید در فاصله متری قرار دهید.

- الف. جاده ۸۰ بزرگراه ۱۵۰
- ب. جاده ۷۰ بزرگراه ۱۳۰
- ج. جاده ۱۵۰ بزرگراه ۷۰
- د. جاده ۷۰ بزرگراه ۱۵۰

پاسخ صحیح: د

۲. برای استفاده از ترمز در حین رانندگی بهتر است

- الف. تمام کف پا روی پدال ترمز قرار دهید
- ب. پاشنه پا روی کف اتومبیل گذاشته و با پنجه پدال ترمز را فشار دهید
- ج. با کف پا ترمز را به آهستگی فشار داده و همزمان کلاچ را بگیرید
- د. پاها همواره برای ترمز گرفتن باشد

پاسخ صحیح: ب

<p>۷. پوشیدن کفش مناسب به هنگام رانندگی بسیار اهمیت دارد. علت این امر چیست؟</p> <p>الف. به منظور حفظ کنترل صحیح برروی پدالها ب. به منظور راحتی پیاده روی در مواقع نقص اتومبیل ج. به منظور ممانعت از ساییدگی سطح لاستیک پدالها د. به منظور تعویض سریع دنده</p> <p>پاسخ صحیح: الف</p>	<p>۵. در هنگام شب رانندگی می کنید و نور بالای چراغ اتومبیلهایی که از روبرو می آیند چشم های شما را خیره می کند چکار باید انجام دهید؟</p> <p>الف. به طور مستقیم به نور چراغ اتومبیل روبرو نگاه کنید و از نگاه کردن به سمت راست خودداری کنید ب. به طور مستقیم به نور چراغ روبرو نگاه نکنید و سمت راست راه را نگاه کنید و از گوشه چشم به اتومبیل روبرو توجه کنید ج. نور بالای اتومبیل را روشن کنید و به وسیله نقلیه مقابل توجه نکنید.</p> <p>پاسخ صحیح: ب</p>
<p>۸. برای روشن کردن اتومبیل اولین کاری که باید انجام شود چیست؟</p> <p>الف. گرفتن کلاچ با پای چپ ب. تنظیم آینه ها و خلاص کردن دنده و روشن کردن ج. ترمز گرفتن د. خلاص کردن دنده تنظیم صندلی بستن کمربند روشن کردن</p> <p>پاسخ صحیح: الف</p>	<p>۶. هنگامیکه قصد دارید از یک وسیله نقلیه طویل که آهسته حرکت می کند در یک جاده شلوغ سبقت بگیرید چکار باید انجام دهید؟</p> <p>الف. با فاصله کمی پشت وسیله حرکن کنید تا بتوانید بلافاصله سبقت بگیرید ب. چراغ های بزرگ را برای وسیله نقلیه ای که از روبرو می آیند روشن کنید تا اجازه دهند که عبور کنید ج. در پشت وسیله منتظر بمانید تا راننده به شما اشاره کند که عبور کنید د. با فاصله کافی پشت وسیله نقلیه حرکت کنید تا بتوانید قسمت جلویی وسیله مذکور را ببینید تا زمان مناسب و ایمن برای سبقت فراهم شود</p> <p>پاسخ صحیح: د</p>

<p>۱۲. تابلوهای به شکل دایره با نوار حاشیه قرمز از کدام دسته تابلوها هستند؟</p> <p>الف. بازدارنده یا انتظامی ب. هشداردهنده یا خطاری ج. آگاهی دهنده یا اخباری</p> <p>پاسخ صحیح: الف</p>	<p>۹. زمانیکه رانندگان چراغهای بزرگ را روشن و خاموش می کنند برای شما به چه معناست؟</p> <p>الف. به شما حق تقدم می دهند ب. شما را از وجود خود مطلع می کنند ج. به شما اطلاع می دهند که وسیله شما دارای نقص و اشکال است د. به شما اطلاع می دهند که گشت پلیس در جاده حضور دارد</p> <p>پاسخ صحیح: ب</p>
<p>۱۳. در راه بدون جدول کناری و پارک در سربالایی</p> <p>الف. باید فرمان به چپ (خلاف عقربه ساعت) چرخانده شود ب. باید فرمان به راست (موافق جهت عقربه ساعت) چرخانده شود ج. فرمان مستقیم نگه داشته شود د. الف و ج صحیح است</p> <p>پاسخ صحیح: ب</p>	<p>۱۰. در وضعیت راه خشک و هوای خوب فاصله بین شما و اتومبیل جلویی می باشد</p> <p>الف. یک ثانیه ب. دو ثانیه ج. سه ثانیه د. چهار ثانیه</p> <p>پاسخ صحیح: ب</p>
<p>۱۴. در حریم تابلوی ایستادن ممنوع</p> <p>الف. فقط برای پیاده و سوار کردن مسافر، توقف بلامانع است ب. برای یک لحظه هم توقف نمی کنید ج. به هیچ وجه پارک نمی شود کرد ولی می شود توقف کرد د. بستگی به موقعیت دارد</p> <p>پاسخ صحیح: ب</p>	<p>۱۱. قصد دارید تا منزل رانندگی کنید عینک خود را جهت رانندگی لازم دارید پیدا نمی کنید چه اقدامی می بایست انجام دهید؟</p> <p>الف. به هنگام شب رانندگی کنید تا اینکه نور معابر به شما کمک نماید ب. از مسیرهای خلوت به آرامی برانید ج. باید به طریقی به منزل بروید که به رانندگی نیاز نباشد د. از عینک یکی از دوستان استفاده کرده تا منزل رانندگی کنید</p> <p>پاسخ صحیح: ج</p>

۱۵. چه عاملی می تواند میزان خطر ناشی از آسیب دیدگی گردن را در موقع تصادف کمتر کند؟

الف. وجود پشت سری

ب. کمربند

ج. صندلی مجهز به بالشتک هوا

د. ترمز ضدقفل

پاسخ صحیح: الف

۱۶. در چه فاصله ای از تقاطع ها دور زدن ممنوع بوده و حداکثر سرعت در جاده های اصلی در شب چقدر است؟

الف. ۸۵-۱۵۰

ب. ۹۵-۱۵۰

ج. ۸۵-۱۵۰

د. ۹۰-۱۲۰

پاسخ صحیح: الف

۱۸. کدامیک از تابلوهای زیر به معنی (محدوده توقف ممنوع در طول شبانه روز) می باشد



الف.



ب.



ج.

د. هیچکدام

پاسخ صحیح: الف

۱۹. راننده قبل حرکت اتومبیل موظف است ...

الف. از داشتن بنزین مطمئن شود

ب. از بسته بودن کمربند ایمنی خود و دیگر

سرنشینان مطمئن گردد

ج. آب و روغن ماشین را کنترل نماید

د. ترمزهای خود را کنترل نماید

پاسخ صحیح: ب

۱۷. تابلوی روبرو به چه معناست؟



الف. عبور با ارتفاع بیش از دو متر ممنوع

ب. عبور با عرض بیش از دو متر ممنوع

ج. عبور با عرض بیش از دو متر مجاز

د. عبور با ارتفاع بیش از دو متر مجاز

پاسخ صحیح: ب

<p>۲۲. حداکثر سرعت مجاز انواع سواری ها و اتوبوسها در آزادراهها به ترتیب کدام گزینه است؟</p> <p>الف. سواری ۱۲۰- اتوبوس ۱۱۰ ب. سواری ۱۱۰- اتوبوس ۱۲۰ ج. اتوبوس ۸۵- سواری ۱۱۰ د. اتوبوس ۱۲۰- سواری ۹۵</p> <p>پاسخ صحیح: الف</p>	<p>۲۰. قوانین و راهنمای در جاده به چه طریقی به راننده اطلاع داده می شود؟</p> <p>الف. تابلو ب. علائم ج. رنگ خطوط د. گزینه الف و ب</p> <p>پاسخ صحیح: د</p>
<p>۲۳. وجود تابلویی به شکل زیر در جاده به چه معناست؟</p>  <p>الف. تنها باید با سرعت مشخص شده در تابلو رانندگی کنید ب. سرعت مذکور حداقل سرعتی است که توصیه می شود ج. نباید از سرعت نشان داده شده در تابلو تجاوز کنید د. سرعت مذکور برای شرایط مختلف جاده و آب و هواست</p> <p>پاسخ صحیح: ج</p>	<p>۲۱. کدام گزینه صحیح است؟</p> <p>الف. سبقت گرفتن در تونلها با رعایت نکات ایمنی بلامانع است ب. سبقت گرفتن برای اتوبوسها در معابر شهری ممنوع نیست ج. در سر پیچهای تند و سر بالایی ها دور زدن ممنوع است د. سبقت از وسیله ای که خود در حال سبقت گرفتن است ممنوع نیست</p> <p>پاسخ صحیح: ج</p>

<p>۲۷. سبقت گرفتن در پیچهای تند و سر بالایی ها چه مورد قانونی را شامل می شود؟</p> <p>الف. ممنوع است</p> <p>ب. ضروری است</p> <p>ج. با احتیاط کامل میتوان سبقت گرفت</p> <p>د. بلامانع است</p> <p>پاسخ صحیح: الف</p>	<p>۲۴. مفهوم تابلو زیر چیست؟</p>  <p>الف. خطر پل متحرک</p> <p>ب. خطر سقوط در دریا</p> <p>ج. خطر سقوط</p> <p>د. خطر سقوط در آب</p> <p>پاسخ صحیح: د</p>
<p>۲۸. در حال رانندگی در جاده خیس به دنبال اتومبیلی دیگر فاصله زمانی ایمن از اتومبیل جلویی چقدر باید باشد؟</p> <p>الف. ۸ ثانیه</p> <p>ب. ۶ ثانیه</p> <p>ج. ۴ ثانیه</p> <p>د. ۲ ثانیه</p> <p>پاسخ صحیح: ج</p>	<p>۲۵. برای جلوگیری از لغزندگی اتومبیل در شرایط یخبندان چه تمهیداتی لازم است؟</p> <p>الف. اگر چرخها شروع به لغزندگی کرد از ترمز دستی استفاده کنید</p> <p>ب. در تمامی مواقع از دنده یک استفاده کنید</p> <p>ج. با سرعت کمتر و با دنده سنگین حرکت کنید</p> <p>د. به دفعات بیشتر و به آرامی ترمز کنید</p> <p>پاسخ صحیح: ج</p>
<p>۲۹. وقتی در حین رانندگی حواس شما متوجه چیزهای دیگر باشد اینکار:</p> <p>الف. تصمیم سریع و عکس العمل به موقع را از شما خواهد گرفت</p> <p>ب. قادر به تصمیم گیری نخواهید بود</p> <p>ج. عکس العملی از خودتان نشان نخواهید داد</p> <p>د. ممکن است مسیر خود را اشتباه بروید</p> <p>پاسخ صحیح: الف</p>	<p>۲۶. چه چیز موجب بهم ریختن تمرکز شما در رانندگی خواهد شد؟</p> <p>الف. نگاه کردن به اطراف اتومبیل</p> <p>ب. نگاه کردن به آینه اتومبیل</p> <p>ج. استفاده از شیشه شور اتومبیل</p> <p>د. نگاه کردن به نقشه گوش کردن به موزیک با صدای بلند و استفاده از تلفن همراه</p> <p>پاسخ صحیح: د</p>

	<p>۳۰. آمادگی در رانندگی شامل چه مواردی است؟</p> <p>الف. خطایی دیگران را پیش بینی کردن</p> <p>ب. مشاهده پیش بینی، تمرکز، آگاهی، عدم حواس پرتی</p> <p>ج. مهارت در رانندگی</p> <p>د. آگاهی داشتن از وضعیت رانندگی دیگران</p> <p>پاسخ صحیح: ب</p>



آزمون آیین نامه راهنمایی و رانندگی ایرانیان-تست درایو

سوالات آزمون آیین نامه شماره: ۱۶

www.test-drive.ir

۳. در چهاراهی با میدان دید کم در حال حرکت هستید چکار باید انجام دهید؟
الف. بدون توجه به طرفین به حرکت ادامه دهید
ب. در حالیکه طرف راست را نگاه می کنید کاملاً آهسته حرکت کنید
ج. در حالیکه طرفین را نگاه می کنید به آهستگی حرکت کنید
د. آماده باشید که به سرعت حرکت کنید

پاسخ صحیح: ج

۱. قفل‌های خاص کودکان که در وسیله نقلیه نصب می شود برای چه منظوری است؟
الف. جهت قفل کردن پنجره های درب عقب
ب. برای اینکه کودکان بطور نا خواسته درب عقب اتومبیل را باز نکنند
ج. جهت ممانعت از حرکت صندلی های عقب
د. جهت قفل کردن سگ کمر بند ایمنی

پاسخ صحیح: ب

۴. وسیله نقلیه ای که در مسیر مجاز در حال حرکت است حق تقدم عبور دارد بر

الف. وسیله نقلیه در حال جلو رفتن(عقب، جلو کردن)
ب. وسیله نقلیه در حال دور زدن
ج. وسیله نقلیه در حال توقف یا در حال شروع حرکت
د. هر سه موارد صحیح است

پاسخ صحیح: د

۲. حق تقدم عبور در تصویر مقابل با کدام است؟



الف. همه حق تقدم عبور یکسان دارند
ب. اتومبیل سفید شماره ۲
ج. اتومبیل سیاه رنگ
د. اتومبیل سفید شماره ۱

پاسخ صحیح: ج

<p>۸. کدامیک از گزینه های زیر درست می باشد؟</p> <p>الف. رنگ نارنجی در علائم عبور و مرور به معنی راهنما برای مناطق تفریحی و فرهنگی می باشد</p> <p>ب. تابلوی ایست از تابلوهای اختیاری می باشد</p> <p>ج. مابین شما و اتومبیل جلویی باید یک فاصله زمانی ۲ ثانیه ای وجود داشته باشد</p> <p>د. در سراسیمی در صورت پایین نگه داشتن کلاج و خلاص بودن دنده سرعت اتومبیل افزایش نمی یابد</p> <p>پاسخ صحیح: ج</p>	<p>۵. در صورتیکه فاصله شما تا اتومبیل جلویی در شب ۵۰ متر باشد باید از ...</p> <p>الف. نور بالا استفاده کرد</p> <p>ب. نور پایین استفاده کرد</p> <p>ج. چراغها را خاموش کرد</p> <p>د. از نور بالا و پایین استفاده کرد</p> <p>پاسخ صحیح: ب</p>
<p>۹. خطوط زیگزاگ به رنگ زرد در حاشیه راههای متصل به پیاده رو به چه معناست؟</p> <p>الف. ایستادن روی آنها آزاد است</p> <p>ب. عبور کردن و ایستادن روی آنها در شرایط اضطراری آزاد است</p> <p>ج. توقف اتومبیل روی آنها بلامانع است</p> <p>د. عبور کردن و ایستادن روی آنها ممنوع است</p> <p>پاسخ صحیح: د</p>	<p>۶. راننده اتومبیل که به گذرگاه هم سطح راه آهن میرسد چه کار باید بکند؟</p> <p>الف. با سرعت عبور کند</p> <p>ب. با دقت و مراقبت عبور کند</p> <p>ج. قبل از مانع عبور کرد</p> <p>د. چراغهای خطر را روشن کرد</p> <p>پاسخ صحیح: ج</p>
<p>۱۰. در خیابان یک طرفه باید در کدام سمت اتومبیل را پارک کرد؟</p> <p>الف. در خیابان یک طرفه نمی توان پارک کرد</p> <p>ب. چپ</p> <p>ج. در هر دو طرف پارک شود مانعی ندارد</p> <p>د. راست</p> <p>پاسخ صحیح: د</p>	<p>۷. کدام گزینه ناصحیح است؟</p> <p>الف. حداقل سرعت در آزادراه ۷۰ کیلومتر و حداکثر ۱۲۰ کیلومتر در ساعت برای سواری و وانت</p> <p>ب. حداکثر سرعت در جاده های اصلی ۹۵ کیلومتر در روز</p> <p>ج. حداکثر سرعت در جاده های اصلی ۸۵ کیلومتر در شب</p> <p>د. حداکثر سرعت در جاده های فرعی ۷۵ کیلومتر در روز</p> <p>پاسخ صحیح: د</p>

<p>۱۴. حداکثر میزان سرعت در خیابانهای شریانی اصلی چند کیلومتر در ساعت است؟</p> <p>الف. ۵۰ ب. ۶۰ ج. ۳۰ د. ۷۰</p> <p>پاسخ صحیح: ب</p>	<p>۱۱. تابلوی دستوری و خدماتی در علائم عبور و مرور به چه شکل نشان داده می شود؟</p> <p>الف. مستطیل قائم ب. مستطیل افقی ج. مستطیل پرچمی د. لوزی</p> <p>پاسخ صحیح: الف</p>
<p>۱۵. هر باری که بر روی باربند سقف اتومبیل حمل می شوید باید؟</p> <p>الف. تا حد امکان سبک باشد ب. محکم بسته شود ج. با یک پوشش پلاستیکی پوشیده شود د. زمانیکه نیاز باشد حمل شود</p> <p>پاسخ صحیح: ب</p>	<p>۱۲. در علائم عبور و مرور راهنما برای مناطق تفریحی و فرهنگی و گردشگری به چه رنگی مشخص شده است؟</p> <p>الف. نارنجی ب. زرد ج. قهوه ای د. سبز</p> <p>پاسخ صحیح: ج</p>
<p>۱۶. کدامیک از خطوطه زیر در طول راه کشیده می شود؟</p> <p>الف. خطوط توقف ب. خطوط ایست ج. خطوط زیگزال د. موارد الف و ب</p> <p>پاسخ صحیح: ج</p>	<p>۱۳. تابلو به معنای فقط گردش به راست مجاز می باشد به چه شکل نمایش داده میشود؟</p> <p>الف. دایره شکل با زمینه قرمز ب. مثلث شکل با زمینه قرمز ج. دایره شکل با زمینه آبی د. دایره شکل با زمینه سفید</p> <p>پاسخ صحیح: ج</p>

<p>۲۰. شما چه زمانی چراغ هشداردهنده خطر را روشن می نمایید؟</p> <p>الف. زمانی که در آب و هوای بد رانندگی می کنید</p> <p>ب. زمانی که یک اتومبیل دارای نقص فنی را بکسل می کنید</p> <p>ج. زمانی که در محل نا مناسب پارک کرده اید</p> <p>د. زمانی که شما نمی توانید از توقف اجباری اجتناب کنید</p> <p>پاسخ صحیح: د</p>	<p>۱۷. برای علامت دادن به منظوره گردش به راست در صورتیکه راهنمای شما خراب باشد دست خود را به کدام حالت باید جهت اطلاع سایر رانندگان حرکت دهید؟</p> <p>الف. دست چپ خود را از آرنج به طرفه بالا خم کنید و به طور عمودی نگه دارید</p> <p>ب. دسته چپ خود را به صورت افقی قرار دهید</p> <p>ج. دست چپ خود را از بالا به پایین حرکت دهید</p> <p>د. دست خود را بیرون برده و بالا پایین میبرید</p> <p>پاسخ صحیح: الف</p>
<p>۲۱. در آزادراهی لاستیک اتومبیل شما پنچر میشود چه کار می کنید؟</p> <p>الف. در همان محل توقف می کنید</p> <p>ب. به آرامی در خط عبور توقف کرده و چرخ را هر چه سریعتر عوض می کنید</p> <p>ج. در خط توقف اضطراری توقف اضطراری توقف می کنید</p> <p>د. چراغهای خطر را روشن می کنید و در باند خودتان متوقف می شوید</p> <p>پاسخ صحیح: ج</p>	<p>۱۸. رانندگان وسیله نقلیه با دیدن چراغ چشمک زدن زرد در تقاطع و گذرگاه پیاده چه عملی را باید انجام دهند؟</p> <p>الف. باید توقف نموده و پس از اطمینان از نبودن چطور تصادف عبور نمایند</p> <p>ب. با احتیاط و سرعت کم عبور نمایند</p> <p>ج. توقف کامل نمایند در صورت نبودن خط ایست در فاصله ۵ متری چراغ راهنمایی و رانندگی بایستند</p> <p>د. موارد الف و ج</p> <p>پاسخ صحیح: ب</p>
<p>۲۲. قانون و مقررات اولیه در هنگام حرکت کردن منتها الیه سمت می باشد مگر برای گرفتن.</p> <p>الف. چپ - سبقت</p> <p>ب. راست - سبقت</p> <p>ج. چپ - سبقت</p> <p>د. راست - علامت دادن به راننده پشت سر</p> <p>پاسخ صحیح: ب</p>	<p>۱۹. تابلو به شکل مثلث به معنای تقاطع از کدام نوع تابلوها است؟</p> <p>الف. هشدار دهنده یا خطاری</p> <p>ب. بازدارنده یا انتظامی</p> <p>ج. آگاهی دهنده یا اخباری</p> <p>د. محلی</p> <p>پاسخ صحیح: الف</p>

۲۳. فاصله زمانی ۲ ثانیه بین شما و وسیله

نقلیه جلویی چه وقتی مناسب است؟

الف. هوا ابری و بارانی در حال بارش

ب. هوا برفی و در حال بارش

ج. هوا آفتابی و راه خشک

د. زمین لیز و لغزنده باشد

پاسخ صحیح: ج

۲۶. اگر باد لاستیک زیاد باشد چه خطرهایی

به دنبال دارد؟

الف. کشیده شدن به یک سمت

ب. کوبش

ج. خطر ترکیدن

د. تمام موارد

پاسخ صحیح: د

۲۴. تابلو روبرو به چه معناست؟

الف. پارکینگ

ب. مترو

ج. پارک سوار

د. محدوده پارک



پاسخ صحیح: ج

۲۷. در ۳ راه تا چه فاصله ای توقف ممنوع می

باشد؟

الف. ۲۰ متری

ب. ۱۰ متری

ج. ۱۵ متری

د. ۵ متری

پاسخ صحیح: ج

۲۵. مفهوم تابلو روبرو چیست؟



الف. کاهش خطوط عبور

ب. افزایش خطوط عبور

ج. بسته بودن یکی از خطوط عبور

د. خط عبور برای گریز

پاسخ صحیح: الف

۲۸. حق تقدم در شکل روبرو به ترتیب با

کدام اتومبیل است



الف. آبی زرد قرمز

ب. آبی قرمز زرد

ج. قرمز آبی زرد

د. زرد قرمز آبی

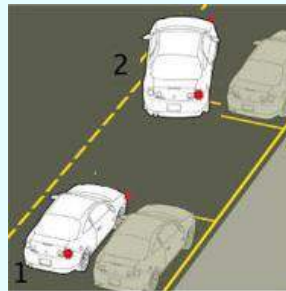
پاسخ صحیح: الف

۳۰. کدامیک از علائم زیر بر فرمان پلیس
مقدم میباشد؟

- الف. چراغ راهنما
- ب. تابلوهای بازدارنده
- ج. خط کشی زوج
- د. هیچ کدام

پاسخ صحیح: د

۲۹. حق تقدم در شکل روبرو برای کدام
اتومبیل می باشد؟



- الف. ۱
- ب. ۲
- ج. کسی که زودتر شروع به پارک نموده
- د. اتومبیل ۳ (که ۵ دقیقه دیگر می رسد)

پاسخ صحیح: ب



آزمون آیین نامه راهنمایی و رانندگی ایرانیان-تست درایو

سوالات آزمون آیین نامه شماره: ۱۷

www.test-drive.ir

<p>۱. تابلوی پنج ضلعی با راس فوقانی به چه منظور است؟</p> <p>الف. ایست</p> <p>ب. حاشیه و جهت نما به راست</p> <p>ج. مدرسه</p> <p>د. رعایت حق تقدم</p> <p>پاسخ صحیح: ج</p>	<p>۴. سطح روغن در چه بازه زمانی باید بازدید گردد؟</p> <p>الف. هر ماه</p> <p>ب. هر روز</p> <p>ج. هر هفته</p> <p>د. ۲ روز یک بار</p> <p>پاسخ صحیح: ج</p>
<p>۲. در هنگام پارک خودرو کنار خیابان به چه نکاتی باید توجه کرد؟</p> <p>الف. به اندازه و وزن خودرو</p> <p>ب. به عرض خیابان</p> <p>ج. مانع استفاده سایر استفاده کنندگان نباشید</p> <p>د. هیچکدام</p> <p>پاسخ صحیح: ج</p>	<p>۵. رفتارهای نابهنجار ترافیکی همچون تخلفات، تصادفات، حرکات مارپیچ، سبقت های غیر مجاز باعث چه مشکلی میگردند؟</p> <p>الف. پرخاشگری اجتماعی و ترافیکی</p> <p>ب. مشکلات روحی و روانی</p> <p>ج. مشکلات ترافیک و شخصیتی</p> <p>د. ایجاد آلودگی صوتی و آلودگی هوا</p> <p>پاسخ صحیح: الف</p>
<p>۳. آلودگی دیداری به چه معناست؟</p> <p>الف. هوای مه آلود</p> <p>ب. تاثیر عینی نامطلوب ناشی از تردد وسایل نقلیه</p> <p>ج. تاثیرات مخرب گازهای خروجی از وسایل نقلیه</p> <p>د. تاثیر بر میزان دید راننده</p> <p>پاسخ صحیح: ب</p>	<p>۶. عوامل موثر برای اجرای قوانین و ایجاد روش های صحیح رانندگی چه مواردی می باشد؟</p> <p>الف. اجتناب از زمان های اوج ترافیک برای استفاده از خودرو</p> <p>ب. استفاده از وسایل حمل و نقل عمومی</p> <p>ج. رعایت حق تقدم و رعایت سرعت مجاز</p> <p>د. تمام موارد</p> <p>پاسخ صحیح: ج</p>

<p>۱۰. اولین کاری که در یک صحنه تصادف باید انجام داد کدام گزینه است؟</p> <p>الف. جلوگیری از وقوع حادثه دیگر</p> <p>ب. حفظ صحنه تصادف</p> <p>ج. خروج مصدومان از اتومبیل</p> <p>د. فلاشرهای خودرو را روشن نمود</p> <p>پاسخ صحیح: الف</p>	<p>۷. کدام گزینه سهم بیشتری در آلودگی هوا را تشکیل میدهد؟</p> <p>الف. کارخانجات</p> <p>ب. وسایل موتوری</p> <p>ج. لوازم گرمایشی و سرمایشی</p> <p>د. موتور سیکلت ها</p> <p>پاسخ صحیح: ب</p>
<p>۱۱. فشار باد لاستیک در چه بازه زمانی باید تنظیم گردد؟</p> <p>الف. هر روز</p> <p>ب. هفته ای یک بار</p> <p>ج. هر ماه</p> <p>د. هر ۳ ماه</p> <p>پاسخ صحیح: ب</p>	<p>۸. مهمترین دلیل برای عدم استفاده از جیب به عنوان جعبه ابزار کدام گزینه می باشد؟</p> <p>الف. گم شدن ابزار که این امر باعث می شود در موقع نیاز ابزار مورد نیاز موجود نباشد</p> <p>ب. کثیف شدن و یا پاره شدن لباس به وسیله پیچ گوشتی و ابزار</p> <p>ج. امکان فرو رفتن ابزار به بدن در صورت افتادن بر روی زمین</p> <p>د. هیچکدام</p> <p>پاسخ صحیح: ج</p>
<p>۱۲. راه محلی چگونه راهی می باشد؟</p> <p>الف. خیابان های شریانی فرعی به اصلی را متصل می کند</p> <p>ب. کوچه ها را به خیابان های شریانی اصلی متصل می کند</p> <p>ج. کوچه ها را به خیابان های شریانی فرعی متصل می کند</p> <p>د. خیابان های محلی را به خیابان های اصلی متصل می کند.</p> <p>پاسخ صحیح: ج</p>	<p>۹. برای پاک کردن رنگ های مزاحم و قیر از روی بدنه ماشین از چه وسیله ای باید استفاده کرد؟</p> <p>الف. با شست و شوی خودرو از بین می رود</p> <p>توسط سمباده نرم پاک می شود</p> <p>ج. توسط بنزین پاک می شود</p> <p>د. توسط حلال مناسب که به رنگ صدمه نزنند</p> <p>پاسخ صحیح: د</p>

<p>۱۶. هنگام ورود به میدان حق تقدم عبور با کدام وسیله است؟</p> <p>الف. اتومبیل در حال دنده عقب ب. اتومبیل در حال ورود به میدان ج. اتومبیل در حال حرکت در میدان د. گزینه ب و ج</p> <p>پاسخ صحیح: ج</p>	<p>۱۳. خط کشی (چهارخانه های زرد و مشکی) نشان دهنده چیست . کجا کشیده میشود؟</p> <p>الف. از کنار آن یابد رد شد و در کنار میدان ها ترسیم می گردد ب. قبل از خطوط توقف نموده در تقاطع ها ترسیم می گردد ج. سرعت را کم نموده با احتیاط از روی آن رد شوند و در بزرگراهها ترسیم میگردد د. با رسیدن به این خطوط باید سریع رد شد و در چهار راهها ترسیم می گردد</p> <p>پاسخ صحیح: ب</p>
<p>۱۷. حق تقدم عبور به ترتیب کدام یک می باشد؟</p> <p>الف. زرد قرمز آبی ب. زرد آبی قرمز ج. قرمز زرد آبی د. آبی زرد قرمز</p>  <p>پاسخ صحیح: ب</p>	<p>۱۴. محدود نمودن سرعت در راهها چگونه مشخص می شود؟</p> <p>الف. علائم ب. تابلوها ج. خط کشی ها د. فلش ها</p> <p>پاسخ صحیح: ب</p>
<p>۱۸. رنگ تابلوها در بزرگراه و آزادراه می باشد.</p> <p>الف. قرمز آبی ب. سبز آبی ج. مشکی سفید د. آبی سبز</p> <p>پاسخ صحیح: ب</p>	<p>۱۵. خط ممتد و مقطع ترکیبی به چه معناست؟</p> <p>الف. رانندگان به هیچ وجه نباید از روی آن رد شوند ب. ایستادن روی آن ممنوع است ج. برای تفکیک گذرگاه استفاده میشود و سبقت روی آن اشکال ندارد د. رانندگان در سمت ممتد اجازه عبور از روی آن را ندارند اما در قسمت مقطع می توانند عبور نمایند</p> <p>پاسخ صحیح: د</p>

۱۹. چرا در سطح جاده های خیس برفی و لغزنده باید از دنده سنگین استفاده کرد؟

الف. جهت ترمز سریع

ب. جهت حرکت سریع

ج. جهت ممانعت از لغزش چرخ ها

د. ممانعت از چپ و راست رفتن چرخ ها

پاسخ صحیح: ج

۲۲. برای کمک رسانی به فرد آسیب دیده چه کاری باید انجام داد؟

الف. بالا و پایین رفتن سینه بیمار نگاه کنید

ب. به خروج هوا طی بازدم گوش کنید

ج. جریان هوا را با برخورد به صورت خود احساس

نمایید

د. تمام موارد

پاسخ صحیح: د

۲۰. حق تقدم در شکل روبرو می باشد.

الف. قرمز

ب. زرد

ج. مشکی

د. عابر



پاسخ صحیح: د

۲۳. مفهوم تابلو مقابل چیست؟

الف. سربالایی خطرناک

ب. خطر سقوط در آب

ج. شیب سربالایی

د. پل متحرک



پاسخ صحیح: د

۲۱. در خیابان پرتراфик وسایل نقلیه پشت سر هم در حال حرکت می باشند چگونه می توان از بروز حادثه جلوگیری نمود؟

الف. فاصله خود را با اتومبیل جلویی افزایش دهید

ب. پای خود را روی ترمز قرار دهید

ج. چراغ های خطر را روشن کنید

د. در شانه خاکی توقف نموده

پاسخ صحیح: الف

۲۴. مفهوم تابلو روبرو چیست؟

الف. تقاطع

ب. تقاطع فرعی و اصلی

ج. ورود به راه اصلی از چپ

د. ورود به راه اصلی از راست



پاسخ صحیح: ج

۲۵. در آزادراهها میخهای زرد چشم گربه ای در چه محلی دیده می شود؟

الف. در باند کاهش و افزایش سرعت

ب. بین شانه خاکی و باند اصلی

ج. بین هر دو باند مجاز

د. غالبا در مسیر رفت و برگشت جاده ها و در سمت چپ مسیر (یا بین محل خالی وسط آزادراه و باند اصلی)

پاسخ صحیح: د

۲۷. در شرایط غیرعادی به مانند باران و یخبندان و سرما کنترل و هدایت و توقف اتومبیل به کدام دلیل مشکل است؟

الف. به لحاظ کاهش ضریب اصطکاک چرخ ها با جاده

ب. به لحاظ سرمای هوا و خارج شدن لاستیک ها از حالت طبیعی

ج. کمبود میدان دید

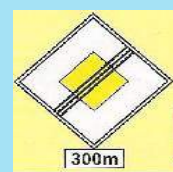
د. الف و ب هر دو صحیح است

پاسخ صحیح: الف

۲۶. کدامیک از علائم زیر شما را انجام عملی باز می دارد؟



الف.



ب.



ج.

پاسخ صحیح: ج

۲۸. خطوط زیر در کجا رسم میشود و به چه معناست؟

الف. در طول خیابانها و برای عابر پیاده در طول راه کشیده می شود

ب. در خیابانهای اصلی و به معنای عبور عابرین پیاده است

ج. در محل های معینی از راه برای عابرین پیاده در عرض راه کشیده میشود

د. هیچکدام

پاسخ صحیح: ج

۲۹. چه موقع باید از چراغ هشدار (فلاشر) استفاده نمایید؟

- الف. هنگام بکسل کردن اتومبیل جهت اطلاع اتومبیل های پشت سر
- ب. زمانی که دچار نقص فنی میشوید و یا زمانی که خطری را که پیش رو دارید به اتومبیل های عقب اطلاع میدهید
- ج. بصورت دوبله پارک میکنید
- د. در صورت توقف ناگهانی و یا اجباری

پاسخ صحیح: ب

۳۰. مراحل اساسی که در هنگام تصادف و آسیب جدی شدید لازم است اتخاذ شود عبارتند از:

- الف. حفظ صحنه تصادف
- ب. آگاه ساختن مراجع ذیصلاح
- ج. مراقبت از مجروحین
- د. هر سه مورد فوق

پاسخ صحیح: د

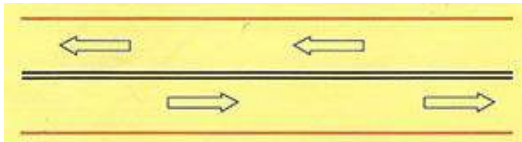


آزمون آیین نامه راهنمایی و رانندگی ایرانیان-تست درایو

سوالات آزمون آیین نامه شماره: ۱۸

www.test-drive.ir

۳. خط طولی ممتد دوبله زیر به چه معناست؟



الف. عبور از یک طرف از روی خط آزاد است

ب. عبور از دو طرف ممنوع است

ج. تاکید بیشتر جهت جلوگیری از عبور از روی

خطوط

د. هیچکدام

پاسخ صحیح: ج

۱. رنگ سیاه و سفید در علائم راهنمایی به چه

معناست؟

الف. راهنمای اماکن مذهبی و اخباری

ب. اخباری و گردشگری

ج. دستوری و راهنمای مسیر سایر راهها

د. هیچکدام

پاسخ صحیح: ج

۴. در یک تقاطع در حال رانندگی هستید با

چراغ قرمز چشمک زن مواجه میشوید چه کار

میکنید؟

الف. به رفتن ادامه میدهید

ب. ایست کرده و با رعایت حق تقدم عبور میکنید

ج. با احتیاط و سرعت کم میروید

د. توقف میکنید و منتظر چراغ سبز میشوید

پاسخ صحیح: ب

۲. ساییدگی نامتوازن یا بیش از حد لاستیک

ناشی از کدام موارد زیر است؟

الف. تنظیم نبودن فرمان عدم تنظیم چرخها و ترمز

ب. میزان نبودن باد چرخها

ج. سرعت بیش از حد

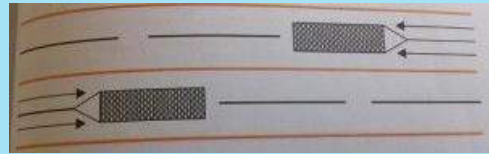
د. تاب داشتن گاردان

پاسخ صحیح: الف

<p>۸. با سرعت مجاز در حال رانندگی هستید اتومبیلی به سرعت از پشت به شما نزدیک میشود و با دادن چراغ از شما راه میخواهد چکار باید انجام دهید؟</p> <p>الف. بر شتاب خود بیافزایید تا اینکه با اتومبیل مذکور فاصله ایمنی را حفظ کنید</p> <p>ب. اجازه دهید اتومبیل مذکور سبقت گیرد</p> <p>ج. آهسته ترمز کنید</p> <p>د. سرعت را حفظ کنید و مانع سبقت وسیله مذکور شوید</p> <p>پاسخ صحیح: ب</p>	<p>۵. خطوطی که در مدخل تقاطع یا در محل معینی از راهها برای عابر پیاده به آن خطوطه ... میگویند.</p> <p>الف. طولی</p> <p>ب. عرضی</p> <p>ج. ممتد</p> <p>د. مقطع</p> <p>پاسخ صحیح: ب</p>
<p>۹. مفهوم شکل روبرو چیست؟</p> <p>الف. معمولا برای علائم راهنما</p> <p>ب. ایست</p> <p>ج. علائم دستوری</p> <p>د. هشداردهنده برای خطر</p> <p>پاسخ صحیح: ب</p>	<p>۶. پس از روشن کردن اتومبیل کدام کار را انجام میدهید؟</p> <p>الف. گرفتن کلاچ با پای چپ</p> <p>ب. ابتدا کمر بند ایمنی خود را میبندید</p> <p>ج. اولین کار گرفتن ترمز پایی</p> <p>د. ترمز دستی را آزاد میکنید</p> <p>پاسخ صحیح: ب</p>
<p>۱۰. مفهوم تابلو روبرو چیست؟</p> <p>الف. فقط عبور پیاده</p> <p>ب. فقط عبور دوچرخه</p> <p>ج. عبور پیاده و دوچرخه ممنوع</p> <p>د. فقط عبور دوچرخه و پیاده</p> <p>پاسخ صحیح: د</p>	<p>۷. در صحنه تصادفی جهت کمک توقف کرده اید کدام مورد را انجام میدهید؟</p> <p>الف. افراد زخمی را گرم و در محل راحتی قرار میدهید</p> <p>ب. افراد زخمی را وادار به راه رفتن میکنید</p> <p>ج. محل را فوراً ترک میکنید</p> <p>د. به افراد زخمی نوشیدنی میدهید</p> <p>پاسخ صحیح: الف</p>



۱۱. خطوط روبرو نشان دهنده چیست؟



الف. ایستگاه اتوبوس یا تاکسی

ب. وجود موانع در راهها

ج. خطوط پارک

د. خطوط عبور عابرین پیاده

پاسخ صحیح: ب

۱۳. در خیابانهای شلوغ و پرتراфик با سرعت مجاز در حال رانندگی هستید راننده اتومبیل پشت سر سعی میکند سبقت بگیرد چکار باید انجام دهید؟

الف. بر سرعت خود اضافه میکنید تا اینکه راننده

پشت سر فاصله بگیرد

ب. با دست به راننده پشت سر علامت میدهید تا

زمان خطری نیست سبقت بگیرد

ج. مسیر صحیح و مستقیم خود را ادامه میدهید تا

راننده مذکور سبقت بگیرد

د. به اتومبیل جلویی نزدیک میشوید تا راننده پشت

سر نتواند سبقت بگیرد

پاسخ صحیح: ج

۱۲. چرا باید قبل از اقدام به سبقت از یک کامیون طویل فاصله را با آن کاملاً حفظ کنیم؟

الف. زیرا بتوانید از موقعیت جلوی کامیون کاملاً

اطلاع داشته باشید و در نقطه کور قرار نگیرید

ب. زیرا برای سبقت گرفتن در پیچ ها شتاب کافی

داشته باشید

ج. در صورت توقف کامیون دنده عقب بگیرید

د. برای اینکه در نقطه کور قرار نگیرید

پاسخ صحیح: الف

۱۴. قصد دارید اتومبیل خود را در کنار خیابان پارک کنید. در چه مواقعی میتوانید موتور آن را روشن بگذارید؟

الف. هیچ وقت نمی توانید

ب. اگر مسافری داخل اتومبیل باشد

ج. اگر باطری در حل تمام شدن باشد

د. در صورتی که کمتر از ۱۵ دقیقه پارک کنید

پاسخ صحیح: الف

۱۵. چرا به هنگام وزش باد در حال سبقت گرفتن از موتور سوار باید فاصله بیشتری را رعایت نمود؟

الف. ممکن است موتورسوار در اثر وزش باد موتور را خاموش کند

ب. ممکن است موتورسوار بطور ناگهانی متوقف شود

ج. ممکن است موتور سوار بیش از حد معمول سرعت داشته باشد

د. ممکن است موتورسوار در اثر وزش باد منحرف شود

پاسخ صحیح: د

۱۷. روش یک طول اتومبیل به چه معناست؟
الف. به ازای هر ۱۵ کیلومتر سرعت در ساعت فاصله ای به اندازه یک طول اتومبیل (حدود ۶ متر) نیاز است.

ب. به ازای هر ۳۰ کیلومتر سرعت در ساعت فاصله ای به اندازه ۲ طول اتومبیل (حدود ۶ متر) نیاز است.

ج. به ازای هر ۴۵ کیلومتر سرعت در ساعت فاصله ای به اندازه ۳ طول اتومبیل (حدود ۶ متر) نیاز است

د. به ازای هر ۶۰ کیلومتر سرعت در ساعت فاصله ای به اندازه ۴ طول اتومبیل (حدود ۶ متر) نیاز است.

پاسخ صحیح: الف

۱۶. حداقل میزان سرعت مجاز در آزادراهها چقدر است؟

الف. ۶۰

ب. ۷۰

ج. ۱۲۰

د. ۱۰۰

پاسخ صحیح: ب

۱۸. تابلوی (خروج از آزادراه ۳۰۰ متر) کدام تابلو است؟



الف.



ب.



ج.



د.

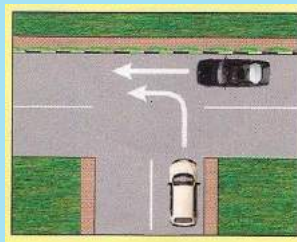
پاسخ صحیح: ب

۲۲. یکی از موارد افزایش احتمال خطر هنگام رانندگی در شب را بگویید؟

- الف. استفاده از چراغها
- ب. استفاده از سایبان
- ج. کم بودن میدان دید راننده
- د. خواب آلودگی راننده

پاسخ صحیح: ج

۱۹. در شکل زیر حق تقدم عبور با کدام وسیله میباشد؟



- الف. مشکی
- ب. سفید
- ج. هر دو همزمان
- د. هیچکدام

پاسخ صحیح: الف

۲۳. زمانی که به یک سرعت گیر در خیابان می رسید باید ...

- الف. از سمت راست عبور کنید
- ب. با همان سرعت عبور کنید
- ج. سرعت خود را افزایش دهید
- د. سریعاً از سرعت خود بکاهید

پاسخ صحیح: د

۲۰. نور پایین اتومبیل باید اشیا را از چند متری مشخص نماید؟

- الف. ۱۵۰
- ب. ۳۰
- ج. ۳۵
- د. ۱۳۵

پاسخ صحیح: ج

۲۴. در جاده دچار حادثه ای شده اید در چه فاصله ای باید تابلوی احتیاط را قرار دهید؟

- الف. ۷۰ متری
- ب. ۶۰ متری
- ج. ۵۰ متری
- د. ۴۰ متری

پاسخ صحیح: الف

۲۱. در صورت ترکیدن لاستیک جلوی اتومبیل باید ...

- الف. به شدت ترمز کرد
- ب. فرمان را رها کرد
- ج. فرمان را محکم گرفته و به آرامی توقف کرد
- د. الف و ب صحیح است

پاسخ صحیح: ج

<p>۲۸. در راههای مسطح که انتهای مسیر منتهی به کوه و پرتگاه میباشد ...</p> <p>الف. حق تقدم عبور با وسیله ای است که در طرف پرتگاه قرار دارد</p> <p>ب. باید با احتیاط و رعایت حق تقدم عبور کرد</p> <p>ج. حق تقدم عبور با وسیله ای است که طرف کوه است</p> <p>د. حق تقدم با وسیله ای نقلیه سبکتر است</p> <p>پاسخ صحیح: الف</p>	<p>۲۵. به هنگام رانندگی در طول روز و در شرایط هوای مه آلود چکار باید انجام داد؟</p> <p>الف. از نور پایین استفاده کرد</p> <p>ب. از چراغهای بغل استفاده نمود</p> <p>ج. از نور بالا استفاده کرد</p> <p>د. چراغهای راهنما را روشن کرد</p> <p>پاسخ صحیح: الف</p>
<p>۲۹. چه موقع امکان سبقت در داخل تونل وجود دارد؟</p> <p>الف. پهنای تونل عریض باشد</p> <p>ب. راه یکطرفه باشد</p> <p>ج. نور کافی داشته باشیم</p> <p>د. این کار ممنوع است</p> <p>پاسخ صحیح: د</p>	<p>۲۶. مفهوم خطوط شکل زیر چیست؟</p> <p>الف. شکل صحیح تقاطع بزرگراهها و پیچها</p> <p>ب. طریقه صحیح ورودی و خروجی جاده ها</p> <p>ج. نمایشگر تغییر مسیر دایره ای و خطوط کاهش و افزایش سرعت</p> <p>د. نمایشگر قرار گرفتن مسیرهای ورودی و خروجی و خط کاهش سرعت و افزایش سرعت</p> <p>پاسخ صحیح: د</p>
<p>۳۰. جای خالی زیر را کامل نمایید - برای روشن کردن اتومبیل ابتدا </p> <p>الف. ابتدا کمر بند ایمنی خود را میبندیم</p> <p>ب. گرفتن کلاج با پای چپ</p> <p>ج. سویچ اتومبیل را جهت استارت میزنیم</p> <p>د. ترمز دستی را خلاص میکنیم</p> <p>پاسخ صحیح: ب</p>	<p>۲۷. کدام گزینه صحیح نمیشود؟</p> <p>الف. تابلوهای بازدارنده یا اختاری</p> <p>ب. تابلوهای هشداردهنده یا اختاری</p> <p>ج. تابلوهای آگاهی دهنده یا اخباری</p> <p>د. تابلوهای بازدارنده یا انتظامی</p> <p>پاسخ صحیح: الف</p>



آزمون آیین نامه راهنمایی و رانندگی ایرانیان-تست درایو

سوالات آزمون آیین نامه شماره: ۱۹

www.test-drive.ir

۳. کدام یک از گزینه های زیر نقص فنی محسوب می شود؟
الف. نداشتن چراغ های جلو و عقب
ب. کم بودن باد لاستیک ها
ج. دود کردن
د. نداشتن زنجیر چرخ در یخبندان

پاسخ صحیح: ب

۱. هنگام پارک کردن در سربالایی که دارای جدول کناری میباشد فرمان را به کدام سمت بچرخانیم؟
الف. فرمان را به چپ (در جهت مخالف عقربه های ساعت)
ب. فرمان را به راست
ج. فرمان را به سمت مقابل صاف میکنیم
د. فرقی ندارد

پاسخ صحیح: الف

۴. بعد از چراغ سبز اولین چراغی که روشن میشود کدام است؟
الف. قرمز
ب. زرد و قرمز با هم
ج. سبز و زرد با هم
د. زرد

پاسخ صحیح: د

۲. اگر به هنگام رانندگی متوجه بوی بنزین شدید چه اقدامی میکنید؟
الف. با سرعت کم برانید
ب. نگران نباشید زیرا بو ناشی از سوخت بنزین است
ج. توقف کرده و مسئله را بررسی میکنید
د. شیشه اتومبیل را پایین میدهید

پاسخ صحیح: ج

<p>۷. چه کسانی قانوناً مجاز به هدایت ترافیک هستند؟</p> <p>الف. نیروی کمکی ب. هر کس که راننده وسیله نقلیه بزرگ را در دنده عقب کمک و راهنمایی میکند ج. پلیس راهنمایی و رانندگی، پلیس مدرسه که مسئول کودکان در عبور از خیابان است، کارگران تعمیرات د. با تشخیص خودمان</p> <p>پاسخ صحیح: ج</p>	<p>۵. در کدام موقعیت زیر وزش باد شدید می تواند در مسیر شما تاثیر بگذارد؟</p> <p>الف. در شهرها ب. در تونل ها ج. زمانیکه از مقابل اتومبیل های در حال توقف عبور میکنید د. بعد از سبقت گرفتن از یک وسیله نقلیه بزرگ، در مسیرهای باز بدون درخت و موانع طبیعی، در بخشی از شهرها که دارای ساختمان نبوده و در معرض باد قرار دارند.</p> <p>پاسخ صحیح: د</p>
<p>۸. پس از روشن کردن موتور برای حرکت ابتدا چه عملی را باید انجام دهیم؟</p> <p>الف. آزمایش ترمز ب. صندلی را تنظیم نماییم ج. بستن کمربند د. با پای چپ کلاچ بگیریم</p> <p>پاسخ صحیح: ج</p>	<p>۶. در آزادراه تنها در چه مواقعی میتوانید در شانه جاده توقف کنید؟</p> <p>الف. در شرایط اورژانس و اضطراری ب. اگر قصد سوار کردن افراد کنار جاده را دارید ج. اگر بطور تصادفی از خروجی مورد نظر رد شده باشید و قصد برگشت داشته باشید د. اگر احساس کردید نیاز به استراحت دارید.</p> <p>پاسخ صحیح: الف</p>

<p>۱۱. به دنبال یک کامیون بر روی یک جاده خیس حرکت میکنید پاشیدن آب باران دید را مختل میکند چکار باید بکنیم؟</p> <p>الف. سرعت گرفته و سبقت میگیریم ب. از کامیون فاصله میگیرید تا جایی که بهتر بتوانید ببینید ج. نزدیک به کامیون حرکت میکنیم د. در حاشیه حرکت میکنید تا از پاشیدن آب در امان باشید</p> <p>پاسخ صحیح: ب</p>	<p>۹. رانندگی در بخش وسط راههایی که به وسیله خط کشی یا علائم دیگر به ۳ بخش تقسیم شده به جز چه مواردی ممنوع است؟</p> <p>الف. برای سبقت گرفتن یا گردش به چپ ب. برای دور زدن و گردش به چپ ج. برای سبقت گرفتن یا گردش به راست د. برای گردش به راست</p> <p>پاسخ صحیح: الف</p>
<p>۱۲. مستطیل افقی معمولاً برای تابلوهای و برای خطرات ناشی از و میباشد</p> <p>الف. تابلوهای دستوری و خدمات برای خطرات ناشی از تعمیر و نگهداری میباشد ب. تابلوهای راهنما و هشدار برای خطرات ناشی از تعمیر و نگهداری میباشد ج. تابلوهای دستوری و بازدارنده برای خطرات ناشی از تعمیر و نگهداری میباشد د. تابلوهای رعایت حق تقدم برای خطرات ناشی از تعمیر و نگهداری میباشد</p> <p>پاسخ صحیح: ب</p>	<p>۱۰. چه مواقعی باید بیش از حد مراقب موتورسیکلت سوارها و دوچرخه سوارها باشید؟</p> <p>الف. در جاده های دو طرفه ب. در خیابان های یک طرفه ج. در خط کشی عابرین پیاده د. در محل تقاطع ها</p> <p>پاسخ صحیح: د</p>

<p>۱۶. اگر چراغ ترمز شما کار نکند چه موقع مجاز به رانندگی هستید؟</p> <p>الف. در طول روز</p> <p>ب. زمانی که به آزمایش رانندگی می روید</p> <p>ج. هیچوقت</p> <p>د. در شرایط اضطراری</p> <p>پاسخ صحیح: ج</p>	<p>۱۳. کنترل باد لاستیک چرخ ها چه زمانی باید انجام شود؟</p> <p>الف. زمانی که لاستیک ها سرد هستند</p> <p>ب. بعد از طی مسافتی طولانی</p> <p>ج. بعد از یک رانندگی با سرعت بالا</p> <p>د. زمانی که لاستیک ها داغ شده اند</p> <p>پاسخ صحیح: الف</p>
<p>۱۷. زمانی که ترمز می کنید وسیله نقلیه شما به یک طرف می کشد عمده ترین اشکال چیست؟</p> <p>الف. سطح روغن ترمز پایین است</p> <p>ب. ترمز دستی بالاست</p> <p>ج. ترمزها به خوبی تنظیم نیست</p> <p>د. لاستیک ها بیش از حد ساییده شده است</p> <p>پاسخ صحیح: ج</p>	<p>۱۴. به هنگام رانندگی در شرایط غیرعادی (باران، برف و...) بهترین کار این است که تا حد امکان از دنده سنگین استفاده کنید دلیل آن را بیان کنید</p> <p>الف. جهت ممانعت از لغزش چرخ ها</p> <p>ب. در موقع ترمز از سرعت کمتری برخوردار باشید</p> <p>ج. به دلیل اینکه دور زیاد موتور باعث لغزش چرخ ها نشود</p> <p>د. در صورت لغزش استفاده از دنده پایین تر امکان پذیر باشد</p> <p>پاسخ صحیح: الف</p>
<p>۱۸. قانون اولیه و پایه در مورد رانندگی در آزادراهها چیست؟</p> <p>الف. همیشه از راست برانید مگر آنکه قصد سبقت داشته باشید</p> <p>ب. سعی کنید با سرعت بیش از ۹۰ کیلومتر در ساعت رانندگی کنید</p> <p>ج. از سمتی سبقت بگیرید که خلوت باشد</p> <p>د. از باندی استفاده کنید که کمترین ترافیک را داراست</p> <p>پاسخ صحیح: الف</p>	<p>۱۵. سائیدگی نامتوازن یا بیش از حد لاستیک ناشی از کدام مورد زیر است؟</p> <p>الف. میزان نبودن فرمان؛ عدم تنظیم چرخ ها و ترمزها</p> <p>ب. میزان نبودن باد چرخ ها</p> <p>ج. سرعت بیش از حد</p> <p>د. تاب داشتن گاردان</p> <p>پاسخ صحیح: الف</p>

<p>۲۲. برای خروج از پارک الف. کنترل آینه ها، دادن علامت با چراغ راهنما، کنترل وضعیت عبور و مرور و سپس خروج از پارک با رعایت حق تقدم ب. با رعایت حق تقدم عبور خارج می شویم ج. راهنما زده و با رعایت حق تقدم عبور خارج می شویم د. راهنما زده و با دست علامت می دهیم سپس خارج می شویم</p> <p>پاسخ صحیح: الف</p>	<p>۱۹. فاصله شما و اتومبیل جلویی در راه خشک چند ثانیه می باشد؟ الف. ۵ ثانیه ب. ۳ ثانیه ج. ۴ ثانیه د. ۲ ثانیه</p> <p>پاسخ صحیح: د</p>
<p>۲۳. در کدام محل نباید پارک کرد؟ الف. در ۱۵ متری تقاطع ها ب. ایستگاه اتوبوس ج. محل های غیرمجاز (مقابل پل) د. تمام موارد</p> <p>پاسخ صحیح: د</p>	<p>۲۰. اتومبیل شما در بزرگراه دارای نقص فنی شده تابلوی مثلی را در چند متری قرار می دهید؟ الف. ۱۵۰ متری ب. ۵۰ متری ج. ۷۰ متری د. ۱۰۰ متری</p> <p>پاسخ صحیح: الف</p>
<p>۲۴. معنی تابلو مثلث متساوی الاضلاع (نشسته روی یک راس) چیست؟ الف. صرفاً برای رعایت حق تقدم ب. صرفاً برای تابلو ایست ج. برای علائم راهنما د. علامت دستوری و بازدارنده</p> <p>پاسخ صحیح: الف</p>	<p>۲۱. در صورتی که در حادثه رانندگی قفسه سینه بیمار حرکت می کند اما جریان هوا شنیده و یا احساس نشود نشان دهنده چه چیزیست؟ الف. انسداد ریه نیاز به رسیدگی فقط توسط دکتر متخصص ب. انسداد راه هوایی و بایست راه هوایی را باز کرد ج. ایست قلبی و نیاز به تماس با اورژانس د. همه موارد</p> <p>پاسخ صحیح: ب</p>

۲۵. حق تقدم در تصویر روبرو با کدام وسیله به ترتیب می باشد؟



- الف. ۱۳۲
- ب. ۲۱۳
- ج. ۱۲۳
- د. ۲۳۱

پاسخ صحیح: ج

۲۸. چنانچه راه خشک و هوا خوب باشد فاصله بین دو اتومبیل چقدر باید باشد؟

- الف. ۱ متر
- ب. شمارش ۱ تا ۲
- ج. فاصله ۲ ثانیه
- د. با استفاده از ساعت اندازه میگیریم

پاسخ صحیح: ج

۲۶. وقتی پلیس مستقر در چهارراه دست راست خود را به صورت قائم نگه میدارد منظور چیست؟



- الف. رانندگان در هر چهار طرف تقاطع باید پشت خط ایست متوقف شوید
- ب. بدون توقف عبور کنید
- ج. رانندگان در حال حرکت از سرعت خود بکاهند
- د. رانندگان وسایل نقلیه در حال عبور از پشت وی توقف نمایند

پاسخ صحیح: الف

۲۹. در جاده خشک با سرعت ۶۰ کیلومتر در حال رانندگی هستید فاصله شما با اتومبیل جلویی چقدر باید باشد؟

- الف. ۲ طول اتومبیل
- ب. ۳ طول اتومبیل
- ج. ۴ طول اتومبیل
- د. ۵ طول اتومبیل

پاسخ صحیح: ج

۲۷. حق تقدم عبور در تصویر مقابل با کدام است؟



- الف. اتومبیل سفید شماره ۱
- ب. اتومبیل سفید شماره ۲
- ج. اتومبیل سیاه رنگ
- د. همه حق تقدم عبور یکسان دارند

پاسخ صحیح: ج

۳۰. در چند متری قبل و بعد از تونل با داشتن دید کافی میتوان سبقت گرفت؟

- الف. ۴۰ متر
- ب. ۱۰۰ متر
- ج. ۵۰ متر
- د. ۱۵۰ متر

پاسخ صحیح: ب



آزمون آیین نامه راهنمایی و رانندگی ایرانیان-تست درایو

سوالات آزمون آیین نامه شماره: ۲۰

www.test-drive.ir

<p>۱. زمانی قصد گردش به چپ یا راست دارید از چه فاصله ای باید راهنما بزنید؟</p> <p>الف. ۵۰ متری ب. ۲۵ متری ج. ۱۰۰ متری د. ۱۵۰ متری</p> <p>پاسخ صحیح: ج</p>	<p>۴. در صورت مواجه شدن با اتومبیل مقابل در شب از فاصله چند متری از نور پایین استفاده میکنید؟</p> <p>الف. ۱۵۰ متر یا کمتر ب. ۱۱۰ یا کمتر ج. ۱۰۰ یا کمتر د. ۷۰ یا کمتر</p> <p>پاسخ صحیح: الف</p>
<p>۲. در صورتی که میزان سرعت توسط تابلو در راههای برونشهری مشخص نشده باشد حداکثر سرعت در مناطق غیرمسکونی چقدر است؟</p> <p>الف. ۷۰ کیلومتر ب. ۱۲۵ کیلومتر ج. ۱۲۰ کیلومتر د. ۹۵ کیلومتر</p> <p>پاسخ صحیح: د</p>	<p>۵. مابین شما و اتومبیل جلویی فاصله دو ثانیه مناسب خواهد بود در صورتی که ...</p> <p>الف. هوا خوب و راه خشک خوب باشد ب. هوا مه آلود باشد ج. هوا مرطوب و جاده خیس باشد د. هوا بارانی و جاده خیس باشد</p> <p>پاسخ صحیح: الف</p>
<p>۳. فاصله مناسب در پارک دوبل با اتومبیل جلویی چقدر است؟</p> <p>الف. ۵۰ سانتیمتر ب. ۴۵ سانتیمتر ج. ۱ متر د. ۱,۵ متر</p> <p>پاسخ صحیح: ج</p>	<p>۶. در صحنه تصادف چه کسی اولویت دارد؟</p> <p>الف. سالمندان ب. اطفال ج. مصدومی که نیاز به کمک اورژانسی دارد د. راننده</p> <p>پاسخ صحیح: ج</p>

<p>۱۰. در صورت زرد شدن چراغ راهنمایی در وسط تقاطع ...</p> <p>الف. متوقف می شوید</p> <p>ب. برای تخلیه تقاطع به راه خود ادامه می دهید</p> <p>ج. بدون رعایت حق تقدم میتوانید حرکت کنید</p> <p>د. بلافاصله ترمز کرده و دنده عقب گرفته پشت خط عابر متوقف شوید</p> <p>پاسخ صحیح: ب</p>	<p>۷. در تقاطع هم عرض اگر ۲ وسیله ای که روبرو هم در حرکتند با هم وارد خیابان میشوند حق تقدم با کدام وسیله است؟</p> <p>الف. وسیله ای که سمت چپ گردش میکند</p> <p>ب. به راست گردش میکند</p> <p>ج. حق تقدم وجود ندارد</p> <p>د. هیچکدام</p> <p>پاسخ صحیح: ب</p>
<p>۱۱. در حریم تابلوهای ایستادن ممنوع</p> <p>الف. فقط برای پیاده و سوارکردن مسافر بلامانع است</p> <p>ب. برای یک لحظه هم نمیتوان توقف کرد</p> <p>ج. نمیتوان پارک کرد ولی میتوان توقف کرد</p> <p>د. بستگی به موقعیت دارد</p> <p>پاسخ صحیح: ب</p>	<p>۸. رانندگی با دنده عقب در کدام معابر ممنوع است؟</p> <p>الف. شریان اصلی</p> <p>ب. آزادراهها و ورودی و خروجی آنها</p> <p>ب. بزرگراهها و ورودی خروجی آنها</p> <p>د. گزینه ب و ج</p> <p>پاسخ صحیح: د</p>
<p>۱۲. در تقاطع بدون چراغ باید ...</p> <p>الف. با حداکثر سرعت عبور کرد</p> <p>ب. با سرعت قانونی عبور کرد</p> <p>ج. با سرعت کم و احتیاجی به رعایت حق تقدم نیست</p> <p>د. با سرعت کم و احتیاط و رعایت حق تقدم</p> <p>پاسخ صحیح: د</p>	<p>۹. کدام یک از بیمه های زیر حداقل بیمه مورد نیاز در هنگام رانندگی می باشد؟</p> <p>الف. بیمه بدنه</p> <p>ب. بیمه کامل اتومبیل</p> <p>ج. بیمه آتش سوزی</p> <p>د. بیمه شخص ثالث</p> <p>پاسخ صحیح: د</p>

<p>۱۶. در چه شرایطی میتوان از دنده عقب استفاده کرد؟</p> <p>الف. با احتیاط کامل و احراز هر گونه حادثه و انسداد راه میتوان در مواقع ضروری</p> <p>ب. رانندگی با دنده عقب در همه موارد مجاز است</p> <p>ج. در راههای یکطرفه میتوان با دنده عقب حرکت کرد</p> <p>د. چنانچه قصد ورود از گاراژ را دارید یا ورود به خیابان فرعی به اصلی</p> <p>پاسخ صحیح: الف</p>	<p>۱۳. حداکثر سرعت در راه های برون شهری غیر مسکونی در شب چند کیلومتر است؟</p> <p>الف. ۸۵</p> <p>ب. ۹۵</p> <p>ج. ۷۰</p> <p>د. ۱۲۰</p> <p>پاسخ صحیح: الف</p>
<p>۱۷. اگر در راهی دچار حادثه شوید تابلوی احتیاط را در چه فاصله ای قرار میدهید؟</p> <p>الف. ۵ متری</p> <p>ب. ۲۵ متری</p> <p>ج. ۷۰ متری</p> <p>د. ۱۰۰ متری</p> <p>پاسخ صحیح: ج</p>	<p>۱۴. رانندگانی که گواهینامه پایه ۳ دارند میتوانند با</p> <p>الف. وسایل نقلیه تا ظرفیت ۹ نفر و یا ظرفیت بار ۳,۵ تن رانندگی کنند</p> <p>ب. وسایل نقلیه تا ظرفیت ۱۶ تا ۲۶ نفر رانندگی کنند</p> <p>ج. وسایل نقلیه تا ظرفیت ۵ نفر رانندگی کنند</p> <p>د. رانندگی با اتوبوس</p> <p>پاسخ صحیح: الف</p>
<p>۱۸. مفهوم رنگ آبی در علائم راهنمایی و رانندگی چیست؟</p> <p>الف. منع کننده و بازدارنده</p> <p>ب. راهنمای خدمات و مسیر و علائم اخباری در آزادراه</p> <p>ج. راهنما برای مناطق اداری</p> <p>د. علائم دستوری و راهنمای مسیر</p> <p>پاسخ صحیح: ب</p>	<p>۱۵. حداکثر سرعت در معابر شریانی درجه ۱ چند کیلومتر است؟</p> <p>الف. آزادراه حداکثر ۱۲۰ و بزرگراه ۱۰۰</p> <p>ب. آزادراه حداکثر ۷۰ و بزرگ راه ۱۰۰</p> <p>ج. آزادراه حداکثر ۱۰۰ و بزرگ راه ۱۰۰</p> <p>د. آزادراه حداکثر ۹۵ و بزرگ راه ۸۵</p> <p>پاسخ صحیح: الف</p>

<p>۲۲. فاصله مناسب در حین پارک دوبل با جدول چقدر است؟</p> <p>الف. ۵۰ سانتی متر</p> <p>ب. ۳۰ سانتی متر</p> <p>ج. ۴۵ سانتی متر</p> <p>د. ۱ متر</p> <p>پاسخ صحیح: الف</p>	<p>۱۹. حداقل عمق آج لاستیک چقدر باید باشد؟</p> <p>الف. ۱٫۶ میلیمتر</p> <p>ب. ۶٫۱ میلیمتر</p> <p>ج. ۱۶ میلیمتر</p> <p>د. هیچکدام</p> <p>پاسخ صحیح: الف</p>
<p>۲۳. آمادگی شامل کدامیک از موارد زیر می باشد؟</p> <p>الف. مشاهده، پیش بینی، تمرکز، آگاهی، عدم حواس پرتی</p> <p>ب. هدایت و کنترل وسیله نقلیه</p> <p>ج. تصمیم سریع و عکس العمل به موقع</p> <p>د. تسلط به مسیر</p> <p>پاسخ صحیح: الف</p>	<p>۲۰. در حین رانندگی چه موقع میتوانید از تلفن همراه استفاده کنید؟</p> <p>الف. نیاز به انجام تلفن ضروری باشد</p> <p>ب. وسیله نقلیه دارای دنده اتوماتیک باشد</p> <p>ج. هیچ وقت</p> <p>د. مهارت کافی داشته و فرمان را با یک دست بگیرید</p> <p>پاسخ صحیح: الف</p>
<p>۲۴. حداقل فاصله ایمن در جاده برفی به ازای هر ۱۵ کیلومتر سرعت در ساعت، فاصله ای برابر با چند اتومبیل است؟</p> <p>الف. طول ۳ اتومبیل</p> <p>ب. طول ۴ اتومبیل</p> <p>ج. طول ۲ اتومبیل</p> <p>د. طول ۱ اتومبیل</p> <p>پاسخ صحیح: الف</p>	<p>۲۱. فاصله مناسب اتومبیل با اتومبیل جلویی در پارک دوبل چقدر است؟</p> <p>الف. ۱ متر</p> <p>ب. ۱٫۵ متر</p> <p>ج. ۴۵ سانت</p> <p>د. ۵۰ سانت</p> <p>پاسخ صحیح: الف</p>

۲۵. برای سبقت گرفتن از موتور سیکلت و

دوچرخه کدام گزینه باید در نظر گرفته شود؟

الف. فضای کمتری برای وسیله نقلیه در نظر گرفته شود

ب. با سرعت بیشتری سبقت میگیریم

ج. فضای بیشتری برای وسیله نقلیه در نظر بگیریم

د. با بوق زدن راه را باز کنیم

پاسخ صحیح: ج

۲۸. مفهوم تابلو روبرو چیست؟



الف. طول ممنوعیت با محدودیت پارکینگ

ب. تقاطع فرعی با اصلی در قوس

ج. طول ممنوعیت با محدودیت پارک

د. طول محدوده خطر

پاسخ صحیح: د

۲۶. در تقاطعی که قصد گردش به چپ دارید

ولی میدان دید شما به علت وجود اتومبیل

های در حال پارک محدود است چکار باید

انجام داد؟

الف. بوق زده و در صورتی که هیچگونه عکی

العملی ندیدید اقدام به گردش میکنید

ب. توقف کرده و سپس اقدام به گردش میکنید و

جهت کنترل مسیر جاده اصلی را نگاه کنید

ج. توقف کرده سپس به آرامی به جلو حرکت

میکنید تا اینکه دید بهتری از موقعیت داشته باشید

د. به سرعت خارج شده ولی آمادگی توقف را داشته

باشید

پاسخ صحیح: ج

۳۰. مفهوم تابلو روبرو چیست؟



الف. تقاطع

ب. جاده لغزنده است

ج. فاصله از محل نصب تابلو تا شروع خطر

د. تقاطع فرعی با اصلی در قوس

پاسخ صحیح: د

۲۷. در یک تقاطع با چراغ چشمک زن قرمز

مواجه میشوید چه کار می کنید؟

الف. بدون توقف به حرکت ادامه میدهید

ب. ایست کرده و با رعایت حق تقدم عبور میکنید

ج. توقف میکنید و منتظر میشوید چراغ سبز شود

د. به حرکت ادامه میدهید

پاسخ صحیح: ب



آزمون آیین نامه راهنمایی و رانندگی ایرانیان-تست درایو

سوالات آزمون آیین نامه شماره: ۲۱

www.test-drive.ir

<p>۱. ماده ۱۵۵ آیین نامه مربوط به ممنوعیت چیست؟</p> <p>الف. دنده عقب در بزرگ راهها</p> <p>ب. پارک دوپل</p> <p>ج. پارک در میدان</p> <p>د. سبقت</p> <p>پاسخ صحیح: الف</p>	<p>۴. چراغ کوچک با نور سفید در عقب برای تشخیص شماره پلاک نور این چراغ باید برای تشخیص شماره پلاک برای چه فاصله‌ای باید کافی باشد؟</p> <p>الف. ۲۵ متری</p> <p>ب. ۳۰ متری</p> <p>ج. ۵۰ متری</p> <p>د. ۷۰ متری</p> <p>پاسخ صحیح: الف</p>
<p>۲. رانندگی با وسیله نقلیه ای که برگ معاینه فنی معتبر نداشته باشد؟</p> <p>الف. بلامانع است</p> <p>ب. فقط داخل شهر مجاز است</p> <p>ج. ممنوع است</p> <p>د. فقط خارج از شهر</p> <p>پاسخ صحیح: ج</p>	<p>۵. نور چراغ کوچک جلو و خطر عقب باید از چند متری دیده شود؟</p> <p>الف. ۱۰۰ متری</p> <p>ب. ۲۰۰ متری</p> <p>ج. ۳۰۰ متری</p> <p>د. ۱۵۰ متری</p> <p>پاسخ صحیح: د</p>
<p>۳. معاینه فنی بوسیله چه کسی صورت میپذیرد؟</p> <p>الف. تعمیرکار مجاز</p> <p>ب. مهندسان یا کاردان های فنی دارای گواهی انجام کار</p> <p>ج. نمایندگان خودرو</p> <p>د. مهندس مکانیک</p> <p>پاسخ صحیح: ب</p>	<p>۶. نور پایین خودرو باید طوری تنظیم شود که اشیا و اشخاص از چند متری قابل تشخیص باشند؟</p> <p>الف. ۵۰ متری</p> <p>ب. ۲۵ متری</p> <p>ج. ۳۵ متری</p> <p>د. ۷۰ متری</p> <p>پاسخ صحیح: ج</p>

<p>۱۰. استفاده از لاستیک های فرسوده و غیر استاندارد در وسایل نقلیه؟</p> <p>الف. نایمن است</p> <p>ب. جایز نیست</p> <p>ج. ممنوع است</p> <p>د. بلامانع است</p> <p>پاسخ صحیح: ج</p>	<p>۷. کدام گزینه غلط است؟</p> <p>الف. ریختن هر گونه ضایعات و اشیا و آب دهان به وسیله راننده و سرنشینان ممنوع است</p> <p>ب. انجام هرگونه حرکات نمایشی پرشی تک چرخ دور درجا در معابر شهری ممنوع است</p> <p>ج. رانندگی همراه با صدای ناهنجار و ممتد بوق یا صدای اگزوز یا اصطکاک چرخ ها در معابر شهری ممنوع است</p> <p>د. هیچ کدام</p> <p>پاسخ صحیح: د</p>
<p>۱۱. کلیدی ترین ابزار در کنترل خودرو چیست؟</p> <p>الف. غربیلک فرمان</p> <p>ب. پدال گاز</p> <p>ج. پدال ترمز</p> <p>د. کلاچ</p> <p>پاسخ صحیح: الف</p>	<p>۸. حمل مسافر با وسیله نقلیه دارای پلاک شخصی ...</p> <p>الف. ممنوع است</p> <p>ب. جایز نیست</p> <p>ج. ممنوع است مگر در شرایط اضطراری با اجازه پلیس راه یا راهنمایی رانندگی</p> <p>د. بلامانع است</p> <p>پاسخ صحیح: ج</p>
<p>۱۲. در هنگام رانندگی چنانچه متوجه بوی بنزین شدید از ماشین شدیم کدامیک از موارد زیر را باید رعایت کنیم؟</p> <p>الف. با بوی بنزین شدید مشکلی پیش نمی آید</p> <p>ب. با احتیاط رانندگی می کنیم</p> <p>ج. توقف نموده تا بوی بنزین از بین برود</p> <p>د. توقف نموده و مسئله را کاملاً بررسی مینماییم</p> <p>پاسخ صحیح: د</p>	<p>۹. کدام گزینه غلط است؟</p> <p>الف. توقف وسیله نقلیه در پیاده رو در صورت داشتن راننده بلامانع است</p> <p>ب. حمل مسافر با وسایل باربری ممنوع است</p> <p>ج. عبور وسایل نقلیه از پیاده رو ممنوع است</p> <p>د. سوار شدن یا سوار کردن افراد روی گلگیر یا رکاب وسیله نقلیه ممنوع است</p> <p>پاسخ صحیح: الف</p>

<p>۱۵. زمانی که تجربه کافی ندارید و به تازگی گواهینامه گرفته اید نسبت تصادف شما به سائز رانندگان چقدر می باشد؟</p> <p>الف. خیلی زیاد ب. تجربه نیاز نیست ج. قبولی امتحان شهر کافی می باشد د. فرقی نمی کند</p> <p>پاسخ صحیح: الف</p>	<p>۱۳. زمانی که راننده پشت سر در یک خیابان شلوغ و پرترافیک از شما میخواهد سبقت بگیرد و شما با سرعت مجاز در حال رانندگی هستید کدام اقدام صحیح تر است؟</p> <p>الف. بلافاصله ترمز کرده و راه را برای سبقت آزاد میکنیم ب. مسیر صحیح و مستقیم خود را ادامه می دهیم تا به راننده پشت سر فرصت دهید در شرایطی بی خطر سبقت بگیرد. ج. بر سرعت خود افزوده و از خودرو فاصله میگیریم د. از خود واکنش نشان داده و اجازه سبقت نمیدهیم</p> <p>پاسخ صحیح: ب</p>
<p>۱۶. کدام گزینه از موارد زیر در هنگام عبور احشام از جاده صحیح میباشد؟</p> <p>الف. باید فاصله مناسب را حفظ کنیم ب. از بوق زدن خودداری کنیم ج. از سرعت خود کاسته و آماده توقف میشویم د. تمام موارد</p> <p>پاسخ صحیح: د</p>	<p>۱۴. در زمانی که احساس بیماری یا خستگی میکنید ...</p> <p>الف. با احتیاط رانندگی می کنیم ب. با آب خود را خنک کرده و به مسیر ادامه می دهیم ج. نباید رانندگی کنیم د. دارو مصرف میکنیم و رانندگی میکنیم</p> <p>پاسخ صحیح: ج</p>

<p>۲۰. کدام فاصله بین دو اتومبیل راه خشک و هوا خوب باشد مناسب است؟</p> <p>الف. ۱ متر کافیست</p> <p>ب. با استفاده از ساعت اندازه میگیریم</p> <p>ج. شمارش یک تا دو</p> <p>د. فاصله دو ثانیه ای</p> <p>پاسخ صحیح: د</p>	<p>۱۷. مشاهده، پیش بینی، تمرکز آگاهی عدم حواس پرتی مربوط به کدام یک از موارد زیر است؟</p> <p>الف. آمادگی در رانندگی</p> <p>ب. مهارت در رانندگی</p> <p>ج. آگاهی از خطر</p> <p>د. رعایت حق تقدم</p> <p>پاسخ صحیح: الف</p>
<p>۲۱. کدامیک از موارد زیر قدرت واکنش و هماهنگی و تشخیص سرعت را مختل می کند؟</p> <p>الف. مصرف مشروبات الکلی و مواد مخدر</p> <p>ب. مصرف خوراکی در هنگام رانندگی</p> <p>ج. صحبت کردن با راننده</p> <p>د. همه موارد</p> <p>پاسخ صحیح: الف</p>	<p>۱۸. در شرایط یخبندان فاصله توقف چه مقدار ممکن است افزایش یابد؟</p> <p>الف. ۱ برابر</p> <p>ب. ۲ برابر</p> <p>ج. ۳ برابر</p> <p>د. ۴ برابر</p> <p>پاسخ صحیح: د</p>
<p>۲۲. کدام یک از موارد زیر کنترل شما را بر روی وسیله نقلیه کاهش می دهد؟</p> <p>الف. ترمزکردن</p> <p>ب. استفاده بیش از حد از دنده</p> <p>ب. استفاده از دنده های سبک</p> <p>د. مدت زیادی پای خود را روی کلاچ قرار دادن</p> <p>پاسخ صحیح: د</p>	<p>۱۹. چرا در سطح خیس جاده های خیس برفی لغزنده باید از دنده سنگین استفاده شود؟</p> <p>الف. جهت ترمز سریع</p> <p>ب. جهت حرکت صحیح</p> <p>ج. جهت ممانعت از لغزش چرخ ها</p> <p>د. جهت ممانعت از چپ و راست رفتن خودرو</p> <p>پاسخ صحیح: ج</p>

<p>۲۶. بی توجهی به علائم و مقررات رانندگی نشانه</p> <p>الف. عدم سواد کافی ب. عدم توانایی در رانندگی است ج. عدم تجربه رانندگی د. عدم بینایی چشم</p> <p>پاسخ صحیح: ب</p>	<p>۲۳. زمانیکه در یک جاده دو طرفه در حال حرکت هستید و اتومبیلی بدون رعایت فاصله جلوی شما قرار میگیرد چه اقدامی باید انجام داد؟</p> <p>الف. فاصله گرفته و فاصله ایمن را رعایت می کنیم ب. ترمز می کنیم ج. با زدن چراغ و بوق راننده را جهت یاد گرفتن فاصله با اطلاع می کنیم د. احتیاجی به رعایت فاصله در جاده دوطرفه نیست</p> <p>پاسخ صحیح: الف</p>
<p>۲۷. در شرایط آب و هوایی غیرعادی و محدودیت دید چگونه اطمینان میکنید که سایر رانندگان قادر به رویت شما هستند؟</p> <p>الف. با روشن کردن چراغ های سقف ب. با روشن کردن چراغهای نورپایین ج. با گرفتن ترمزهای ناگهانی د. با علامت دادن دست</p> <p>پاسخ صحیح: ب</p>	<p>۲۴. کدام اقدام در زمان مواجه شدن با حیوانات لازم است؟</p> <p>الف. از بوق استفاده می کنیم ب. آرام حرکت کرده و آماده توقف می شویم ج. سریع از آنها سبقت میگیریم د. هیچ کدام</p> <p>پاسخ صحیح: ب</p>
<p>۲۸. در هنگام رانندگی فاصله زمانی شما و اتومبیل جلویی در یک جاده خیس چقدر باید باشد؟</p> <p>الف. بین یک و دو ثانیه ب. یک ثانیه ج. دو ثانیه د. چهار ثانیه</p> <p>پاسخ صحیح: د</p>	<p>۲۵. قفل کودک در وسیله نقلیه به چه منظوری قرار داده شده است؟</p> <p>الف. جهت نگه داشتن کودک در صندلی ب. جهت جلوگیری از سرقت خودرو ج. برای اینکه کودکان بطور ناخواسته درب عقب را باز نکنند د. جهت اطمینان کامل از قفل شدن درب جلو</p> <p>پاسخ صحیح: ج</p>

۲۹. قرار گرفتن در باند سمت راست مربوط به

کدامیک از گزینه های زیر است؟

الف. زمانی که در یک خیابان یک طرفه قصد گردش به راست را داشته باشیم

ب. زمانی که در یک خیابان یک طرفه قصد گردش به چپ را داشته باشیم

ج. زمانی که در یک خیابان دو طرفه قصد گردش به چپ را داشته باشیم

د. زمانی که قصد سبقت داریم

پاسخ صحیح: الف

۳۰. شما با سرعت ۶۰ کیلومتر در ساعت در

یک جاده خشک در حال رانندگی هستید

فاصله شما با اتومبیل جلویی چقدر باید باشد؟

الف. به اندازه ۲ طول اتومبیل

ب. به اندازه ۳ طول اتومبیل

ج. به اندازه ۴ طول اتومبیل

د. به اندازه ۱ طول اتومبیل

پاسخ صحیح: ج



آزمون آیین نامه راهنمایی و رانندگی ایرانیان-تست درایو

سوالات آزمون آیین نامه شماره: ۲۲

www.test-drive.ir

<p>۱. کدامیک از موارد زیر لازمه شروع رانندگی است؟</p> <p>الف. کشیده شدن ترمز دستی</p> <p>ب. از بسته شدن کمربند خود و سایر سرنشینان مطمئن شویم</p> <p>ب. کم باد نبودن لاستیک ها</p> <p>د. پوشیدن کفش مناسب</p> <p>پاسخ صحیح: ب</p>	<p>۴. هنگام نزدیک شدن به پیچ تند در شرایط جاده خیس و یخبندان کدامیک از موارد زیر باید رعایت شود؟</p> <p>الف. تا حد امکان با دنده سنگین حرکت کنید</p> <p>ب. قبل از رسیدن به پیچ از سرعت خود بکاهید</p> <p>ج. از حرکت سریع فرمان به طرفین خودداری کنید</p> <p>د. هر سه مورد</p> <p>پاسخ صحیح: د</p>
<p>۲. کدام گزینه جزو مواردی است که موجب بهم خوردن تمرکز شما میشود؟</p> <p>الف. نگاه کردن به نقشه ها</p> <p>ب. گوش کردن به موزیک با صدای بلند</p> <p>ج. استفاده از تلفن همراه</p> <p>د. همه موارد</p> <p>پاسخ صحیح: د</p>	<p>۵. پایین بودن کدامیک از موارد زیر می تواند منجر به حادثه شود؟</p> <p>الف. آب باتری</p> <p>ب. ضدیخ</p> <p>ج. روغن ترمز</p> <p>د. گرمای موتور</p> <p>پاسخ صحیح: ج</p>
<p>۳. در هنگام رسیدن به گذرگاه هم سطح راه آهن چه اقدامی لازم است؟</p> <p>الف. چراغ فلاشر را روشن کنیم</p> <p>ب. عبور سریع</p> <p>ج. با دقت عبور کنیم</p> <p>د. توقف قبل از مانع</p> <p>پاسخ صحیح: د</p>	<p>۶. در تقاطع برای گردش به راست ...</p> <p>الف. از منتهی الیه سمت راست گردش می کنید</p> <p>ب. از منتهی الیه سمت چپ گردش می کنید</p> <p>ج. جهت گردش به سمت راست در تقاطع ها نیازی به منتهی الیه سمت راست ندارد</p> <p>د. از باند وسط گردش می کنید</p> <p>پاسخ صحیح: الف</p>

<p>۱۰. راهی که ارتباط بین خیابان های جمع و پخش کننده و بزرگ راهها را برقرار می کند چه نام دارد؟</p> <p>الف. خیابان های شریانی فرعی درجه یک</p> <p>ب. معابر محلی</p> <p>ج. خیابان های شریانی فرعی</p> <p>د. خیابان های شریانی اصلی</p> <p>پاسخ صحیح: د</p>	<p>۷. با شنیدن صدای آژیر وسایل نقلیه امدادی چه می کنید؟</p> <p>الف. با سرعت حرکت می کنیم</p> <p>ب. سریع تر حرکت می کنیم و با بوق زدن به اتومبیل های جلویی راه را برای وسایل نقلیه امدادی باز می کنیم</p> <p>ج. اتومبیل خود را به منتهی الیه سمت راست هدایت می کنیم و در صورت لزوم تا گذشتن وسایل نقلیه امدادی توقف می کنیم</p> <p>د. بلافاصله علامت داده همان جا متوقف می شوید</p> <p>پاسخ صحیح: ج</p>
<p>۱۱. کدامیک از موارد زیر مربوط به استفاده از باند سمت چپ در آزادراه می باشد؟</p> <p>الف. برای سبقت از سایر وسایل نقلیه</p> <p>ب. برای گرفتن شتاب گرفتن وسیله نقلیه</p> <p>ج. برای رانندگی در سرعت های بیش از ۹۰ کیلومتر در ساعت</p> <p>د. برای انجام کارهای تعمیراتی</p> <p>پاسخ صحیح: الف</p>	<p>۸. مطابق قانون کدامیک از گزینه های زیر در برابر دیگر سرنشینان مسئولیت دارد؟</p> <p>الف. راننده</p> <p>ب. مسافر روی صندلی جلو</p> <p>ج. با تجربه ترین شخص</p> <p>د. شخصی که دارای گواهینامه رانندگی است</p> <p>پاسخ صحیح: د</p>
<p>۱۲. کم بودن باد لاستیک بر کدام مورد ذیل تاثیر می گذارد؟</p> <p>الف. طولانی شدن عمر لاستیک</p> <p>ب. دیر ساییده شدن لاستیک</p> <p>ج. تعویض دنده</p> <p>د. ترمز کردن</p> <p>پاسخ صحیح: د</p>	<p>۹. حرکت با سرعت کم که موجب کندی عبور و مرور می گردد ...</p> <p>الف. خلاف مقررات است</p> <p>ب. دقیقا برابر مقررات است</p> <p>ج. در بعضی مواقع ایرادی ندارد</p> <p>د. در خیابان های فرعی ایرادی ندارد</p> <p>پاسخ صحیح: الف</p>

<p>۱۶. کدامیک از موارد زیر علت تصادف با اتومبیل جلویی است؟</p> <p>الف. استفاده از نور پایین</p> <p>ب. عدم توجه کافی به راه و نزدیک شدن بیش از حد به اتومبیل جلویی</p> <p>ج. نور زرد چراغ های مه شکن</p> <p>د. چراغ های راهنما</p> <p>پاسخ صحیح: ب</p>	<p>۱۳. اگر چراغ های جلوی وسیله نقلیه معیوب باشد ...</p> <p>الف. در روز حرکت می کنید و در شب آن را متوقف می نمایید</p> <p>ب. رانندگی با چنین وسیله ای ایراد ندارد</p> <p>ج. نقص فنی محسوب می شود و اجازه حرکت ندارید</p> <p>د. نقص فنی محسوب نمی شود</p> <p>پاسخ صحیح: ج</p>
<p>۱۷. کدامیک از اشکالات زیر خطر تصادف پشت سر را افزایش می دهد؟</p> <p>الف. نداشتن معاینه فنی</p> <p>ب. خراب بودن چراغ خطر دنده عقب</p> <p>ج. خرابی چراغ قرمز</p> <p>د. خراب بودن ترمز</p> <p>پاسخ صحیح: ج</p>	<p>۱۴. چرا کامیون های بزرگ در زمان گردش به راست به سمت چپ متمایل می شوند؟</p> <p>الف. چون کشنده و یدک از هم جدا هستند</p> <p>ب. برای اینکه وسیله نقلیه ای از سمت راست نتواند عبور کند</p> <p>ج. برای ممانعت از نزدیک شدن چراغ های عقب به جدول و رفتن روی آن</p> <p>د. هیچکدام</p> <p>پاسخ صحیح: ج</p>
<p>۱۸. از روی خط مقطع وسط خیابان ...</p> <p>الف. فقط می توان دور زد</p> <p>ب. فقط می توان سبقت گرفت</p> <p>ج. میتوان دور زد ولی نمی توان سبقت گرفت</p> <p>د. برای دور زدن و سبقت گرفتن می توان استفاده کرد</p> <p>پاسخ صحیح: د</p>	<p>۱۵. فاصله قبل و بعد از تونل ها برای سبقت گرفتن چند متر است؟</p> <p>الف. ۴۰ متر</p> <p>ب. ۱۰۰ متر</p> <p>ج. ۵۰ متر</p> <p>د. ۱۵۰ متر</p> <p>پاسخ صحیح: ب</p>

۲۲. زمانی که به دنبال یک کامیون در حال گردش به راست و وارد شدن به یک جاده

باریک است چه اقدامی باید انجام داد؟

الف. از او سبقت میگیرید

ب. آماده میشوید پشت او بایستید

ج. باید سرعت گرفت و از کامیون سبقت گرفت

د. به طرف راست رفته و با گردش کامیون به راه خود ادامه می دهیم

پاسخ صحیح: ب

۱۹. به هنگام خروج از پارک چه اعمالی باید انجام داد؟

الف. از آینه ها استفاده کرده و برای کنترل نهایی سر را به قسمت چپ برگردانده و عقب را نگاه کنید
ب. چنانچه لازم است سایر رانندگان آهسته برانند به آنها علامت دهید

ج. اگر اتومبیل دیگری در مقابل اتومبیل شما پارک نشده به عقب برگردید
د. با استفاده از دست می توان علامت داد

پاسخ صحیح: الف

۲۳. اگر تریلر پشت اتومبیل به طرفین متمایل شد چه کار باید کرد؟

الف. به شدت ترمز می کنیم

ب. کلاچ را تا پایین نگه داشته و فرمان را کنترل میکنیم

ج. سرعت و شتاب اتومبیل را کم می کنیم

د. سرعت را افزایش می دهیم

پاسخ صحیح: ج

۲۰. سبقت گرفتن در کدامیک از موارد زیر ممنوع است؟

الف. در مواقعی که میدان دید به هر علتی کافی نباشد

ب. در سر بالایی هایی که دید راننده کم است

ج. در جاده های صاف و هموار

پاسخ صحیح: ب

۲۴. حق تقدم با کدام خودرو می باشد؟

الف. سفید ۱

ب. سفید ۲

ج. هر دو با هم

د. مشکی



پاسخ صحیح: د

۲۱. در زمانی که قصد گردش به چپ و یا راست را دارید از چه فاصله ای باید راهنما بزنید؟

الف. از فاصله ۵۰ متری

ب. از فاصله ۷۵ متری

ج. از فاصله ۲۵ متری

د. از فاصله ۱۰۰ متری

پاسخ صحیح: د

۲۵. در تقاطع حق تقدم با کدام خودرو می باشد؟



- الف. قرمز
- ب. مشکی
- ج. سفید
- د. باهم

پاسخ صحیح: ب

۲۸. موثرترین و راحت ترین روش جا به جایی کالا و افراد با کمترین میزان مصرف انرژی کمترین ترافیک و هزینه جابه جایی و کمترین اثرات سوء زیست محیطی چیست؟

- الف. حمل و نقل با موتور
- ب. حمل و نقل با سواری
- ج. حمل و نقل پایدار
- د. حمل و نقل ناپایدار

پاسخ صحیح: ج

۲۶. حق تقدم در تقاطع روبرو را مشخص نمایید؟



- الف. آبی-زرد-قرمز-سبز
- ب. قرمز-سبز-آبی-زرد
- ج. زرد-سبز-آبی-قرمز
- د. سبز-قرمز-آبی و زرد با هم

پاسخ صحیح: د

۲۹. مهمترین آلودگی حمل و نقل چیست؟

- الف. آلودگی صوتی
- ب. آلودگی هوا
- ج. آلودگی دیداری
- د. آلودگی موانع

پاسخ صحیح: ب

۲۷. برای پارک کردن در کنار خیابان حق تقدم با وسیله ای است که:

- الف. چراغ خطر عقب اتومبیلش روشن باشد
- ب. با حرکت به جلو مشغول پارک باشد
- ج. با دنده عقب در حال پارک کردن باشد
- د. هیچکدام

پاسخ صحیح: ب

۳۰. مهمترین عامل آلودگی هوا در حمل و نقل چیست؟

- الف. دی اکسید کربن
- ب. مونواکسید کربن
- ج. ذرات معلق در هوا
- د. هیدروکربن ها

پاسخ صحیح: ب



آزمون آیین نامه راهنمایی و رانندگی ایرانیان-تست درایو

سوالات آزمون آیین نامه شماره: ۲۳

www.test-drive.ir

<p>۱. مهمترین عامل اتلاف سوخت و انرژی در خودروها چیست؟</p> <p>الف. عدم تنظیم موتور و احتراق ناقص در سیلندرها</p> <p>ب. تنظیم باد تایرها</p> <p>ج. سرعت نامناسب</p> <p>ج. فیلتر هوای نامناسب</p> <p>پاسخ صحیح: الف</p>	<p>۴. سرعت بهینه برای بیشتر خودروها به لحاظ مصرف سوخت چه می باشد؟</p> <p>الف. دنده ۴ سرعت ۸۰ کیلومتر</p> <p>ب. دنده ۴ سرعت ۱۰۰ کیلومتر</p> <p>ج. دنده ۴ سرعت ۱۲۰ کیلومتر</p> <p>د. دنده ۳ سرعت ۸۰ کیلومتر</p> <p>پاسخ صحیح: الف</p>
<p>۲. جهت گرم کردن موتور مناسب ترین عمل چه کار می باشد؟</p> <p>الف. در جا کار کردن</p> <p>ب. گاز دادن پی در پی</p> <p>ج. چند کیلومتر اول را آهسته و با دنده پایین برانیم</p> <p>د. ابتدا با سرعت می رانیم</p> <p>پاسخ صحیح: ج</p>	<p>۵. کدامیک از عوامل زیر باعث افزایش مصرف سوخت خودرو می شود؟</p> <p>الف. پایین بودن پنجره خودرو در سرعت های بالا</p> <p>ب. استفاده از کولر در مسیرهای سربالایی</p> <p>ج. سرعت زیاد و ترمزهای پی در پی</p> <p>د. تمام موارد</p> <p>پاسخ صحیح: د</p>
<p>۳. تعویض به موقع فیلتر هوا باعث چه عاملی می شود؟</p> <p>الف. کاهش مصرف سوخت</p> <p>ب. سرعت بهتر خودرو</p> <p>ج. جلوگیری از نشر گازهای آلاینده خروجی از اگزوز</p> <p>د. گزینه الف و ج</p> <p>پاسخ صحیح: د</p>	<p>۶. فشار داخلی لاستیک ها هر چند وقت باید بررسی شود؟</p> <p>الف. هر ماه یکبار</p> <p>ب. هر روز یک بار</p> <p>ج. یک بار در هفته</p> <p>د. هر ماه دو بار</p> <p>پاسخ صحیح: ج</p>

<p>۱۰. برای سبقت گرفتن در روز چگونه باید عمل کرد؟</p> <p>الف. با چند بوق زدن کوتاه</p> <p>ب. با چراغ زدن</p> <p>ج. با حرکت دست</p> <p>د. با زدن راهنما</p> <p>پاسخ صحیح: الف</p>	<p>۷. در صورتی که قفسه سینه بیمار حرکت می کند اما جریان هوا شنیده یا احساس نشود نشانه چیست؟</p> <p>الف. انسداد راه هوایی ریه</p> <p>ب. فشار خون</p> <p>ج. قلب</p> <p>د. ستون فقرات</p> <p>پاسخ صحیح: الف</p>
<p>۱۱. در صورتی که لاستیک اتومبیل صاف باشد باعث می شود که هنگام ترمز کردن ...</p> <p>الف. اتومبیل فوراً متوقف شود</p> <p>ب. اتومبیل به موقع توقف ننموده و باعث تصادف می گردد</p> <p>ج. تاثیری در کیفیت توقف ندارد</p> <p>د. هیچکدام</p> <p>پاسخ صحیح: ب</p>	<p>۸. روش یک طول اتومبیل و روش دو ثانیه زمان برای چیست؟</p> <p>الف. شرایط جوی</p> <p>ب. مسافت</p> <p>ج. زمان</p> <p>د. فاصله با اتومبیل جلویی</p> <p>پاسخ صحیح: د</p>
<p>۱۲. حداقل فاصله ای را که رانندگان وسیله نقلیه بایستی از طریق آینه ها پشت سرشان را رویت کنند چقدر است؟</p> <p>الف. ۱ متر</p> <p>ب. ۲ متر</p> <p>ج. ۳ متر</p> <p>د. ۴ متر</p> <p>پاسخ صحیح: ب</p>	<p>۹. نظارت با دوربین پلیس جزء چه تابلویی است؟</p> <p>الف. اخباری</p> <p>ب. اختطاری</p> <p>ج. انتظامی</p> <p>د. محلی</p> <p>پاسخ صحیح: د</p>

<p>۱۶. هنگام پارک اتومبیل در کنار خیابان حق تقدم با وسیله ای است که:</p> <p>الف. زودتر رسیده باشد</p> <p>ب. با حرکت به جلو مشغول پارک است</p> <p>ج. ضمن حرکت به جلو با دنده عقب مشغول پارک کردن است</p> <p>د. وسیله ای که بزرگتر است</p> <p>پاسخ صحیح: ج</p>	<p>۱۳. صدای بوق وسیله نقلیه حداقل بایستی از چه فاصله ای شنیده شود؟</p> <p>الف. ۱ متری</p> <p>ب. ۲ متری</p> <p>ج. ۳ متری</p> <p>د. ۴ متری</p> <p>پاسخ صحیح: ج</p>
<p>۱۷. خطوط پر و مقطع وسط بعضی از خیابان ها دارای چه مفهومی است؟</p> <p>الف. تقسیم راه به دو قسمت برای عبور دو طرفه</p> <p>ب. تقسیم راه به یک قسمت یک طرفه</p> <p>ج. تقسیم راه به سه قسمت برای عبور دو طرفه</p> <p>د. تقسیم راه برای جدا کننده</p> <p>پاسخ صحیح: الف</p>	<p>۱۴. حداقل فاصله ای که رانندگان وسایل نقلیه بایستی بتوانند اشیا و اشخاص مقابل را بوضوح مشاهده کنند چقدر است؟</p> <p>الف. ۱ متری</p> <p>ب. ۲ متری</p> <p>ج. ۳ متری</p> <p>د. ۴ متری</p> <p>پاسخ صحیح: ب</p>
<p>۱۸. در صورت تغییر محل سکونت مالک وسیله نقلیه باید ...</p> <p>الف. آدرس محل جدید را ظرف ۱۰ روز به نیروی انتظامی اطلاع دهد</p> <p>ب. آدرس محل جدید را ظرف یک هفته به نیروی انتظامی اعلام نماید</p> <p>ج. وسیله نقلیه را بفروشد</p> <p>د. اقدام خاصی لازم نیست انجام دهد</p> <p>پاسخ صحیح: الف</p>	<p>۱۵. دور زدن از چه فاصله ای مانده به پیچ ها و سربالایی ها ممنوع است؟</p> <p>الف. ۱ متری</p> <p>ب. ۲ متری</p> <p>ج. ۳ متری</p> <p>د. ۴ متری</p> <p>پاسخ صحیح: الف</p>

<p>۲۲. زیاد بودن باد تأیر باعث چه می شود؟</p> <p>الف. فرمان پذیری خودرو را کاهش میدهد و باعث ایجاد خطر می شود</p> <p>ب. فرمان پذیری خودرو را افزایش می دهد</p> <p>ج. کاهش مصرف سوخت</p> <p>د. حرکت سریع و پر شتاب</p> <p>پاسخ صحیح: الف</p>	<p>۱۹. شما اولین نفری هستید که به محل تصادف میرسید کدام مورد را باید انجام دهید؟</p> <p>الف. افراد زخمی را از اتومبیل خارج کنیم</p> <p>ب. به اورژانس خبر دهیم</p> <p>ج. موتور اتومبیل حادثه دیده را خاموش کنیم و با افراد صحبت کنیم و آنها را آرام کنیم و نیروهای امدادی را خبر کنیم</p> <p>د. محل حادثه را فوراً ترک کنیم</p> <p>پاسخ صحیح: ج</p>
<p>۲۳. چه عاملی باعث افزایش مسیر توقف شده و احتمال بروز حادثه و تصادف را بالا میبرد؟</p> <p>الف. عدم دقت در رانندگی</p> <p>ب. گوش دادن به موسیقی</p> <p>ج. خرابی و نقص ترمز</p> <p>د. حرکت با دنده خلاص</p> <p>پاسخ صحیح: ج</p>	<p>۲۰. مهمترین عضو در رانندگی چیست؟</p> <p>الف. پاها</p> <p>ب. چشم ها</p> <p>ج. دست ها</p> <p>د. همه موارد</p> <p>پاسخ صحیح: ب</p>
<p>۲۴. در زمان ترمز گیری چه عاملی را باید مد نظر قرار داد؟</p> <p>الف. اندازه خودرو</p> <p>ب. وزن و بار خودرو</p> <p>ج. شرایط جاده و تایرها</p> <p>د. تمام موارد</p> <p>پاسخ صحیح: د</p>	<p>۲۱. کم بودن باد تأیر باعث چه می شود؟</p> <p>الف. فرسایش تایرها</p> <p>ب. افزایش مصرف سوخت</p> <p>ج. از دست رفتن تعادل، هدایت پذیری و فرمان پذیری</p> <p>د. همه موارد</p> <p>پاسخ صحیح: د</p>

<p>۲۵. توقف در چه سطوحی نیازمند طی زمان و مسافت بیشتری می باشد؟</p> <p>الف. لغزنده</p> <p>ب. سرازیری</p> <p>ج. سربالایی</p> <p>د. موارد الف و ب</p> <p>پاسخ صحیح: د</p>	<p>۲۸. در طول عبور از خط راه آهن نباید</p> <p>الف. دنده عوض کرد</p> <p>ب. نباید ایست گرفت</p> <p>ج. ترمز گرفت</p> <p>د. تمام موارد</p> <p>پاسخ صحیح: الف</p>
<p>۲۶. مسافت توقف در چه جاده هایی افزایش خواهد یافت؟</p> <p>الف. جاده آغشته به قیر</p> <p>ب. جاده ای که شن و ماسه در سطح آسفالت وجود داشته باشد</p> <p>ج. شرایط آب و هوایی بد</p> <p>د. تمامی موارد</p> <p>پاسخ صحیح: د</p>	<p>۲۹. در تقاطع در صورت نداشتن خط ایست در چه فاصله ای از چراغ راهنمایی توقف میکنیم؟</p> <p>الف. ۷ متری</p> <p>ب. ۵ متری</p> <p>ج. ۳ متری</p> <p>د. ۱ متری</p> <p>پاسخ صحیح: ب</p>
<p>۲۷. تجاوز وسیله نقلیه به مسیر مقابل در جاده دو طرفه:</p> <p>الف. ممنوع است</p> <p>ب. مجاز است</p> <p>ج. در زمان سبقت با رعایت ضوابط سبقت مجاز است</p> <p>د. در صورت خلوت بودن مسیر ایرادی ندارد</p> <p>پاسخ صحیح: ج</p>	<p>۳۰. در هنگام عبور از خط راه آهن وقتی صدای قطار را میشنوید و اتومبیل گیر کرده باید چه کرد؟</p> <p>الف. سریع اتومبیل را روشن کرده و حرمت کنید</p> <p>ب. سریع اتومبیل را هل داده و از خط خارج کنید</p> <p>ج. سریع محل را ترک کنید</p> <p>د. سریع به قطار علامت دهید</p> <p>پاسخ صحیح: ج</p>



آزمون شماره ۱
نمونه سوالات آزمون آیین نامه اصلی با جواب

<p>۱- در برخورد راه اصلی با راه فرعی حق تقدم عبور با وسیله ای است که ؟</p> <p>✓ (۱) از راه اصلی عبور می کند</p> <p>(۲) از راه فرعی عبور می کند</p> <p>(۳) به سمت راست گردش می کند</p> <p>(۴) در طرف راست وسیله نقلیه دیگر قرار دارد</p>	<p>۲- علائم هشدار دهنده برای خطر به چه شکلی ترسیم می گردند ؟</p> <p>(۱) هشت گوشه</p> <p>(۲) دایره ای</p> <p>(۳) لوزی شکل</p> <p>✓ (۴) مثلث</p>
<p>۳- در راه های شیب دار کوهستانی که در آنها عبور دو وسیله نقلیه کنار هم مشکل می باشد حق تقدم عبور با کدام است ؟</p> <p>(۱) وسیله نقلیه ای که در سرازیری در حال حرکت است</p> <p>(۲) حق تقدم با وسیله نقلیه سبک می باشد</p> <p>✓ (۳) وسیله نقلیه ای که در سربالایی در حال حرکت است</p> <p>(۴) حق تقدم با وسایل نقلیه سنگین است</p>	<p>۴- علائم اخباری برای گرفتن سبقت در شب کدام مورد است ؟</p> <p>✓ (۱) تعویض نور چراغ بالا به پایین</p> <p>(۲) بوق کوتاه و چراغ راهنما</p> <p>(۳) اشاره با دست</p> <p>(۴) افزایش سرعت و تبدیل متناوب نور چراغ</p>
<p>۵- حداکثر سرعت در بزرگراه های واقع در شهر ها و مناطق مسکونی چند کیلومتر در ساعت است ؟</p> <p>✓ (۱) ۱۰۰</p> <p>(۲) ۱۲۰</p> <p>(۳) ۱۱۰</p> <p>(۴) ۱۲۵</p>	<p>۶- در معابر محلی حداکثر سرعت چند کیلومتر در ساعت می باشد ؟</p> <p>(۱) ۴۰</p> <p>(۲) ۵۰</p> <p>(۳) ۴۵</p> <p>✓ (۴) ۳۰</p>
<p>۷- در هنگام روبرو شدن با وسیله نقلیه ای که از جهت مخالف حرکت می کند برای افزایش ایمنی تردد از چه فاصله ای باید چراغ نور پایین استفاده نمود ؟</p> <p>✓ (۱) ۱۵۰ متری</p> <p>(۲) ۵۰ متری</p> <p>(۳) ۱۰۰ متری</p> <p>(۴) ۷۵ متری</p>	<p>۸- کدام مورد زیر از مصادیق رانندگی پرخطر و پرخطرانه است ؟</p> <p>۱- رانندگی بین خطوط</p> <p>(۲) توقف پشت خط ایست</p> <p>(۳) رعایت فاصله طولی</p> <p>✓ (۴) مانور و تغییر مسیر به طور مکرر</p>

آزمون شماره ۱
نمونه سوالات آزمون آیین نامه اصلی با جواب

<p>۱۰- یکی از عوامل اصلی حوادث جاده ای مرگ و میر در گروه سنی زیر ۴۰ سال در کشور ایران چه چیزی می باشد ؟</p> <p>(۱) رعایت قوانین و مقررات</p> <p>(۲) رعایت سرعت مطمئنه</p> <p>(۳) رعایت اصول ایمنی</p> <p>(۴) بی توجهی به فرهنگ رانندگی عدم رعایت قوانین و مقررات ✓</p>	<p>۹- از جمله احتیاط های لازم در هنگام وقوع تصادفات انجام کدامیک از موارد زیر اشتباه است ؟</p> <p>✓ (۱) روشن نگه داشتن خودرو حتی در صورتی که خودرو قابلیت حرکت ندارد</p> <p>(۲) هشدار توسط افراد به دیگر رانندگان تا سرعت خودرو را کاهش دهند</p> <p>(۳) استفاده از تابلوهای اعلام خطر</p> <p>(۴) تذکر جهت روشن نکردن سیگار در صورت آسیب باک سوخت خودروها</p>
<p>۱۲- وظیفه کنیستر در خودرو چیست ؟</p> <p>(۱) از تبخیر روغن موتور جلوگیری می کند</p> <p>(۲) عمر باتری را طولانی می کند</p> <p>(۳) از تبخیر آب رادیاتور جلوگیری می کند</p> <p>(۴) از ورود بخار های بنزین به فضای آزاد جلوگیری می کند ✓</p>	<p>۱۱- به مجموع رفتارهای منفی در رانندگی چه می گویند ؟</p> <p>(۱) رانندگی مطمئنه</p> <p>(۲) رانندگی ایمن</p> <p>✓ (۳) رانندگی خطر ساز و یا رانندگی تهاجمی</p> <p>(۴) فرهنگ رانندگی</p>
<p>۱۴- در ارزیابی مصدومین کدامیک از مصدومین را باید در اولویت انجام کمک های اولیه قرار داد ؟</p> <p>(۱) مصدومینی که آسیب های آنها کم تر است</p> <p>(۲) کودکان در اولویت انجام کمک های اولیه هستند</p> <p>(۳) مصدومینی که از سن بالاتری نسبت به سایر مصدومین برخوردارند</p> <p>✓ (۴) مصدومینی که آسیب آنها بسیار شدید است نظیر سوختگی ها یا زخم های وسیع</p>	<p>۱۳- میزان کارایی روغن های معمولی موتور چند کیلومتر می باشد ؟</p> <p>✓ (۱) در حدود ۸ تا ۱۰ هزار کیلومتر</p> <p>(۲) در حدود ۸۰ تا ۱۰۰ هزار کیلومتر</p> <p>(۳) در حدود ۲ هزار کیلومتر</p> <p>(۴) هزار کیلومتر</p>

آزمون شماره ۱
نمونه سوالات آزمون آیین نامه اصلی با جواب

<p>۱۶- کدام یک از موارد زیر جزو رفتار ناهنجار اجتماعی و ناپسند نمی باشد ؟</p> <p>(۱) نصب بوق های گوش خراش</p> <p>(۲) رانندگی با سرعت مجاز ✓</p> <p>(۳) نصب سیستم های صوتی پر قدرت</p> <p>(۴) استفاده از لامپ های غیر مجاز</p>	<p>۱۵- اگر خودرویی با نور بالا از روبرو به شما نزدیک شود چه باید بکنید ؟</p> <p>(۱) باید سرعت را افزایش داده و سریع از کنار آن عبور کرد</p> <p>(۲) باید با تبدیل نور پایین به نور بالا و بوق ممتد او را متوجه نمود که نور پایین استفاده کند</p> <p>(۳) باید سرعت را کاهش داده و به سمت چپ جاده نگاه کرد</p> <p>(۴) سرعت را کاهش داده و به سمت راست جاده نگاه کرده و با کنار چشم حرکت خودروی مقابل را تحت نظر داشت ✓</p>
<p>۱۸- از زمانی که راننده تشخیص می دهد نیاز به توقف دارد تا لحظه به کار گرفتن ترمز های چه نام دارد ؟</p> <p>(۱) مسافت توقف</p> <p>(۲) مسافت ترمز</p> <p>(۳) زمان واکنش ✓</p> <p>(۴) زمان ترمز</p>	<p>۱۷- به منظور جلوگیری از آسیب رسی به بخش های موتور تسمه تایم پس از طی چه مسافتی بایستی تعویض شود ؟</p> <p>(۱) بین ۱۰ تا ۱۵ هزار کیلومتر</p> <p>(۲) بین ۶۰ تا ۹۰ هزار کیلومتر ✓</p> <p>(۳) با هر بار تعویض روغن</p> <p>(۴) هر ۵ هزار کیلومتر</p>
<p>۲۰- در کدامیک از موارد زیر بوق زدن مجاز است ؟</p> <p>(۱) صدا زدن افراد</p> <p>(۲) سبقت مجاز در روز ✓</p> <p>(۳) اعلام حضور و باز کردن در منزل</p> <p>(۴) خدا حافظی</p>	<p>۱۹- توقف و یا ایستادن در کدامیک از محل های زیر مجاز است ؟</p> <p>(۱) گذرگاه پیاده</p> <p>(۲) پیاده رو</p> <p>(۳) کنار وسایل نقلیه ای که خود متوقف می باشد</p> <p>(۴) محدوده پارک آزاد ✓</p>

آزمون شماره ۱
نمونه سوالات آزمون آیین نامه اصلی با جواب

۲۱- این تابلو بیانگر چیست ؟



- (۱) رعایت حق تقدم
- (۲) به تابلوی رعایت حق تقدم نزدیک می شوید ✓
- (۳) به تابلو ایست نزدیک می شوید
- (۴) تقاطع فرعی و اصلی

۲۲- نام این تابلو چیست ؟



- (۱) عبور دوچرخه ممنوع
- (۲) عبور موتور گازی ممنوع
- (۳) فقط عبور دوچرخه
- (۴) عبور دوچرخه سوار ✓

۲۳- نام این تابلو چیست ؟



- (۱) آزاد راه
- (۲) پایان آزاد راه ✓
- (۳) پل متحرک
- (۴) شانه خطرناک

۲۴- نام این تابلو چیست ؟



- (۱) حداقل سرعت ۶۰ کیلومتر
- (۲) رعایت فاصله کم تر از ۶۰ متر ممنوع
- (۳) سرعت بیش از ۶۰ کیلومتر بر ساعت ممنوع
- (۴) سرعت توصیه شده ✓

آزمون شماره ۱
نمونه سوالات آزمون آیین نامه اصلی با جواب

۲۵- کدام تابلو مربوط به پارکینگ می باشد ؟



۲۶- نام این تابلو چیست ؟



- (۱) چاله ✓
- (۲) راه لغزنده
- (۳) دست انداز
- (۴) شانه خطرناک

۲۷- نام این تابلو چیست ؟



- (۱) پیچ های پی در پی
- (۲) شانه خطرناک
- (۳) راه لغزنده ✓
- (۴) راه از راست باریک می شود


۲۸- این تابلو بیان گر چیست ؟



- (۱) دور زدن ممنوع ✓
- (۲) گردش به چپ ممنوع
- (۳) پیچ های پی در پی
- (۴) پیچ به چپ

آزمون شماره ۱
نمونه سوالات آزمون آیین نامه اصلی با جواب

۲۹- این تابلو بیان گر چیست ؟



- (۱) ورود ممنوع
- (۲) رعایت حق تقدم
- (۳) خیابان اصلی ✓
- (۴) عبور کلیه وسایل نقلیه ممنوع

۳۰- نام این تابلو چیست ؟



- (۱) پرتاب سنگ ✓
- (۲) ریزش سنگ
- (۳) شانه خطرناک
- (۴) دست انداز

آزمون شماره ۲
نمونه سوالات آزمون آیین نامه اصلی با جواب

<p>۲- در محل توقف (پارک) کنار خیابان حق تقدم با وسیله نقلیه ای است که ؟ (۱) وابسته به سازمان های دولتی است (۲) مستقیم و در مسیر مجاز حرکت می نماید (۳) ضمن حرکت به عقب مشغول توقف یا پارک کردن ✓ است (۴) ابعاد بزرگ تری دارد</p>	<p>۱- در راه های مسطح که دو طرف راه منتهی به کوه و پرتگاه می باشد حق تقدم عبور با وسیله نقلیه ای است که ؟ (۱) در طرف کوه قرار دارد (۲) سرعت بالاتری دارد (۳) در طرف پرتگاه قرار دارد ✓ (۴) سرعت کم تری دارد</p>
<p>۴- چند متر بعد از تونل و پل ها سبقت آزاد است ؟ (۱) ۵۰ متری (۲) سبقت از انتهای آنها مجاز است (۳) ۱۰۰ متری ✓ (۴) ۷۰ متری</p>	<p>۳- در چند متری ورودی تونل ها سبقت گرفتن ممنوع است ؟ (۱) ۱۸۰ متری (۲) ۱۵۰ متری (۳) ۲۰۰ متری (۴) ۱۰۰ متری ✓</p>
<p>۶- حداکثر میزان سرعت مجاز در بزرگراه های بیرون شهری برای سواری چند کیلومتر در ساعت است ؟ (۱) ۸۵ کیلومتر در ساعت (۲) ۹۵ کیلومتر در ساعت (۳) ۱۲۵ کیلومتر در ساعت (۴) ۱۱۰ کیلومتر در ساعت ✓</p>	<p>۵- در بزرگراه های بیرون شهر ، حداکثر سرعت مجاز برای انواع وانت بار چند کیلومتر در ساعت است ؟ (۱) ۱۲۰ (۲) ۱۲۵ (۳) ۱۱۰ ✓ (۴) ۱۳۰</p>
<p>۸- تا چه فاصله ای از تقاطع ها و میادین توقف وسایل نقلیه ممنوع است ؟ (۱) ۲۰ متری (۲) ۱۵ متری ✓ (۳) ۳۰ متری (۴) ۲۵ متری</p>	<p>۷- استفاده از چراغ های رنگا رنگ و چشمک زن در وسایل نقلیه ؟ (۱) ممنوع است مگر با اخذ مجوز از مراجع ذیصلاح ✓ (۲) مجاز است (۳) محدودیتی ندارد (۴) در معابر شهری ممنوع نیست</p>

آزمون شماره ۲
نمونه سوالات آزمون آیین نامه اصلی با جواب

<p>۹- کدامیک از پاسخ های زیر در خصوص نقص در سیستم جلو بندی و یا شکستگی آن صحیح است ؟</p> <p>(۱) تایرهای عقب خودرو ساییده می شود</p> <p>(۲) مصرف سوخت افزایش می یابد</p> <p>(۳) هدایت و کنترل خودرو از دست راننده خارج می گردد ✓</p> <p>(۴) رادیاتور خودرو جوش می آورد</p>	<p>۱۰- کدام یک از موارد زیر در خصوص عبور از روی خط آهن صحیح می باشد ؟</p> <p>(۱) در حین عبور از خط آهن بایستی دنده خودرو را از دنده سبک به دنده سنگین تغییر داد</p> <p>(۲) در حین عبور از خط آهن می بایستی از تعویض دنده خودداری نمود ✓</p> <p>(۳) در حین عبور از خط آهن دنده خودرو را از دنده سنگین به دنده سبک تغییر داد</p> <p>(۴) قبل از رسیدن به خط آهن باید سرعت را افزایش داده و با سرعت از خط آهن عبور نمود</p>
<p>۱۱- هرگاه دارنده گواهینامه رانندگی یکی از شرایط پزشکی مربوط برای رانندگی را از دست بدهد بایستی ؟</p> <p>(۱) با همان وضعیت به رانندگی ادامه دهد</p> <p>(۲) ظرف مدت یک ماه به راهنمایی و رانندگی مراجعه نماید ✓</p> <p>(۳) به آن توجهی ننماید</p> <p>(۴) به درمانگاه مراجعه نماید</p>	<p>۱۲- در گذرگاه پیاده که فاقد چراغ راهنمایی و رانندگی است حق تقدم عبور با کدام است ؟</p> <p>(۱) وسیله نقلیه در حال حرکت</p> <p>(۲) پیادگان ✓</p> <p>(۳) وسیله نقلیه در حال گردش</p> <p>(۴) وسیله نقلیه که متوقف شده است</p>
<p>۱۳- یکی از علت های نقض قوانین و مقررات و بی احترامی به سایر رانندگان و انجام اقدامات حادثه ساز توسط راننده کدام مورد می باشد ؟</p> <p>(۱) داشتن خودروی ایمنی</p> <p>(۲) وقت شناس نبودن و عدم برنامه ریزی مناسب برای رسیدن به مقصد</p> <p>(۳) از مهارت و تجربه کافی در رانندگی برخوردار است</p> <p>(۴) راننده در زمان خلوتی معابر میتواند قوانین و مقررات را نقض و اقدامات حادثه ساز انجام دهد ✓</p>	<p>۱۴- کدام مورد زیر از مصادیق حقوق شهروندی در حین رانندگی است ؟</p> <p>(۱) حرکت با سرعت غیر مجاز</p> <p>(۲) حرکت غیر ایمن</p> <p>(۳) حرکت مارپیچ در رانندگی</p> <p>(۴) حرکت بین خطوط ترافیک ✓</p>

آزمون شماره ۲
نمونه سوالات آزمون آیین نامه اصلی با جواب

<p>۱۶- برای راه اندازی خودرو راننده در چه مرحله ای بایستی کمربند ایمنی را ببندد ؟</p> <p>(۱) در حین حرکت</p> <p>(۲) پس از روشن کردن موتور خودرو ✓</p> <p>(۳) قبل از روشن کردن موتور خودرو</p> <p>(۴) نیازی به بستن کمربند ایمنی نمی باشد</p>	<p>۱۵- یکی از راه های کاهش مصرف سوخت کدام است ؟</p> <p>(۱) حرکت با سرعت زیاد</p> <p>(۲) عدم تنظیم موتور</p> <p>(۳) تنظیم باد تایرها ✓</p> <p>(۴) باز کردن ترموستات خودرو در تابستان</p>
<p>۱۸- یکی از مزیت های ترمز های ضد قفل ABS عبارت است از ؟</p> <p>(۱) در هنگام ترمز گیری از قفل شدن درهای خودرو جلوگیری می کند</p> <p>(۲) در هنگام ترمز گیری مسافت توقف خودرو را افزایش می دهد</p> <p>(۳) در هنگام ترمز گیری موجب سر خوردن وسیله نقلیه می شود</p> <p>(۴) در هنگام ترمز گیری امکان فرمان دادن و هدایت ✓ بهتر خودرو را می دهد</p>	<p>۱۷- کدام قطعه از ورود گرد و غبار به داخل موتور جلوگیری می کند ؟</p> <p>(۱) انژکتور</p> <p>(۲) صافی بنزین</p> <p>(۳) صافی هوا ✓</p> <p>(۴) پروانه</p>
<p>۲۰- در هنگام پارک در سربالایی و در راه بدون بدون جدول ، فرمان وسیله نقلیه باید به کدام سمت چرخانده شود ؟</p> <p>(۱) سمت چپ</p> <p>(۲) تفاوتی ندارد</p> <p>(۳) سمت راست ✓</p> <p>(۴) مخالف عقربه ساعت</p>	<p>۱۹- تا چند متری ورودی و خروجی مراکز فوریت های پزشکی ایستادن وسایل نقلیه ممنوع است ؟</p> <p>(۱) ۱۵۰ متری</p> <p>(۲) ۲۰ متری</p> <p>(۳) ۱۵ متری ✓</p> <p>(۴) محدودیتی ندارد</p>

آزمون شماره ۲
نمونه سوالات آزمون آیین نامه اصلی با جواب

۲۱- این تابلو بیان گر چیست ؟



- (۱) جهت عبور در میدان
- (۲) رعایت حق تقدم
- (۳) به تابلوی ایست نزدیک می شوید ✓
- (۴) به میدان نزدیک می شوید

۲۲- نام این تابلو چیست ؟



- (۱) راه از چپ باریک می شود ✓
- (۲) پیچ به راست
- (۳) جاده باریک می شود
- (۴) خطر

۲۳- این تابلو بیان گر چیست ؟



- (۱) شروع محل پیاده روی
- (۲) شیب سربالایی ۱۰ درصد
- (۳) زیر گذر یا رو گذر ✓
- (۴) گذرگاه پیاده

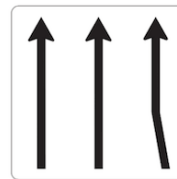
۲۴- نام این تابلو چیست ؟



- (۱) تونل
- (۲) ورود به شهر
- (۳) پایان شهر
- (۴) پایان تونل ✓

آزمون شماره ۲
نمونه سوالات آزمون آیین نامه اصلی با جواب

۲۵- کدام تابلو بیان گر "خط عبور برای گریز" می باشد ؟



۲۶- این تابلو بیان گر چیست ؟



- ۱) ایست ✓
- ۲) ایستادن ممنوع
- ۳) عبور وسایل نقلیه موتور ممنوع
- ۴) سبقت ممنوع

۲۷- این تابلو بیان گر چیست ؟



- ۱) پیچ به چپ
- ۲) پیچ به راست
- ۳) گردش به چپ ممنوع
- ۴) گردش به راست ممنوع ✓

۲۸- این تابلو بیان گر چیست ؟



- ۱) عبور کلیه وسایل نقلیه ممنوع
- ۲) حق تقدم عبور با شما
- ۳) حق تقدم عبور با وسیله نقلیه مقابل است
- ۴) سبقت ممنوع ✓

آزمون شماره ۲
نمونه سوالات آزمون آیین نامه اصلی با جواب

۲۹- نام این تابلو چیست ؟



- (۱) تونل
- (۲) تقاطع ✓
- (۳) بن بست
- (۴) پایان آزاد راه

۳۰- نام این تابلو چیست ؟



- (۱) ریزش سنگ ✓
- (۲) پرتاب سنگ
- (۳) راه لغزنده
- (۴) جاده باریک می شود

آزمون شماره ۳
نمونه سوالات آزمون آیین نامه اصلی با جواب

<p>۲- در راه هایی که مسیر حرکت وسایل نقلیه به علت وجود موانع ثابت اعم از وسایل نقلیه پارک شده ، مصالح ساختمانی ، اشیا ، عملیات عمرانی ، حفاری و خرابی راه بسته و یا برای عبور از مسیر مجاز کافی نباشد ، حق تقدم عبور با وسیله ای است که ؟</p> <p>(۱) به مسیر راست گردش می کند</p> <p>(۲) مسیر عبور آنها باز یا سهم عبور بیشتری ✓</p> <p>را دارا می باشد</p> <p>(۳) به طور مستقیم و در سمت و مسیر مجاز حرکت می کند</p> <p>(۴) مسیر عبور آنها بسته یا سهم کم تری را دارا می باشد</p>	<p>۱- حرکت کردن از روی خطوط هاشور در حاشیه راه ها که معمولا کناره اتوبان ها ، آزادراه ها ، بزرگراه ها و تونل ها کشیده می شوند ؟</p> <p>(۱) مجاز است</p> <p>(۲) در شب ها مجاز است</p> <p>(۳) در صورت ترافیک سنگین مجاز است</p> <p>(۴) ممنوع است ✓</p>
<p>۴- رانندگان کلیه وسایل نقلیه موظفند از کدام خط عبور راه حرکت نمایند ؟</p> <p>(۱) خط وسط</p> <p>(۲) سمت راست ✓</p> <p>(۳) سمت چپ</p> <p>(۴) خط زیگزاگ</p>	<p>۳- سبقت از طرف راست وسیله نقلیه ای که در حال گردش به چپ می باشد ؟</p> <p>(۱) فقط در معابر شریانی درجه دو ممنوع است</p> <p>(۲) ممنوع است</p> <p>(۳) در هنگام روز مجاز است</p> <p>(۴) مجاز است ✓</p>
<p>۶- حداکثر میزان سرعت مجاز در بزرگراه های بیرون شهری برای سواری چند کیلومتر در ساعت است ؟</p> <p>(۱) ۱۰۰ کیلومتر در ساعت</p> <p>(۲) ۱۱۰ کیلومتر در ساعت ✓</p> <p>(۳) ۹۵ کیلومتر در ساعت</p> <p>(۴) ۸۵ کیلومتر در ساعت</p>	<p>۵- کدامیک از موارد زیر توسط راننده مجاز است ؟</p> <p>(۱) ریختن زباله از داخل خودرو به بیرون</p> <p>(۲) حرکات نمایشی و دور زدن در جا</p> <p>(۳) پرتاب آب دهان به بیرون</p> <p>(۴) بستن دو عدد چراغ ویژه مه با نور زرد در دو طرف قسمت جلوی خودرو ✓</p>


آزمون شماره ۳
نمونه سوالات آزمون آیین نامه اصلی با جواب

<p>۸- دور زدن تا چه فاصله ای از پیچ ها که میدان دید کافی ندارند ممنوع است ؟</p> <p>(۱) ۲۵۰ متری</p> <p>(۲) ۲۰۰ متری</p> <p>(۳) ۳۰۰ متری</p> <p>(۴) ۱۵۰ متری ✓</p>	<p>۷- کدام یک از موارد زیر صحیح می باشد ؟</p> <p>✓ (۱) باز کردن درهای وسیله نقلیه پیش از توقف کامل مجاز نیست</p> <p>(۲) عبور وسایل نقلیه از پیاده رو ها مجاز است</p> <p>(۳) اجازه رانندگی به شخص فاقد گواهینامه مجاز است</p> <p>(۴) توقف در ۱۰ متری ورودی بیمارستان ها مجاز است</p>
<p>۱۰- برای گردش به چپ در راه های بیرون شهر که منحصر به دو خط عبور رفت و برگشت بوده و مانع فیزیکی وسط جاده نداشته باشد ، رانندگان موظفند وسیله نقلیه را ؟</p> <p>(۱) در وسط راه متوقف و با علامت دادن به سایرین گردش نمایند</p> <p>(۲) راهنمای سمت چپ را روشن و گردش نمایند</p> <p>✓ (۳) در شانه راه و یا منتهی الیه سمت راست راه متوقف و سپس با رعایت حق تقدم گردش نمایند</p> <p>(۴) در وسط راه یا زدن راهنما به سمت چپ گردش نمایند</p>	<p>۹- استفاده از لاستیک های فرسوده و غیر استاندارد در وسایل نقلیه چگونه است ؟</p> <p>(۱) مجاز است</p> <p>✓ (۲) ممنوع است</p> <p>(۳) در صورت ضرورت بلامانع است</p> <p>(۴) در تابستان بلامانع است</p>
<p>۱۲- حرکت در پوشش وسایل نقلیه امدادی در حال ماموریت برای سایر وسایل نقلیه چگونه است ؟</p> <p>(۱) مجاز است</p> <p>(۲) محدودیتی ندارد</p> <p>(۳) در صورت رعایت ایمنی مجاز است</p> <p>✓ (۴) ممنوع است</p>	<p>۱۱- ترمز دستی به نام ترمز و ترمز پایی به نام ترمز یا ترمز سرویس شناخته می شود.</p> <p>(۱) اولیه - ثانویه</p> <p>✓ (۲) ثانویه - اولیه</p> <p>(۳) قدرتی - سرعتی</p> <p>(۴) سرعتی - قدرتی</p>

آزمون شماره ۳
نمونه سوالات آزمون آیین نامه اصلی با جواب

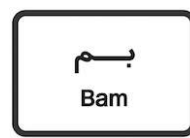
<p>۱۳- در صورتی که خودرو جوش آورده چه اقدامی بایستی انجام داد ؟</p> <p>(۱) در کنار راه متوقف و در رادیاتور را باز کرده و داخل آن آب اضافه نماییم</p> <p>(۲) به مسیر خود ادامه ادامه و خودرو را به اولین تعمیرگاه انتقال دهیم</p> <p>(۳) در کنار راه توقف و به هیچ وجه در رادیاتور را باز نکنید و با احتیاط مقداری آب بر روی رادیاتور بریزید</p> <p>(۴) خودرو را در حین حرکت خاموش تا رادیاتور خنک شود</p>	<p>۱۴- کدامیک از موارد زیر جان فرد را به خطر می اندازد ؟</p> <p>(۱) فقدان تنفس ✓</p> <p>(۲) بالا بودن درجه حرارت بدن</p> <p>(۳) داشتن ضربان قلب</p> <p>(۴) خراشیدگی پوست</p>
<p>۱۵- رانندگی هر فرد نشان دهنده چه چیزی میباشد؟</p> <p>(۱) میزان سواد</p> <p>(۲) شخصیت و درک اجتماعی ✓</p> <p>(۳) میزان ثروت</p> <p>(۴) معروف بودن</p>	<p>۱۶- کدام مورد نمونه ای از رفتار پرخطر هنگام رانندگی است ؟</p> <p>(۱) حرکت بین خطوط</p> <p>(۲) توجه به جلو</p> <p>(۳) رعایت فاصله طولی</p> <p>(۴) استفاده از تلفن همراه ✓</p>
<p>۱۷- کدام مورد زیر منظور و مفهوم رانندگی با سرعت مطمئنه است ؟</p> <p>(۱) رانندگی بر اساس شرایط محیطی و جاده ای ✓</p> <p>(۲) رانندگی با سرعت های بالا</p> <p>(۳) رانندگی با سرعت های پایین</p> <p>(۴) رانندگی در ساعات روز</p>	<p>۱۸- راه هایی که مسیر حرکت وسایل نقلیه به علت وجود موانع ثابت مانند وسایل نقلیه پارک شده ، مصالح ساختمانی بسته یا برای عبور از مسیر مجاز کافی نباشد حق تقدم عبور با کیست ؟</p> <p>(۱) وسایل نقلیه ای که دارای عرض بیشتری میباشد</p> <p>(۲) وسایل نقلیه ای که مسیر عبور آنها باز یا سهم بیشتری را دارا باشند ✓</p> <p>(۳) وسایل نقلیه ای که سرعت بیشتری دارند</p> <p>(۴) نیازی به رعایت حق تقدم عبور نبوده و هر وسیله ای که سریع تر عبور کند</p>

آزمون شماره ۳
نمونه سوالات آزمون آیین نامه اصلی با جواب

<p>۲۰- خستگی و خواب آلودگی راننده چه تاثیری بر رانندگی وی دارد ؟ (۱) افزایش توجه به رانندگی (۲) افزایش سرعت تصمیم گیری در هنگام بروز خطر (۳) شناسایی صحیح وضعیت رانندگی سایر رانندگان (۴) کاهش سطح هوشیاری و سرعت واکنش فرد ✓</p>	<p>۱۹- در کدام مورد زیر سبقت گرفتن ممنوع است ؟ (۱) ۲۰۰ متری سربالایی (۲) ۲۰۰ متری پیچ ها (۳) بر روی خط ممتد ✓ (۴) ۲۰۰ متری تونل ها</p>
<p>۲۲- این تابلو بیان گر چیست ؟</p>  <p>(۱) سربالایی خطرناک ✓ (۲) شیب سربالایی ۱۰ درصد (۳) شیب سرازیری ۱۰ درصد (۴) خطر سقوط در آب</p>	<p>۲۱- این تابلو بیان گر چیست ؟</p>  <p>(۱) تقاطع راه آهن با راه بند (۲) جهت وزش باد شدید از چپ (۳) جهت وزش باد شدید از راست ✓ (۴) تقاطع راه آهن بدون راه بند</p>
<p>۲۴- کدامیک از تابلوهای زیر "ورود به شهر" میباشد؟</p> <div style="display: flex; justify-content: space-around;">   </div> <div style="display: flex; justify-content: space-around;">   </div>	<p>۲۳- نام این تابلو چیست ؟</p>  <p>(۱) تقاطع راه آهن با راه بند (۲) خطر سقوط در آب (۳) راه لغزنده (۴) پل مترک ✓</p>

آزمون شماره ۳
نمونه سوالات آزمون آیین نامه اصلی با جواب

۲۵- نام کدام تابلو "راهنمای مسیر" می باشد ؟



۲۶- این تابلو بیان گر چیست ؟



- (۱) بسته بودن یکی از خطوط عبور
- (۲) بن بست
- (۳) سمت راست بن بست ✓
- (۴) خط عبور برای گریز

۲۷- این تابلو بیانگر چیست ؟



- (۱) ایستادن ممنوع
- (۲) محل پارک کردن
- (۳) ورود ممنوع
- (۴) ایست ✓

۲۸- این تابلو بیان گر چیست ؟



- (۱) عبور با عرض بیش از ۲ متر ممنوع ✓
- (۲) عبور با بار بیش از ۲ تن بر هر محور ممنوع
- (۳) عبور وسایل نقلیه با وزن بیش از ۲ تن ممنوع
- (۴) عبور با ارتفاع بیش از ۲ متر ممنوع

آزمون شماره ۳
نمونه سوالات آزمون آیین نامه اصلی با جواب

۲۹- این تابلو بیان گر چیست ؟



- (۱) رعایت فاصله بیشتر از ۷۰ متر ممنوع
- (۲) رعایت فاصله کم تر از ۷۰ متر ممنوع ✓
- (۳) سرعت بیش از ۷۰ کیلومتر بر ساعت ممنوع
- (۴) سرعت کم تر از ۷۰ کیلومتر بر ساعت ممنوع

۳۰- این تابلو بیان گر چیست ؟






- (۱) حق تقدم عبور با تاکسی
- (۲) حق تقدم عبور با شما ✓
- (۳) راه دو طرفه
- (۴) حق تقدم عبور با وسیله نقلیه مقابل

آزمون شماره ۴
نمونه سوالات آزمون آیین نامه اصلی با جواب

<p>۲- در تقاطع هم عرض اگر دو وسیله نقلیه ای که روبروی یکدیگر در حرکتند بخواهند باهم وارد خیابان مجاور واحدی شوند حق تقدم عبور با وسیله نقلیه ای است که ؟</p> <p>(۱) به سمت راست گردش می کند ✓</p> <p>(۲) به سمت چپ گردش می کند</p> <p>(۳) وابسته به سازمان های دولتی است</p> <p>(۴) ابعاد بزرگ تری دارد</p>	<p>۱- در سه راه ها حق تقدم عبور با وسیله نقلیه ای است که ؟</p> <p>(۱) سریع تر از وسیله نقلیه دیگر حرکت می کند</p> <p>(۲) به چپ گردش می کند</p> <p>(۳) به راست گردش می کند</p> <p>(۴) به طور مستقیم و در سمت و مسیر مجاز حرکت می کند ✓</p>
<p>۴- در چند متری ورودی تونل ها ، سبقت گرفتن ممنوع است ؟</p> <p>(۱) ۱۲۰ متری</p> <p>(۲) ۱۵۰ متری</p> <p>(۳) ۱۰۰ متری ✓</p> <p>(۴) ۲۰۰ متری</p>	<p>۳- علائم اخباری برای گرفتن سبقت در روز کدام مورد است ؟</p> <p>(۱) تعویض نور چراغ بالا و پایین</p> <p>(۲) بوق کوتاه و چراغ راهنما ✓</p> <p>(۳) اشاره با دست</p> <p>(۴) بوق مکرر و ممتد</p>
<p>۶- حداکثر سرعت در میدان ها چند کیلومتر در ساعت است ؟</p> <p>(۱) ۷۰ کیلومتر در ساعت</p> <p>(۲) ۵۰ کیلومتر در ساعت</p> <p>(۳) ۳۰ کیلومتر در ساعت ✓</p> <p>(۴) ۶۰ کیلومتر در ساعت</p>	<p>۵- میزان سرعت مجاز در آزاد راه ها و بزرگراه ها چگونه تعیین می شود؟</p> <p>(۱) بر اساس فصول سال</p> <p>(۲) بر اساس میزان سرعت خودرو</p> <p>(۳) بر اساس مهارت راننده</p> <p>(۴) بر اساس تابلوهای نصب شده ✓</p>
<p>۸- کدامیک از موارد زیر در خصوص تبدیل نور بالا به پایین اشتباه است ؟</p> <p>(۱) زمانی که فاصله خودرویی که از روبرو به شما نزدیک میشود ۱۵۰ متر یا کمتر باشند نور بالا را به نور پایین تبدیل کنید</p> <p>(۲) زمانی که فاصله شما با خودرویی که در جلوی شما در حرکت است ۱۵۰ متر یا کمتر است</p>	<p>۷- در کدام موارد زیر توقف مجاز است ؟</p> <p>(۱) روی پل</p> <p>(۲) درون تونل ها</p> <p>(۳) معابر در ارتفاع</p> <p>(۴) ۲۰ متری میادین ✓</p>

آزمون شماره ۴
نمونه سوالات آزمون آیین نامه اصلی با جواب

<p>۳) زمانی که خودرویی از روبرو به شما نزدیک میشود نور بالا را به نور پایین تبدیل کنید</p> <p>۴) زمانی که خودرویی در پشت سر شما حرکت می کند نور بالا را به نور پایین تبدیل کنید ✓</p>	<p>۹- دور زدن از چه فاصله ای از تونل ها که دید کافی و ایمنی لازم را ندارد ممنوع است ؟</p> <p>۱) ۲۵۰ متری</p> <p>۲) ۱۵۰ متری ✓</p> <p>۳) ۲۰۰ متری</p> <p>۴) ۳۰۰ متری</p>
<p>۱۱- نام این تابلو چیست ؟</p>  <p>۱) ورود ممنوع</p> <p>۲) ورود از هر دو طرف ممنوع ✓</p> <p>۳) راه باز است</p> <p>۴) عبور ممنوع</p>	<p>۱۰- تابلوهای منع کننده با چه رنگی نشان داده می شوند ؟</p> <p>۱) زرد فسفری</p> <p>۲) قهوه ای تیره</p> <p>۳) نارنجی</p> <p>۴) قرمز ✓</p>
<p>۱۳- نام این تابلو چیست ؟</p>  <p>۱) استراحتگاه</p> <p>۲) جایگاه سوخت</p> <p>۳) تعمیرگاه ✓</p> <p>۴) پست امدادی</p>	<p>۱۲- نام این تابلو چیست ؟</p>  <p>۱) عبور عابر پیاده</p> <p>۲) گذرگاه عابر پیاده</p> <p>۳) عبور اطفال ✓</p> <p>۴) عبور پیادگان</p>

آزمون شماره ۴
نمونه سوالات آزمون آیین نامه اصلی با جواب

۱۴- نام این تابلو چیست ؟



- (۱) ورود به شهر
- (۲) ابتدای منطقه مسکونی ✓
- (۳) ابتدای شهر
- (۴) پایان شهر

۱۵- نام این تابلو چیست ؟



- (۱) پارکینگ
- (۲) پارک سوار
- (۳) محدوده توقف ممنوع در
- طول شبانه روز
- (۴) محدوده پارک آزاد ✓

۱۶- این تابلو بیان گر چیست ؟



- (۱) عابر پیاده
- (۲) عبور عابر پیاده
- (۳) گذرگاه
- (۴) عبور پیاده ممنوع ✓

۱۷- این تابلو بیان گر چیست ؟



- (۱) حق تقدم عبور با شما
- (۲) حق تقدم عبور با وسیله نقلیه مقابل ✓
- (۳) راه سمت چپ مسدود است
- (۴) خیابان دو طرفه

۱۸- این تابلو بیانگر چیست ؟



- (۱) پایان سبقت ممنوع
- (۲) توقف ممنوع
- (۳) پایان تمام محدودیت ها ✓
- (۴) تقاطع با راه آهن

۱۹- نام این تابلو چیست ؟



- (۱) پیچ به راست
- (۲) پیچ به چپ ✓
- (۳) گردش به راست ممنوع
- (۴) گردش به چپ ممنوع

۲۰- نام این تابلو چیست ؟



- (۱) ورود ممنوع ✓
- (۲) راه مسدود است
- (۳) ورود از هر دو طرف ممنوع
- (۴) توقف ممنوع

۲۱- کدام گزینه در مورد ضد یخ صحیح می باشد ؟

- (۱) بهتر است کل مخزن رادیاتور به جای آب از ضدی پر شود

- (۲) عدم استفاده از ضد یخ در تابستان می تواند منجر ✓
به جوش آوردن زودتر موتور شود

- (۳) ضدیخ در جلوگیری از زنگ زدگی رادیاتور و قطعات سیستم خنک کاری موثر نیست

- (۴) مایع ضد یخ از یخ زدگی آب در سرما جلوگیری
نمیکند

آزمون شماره ۴
نمونه سوالات آزمون آیین نامه اصلی با جواب

<p>۲۳- سطح روغن موتور را با چه وسیله ای میتوان کنترل نمود ؟</p> <p>(۱) سیم روغن (گیج روغن) ✓</p> <p>(۲) در مخزن روغن</p> <p>(۳) فیلتر روغن</p> <p>(۴) پمپ روغن</p>	<p>۲۲- در هنگام افزایش دمای موتور برای خنک شدن سریع موتور چه اقدامی انجام می دهید ؟</p> <p>(۱) آب بر روی بلوک موتور می ریزیم</p> <p>(۲) به طور متناوب ولی با احتیاط آب را بر روی موتور می ریزیم</p> <p>(۳) با احتیاط فقط آب تصفیه شده بر روی بلوک موتور می ریزیم</p> <p>(۴) با احتیاط مقداری آب بر روی رادیاتور میریزیم ✓</p>
<p>۲۵- جمله "دیر رسیدن بهتر از هرگز نرسیدن است" چه مفهومی را می رساند ؟</p> <p>(۱) پرهیز از عجله و شتاب در رانندگی ✓</p> <p>(۲) رعایت کردن قوانین مربوط به پارک</p> <p>(۳) عدم توجه به قوانین و مقررات</p> <p>(۴) با سرعت بالا حرکت کردن</p>	<p>۲۴- کدامیک از موارد زیر در خصوص ایمن کردن صحنه حادثه می باشد ؟</p> <p>(۱) پارک خودرو در فاصله مناسب - کشیدن چند نفس عمیق و آرام</p> <p>(۲) مطمئن شدن از اینکه خطری شما را تهدید نمی کند - پارک خودرو در فاصله مناسب - استفاده از تابلوی اعلام خطر ✓</p> <p>(۳) استفاده از تابلو اعلام خطر - گرفتن شرح و حال از مصدومین - کشیدن چند نفس آرام و عمیق</p> <p>(۴) پارک خودرو در نزدیکی صحنه تصادف - بررسی وضعیت مصدومین - دور کردن مصدوم از صحنه حادثه</p>
<p>۲۷- در کدامیک از سطوح زیر مسافت توقف افزایش می یابد ؟</p> <p>(۱) آسفالت با شرایط مطلوب ولی خشک</p> <p>(۲) در جاده های سنگلاخ</p> <p>(۳) آسفالت با شرایط نامطلوب و آغسته به قیر ✓</p> <p>(۴) آسفالت زیر</p>	<p>۲۶- کدام مورد نمونه ای از رفتار پر خطر هنگام رانندگی است ؟</p> <p>(۱) حرکت بین خطوط</p> <p>(۲) استفاده از تلفن همراه ✓</p> <p>(۳) توجه به جلو</p> <p>(۴) رعایت فاصله طولی</p>

نمونه سوالات آزمون آیین نامه اصلی با جواب

<p>۲۸- کدامیک از موارد زیر در حین رانندگی مجاز است ؟</p> <p>(۱) استعمال دخانیات</p> <p>(۲) استفاده از تلفن همراه</p> <p>(۳) عدم تمرکز</p> <p>(۴) توجه کامل به جلو ✓</p>	<p>۲۹- چه هنگام می توان از ترمز دستی استفاده نمود ؟</p> <p>✓ (۱) هنگام توقف خودرو و یا در سرعت های بسیار پایین</p> <p>(۲) تنها در سرعت های بالا</p> <p>(۳) در هر شرایطی</p> <p>(۴) هنگام حرکت در سرازیری ها یا سربالایی ها</p>
	<p>۳۰- در صورت ترکیدن لاستیک جلوی اتومبیل باید ؟</p> <p>(۱) به شدت ترمز کرد</p> <p>(۲) فرمان را رها کرد</p> <p>✓ (۳) فرمان را محکم گرفته و به آرامی توقف کرد</p> <p>(۴) ۱ و ۲ صحیح است</p>

آزمون شماره ۵
نمونه سوالات آزمون آیین نامه اصلی با جواب

۱- این تابلو بیانگر چیست ؟



- (۱) تراکم ترافیک
- (۲) میدان ✓
- (۳) پیچ به چپ
- (۴) جهت عبور در میدان

۲- نام این تابلو چیست ؟



- (۱) عبور پیاده ممنوع
- (۲) گذرگاه عابر پیاده ✓
- (۳) عبور عابر پیاده
- (۴) عبور اطفال

۳- این تابلو بیانگر چیست ؟



- (۱) سبقت ممنوع
- (۲) راه لغزنده
- (۳) توقف ممنوع
- (۴) عبور سواری ممنوع ✓

۴- این تابلو بیانگر چیست ؟



- (۱) جهت عبور در میدان
- (۲) عبور از هر دو سمت مجاز ✓
- (۳) عبور به چپ مجاز
- (۴) عبور از سمت راست مجاز

آزمون شماره ۵
نمونه سوالات آزمون آیین نامه اصلی با جواب

۵- نام این تابلو چیست ؟



- (۱) عبور حیوانات اهلی
- (۲) فقط عبور آهو
- (۳) عبور حیوانات وحشی ✓
- (۴) پایان منطقه مسکونی

۶- نام این تابلو چیست ؟



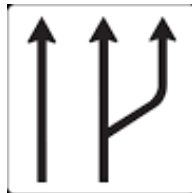
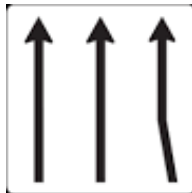
- (۱) شانه خطرناک ✓
- (۲) راه لغزنده
- (۳) پل متحرک
- (۴) برآمدگی

۷- نام این تابلو چیست ؟



- (۱) تقاطع با راه آهن
- (۲) ورود ممنوع
- (۳) توقف ممنوع
- (۴) تقاطع ✓

۸- کدام تابلو بیان گر (کاهش خطوط عبور) می باشد ؟



آزمون شماره ۵
نمونه سوالات آزمون آیین نامه اصلی با جواب

۹- این تابلو بیان گر چیست ؟



- ✓ (۱) فقط عبور پیاده
- (۲) گذرگاه پیاده
- (۳) عابر پیاده
- (۴) عبور عابر پیاده و همراه

۱۰- نام این تابلو چیست ؟



- (۱) نظارت با دوربین پلیس
- ✓ (۲) طول محدوده خطر
- (۳) طول ممنوعیت با محدودیت پارکینگ
- (۴) حاشیه نمای دو طرفه

۱۱- بیشترین نوع آلودگی وسایل نقلیه موتور کدام است ؟

- (۱) آلودگی دیداری
- (۲) آلودگی شنیداری
- ✓ (۳) آلودگی هوا
- (۴) همه موارد

۱۲- فاصله مناسب از جدول هنگام پارک ؟
(۱) نیم متر از جلو - ۱ متر از عقب - ۴۰ سانتی متر از جدول
(۲) ۱ متر از جلو - ۱ متر از عقب - ۴۵ سانتی متر از جدول ✓
(۳) ۱ متر از جلو - نیم متر از عقب - ۴۵ سانتی متر از جدول
(۴) ۱ متر از جلو - ۱ متر از عقب - ۴۰ سانتی متر از جدول

۱۳- موثر ترین عضو بدن در رانندگی کدام است ؟

- (۱) پاها
- ✓ (۲) چشم ها
- (۳) دست ها
- (۴) قلب

۱۴- به هنگام رانندگی در طول روز در شرایط مه آلود چه کار باید انجام دهید ؟
(۱) از نور بالا استفاده کنید
(۲) از نور پایین استفاده کنید ✓
(۳) چراغ بغل را روشن کنید
(۴) چراغ راهنما را روشن کنید

آزمون شماره ۵
نمونه سوالات آزمون آیین نامه اصلی با جواب

<p>۱۶- در شرایط یخبندان مسافت توقف چند برابر افزایش می یابد ؟</p> <p>(۱) ۲ برابر</p> <p>(۲) ۵ برابر</p> <p>(۳) ۱۰ برابر ✓</p> <p>(۴) ۱۲ برابر</p>	<p>۱۵- تابلو های هشدار دهنده یا بیشتر به صورت با نوار حاشیه رنگ و زمینه رنگ می باشد .</p> <p>✓ (۱) خطاری - مثلث - قرمز - سفید</p> <p>(۲) خطاری - مربع - قرمز - سفید</p> <p>(۳) اخباری - دایره - قرمز - آبی</p> <p>(۴) انتظامی - پنج ضلعی - قرمز - سفید</p>
<p>۱۸- عمر تسمه تایم بسته به نوع خودرو می تواند بین باشد ؟</p> <p>(۱) حدود ۵۰ تا ۱۰۰ هزار کیلومتر</p> <p>(۲) حدود ۴۰ تا ۷۰ هزار کیلومتر</p> <p>(۳) حدود ۶۰ تا ۹۰ هزار کیلومتر ✓</p> <p>(۴) هیچکدام</p>	<p>۱۷- در زمان دیدن گیج روغن در چه حالت باید روغن بررسی شود ؟</p> <p>(۱) سطح روغن از علامت روی گیج بالاتر باشد</p> <p>(۲) سطح روغن از علامت روی گیج پایین تر باشد</p> <p>(۳) سطح روغن بین علامت گیج باشد</p> <p>✓ (د) مورد الف و ب</p>
<p>۲۰- وضعیت باد تایرها هرچند وقت یکبار باید کنترل شود ؟</p> <p>(۱) هر ماه یکبار</p> <p>(۲) هر سه ماه یکبار</p> <p>(۳) یکبار در هفته ✓</p> <p>(۴) هر روز</p>	<p>۱۹- محل تاثیر ها هر تعویض نمود تا تمام آنها به طور یکسان مورد سایش قرار گیرند ؟</p> <p>✓ (۱) هر ۵ هزار کیلومتر</p> <p>(۲) هر ۱۰ هزار کیلومتر</p> <p>(۳) هر ۱۵ هزار کیلومتر</p> <p>(۴) هر ۲۰ هزار کیلومتر</p>
<p>۲۲- فیلتر هوا توصیه می شود هرچند وقت یکبار تعویض گردد ؟</p> <p>(۱) هفته ای یکبار</p> <p>(۲) ماهی یکبار</p> <p>(۳) هربار تعویض روغن ✓</p> <p>(۴) هر ۱۰۰ هزار کیلومتر</p>	<p>۲۱- کدام مورد باعث ساییدگی نامتوازن یا ساییدگی بیش از حد تایرها می شود ؟</p> <p>(۱) عدم تنظیم فرمان</p> <p>(۲) عدم تنظیم چرخ ها</p> <p>(۳) عدم تنظیم ترمز ها</p> <p>✓ (۴) همه موارد</p>

آزمون شماره ۵
نمونه سوالات آزمون آیین نامه اصلی با جواب

<p>۲۴- در باتری های آبی میزان آب باتری چه موقع مورد بررسی قرار می گیرد ؟</p> <p>(۱) هر ۵ هزار کیلومتر</p> <p>(۲) هر ۱۰ هزار کیلومتر ✓</p> <p>(۳) هر ۱۵ هزار کیلومتر</p> <p>(۴) هر ۲۰ هزار کیلومتر</p>	<p>۲۳- روغن جعبه دنده یا واسکازین هرچند کیلومتر نیاز به تعویض دارد ؟</p> <p>(۱) هر ۲۰ هزار کیلومتر</p> <p>(۲) هر ۳۰ هزار کیلومتر ✓</p> <p>(۳) هر ۴۰ هزار کیلومتر</p> <p>(۴) هر ۵۰ هزار کیلومتر</p>
<p>۲۶- سطح آب مخزن توصیه می شود هرچند وقت یکبار کنترل شود ؟</p> <p>(۱) روزی یکبار</p> <p>(۲) هفته ای یکبار ✓</p> <p>(۳) یکبار در ماه</p> <p>(۴) کنترل نیاز نیست</p>	<p>۲۵- این وسیله از ورود بخارهای بنزین به فضای آزاد جلوگیری می کند ؟</p> <p>(۱) کنیستر ✓</p> <p>(۲) کاتالیس</p> <p>(۳) فیلتر بنزین</p> <p>(۴) فیلتر روغن</p>
<p>۲۸- جای تایرها هر چند کیلومتر باید تعویض شود؟</p> <p>(۱) ۲۰۰۰</p> <p>(۲) ۳۰۰۰</p> <p>(۳) ۴۰۰۰</p> <p>(۴) ۵۰۰۰ ✓</p>	<p>۲۷- کنیستر هر چند وقت یکبار نیاز به تعویض دارد؟</p> <p>(۱) هر یکسال یک بار</p> <p>(۲) هر ماه یکبار</p> <p>(۳) هر هفته یکبار</p> <p>(۴) هر دو سال یکبار ✓</p>
<p>۳۰- کدام مورد موجب ساییدگی نامتقارن چرخ ها می شود ؟</p> <p>(۱) تنظیم نبودن ترمز ها</p> <p>(۲) تنظیم نبودن فرمان</p> <p>(۳) تنظیم نبودن چرخ ها</p> <p>(۴) همه موارد ✓</p>	<p>۲۹- سیستم هدایت فرمان هر چند وقت یکبار باید کنترل شود ؟</p> <p>(۱) هر ماه یکبار</p> <p>(۲) هر سه ماه یکبار</p> <p>(۳) هر شش ماه یکبار ✓</p> <p>(۴) هر سال یکبار</p>